

歷屆學測試題(東亞史篇, 共 91 題)

一、單一選擇題：(共 86 題)

1. (B)教科書描述某一古都：「這個城市的人口大約一百萬，外國人可能占了三分之一。城內圍隔成一百多個坊，除了皇城、中央官署外，還有東、西兩個市場。如果有機會拜訪這座城市，你會因為眾多的佛寺而感到震驚。宴會上常可看到外國女子組成的樂隊，坐在駱駝背負的平臺上表演，演奏著類似吉他的琵琶。」這最可能是哪一座都城？ (A)東漢的洛陽 (B)唐朝的長安 (C)北宋的汴京 (D)清朝的北京 【98 學測題】

【同期大城市：巴格達 開羅 君士坦丁堡】坊市制已消失

2. (D)一位民國時期的文人撰文紀念友人道：「他是中國思想界的一個清道夫，他把啟蒙的水灑向那孔孟瀰漫的大道上。因此時時被那無數吃慣孔孟的老頭子們跳腳痛罵，怪他不識貨。有時候他顯得疲乏了，失望了，忽然遠遠的覷見那望不盡頭的大路那一頭，好像也有幾個人在那裡灑水清道，他的心裡又高興起來了。」上文中「灑水清道」的人是指誰？ (A)嚴復 (B)梁啟超 (C)康有為 (D)陳獨秀 【98 學測題】

1915《新青年》→新文化運動

題目取自胡適紀念吳虞(又陵)的文章《吃人的禮教》

3. (A)旅行團安排了一次德川日本古蹟之旅，為了讓團員享受一趟超值的深度旅遊，導遊預先對團員解說德川幕府的歷史發展。以下是導遊作的一些解說，何者正確？ (A)現今日本首都東京，舊稱江戶，是德川幕府的根據地 (B)德川幕府的威勢超越天皇，但卻又受制於旗下的諸侯 (C)因為鎖國政策，德川日本的商業蕭條，貨幣經濟消失 (D)德川武士喜歡庭園，更愛養蘭花，遂發展出「蘭學」 【98 學測題】

C 德川幕府統一貨幣，活絡經濟

D. 蘭學，荷蘭傳入的西方學術思想

4. (D)1816 年，英王喬治三世派遣阿美士德 (Amherst) 出使中國，卻與清朝發生「禮節之爭」。清朝要求英使依「天朝定制」，謁見皇帝時行「三跪九叩頭禮」，英使以跪叩禮「有傷英國尊嚴」，堅持僅行「免冠俯首」。雙方爭持不下，最後英使遭逐出，不顧而去。此一「禮節之爭」的歷史意涵為何？ (A)新帝國主義與反殖民主義的對抗 (B)海權思想與傳統陸權觀念的對立 (C)工業資本主義與農業文化的矛盾 (D)天下秩序觀與主權國家觀的衝突 【98 學測題】

拿破崙塔白娘

A. 19~20 世紀

B. 17 世紀

西. 荷. 荷. 英.

源目 1618-1648

三十年戰爭

5. (C)兩位士族出身的文人，回憶了時代和家族出路。甲文人雖然看到戰亂使其家族前途未卜，但他相信，如果他的子弟想要出仕為官，應該不會有什麼問題。乙文人對於士人家族的前途同樣感到渺茫，但他所處的時代，官員們幾乎不可能為其後代子孫的仕途提供庇護。請問，甲、乙兩位文人最可能分屬於哪一朝代？ (A)秦朝、唐朝 (B)元朝、清朝 (C)魏晉、宋朝 (D)漢朝、唐朝 【98 學測題】

甲：世族時代 [兩漢→魏晉→隋唐]

乙：科舉取士 [兩宋→元→明→三清]

6. (D)西方人論及某國時，指出：「該國原本閉關自守，後改其態，君民一德，變法維新，迄今不過五十年，而功效大著，以能收還其治外法權，列入萬國公會，成為完全獨立自主，平等之國矣。」這是指哪一個國家？ (A)德國 (B)中國 (C)印度 (D)日本 【99 學測題】

1854 神奈川條約

1868 明治維新

1911 平等新約 (57年)

7. (B)在中國某個朝代中，皇帝頒下詔書，一個官員反對這個命令，並在詔書上寫下他的看法。其他官員趕忙勸阻，認為這對皇帝不敬，但這位官員表示這是法律賦予他的職責。皇帝知道此事後，非但沒有責備，反而嘉許他能防範詔敕可能發生的錯誤。這個故事最可能發生在何時？ (A)兩漢 (B)隋唐 (C)兩宋 (D)明清 【99 學測題】

三公→內外朝

皇帝 尚書

三公

三省

中書(擬)

尚書(執)

多相

樞密

三司

內閣

皇帝

無擬

內閣

批紅

司禮監

8. (D)兩位學者各自根據其閱讀史料，提出對漢代社會型態的看法。甲學者認為漢代社會是地緣社會，聚落內部的血緣聯繫不強；乙學者則認為漢代是血緣社會，聚落內部同姓的力量強大。我們應如何理解兩位學者意見的差異？ (A)甲學者的主張符合古代宗族瓦解後的形勢，較為合理 (B)乙學者的看法反映出古代社會的延續性，較具說服力 (C)兩位學者立場相反，正可說明歷史解釋缺少合理基礎 (D)古代地域社會間差異甚大，不應該只有一種社會型態 【99 學測題】

甲：郡縣(地緣) v.s 乙：儒家重人倫分際(血緣)

9. (D)一群學生接到政府命令，前往草原上放牧牛羊，名為「學習」。不巧，這年冬天風大雪大，牛、羊損失甚多，有些學生受不了草原生活的艱苦，潛逃回城市，但又被遣送回草原。若干年後，政府政策改變，他們才獲准回到都市，繼續求學就業。這種情景最可能發生在何時何地？ (A)1871 年，法國 (B)1910 年，俄國 (C)1941 年，德國 (D)1970 年，中國 【99 學測題】

紅衛兵 1966 1976 文革

普法戰爭後 1910-3 共和

沙俄後期

二戰中

文革

10. (B)某州長官希望任用張三為其僚屬，但人事官員卻以「資籍不當」為由，不同意這項任命。當州長官表示一定要任用此人，人事官員嚴肅地說：「州僚屬的任命必須經過本地人的評議，我是本地人，既然不同意，長官就不應違反這個制度。」這樣的場景最可能發生在： (A)兩漢 (B)南北朝 (C)中晚唐 (D)宋明 【99 學測題】

A. 舉：推薦，任用者為同一人

B. 九品官人法：將人才推薦及任用的權責分開，並設一出身本地評議人的(小)中正官

11. (B)幾件獸首銅像在一場藝術品拍賣會中公開發售，供收藏家競標，引來中國政府抗議。這些獸首銅像原本來自北京圓明園，在晚清一場戰爭中遭到外人掠奪，這場戰爭之後，清廷痛定思痛，開始改革。這場戰爭是： (A)鴉片戰爭 (B)英法聯軍 (C)甲午戰爭 (D)八國聯軍 【100 學測題】

未攻入北京

未攻入北京

自強運動

庚子新政

12. (A)幾位同學討論某一主題時，各自發表意見如下：(甲)中國皇帝權力來自上天，不受監督與制衡 (乙)時代愈晚，相權愈輕，皇帝直接掌理朝政 (丙)中央政府設有言官，提出建言，針砭朝政 (丁)地方長官有一定任期，接受中央政府遷調。這幾位同學討論的主題最可能是： (A)傳統政治的特質 (B)言官的政治功能 (C)政統與道統衝突 (D)中央與地方權限 【100 學測題】

用刪去法

B. 僅丙提及

C. 未提及道統

D. 僅丁提及

(堯舜禹湯文武周公孔子)

13. (D)揚州城呈現出一幅忙碌的景象：市場裡，搬運工人正將來自湖北的稻米運到倉庫裡，港口邊，工人將棉布整齊地堆疊在一起，準備運上船，銷售到全國各地。一旁的茶樓裡，交易的商人正在結算著買賣的價格。這是哪個時期的景象？ (A)南朝時期 (B)唐朝中期 (C)北宋末年 (D)明朝後期 【100 學測題】

江南地區

A. B. C 江南以種稻為主 (北宋：蘇常熟天下足)

胡←漢 廣←常

明代江南地區因棉織業盛行 改種經濟作物=木棉(黃道婆) 並種桑養蠶

14. (B)1938 年 8 月間某國新聞報導指出：「德國已經正式承認我國，我國政府將於德國首都柏林設立公使館，辦理兩國外交事務。國務院特別任命呂宜文為公使，並以日籍的三源綱一為參事官，王替夫與日籍的伊吹幸隆為書記官。」1939 年 2 月這些新任的官員遞交國書，正式上任。這個國家是： (A)日本 (B)滿洲國 (C)韓國 (D)中華民國 【100 學測題】

二戰前夕

1932-1945

1910

1945

遭日本併吞

15. (A) 美國與日本簽訂條約，規定：「侵犯日本人之美國人，由美國領事法庭審判，如屬有罪，當按美國法律處罰。侵犯美國人之日本人，由日本官方審判，按日本法律處罰。」同時規定：「日本政府准許美國人可以在開放的港口中自由行動；也准許居住於日本的美國僑民宗教自由，並可於適當地點建築教堂。」這個條約是：(A) 1854年簽訂的《神奈川通商條約》(B) 1922年限制軍備的《華盛頓條約》(C) 1951年舊金山簽訂的對日和約 (D) 1960年所訂《美日安全保障條約》【100學測題】

1. 單造
2. 領事裁判權
3. 不平等條約

A. 1853 黑船事件
1854 神奈川通商條約
1858 日美修好通商條約 (安政條約)
B. 限制日本發展海軍處理山東問題
C. 台灣主權
D. 美軍駐日 (= 令戰)

16. (C) 中國某一個時期中，許多人呼籲總統賦予內閣全權，召開全國和談大會，並要求：改組內閣，網羅全國和平民主人士，充實和平的內容。他們甚至計畫發動國人，一致擁護和平；更希望美、蘇、英、法等強權能諒解，支持中國希望和平的想法。這個事件的背景是：(A) 1912年辛亥革命後，革命黨人對清廷的呼籲 (B) 1937年中日戰爭爆發後，學界對政府的希望 (C) 1949年國共和談期間，政界對國民黨的建議 (D) 1950年舊金山和會召開前，新聞界所提建議【100學測題】

1922
1991
↓
刑
A.

「要民主、反內戰」
呼籲清帝退位 B. 希望奮起抗日 C. 建議中國人不打中國人 D. 中共建國後無新聞自由且兩岸未參加

17. (B) 一篇論文裡的關鍵詞有：中日關係、山東問題、胡適、巴黎和會。這篇論文討論的主題最可能是：(A) 庚子拳亂 (B) 五四運動 (C) 瀋陽事變 (D) 七七事變【101學測題】

在巴黎和會上因山東問題 → 九一八事變 → 廣義的五四新文化運動

18. (A) 西方商人到中國貿易時，地方政府常藉各種名義收取費用，令商人不勝其擾。在一場戰爭後，中國政府同意各國商品除繳交 5% 的進口關稅外，不用再繳納任何雜費。從此以後，各國貨物正式繳稅進口，到各處販賣。這場戰爭是：(A) 鴉片戰爭 (B) 英法聯軍 (C) 甲午戰爭 (D) 八國聯軍【101學測題】

首領
外國駐軍

→ 協定關稅 = 鴉片戰爭後的南京條約及其附約「秉公議定稅則」且須運動 戊戌變法

19. (D) 古董商販售一批聲稱是從河南安陽出土的甲骨文書，指出：這批書寫於牛肩胛骨的文物，主要內容為土地交易契約。幾位同學發表看法，下列何種說法最可信？(A) 這批文物從河南安陽出土，又有甲骨文書，應當是正品 (B) 刻寫在牛肩胛骨，而非書寫在龜甲，故極有可能為贗品 (C) 甲骨文直到清末才出土，無法偽造，這批文物應為真品 (D) 商代並無土地交易行為，自然不可能有契約，應為贗品【101學測題】

→ 甲骨文為商代王室卜後的解讀文字，且商代土地非個人所有無法交易

20. (D) 「現代化的關鍵在於發展科技。我們不可能光靠空談變成現代國家，我們國內的科技、教育都比附近國家落後 20 年，我們需要有知識、有訓練的人才，就好像當初的日本。不過他們是靠新興起的資產階級，我們要靠普羅大眾。我相信我們一定會做得比日本好。」這種說法最可能出現於：(A) 1890 年代的俄國 (B) 1930 年代的德國 (C) 1950 年代的印度 (D) 1980 年代的中國【101學測題】

A. 1861 亞歷山大二世解放農奴 → 1890 年代 不可干預歐洲事務 B. 希特勒：狂熱民族主義 C. 企業在外資及政府保護下發展 D. 鄧小平：改革開放，四個現代化

21. (D) 此一時期，君權高張，對於大臣、高官並不尊重。官員如觸怒天子，可能當眾遭到責罰，甚至押到午門外杖刑，年紀大的官員往往死於杖下。這本不是當時法典規範的刑罰，皇帝卻藉此樹立威望，壓抑大臣。這場景應發生於何時？(A) 漢代 (B) 唐代 (C) 元代 (D) 明代【102學測題】

專制：嚴刑
→ 明清

A. B. 大臣有議政空間 D. 皇權高張 如違旨垂意 即施以廷杖
C. 保有部落議政傳統 偶有廷杖

22. (D) 秦漢時期實施郡、縣二級的行政區劃，最基層的地方行政長官為縣令（長），負責管理地方，統籌稅收。當時縣令（長）如何產生？(A) 根據宗法，父死子繼 (B) 皇帝分封，冊命任用 (C) 由郡守指派下屬擔任 (D) 由中央政府直接任命【102學測題】

封建 = 封地建國
封國內官員有該王國領導決定
良商周 漢 晉 明
郡縣
郡守、縣令等官吏皆由中央任命
秦 ~ 清

23. (A) 近代亞洲曾經爆發一場戰爭，交戰雙方都使用西方軍事技術及裝備。原本列強認為雙方旗鼓相當，但人口、土地均居下風的國家，因維新政策成功，反而戰勝，頗出各國意料。這場戰爭是：(A) 日本打敗中國的甲午戰爭 (B) 以色列勝埃及的六日戰爭 (C) 越南擊敗美國的解放戰爭 (D) 印尼擊退荷蘭的獨立戰爭【102學測題】

B. C. D 皆無維新政策 A 中 = 自強運動 vs. 日 = 明治維新

24. (C) 蔣中正在日記中記載：最近，中共代表向美國表示，中共必須重視莫斯科的意見，美國想調解國共關係，必須先徵求俄國同意。此段記載最可能出現於何時？(A) 1924年國民黨實施聯俄容共之際 (B) 1937年七七盧溝橋事變爆發之後 (C) 1946年二次大戰後中國發生內戰 (D) 1958年中共發動八二三砲戰之前【102學測題】

A. B. 美未介入 C. 國共內戰期間美調停 (馬歇爾) 蘇：扶植中共
D. 中蘇關係生變無須徵求俄國意見

25. (A) 教科書往往反映當代的時局與世變。某一時期，小學課本中有一個單元名稱為「一個惡魔」，說「帝國主義是什麼？帝國主義是一個惡魔。他一隻手裡是算盤，一隻手裡是武器。他有兩副面孔，打算盤的時候，他的面孔好像很和善，但是，使用武器的時候，他的面孔就變得兇惡無比了。」還說：「他恐怕人家不如他的意，就想同人家訂不平等條約。」這應當是哪個時期的課本？(A) 新文化運動時期 (B) 對日抗戰時期 (C) 文化大革命時期 (D) 臺灣戒嚴時期【102學測題】

題幹 = 反帝國主義侵略
A. 1910 年代 日 < 二十一條 > 巴黎和會的不公
B. 1930-1940 與英美並肩作戰
C. 1960-1970 中美關係趨友好
D. 1940-1980 美援 反共抗俄

26. (C) 一位政治人物呼籲：全國各黨各派要放棄歧見，停止內戰及一切敵對行為；大家應當團結一致，抵禦外侮，集中力量來奮鬥救國。這種說法應是：(A) 曾國藩對太平天國將領的招降公告 (B) 民國初年袁世凱稱帝時的登基宣言 (C) 九一八事變以後毛澤東的抗日聲明 (D) 抗戰勝利後蔣中正號召團結的主張【102學測題】

A. 曾國藩並未聯合太平軍 對抗英法聯軍
B. D. 無迫切之外憂
C. 日本加速侵略之際 國府仍以剿共為優先

27. (B) 一本書的作者批評當時的社會現象，指出：世人喜歡利用祖先彰顯自己，例如王家已經遷居本地數代，但王家詩文集中卻仍標示百年前的祖籍，以證明家世顯赫。這本書最可能是：(A) 漢代《風俗通義》 (B) 唐代《史通》 (C) 南宋《夷堅志》 (D) 清代《皇朝通考》【102學測題】

世族社會：兩漢經學 → 魏晉九品官人 → 隋唐
累世公卿 試著打壓 但效果有限

28. (A) 某一地區在 15 世紀初逐漸成為國際貿易中心，各地商人在此交易，也可乘船前往中國經商。當地國王與中國建立友好關係，曾親自前往北京，中國使臣也經常前往該地。16 世紀，該地遭西方殖民者入侵，國際貿易形勢改變，東西文明往來更為頻繁。這個地區是：(A) 麻六甲 (B) 臺灣 (C) 琉球 (D) 香港【102學測題】

A. 葡萄牙於 1511 年征服 麻六甲 (滿刺加)
B. 17 世紀 荷 西 殖民
C. 未受西方 殖民
D. 19 世紀割予英國 (1842)

29. (C) 西方學術傳到中國時，引起許多人的學習興趣。某位皇帝對數學非常有興趣，儘管國事紛擾，南方還有重臣叛變，他仍與幾位數學家一起研究科學，計算各種幾何問題。這位皇帝最可能是：(A) 向馬可波羅學習西方科學的元朝皇帝 (B) 在宮廷討論歐基里德數學的明朝皇帝 (C) 向耶穌會傳教士學習數學的清初皇帝 (D) 在同文館學習數學、幾何的清末皇帝【103學測題】

A. 馬可波羅未帶來科學
B. 明代無南方重臣叛變 (有流寇 倭寇 女真等威脅)
C. 南方重臣叛變指「三藩之亂」 皇帝為「康熙」
D. 同文館是用朱培養 翻譯人才

30. (A)旅行社推出城市觀光行程，訴求：「大唐遺風」，說明此行可以參訪當地的唐式建築，體驗茶道，參拜佛寺，也可以參觀法律文書的收藏，領略中國唐朝的風情。這個行程最可能是：(A)京都物語 (B)首爾采風 (C)河內漫遊 (D)上海驚艷【103 學測題】

(大化革新) 平安京 仿唐長安城
明 宋 鴉片戰後甯港 歐化色彩

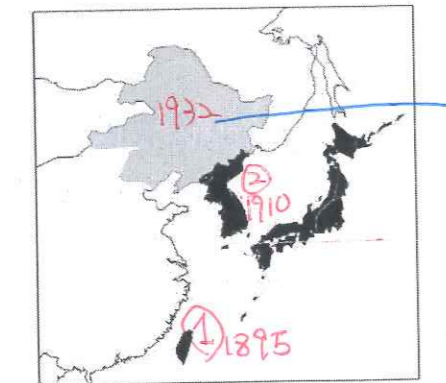
31. (B)某一時期，朝廷給予官員合法占田的特權，官位越大，土地越多。同時，許多大族家中動輒擁有千百名奴僕，依法均不需負擔稅役。這最可能是哪一時期的現象？(A)戰國時期，戰爭頻仍，藉以爭取大族合作 (B)晉朝，世家大族基礎雄厚，皇帝亦需妥協 (C)南宋，為對抗北方金人，以特權換取支持 (D)清初，南方未統一，以優厚條件吸引歸順【103 學測題】

西晉：占田令 (背景：戰亂後人少地多) 世族時代：兩漢~唐
ACD 時代不符

32. (D)一個民族在中國建立政權後，國君諮詢學者，以了解統治中國之術。一位漢人建議：「為政應以原本法令為主，並參酌中國制度」。這種說法引起該民族的王公大臣反對，認為中國僅是帝國的一部分，不必重視，而統治者也不需採用亡國者的制度。這個統治民族是：(A)女真 (B)鮮卑 (C)契丹 (D)蒙古【103 學測題】

漢化 設南面官 大蒙古國：元、四大汗國
但北宋並未亡國

33. (C)老師在黑板上懸掛一幅地圖(如圖)，圖中將日本領域分別以黑色及灰色標示。這幅地圖最可能是反映哪一時期的東亞情勢？



三滿洲國 1932-1945

(A)1871年 (B)1905年 (C)1935年 (D)1971年【103 學測題】

34. (B)某地位於歐洲通往中國的航路上，早在 1819 年，英國商船便在此建立交易據點，逐漸發展成繁榮港口。二次世界大戰期間，日軍曾攻占此地，控制三年多。1945 年，日本投降，該地重歸英國管轄，但當地人民爭取自主，先脫離英國統治，進而獨立建國。這個國家是：(A)泰國 (B)新加坡 (C)越南 (D)印度【103 學測題】


中拉 三法 日軍 未攻占印度

35. (D)一位外國軍官在家書中提到：我們如果能攻下這座城市，將可以就近補充煤炭。但該城的砲臺頗為堅固，據說是德國工程師設計的，而且中國指揮官帶來自己一手訓練的部隊，地方士紳也組織民兵投入戰場，戰爭可能不會太順利。這位外國軍官所參加的戰爭是：(A)1840 年鴉片戰爭 (B)1860 年英法聯軍 (C)1874 年牡丹社事件 (D)1884 年中法戰爭【103 學測題】

A.B. 外國軍隊攻打中國 戰事進展順利
C.D. 單於石門古戰場 對手：原住民
基隆產煤 劉銘傳督辦軍務 福康提督孫開華 地方團練林朝棟

源自清末，不會有排滿思想

36. (D)附圖是近代新式學堂教科書的課文及插圖，從課文的敘述與插圖的呈現，其內容最可能反映了哪一種時代思潮？



十八星旗：辛亥革命軍旗
五色旗：標榜漢滿蒙回藏，五族共和 → 中華民國國旗
民國已成立
新式武器 非地方團練

(A)尊君思想，以維護皇室地位 (B)強化團練，以防止內亂再起 (C)排滿思潮，以推翻滿清政權 (D)保國強種，以對抗列強侵略【103 學測題】

37. (D)學者討論中國歷史上的某個朝代時，有人認為當時皇權專制盛行，社會停滯，思想僵化，可說是一個「黑暗時代」。但有學者不同意這種說法，主張當時商品經濟繁榮，類似今日資本主義的情況；出版事業發達，學術流通快速；知識分子還常常組織社團，發表對時事的意見。這些學者討論的是哪個朝代？(A)唐代 (B)宋代 (C)元代 (D)明代【104 學測題】

皇權專制：明清(廢相) 商品經濟：明清(大航海時代：商業資本主義)

38. (B)一部地方志記錄某地區各縣的人口情形，內容顯示：地方官員除了登記當地居民的種族等級、宗教信仰外，也開始依職業將居民分成不同類別。方志中這種居民分類方式，最早可能反映何時的情況？(A)宋代 (B)元代 (C)明代 (D)清代【104 學測題】

僅記錄 戶計 職業 種族 (但非最早)
田地 男丁 職業 田宅 職業

39. (C)一位西方人士觀察中國時，提到：「報紙上出現許多新名詞，『教育』就是一個使用頻率很高的新詞，用來區別過去使用的『授業』。一位名人則認為：教會學校從道德和知識兩方面著手，教育小學生，遠比傳統私塾要好。因為中國傳統私塾只是教給小學生許多難以理解，無法消化的倫理綱常大道理。」這種「新教育」的發展情況與下列哪個事件關係最為密切？(A)自強運動 (B)義和團事變 (C)新文化運動 (D)文化大革命【104 學測題】

A 中國西用 B 扶清滅洋

否定傳統教育 肯定新式教育

40. (A)明治維新時期，日本經歷多次政治變革：1868 年，幕府將軍「大政奉還」；1869 年，地方「奉還版籍」；1871 年，實施「廢藩置縣」政策；到了 1885 年，仿效歐洲內閣制，以「總理大臣」統率行政部會，直接向天皇負責。這種變動反映日本明治時代政治發展趨勢是：(A)強化中央集權 (B)避免天皇濫權 (C)加強地方分權 (D)走向民主共和【104 學測題】

<大日本帝國憲法>：天皇為「統治權總攬者」，掌行軍外權 委由總理大臣執行 對天皇負責

41. (C)某人回憶小時候至京城，看見城內建築十分雄偉，街道旁盡是青樓畫閣，寶馬奔馳在御路大街上。店舖裡陳列海外的奇貨珍寶，茶坊酒肆人聲鼎沸，夾雜說書聲，餐館夜間也常高朋滿座。父親說：這是百年無戰爭所創造的繁榮。這座京城應是：(A)東漢洛陽 (B)唐代長安 (C)北宋汴京 (D)明初北京【104 學測題】

澶州之盟 換來百年和平
剛結束元明之際 有經歷過戰爭 加上燕王發動靖難 → 宋代之後 坊市制度破壞 刪 A.B.

42. (D) 一位記者報導某次軍事衝突：在衝突爆發後，北京郊區一座車站被毀，電報線遭切斷，各國在北京人員無法對外聯絡。使節團立刻派人向外求援，緊急調集數百名官兵，進駐使館。20多艘外國軍艦也迅速集結在天津附近，準備登陸。這個事件應當是：(A) 1858年的英法聯軍 (B) 1884年的中法戰爭 (C) 1894年的甲午戰爭 (D) 1900年的八國聯軍 【104學測題】

攻入北京
1. 英法聯軍
2. 八國聯軍


A. 時間不符 B. 越南、白海 C. 朝鮮、東北、黃海

1861. 自強運動後才有

43. (B) 資料一：漢初的諸侯國有自己的朝廷、軍隊，可自行任命官吏，向人民收稅，但丞相由中央派任。資料二：漢初法律文書記載，皇帝禁止不同諸侯國的人民相互通婚，士人不可以游仕諸國。綜合兩則資料，最能說明漢初哪種現象？(A) 皇帝鼓勵諸侯推行地方自治 (B) 皇帝與諸侯的權力關係緊張 (C) 諸侯重視人民維持血統純正 (D) 諸侯強調人民應當安土重遷 【104學測題】

西漢初採郡國並行制下，封國諸侯與中央(皇帝)關係緊張

44. (D) 附圖是一張日本在某個時期發行的明信片，顯示一群日本青少年踏在亞洲地圖上，圖上還標示從日本到亞洲許多國家主要城市的飛行時間。從內容看，這幅圖表現的主題最可能是：



A. 目標-東北
B. 目標-山東
C. 未發生(自移民村)
D. 1932-1945 大東亞共榮圈

(A) 日俄戰爭爆發前，鼓勵青少年從軍 (B) 一次大戰爆發時，鼓吹日本人參戰 (C) 1920年代，宣導日人移居東亞城市 (D) 1930年代，向青少年宣揚軍國主義 【104學測題】

45. (A) 某一時期，朝廷重視海路互市，開放沿海地區，以便與阿拉伯半島的大食、印度半島的注輦(Chola)、東南亞的蘇門答臘、爪哇、占城等地貿易，商人甚至遠從麥加前來。政府因此在廣州、泉州、杭州、明州、密州等港口設市舶司，發給貿易執照，征收貨物稅。請問政府設立機構管理海上貿易活動，最早始於何時？(A) 唐代 (B) 宋代 (C) 元代 (D) 明代 【105學測題】

唐高宗年間(661)於廣州設市舶司 (海關)
大食-阿拉伯帝國 → 唐朝(8世紀)

46. (B) 一位德國人旅行某地時，寫下：「這裡有奇妙的園林、寶塔、大理石橋，一切都接近盡善盡美，世界沒有任何地方可以與之相比。但是數千個英國人能在七天內將之澈底毀壞。」這位德國人描述的最可能是 (A) 1840年英軍攻打舟山群島 (B) 1860年英、法劫掠圓明園 (C) 1863年，英艦炮轟鹿兒島 (D) 1868年，英軍攻擊安平港 【105學測題】

ACD無園林建築被毀
C 生券事件，日薩摩藩武士砍傷英商
D 樟腦事件，清朝打算將樟腦專賣，英國抗議
A 鴉片戰爭

斯里蘭卡

47. (C) 某次，中國政府派兵前往國外，全軍包括軍官與士兵等，共約28000人，並設置醫官、醫士、通譯、買辦等職官。拜訪了30多個國家和地區，途中曾與某國發生衝突，指揮官帶領官兵破城，生擒該國國王及家屬，送回京師。這是 (A) 漢代，張騫出使西域 (B) 宋代，富弼出使漠南 (C) 明代，鄭和出使南洋 (D) 民國，國軍前往滇緬 【105學測題】

A. 張騫屢遭匈奴俘虜 B. 富弼出使遼國，未生擒國王 C. 協助英軍抗日

48. (C) 某人回憶：長崎「現在」滿街都是洋文招牌，但當我數十年前初到此求學時，才第一次見到ABC。求學期間，我認識一位來自薩摩藩的醫生，奉其藩主之命，遠從鹿兒島前來長崎，學習荷蘭醫學。還說：當時如果想學習炮術，只能閱讀荷蘭文的書籍。此人所說的「現在」最可能是 (A) 1590年代，豐臣秀吉統一日本時 (B) 1630年代，日本頒布鎖國令之前 (C) 1860年代，美國海軍進入日本後 (D) 1940年代，日本戰敗宣布投降後 【105學測題】

數十年前日本只能學習蘭學 → 鎖國(1633-1854) → 美黑船事件後開港

49. (A) 兩個鮮卑大臣議論國政時發生爭執，一人口操漢語，引用儒家理念發表議論，另一人責罵他為「漢兒」。這個現象最早可能發生在 (A) 北朝後期，實施漢化改革政策後 (B) 隋、唐前期，種族融合形成之後 (C) 五代十國，契丹南下打草穀之時 (D) 北宋初年，北亞民族南下中原時 【105學測題】

鮮卑大臣說漢語，源自北魏孝文帝漢化，B非最早，C與漢化無關

50. (B) 清朝末年，一位外交官員前往某國參觀該國閱兵，回北京後報告：這個國家改變制度，「擇(他國)長(處)為師，悉命人譯。飛砲霹靂，軍容強盛。有輕氣球，凌風千尺。」他有感而發，希望兩國能和平相處，「玉帛相見，互相輔弼」。這位外交官員參訪的國家最可能是 (A) 德國 (B) 日本 (C) 英國 (D) 土耳其 【105學測題】

A. C已是強國，無須擇長為師 D 鄂圖曼雖有改革，但效果有限
B 明治維新(西化)後，躍升強國之列

51. (B) 某人建議：您控制的領域農業發達，天然資源豐富，土地比德、法兩國加起來還大。您跟令尊一樣深獲百姓支持，如果與中央合作，頂多是稱雄一方，不如自己創造一番事業。我國願意傾全力支持您，完成建國大業。這個對話的場景最可能是：(A) 1921年，英國首相向凱末爾建議 (B) 1928年，日本特使與張學良談判 (C) 1948年，蘇聯領袖對毛澤東指導 (D) 1949年，美國國務卿提醒蔣介石 【106學測題】

AD非地方領袖 ACD的女親是...?
C 國共內戰下毛未與中央合作 B 張學良與張作霖(皇姑屯)

52. (C) 一位作者討論當時中國的社會情況，重要內容包括：論修治道路、論綏靖地方、懲戒奢侈、清除鴉片流弊、嚴禁買賣奴婢、禁溺女嬰等。這種想法最可能出現於下列何書中？(A) 明代的《職方外紀》 (B) 清初的《大義覺迷錄》 (C) 清末的《自西徂東》 (D) 抗戰時期的《中國之命運》 【106學測題】

鴉片問題源自清代中期 → C 基督教對中國政治改革之論述
德、花之安

53. (D) 一位君主告誡大臣：前朝因為不斷加稅，造成民生困苦。不僅平時練兵要加稅，出兵遼東也要加稅，後來鎮壓民變、清剿海盜更要加稅，各項稅收超過兩千萬兩。「我朝」為民謀利，首先應當免除這些苛捐雜稅。這位君主所說的「我朝」應是：(A) 唐 (B) 宋 (C) 明 (D) 清 【107學測題】

前朝 → 明：東北有滿洲(女真)
內有流寇
東南有倭寇

54. (C) 以下三段資料為三個不同時期的中國知識分子對傳統與西方文化的看法：【106 學測題】
 資料甲：我們要拋棄傳統中國的四書五經、打倒那吃人的禮教，專心學習西方的民主與科學。
 資料乙：我們要拒絕污染心靈的西方文化，更要唾棄傳統中國的文化遺毒，知識青年應該下鄉向農民學習。
 資料丙：我們可以仿效西方國家的科學與技術，但是，仍要堅持維護中國的綱常、名教與聖人之道。
 上述資料依時序先後應是：(A)甲乙丙 (B)乙丙甲 (C)丙甲乙 (D)丙乙甲

→ 清末民初 新文化運動
 1966-1976 文化大革命
 自強運動：中體西用
 中體西用 → 新文化運動(西化) → 文革 → 中國特色社會主義

55. (A) 學者發現許多三國時代吳國的文獻資料，包括《隱核(查核)新占民簿》、《隱核州軍吏父兄子弟簿》、《兵曹徒作部工師及妻子簿》、《郡縣吏兄弟版走人名簿》、《生口買賣簿》等。這些簿冊的作用應是：(A) 掌控各類人口，增加稅收 (B) 強迫職業世襲，確保生產 (C) 因應戰爭需要，強制徵兵 (D) 分析人民壽命，發展醫學 【107 學測題】

指甲了但題目內容不限於此

56. (C) 某一朝代，因強敵入侵，皇帝從寧波乘船出逃，船隻在江南沿海躲藏以避追擊。四十天後敵軍撤退，皇帝才返回陸地。為了安全考量，皇帝決定在富庶的江南臨海地區建都，萬一強敵再侵時，才方便出海避難。請問，該事件最可能是：(A) 春秋時期的吳越相爭 (B) 三國時期的孫吳政權 (C) 女真壓境時宋室南渡 (D) 滿清入關後南明諸王 【107 學測題】

A 尚無「皇帝」之詞 B 無出逃之事 C 題目指清康之難後康王趙構在臨安稱帝 D 未能在江南建都

57. (C) 一位外國傳教士回憶傳教時的遭遇：當地久旱不雨，百姓認為是建洋教堂造成，許多人包圍教堂，意圖生事，官府派遣官兵保護教士，僵持不下。稍後，天降大雨，百姓才紛紛散去。這最可能發生在：(A) 1820 年代廣州 (B) 1840 年代天津 (C) 1880 年代濟南 (D) 1920 年代臺北 【107 學測題】

開港 → 傳教 → 教案 1844 黃埔條約 通商口岸可建教堂 → 刪 A B (D 日=台無教案)

58. (D) 柬埔寨為中南半島的文明古國，昔稱扶南，後名真臘、高棉帝國。真臘和鄰近的占城、暹羅等地，是宋代成形的「南海貿易體系」成員，當時中國和東南亞間的貿易商船往來不絕，許多東南亞的物種隨貿易活動傳入中國。《宋會要》記載：紹興 3 年進口商品中，以香料、藥材、珍寶為主。《諸蕃志》也列舉中國商人在真臘、占城等 15 個地區販售的商品有瓷器、絲織品、酒、漆器等。柬埔寨於十九世紀淪為法國保護國，1953 年才獨立；但獨立後長年動亂，某國際組織乃通過決議，在該國成立柬埔寨臨時權力機構，於 1992 年至 1993 年協助該國重建和平政府，舉行自由和公正的選舉並制定新憲法，使該國恢復正常秩序；這也是該國際組織第一次接手管理一個獨立國家。該國政局較為穩定後，台商也陸續到該國投資紡織成衣、製鞋、農產、木材加工等產業。請問：若僅以題文中有關宋代「南海貿易體系」的敘述作為推論依據，可直接由上述資料獲得下列哪項結論？(A) 原產於真臘、占城，耐旱早熟的占城稻，至宋代才傳入中國 (B) 南海貿易商船多在夏季從中國出發，冬季從東南亞返回中國 (C) 中國的經濟重心南移和造船技術進步是南海貿易發展的基礎 (D) 宋代南海貿易以中國輸出手工業商品、進口原物料商品為主 【108 學測題】

A, B, C 文中皆未提及

59. (C) 某一時期，中國周邊民族普遍使用文字，並營建都城，反映其國家組織的強化，構成對農業中國的嚴重威脅。無論是東北、北方，甚至西南，都發生周邊民族入侵的現象，同時對中國造成重大的壓力。這種形勢出現於何時？(A) 西周末年 (B) 西晉末年 (C) 唐宋之際 (D) 清朝中葉 【108 學測題】

最早使用文字的周邊民族：唐宋之際突厥 → A, B 刪
 突厥 突厥
 大理
 D 本身來自中國東北(滿洲)

60. (A) 清朝初年，政府起用傳教士協助官員繪製《皇輿全覽圖》。康熙 52 年 5 月 20 日(陰曆)，皇帝下令：「往河南、江南畫輿圖去的官和西洋人不必回來，就彼處往浙江舟山等處、福建臺灣等處畫去。但走海時，著伊等謹慎看好天色時節行走，不必急了。」從康熙 49 年到 55 年共完成「有度數直隸、山東等 13 省全省圖 14 張」。這些地圖都以「府」為基本量算單位，用墨色硬筆繪製，度數用阿拉伯數字記在圖的邊框，山川城鎮符號基本一致。請問，協助清朝官員繪製地圖的傳教士最可能是：(A) 法國的耶穌會教士 (B) 英國的長老會教士 (C) 荷蘭的喀爾文教士 (D) 俄羅斯的東正教士 【108 學測題】

明末清初來華傳教以「天主教耶穌會」為主 B, C 新教 19 世紀中來 D 東正教未來華傳教

61. (B) 學者認為：國家失道，將敗之際，上天會先降下災害，以為警惕。如果人君無法領受天降災異的教訓，把政治導正，那麼天就有權力來奪取君王的權位。如果君王行為得當，五行運轉便正常。他因此主張：「天道」運行變化，主要是為了建立「人道」。這位學者最可能是：(A) 主張民貴君輕的孟子 (B) 主張天人感應的董仲舒 (C) 主張格物致知的朱熹 (D) 主張知行合一的王陽明 【108 學測題】

B 以天道約束並限制皇權擴張 ACD 與災異無關

62. (B) 許多關切教育的地方人士指出：國家建設百廢待舉，傳統知識已不敷使用，需借重歐美先進國家的政治經驗、學術思想與科學技藝等專門知識，才能提升國家建設的效率。國家先前雖曾多次派遣學生出洋念書，但人數不足。為便於學習歐美先進國家的專門知識，建設家鄉，我們也應廣派學子出國留學。呼籲主事者籌設「留學歐美預備學校」，招收學子，先在國內學習歐、美語文，以便將來出國學習。該文章反映哪種時代背景？(A) 簽訂《南京條約》後，政府需培養對外交涉人才 (B) 民國初年，擴大學校教育，也培育各種專門人才 (C) 八年抗戰期間，同盟國資金援助，學生可赴歐美 (D) 韓戰爆發以後，美援開始，故派遣學生赴美學習 【108 學測題】

1861 自強運動後 才有留學 → 刪 A (太早) 1911 清政府透過美國之庚子賠款 [CD 官派留學已具規模] → 留美預備學校(清華學堂)

63. (B) 1862 年，德川幕府派官員到上海考察，隨行一位藩士寫下《遊清五錄》，描述當時上海的情形：「歐羅巴諸邦商船艦數千艘停泊江上，桅檣林立，填滿津口；陸上則有諸邦商館，粉壁千尺，殆如城郭，其雄大壯偉，筆紙難以表述。」另一方面他也觀察到：「中國人到處被外國人牽制著。……與其說上海是中國人的土地，還不如說是英法兩國的殖民地。……雖然說我們是日本人，但對於這樣的局面也應該關心留意。因為這不僅是中國之事。」他指出中國受侵略的根源是國策失誤：「當權者只知守舊……沒有製造軍艦大砲在戰區裡抵禦敵人，才造成如此衰敗的結果。」這位日本人寫此書的目的最可能是：(A) 日本已是先進國家，自認為是高級文化代表，故多批評 (B) 日本也相當落後，看到中國情況，希望能避免重蹈覆轍 (C) 日本自以為遠較中國富強，希望也能效法列強瓜分中國 (D) 日本自知無法抵抗列強，主張閉關自守，拒列強於境外 【108 學測題】

1868 明治維新 A, C 刪

1854 無船事件後 日本已結束鎖國 1840 1842 1854 1861 1868 鴉片 War 南京 無船事件 明治

64. (C) 1871 年，西洋人在上海敷設了電報線；1877 年，丁日昌在臺灣架設了電報設備，成為中國第一條自行架設的電報線。1879 年，李鴻章也在天津與大沽及北塘之間架設電報設備。當時架設電報設備的主要動機是：(A) 西洋商社在中國投資，希望中國提供電信設備 (B) 中國報業為求現代化，希望引進電報通信設施 (C) 清朝官員認為電報設施有助於國防，因此架設 (D) 朝廷認為電報為國家現代化象徵，故極力支持 【108 學測題】

自強運動期間 (1861-1895) → 地方主辦 目標：富國強兵

65. (B) 某一時期，中共《新華日報》〈社論〉曾讚美「美國是自由世界的核心、民主的守護神、專制者的敵人」，希望用民主與科學的紐帶結合中、美兩大民族。後來，毛澤東也強調反對一黨專政，主張建立民主的聯合政府，承諾保障人民的言論、出版、集會、結社、思想、信仰及身體等自由。發表上述言論的背景最可能是：(A) 1920年代，中國共產黨成立時的主張 (B) 1940年代，要拉攏美國，對抗國民黨 (C) 1960年代，爭取美國支持文化大革命 (D) 1970年代，會見季辛吉保證支持美國 【109 學測題】

A 聯俄容共時期 支持蘇聯
B 國共內戰 反對國民黨專政
C D 中共建國後 採一黨專政 → 刪

66. (B) 中共建國後，為貫徹共產主義的理想，在 1950 年代後期開始推動「集體化」運動，即打破小農經濟的格局，取消土地私有制，在農村推動集體農場制度，並開始將農村編組成人民公社。但這些政策並無法解決農村問題，甚至弊多於利，演變成空前的災難，農村因飢饉而引發大量人口死亡。下列哪項原因和中國這項集體化運動的失敗最有關係？(A) 抗美援朝戰爭爆發，農民被動員上戰場 (B) 取消土地私有制，使農民失去生產意願 (C) 集體農場精耕細作，傳統農民無法適應 (D) 推行上山下鄉運動，導致農村人力不足 【109 學測題】

A 1950年代前期 B 三面紅旗 = 社福大人
D 文革 1966-1976

67. (A) 宋代立國之初，強化中央集權並提倡文人政治。時人汪洙有〈神童詩〉云：「天子重英豪，文章教爾曹；萬般皆下品，惟有讀書高；滿朝朱紫貴，盡是讀書人。」學者認為，文人政治本為配合宋初的國家政策，但因宋室後人墨守成規，以致造成重文輕武的現象，終至無法應付強鄰環伺的局面。請問宋初採行中央集權，提倡文人政治的目的為何？(A) 化解軍人勢力的威脅 (B) 提高官僚集團的素質 (C) 防止兵將帥間的猜忌 (D) 節省國家軍費的支出 【109 學測題】

中唐 → 五代十國 → 北宋
藩鎮割據的擴大與延長
杯酒釋兵權 文人政治

68. (C) 某一時期，一艘駛向中國的外國船隻在冬天航行時，遇上暴風，漂流至中國東南沿海某地，船中乘客獲救，送往官府途中，險被民眾毆殺。這位乘客懂漢字，在與中國官員筆談後，得知該地長期以來受到外國海盜侵擾，村民誤認他是海盜，所以群情激憤。這個區域除了經常有外國海盜騷擾外，且因環境條件不佳，謀生不易，導致人口常往海外移出。請問題文中的這位乘客最可能是下列何者？(A) 日本派到長安的遣唐使者 (B) 元代到泉州的阿拉伯商人 (C) 明代到中國遊歷的朝鮮士人 (D) 清初到北京考試的越南士人 【109 學測題】

有傳聞 冬天 懂漢字

69. (C) 學者指出：北魏實行均田法的背景，第一，因戰亂的傷亡及遷徙，留下大片無主荒田；第二，許多農民為躲避戰禍，逃離農村，流落城市，成為不事生產的游民；第三，農民投靠大戶士族，「五三十家方為一戶」，只向其宗主貢獻，不必向政府納稅。均田法的實施是結合戶籍的清查及管理，透過計口授田，使農業勞動力與耕地達到合理配合，以恢復生產，建立小農社會。根據上述，學者認為北魏均田法實施的主要目的最可能是：(A) 限制土地兼并 (B) 保全士族特權 (C) 重建編戶稅基 (D) 推行漢化運動 【109 學測題】

70. (A) 某地的警察組成有歐籍、印度籍、華籍，以及特別從山東威海衛招募來的人員，分別以 ABCD 編號。其中印度籍警察包著頭巾，華籍警察戴著三角形竹帽，穿綠色制服。當地孩童以「ABCD，大頭綠衣，追賊不到，吹嗶嗶！」來形容警察。這些孩童最可能是：(A) 在英國殖民統治香港時的華人小孩 (B) 在德國轄下膠州灣生活的華人小孩 (C) 在雅加達經商貿易的華僑家庭小孩 (D) 在舊金山建造鐵路的華工家庭小孩 【109 學測題】

英國於 1841 占香港
1858 條約印膠
1898 租借威海衛

24

71. (D) 某一時期，主事者推動一項政策：將工、農、學、兵結合在一起，便於領導。大部分人民編入組織，私人物品如鍋、盆、桌、椅都交給公家，以便共同生活、共同生產。不分男女都要工作，兒童都送到托兒所，甚至設置食堂，免費供應食物和必需品。原本希望建立自給自足的社會，結果卻造成工業停頓，經濟倒退，國民生產總值大幅減少。這最可能是何種制度或組織？(A) 1853 年太平天國天朝田畝制 (B) 1900 年山東的義和團組織 (C) 1931 年江西的中華蘇維埃 (D) 1958 年華北各地人民公社 【110 學測題】

三面紅旗 = 社福大人

72. (C) 某一時期，許多知識分子研究軍事技術，紛紛著書立說，出版了《火輪船圖說》、《演炮圖說》、《西洋自來火銃制法》及《請仿西洋製造火藥疏》等書。這種情況最可能反映哪種思想？(A) 嚴守夷夏之防 (B) 推動全盤西化 (C) 師夷長技制夷 (D) 擴張軍國主義 【110 學測題】

器物層面

73. (A) 十八世紀初，一位在中國傳教的法國傳教士於書信中描述，他所在的地區為群山中的平原，人口稠密，富人甚多。此地自西元一千年左右起已是重要的工業城，現有作坊三千座，產品不僅供應全中國，還外銷世界各地，數量驚人。這位傳教士詳述該地產品的製作過程，使歐洲人終得仿製成功。他所描述的產業最可能是：(A) 江西景德的瓷器製作 (B) 浙江杭州的絲綢製品 (C) 福建福州的武夷茶葉 (D) 廣東沿海的醫療藥材 【110 學測題】

6世紀東羅馬已學會 19世紀英國 未仿製

74. (A) 某一時期，有人記錄在中國旅行的見聞：漢字不像西方文字橫排書寫，由字母組成，而是由上而下的直排，每個字都有特定的符號，鄰近民族也都能認識。進入中國人的家中，一定有人端上一種顏色淡紅的溫水，以一種有苦味的草製成，有一股藥味，他們稱其為茶。這份記錄最可能出自：(A) 十六世紀來華傳教的耶穌會士，開始認識中國文化 (B) 十七世紀入主中國的滿洲皇族，體會北京日常生活 (C) 十八世紀來華朝貢的安南貢使，走訪中國風土民情 (D) 十九世紀來華經商的英國商人，看到新奇特有事物 【110 學測題】

對漢字不熟悉 → 刪 B、C 東亞文化圈
D 英國於 17 世紀開始喝茶，18 世紀流行

75. (B) 唐太宗下令大臣修《氏族志》，欲排定各姓氏等級。編成之後，太宗不滿意，指示重修時只需根據現在的官爵等第區分等級。修訂版將各姓氏分成九等級，以皇室為首，外戚次之。高宗時，宰相李義府門第寒微，想與山東士族結親被拒，乃上告高宗。唐高宗因此下令，山東士族「七姓十家不得自為婚」。唐代修訂《氏族志》、發布「禁婚令」，最主要目的是：(A) 擔憂士族通婚，聲氣相通，壟斷科舉考試晉身管道 (B) 避免傳統士族透過聯姻結盟，禁婚壓抑其社會地位 (C) 禁止士族近親通婚，避免造成人倫與社會關係混淆 (D) 擔心士族通婚，擴大土地兼并，造成農民流離失所 【110 學測題】

A 士族擅長明經，不擅進士科 C 士族重人倫 D 均田無兼併問題

76. (D) 一位皇帝指示研商減稅事宜，隨即有大臣上奏：「我朝前一陣子因為軍費支出甚多，政府財政有些不足，建議暫緩減稅政策。但皇帝認為：先前雲南、貴州、廣西、四川等省因大規模叛變，使得地方殘破不堪，田畝荒廢，財政才會短收。現在大亂已平，人口逐漸增加，荒地也逐一開墾，國用已經充足，就應與民休息。所以，仍決定減稅。這種情況最可能是：(A) 唐太宗親征高麗等地之後 (B) 宋高宗與金簽訂和約之後 (C) 明成祖發動靖難之役之後 (D) 清聖祖平定三藩之亂之後 【110 學測題】

洪進丁，永不加賦
雍正 攤丁入畝

刪 A B C
秦 秦 南
北 淮 京

25

77. (A) 1720年，某地的商業組織制訂「行規」，部分條文內容如下：華夷商民一視同仁，各行商應與夷商相聚一堂，共同議價，其有單獨行為者應受處罰。他處或外省商人來省與夷商交易時，本行應與之協訂貨價，俾得賣價公道；有自行訂定貨價或暗中購入貨物者罰。制訂這份文書者最可能是：(A)廣州公行代表 (B)鹿港行郊郊商 (C)香港殖民政府 (D)天津通商大臣 【110 學測題】

清康熙

未與洋人交易 1842 才被殖民 1860 才開港

78. (C) 二十世紀初，一名道士在某處山洞中整理文物，發現許多自十六國到北宋以前的公私文書、大量的佛教典籍及繪畫作品。這些文件的書寫文字，除中文外，還有梵文和藏文等。許多外國學者聞風而至，購走大量文物，至今仍存於英、俄、法等國的國家博物館及圖書館。此山洞最可能位在：(A)山西 (B)遼寧 (C)甘肅 (D)雲南 【110 學測題】

→ 靠近印度、西藏，文物遺英、法、俄收藏 → 敦煌文物 (AB刪) (D刪)

79. (A) 一位大臣向皇帝稟告：朝廷已三十多年未遷徙百姓守先帝陵墓，如今關東地區甚多富人，富人購買良田，招貧民耕種。他建議繼續推行遷徙，讓富人搬到首都附近的陵墓區，一方面壯大首都，衰弱王室諸侯；一方面可平均中等以下家庭的貧富差距。此政策因地方豪強抵制，且違背朝廷推動的孝道而難以執行。這最可能發生於：(A)重視儒術的漢代 (B)偏安江南的東晉 (C)崇尚胡風的唐代 (D)推行科舉的宋代 【110 學測題】

「陵邑制」：調富豪守皇陵，削弱豪強，→ 因漢元帝重儒而中止

80. (B) 中國的百貨公司成立以來，多以「洋貨」為主打商品。民國初年，某一事件發生期間，上海一間百貨公司在報紙上刊登「敬告國人書」：「外交失敗，悲憤同深，……敝公司雖係統辦環球貨品，然宗旨首重國貨，歐美貨次之，其某國貨，則僅供市上之需求耳。」並表示某國貨品存貨出清，即不再販售。不過，抵制某國貨品的聲浪如排山倒海而來，該公司只好再度聲明：概將某國貨品「完全收束不賣，寧願犧牲血本，以示與眾共棄之決心。」請問「某一事件」指的是：(A)三一運動 (B)五四運動 (C)九一八事變 (D)七七事變 【111 學測題】

拒買日貨 → 巴黎和會 山東問題

81. (C) 一份資料提到：1933年的雙十國慶酒會選在臺北的鐵道旅館舉辦，出席的貴賓有美國、義大利駐臺領事及臺灣總督府高級長官。會場懸掛中華民國國旗，慶典中除演奏中華民國國歌外，還高呼「中華民國萬歲」。這段資料如何解讀最合理？(A)當時滿洲國成立不久，日本乃邀請滿洲國官員來臺舉辦慶祝雙十國慶活動 (B)當時中日兩國的關係親密和善，臺灣總督府乃主動舉辦慶祝雙十國慶酒會 (C)當時來臺的中國僑民日多，國府已在臺北設立領事館，故能舉辦國慶活動 (D)當時的臺灣總督府正在進行皇民化政策，故舉辦雙十酒會來籠絡臺灣人民 【111 學測題】

[同 P.7. 45 題]

82. (D) 十五至十六世紀間，某王國曾興建一座大型的宮殿，此建築物分為三部分：正殿為國王舉行各種典禮和議政的場所；北殿專為接待中國的冊封使之用；南殿則自十七世紀初期開始，用來接待日本薩摩藩官員。該宮殿最可能位於：(A)朝鮮 (B)暹羅 (C)安南 (D)琉球 【111 學測題】

中國藩屬



83. (C) 金門有許多洋樓，建築上裝飾著象徵吉祥如意的鳳梨、祈求多子多孫的麥穗、象徵科舉及第的螃蟹（以「甲殼」比喻「科甲」）、表示時間的西洋時鐘或扛著屋簷的印度苦力（象徵屋主的社會地位）。這些建築裝飾反映以下何種歷史現象？(A)荷蘭人主導遠東貿易時期，當時盛行的建築風格也流傳至金門 (B)鄭成功家族前往巴達維亞貿易，並將當地的建築特色帶回金門 (C)民國早期，僑民從南洋帶回西方建築風格並融入金門傳統裝飾 (D)日本占領金門時，其商人引進當時歐洲最流行的巴洛克式裝飾 【111 學測題】

A. 荷未占金門

D. 日未占金門

B. 鄭未引入西洋色彩

也未引入歐風

金門 — 閩南花界 南洋花

84. (B) 清宣統三年十二月二十五日（1912年2月12日），清帝溥儀頒布退位詔書。但在國立故宮博物院典藏的清代檔案中，發現一件進呈給溥儀的奏摺，時間標註為「宣統十六年七月」。我們應如何解釋這個現象？(A)宣統朝只有三年，應該是清政府官員誤植年代的奏摺 (B)清帝雖退位，政府仍同意其繼續使用帝號和原有紀年 (C)洪憲帝制時，為獲滿族支持而以宣統紀年進呈的奏摺 (D)滿洲國成立，其政府官員上奏給溥儀，故以宣統紀年 【111 學測題】

A 民國政府允許沿用 而非誤植

C 1916 → 宣統 8 年
D 1932 → 宣統 23 年
[大同、康德 = 滿洲國年號]

85. (D) 中國傳統政治制度歷經漢、唐的演變而大備，日、韓等國立國較晚，其各種制度參酌中國者甚多，也有徒取其形式而忽略其精神的。例如：有某個制度在中國具有公平與促進社會流動的意義，在東亞的日本、朝鮮卻成為保障特定對象的工具。這個制度最可能是：(A)戶籍 (B)律令 (C)賦役 (D)科舉 【111 學測題】

↳ 日韓藉此壟斷官職與土地

86. (A) 某校歷史課程進行「歷史考察」學習時，要求同學事先蒐集族譜、臺灣總督府旅券（護照）、同鄉會名簿等史料，並進入內政部網站閱讀人口和戶口調查資料。該「歷史考察」的主題最可能是：(A)人群的移動與交流 (B)國家的建立與形塑 (C)文化的類型與變遷 (D)宗教的起源與傳播 【111 學測題】

[同 P.7. 44]

二、題組：

- ◎ 某一時期，朝廷重視海路互市，開放沿海地區，以便與阿拉伯半島的大食、印度半島的注輦(Chola)、東南亞的蘇門答臘、爪哇、占城等地貿易，商人甚至遠從麥加前來。政府因此在廣州、泉州、杭州、明州、密州等港口設市舶司，發給貿易執照，征收貨物稅。請問：
 - (1) 政府設立機構管理海上貿易活動，最早始於何時？(A)唐代 (B)宋代 (C)元代 (D)明代
 - (2) 引文所述的海上貿易活動，與下列哪個南洋群島的現象關係最密切？(A)都市化的勃興 (B)人口轉型的出現 (C)伊斯蘭教的傳播 (D)殖民地式經濟的建立

【105 學測題】

歷屆學測試題(世界史篇, 共 93 題)

2. 唐宋時期, 隨著南海貿易的興盛, 外國船隻停靠的貿易港也逐漸從廣州向北延伸到福建和長江流域。繼廣州之後, 泉州、明州(今寧波)也發展成大商港。外國商船將香料、珊瑚、瑪瑙、寶石、象牙、藥材等商品輸往中國, 並購買大量中國產品運回。請問:

- (D)(1) 唐宋時期從南海來華貿易的外國商人, 以下列何者為數最多? (A)印度人 (B)馬來人 (C)義大利人 (D)阿拉伯人 **大食**
- (D)(2) 外國商人從明州(今寧波)購買運回的主要商品為何? (A)蔗糖、樟腦 (B)樟腦、苧麻 (C)蔗糖、棉布 (D)瓷器、絲綢 **明**

【107 學測題】

3. 宋代立國之初, 強化中央集權並提倡文人政治。時人汪洙有〈神童詩〉云:「天子重英豪, 文章教爾曹; 萬般皆下品, 惟有讀書高; 滿朝朱紫貴, 盡是讀書人。」學者認為, 文人政治本為配合宋初的國家政策, 但因宋室後人墨守成規, 以致造成重文輕武的現象, 終至無法應付強鄰環伺的局面。請問:

- (B)(1) 下列哪個概念最接近題文〈神童詩〉所描述的讀書與讀書人從政之現象? (A)次文化 (B)文化位階 (C)社會資本 (D)政治參與 **[公民]**
- (A)(2) 宋初採行中央集權, 提倡文人政治的目的為何? (A)化解軍人勢力的威脅 (B)提高官僚集團的素質 (C)防止兵將帥間的猜忌 (D)節省國家軍費的支出 **[同 P.24. 67 題]**

【109 學測題】

4. 某一時期, 一艘駛向中國的外國船隻在冬天航行時, 遇上暴風, 漂流至中國東南沿海某地, 船中乘客獲救, 送往官府途中, 險被民眾毆殺。這位乘客懂漢字, 在與中國官員筆談後, 得知該地長期以來受到外國海盜侵擾, 村民誤認他是海盜, 所以群情激憤。這個區域除了經常有外國海盜騷擾外, 且因環境條件不佳, 謀生不易, 導致人口常往海外移出。請問:

- (C)(1) 題文中的這位乘客最可能是下列何者? (A)日本派到長安的遣唐使者 (B)元代到泉州的阿拉伯商人 (C)明代到中國遊歷的朝鮮士人 (D)清初到北京考試的越南士人 **[同 P.24. 67 題]**
- (B)(2) 當地人口常往海外移出, 最可能與其具有下列哪項環境特色有關? (A)位處缺水區, 環境負載力不足 (B)山多平原少, 農業生產力較低 (C)多峽灣海岸, 外來船隻易停泊 (D)針葉林廣布, 造船材料較豐富 **[地理]**

【109 學測題】

三、混合題:

1. 西晉末年, 北方戰亂, 長安、洛陽二京傾覆, 山西、河北淪陷。面對時局的變動, 人民有不同的作法。學者指出, 中原士庶避難者約有兩途, 或入遼東, 或徙江左。入遼者, 接受慕容氏招撫; 過江和遷於淮漢流域者, 為數尤多, 遂創二百七十年偏安之局。其不克遷徙者, 則鳩合宗黨, 保聚險固, 自治自衛, 以圖苟免於胡人或寇賊之難。還有一種流人, 其背棄鄉貫, 轉徙他方, 與前者相似; 而憑堅乘險, 保守塢聚, 又與後者彷彿。請問: 【111 學測題】 **胡人在兩漢之際, 已多內遷中原。**

- (C)(1) 上述史事的時代背景, 應是: (A)遊牧民族避寒南侵 (B)匈奴勢盛南下牧馬 (C)內遷胡人舉兵起事 (D)蒙古鐵騎橫掃中原 **五胡亂華 → 永嘉之禍**

(2) 題文中的「前者」、「後者」, 他們面對時局變動的作法分別為何? 請在答題卷表格中依序作答, 並從二者擇一勾選何者形成當地政治文化勢力? (非選擇題, 每欄 35 字內)

	面對時局變動的作法 (各 35 字內)	擇一勾選
前者	① 入遼東, 徙江左, 背棄鄉貫, 轉徙他方	③ 請勾選 [僑姓] ☑前者: 形成當地政治文化勢力
後者	② 不克遷徙者, 鳩合宗黨, 保聚險固, 自治自衛	☐後者: 形成當地政治文化勢力 [郡姓]

一、單一選擇題:

1. (C) 一個延續千餘年的大帝國, 以農業為立國基礎, 其首都是歐洲地區及地中海世界最大的政治、經濟和宗教中心, 控制歐洲和亞洲之間的貿易與文化往來。這個帝國是指: (A)亞述帝國 (B)阿拉斯帝國 (C)拜占庭帝國 (D)神聖羅馬帝國 **[99 學測題]** **拜占庭** **君士坦丁堡** **750-1258** **330-1453** **維也納** **962-1206** **尼尼微** **B.C.2025-612**

2. (A) 附圖是 19 世紀末期歐洲某一族群向外移動的路線圖。這個民族原本來自外地, 移入後不斷受到外來干擾, 19 世紀起向外移動, 前往拉丁美洲與美國。也有人提倡移往巴勒斯坦, 希望建立自己的國家。這個民族是:



以色列國 B.C.772 亞述
猶大王國 B.C.586 迦底亞
[巴比倫之囚]
離散 → 1948 建國

- (A) 猶太人 (B) 德意志人 (C) 土耳其人 (D) 斯拉夫人 **[99 學測題]**

3. (B) 一位學者認為: 政府與人民間原有契約關係, 政府應當保障人民的生命、自由和財產, 才能獲得人民的認可, 其統治才有正當性。如果政府不能善盡其義務, 人民便可解除契約。我們如何理解這種理論? (A) 柏拉圖的理想國理念, 主張國君應當為民服務 (B) 洛克提出的政府學說, 主張人民可以推翻政府 (C) 法國大革命時的《人權宣言》, 認為世人都應平等 (D) 威爾遜提出民族自決論, 認為自由為基本人權 **[99 學測題]**

洛克《政府論》
1. 知識 = 感覺 + 理性
2. 政府權力來自被統治者的同意, 人民有「反抗」的權利 (天賦人權)

4. (D) 某地自 1840 年代起就發展工業、礦業, 1850 年代修建鐵路, 1860 年代已有鐵路 1300 公里, 到 1870 年擴增為 7700 公里, 1890 年代增至 25600 公里。1851 年, 當地開始興建紡織廠, 到了 1900 年, 共有紡織廠 193 所, 還有茶葉公司與黃麻工廠。當地人民並未享受這些經濟發展帶來的好處, 因此不斷要求自治, 希望享有平等的政治權利。這個地方應當是: (A) 越南 (B) 加拿大 (C) 日本 (D) 印度 **[99 學測題]**

1757 普拉西戰事 (英東印度公司 v.s 蒙兀兒) **[1756-1763]**
七年戰爭
→ 英國始在印度進行殖民主義工業發展

5. (B) 一位國家領袖表示:「我們必須加強海軍, 以維護我國的利益。我們的海外同胞, 不管是神職人員、商人或從事其他行業, 都應該相信: 我們的海軍會永遠保護他們。」我們如何理解這個談話? (A) 拿破崙戰爭期間英國政府的主張 (B) 德意志帝國在東亞擴張時的聲明 (C) 日本發動珍珠港事變之前的宣傳 (D) 波斯灣戰爭期間美國提出的政策 **[99 學測題]**

A. 英海軍已是最強 無須再加強
B. 德皇威廉二世, 大海軍主義 → 世界政策
C. 日: 並非為了保護僑民
D. 美: 為制裁伊拉克侵略科威特, 非保護僑民