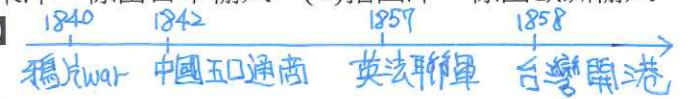


歷屆學測試題(台灣史篇，共 60 題)

一、單一選擇題：(共 45 題)

1. (A) 一名臺灣官員向朝廷報告：「臺地無源可開，但通其流，而源自裕。米穀不流通，日積日多……蓋由內地食洋米而不食臺米也。不食臺米，則臺米無去處，而無內渡之米船。無內渡之米船，則無外來之貨船。」依據你對東亞歷史的了解，文中的「洋」指何而言？「洋米」自何地輸入？ (A)指南洋，由東南亞輸入 (B)指東洋，係由日本輸入 (C)指西洋，係由歐洲輸入 (D)指印度洋，由印度輸入 【98 學測題】



2. (A) 臺灣原本不產耕牛，主政者在南北兩路各設「牛頭司」，負責引進牛隻繁殖，以用於耕作。主政者並在各地修築水利設施，提供耕牛、農具與種籽；又大量招募「中土遺民」前來開墾。這是何時的情況？ (A)荷蘭時期 (B)清領初期 (C)日治時期 (D)戰後初期 【101 學測題】

中土遺民：1644. 明之後. 南明人士流亡海外

3. (A) 日本軍方在一份布告書中說：「我軍所向，蕃人懾服。」但當要與清國議和之際，清國政府生出異議，未能立刻達成和議。「現在，兩國商議已決，即將接受清國請求而撤軍，並將該地人民交還清國。」這份布告書應當是： (A)牡丹社事件後日軍的公告 (B)日軍占領琉球之後的公告 (C)甲午戰後日軍對臺的公告 (D)日俄戰爭期間對東北公告 【101 學測題】

BC 未撤兵
D 與清無關
1871. 琉球人漂至台灣遇害 → 1874. 日軍藉此出兵屏東(石門古戰場)

4. (C) 一位作家呼籲：希望作家不要身處危難，卻仍然成天做著新式或舊式的鴛鴦蝴蝶夢。我們要關心現實，寫我們的現實，主要一點便是反買辦、反崇洋媚外、反分裂的地方主義。這段話反映哪個時期臺灣的文學思潮？ (A)1950 年代的反共文學 (B)1960 年代的現代文學 (C)1970 年代的鄉土文學 (D)1980 年代的浪漫文學 【101 學測題】

1940~1950 反共. 戰時 → 1950 懷鄉. 1960 現代文學. (美援)

5. (C) 近世臺灣開發以來，逐漸形成「大租戶——小租戶——佃戶」的土地所有與經營結構。某個時期，政府為了解決財政不足的問題，除了清查全臺土地，防止逃漏稅外，更以行政命令，剝奪某個層級地主的土地所有權，而以政府發行的公債以及現金作為補償。如此一來，政府得以向直接經營土地者徵稅，擴大徵稅對象，稅收也得以增加。這次土地所有權的變動最可能是指： (A)鄭成功實施屯田制 (B)劉銘傳行減四留六法 (C)日本取消了大租權 (D)國民政府三七五減租 【101 學測題】


A 軍屯. B 劉銘傳本欲將地權給小租戶 → 施九緞事件 D 租金上限為 37.5%

6. (B) 一位民意代表主張：「今日臺灣發電條件豐富，政府應研究鐵路電氣化的可能性，其經濟效益可提高人民所得。」主管交通的官員答覆：「關於鐵路電氣化問題，美援會研究認為需再慎重，本案中央繼續研究中。」這位民意代表最可能是： (A)1930 年代，街庄協議會的議員 (B)1960 年代，臺灣省議會的議員 (C)1980 年代，立法院的立法委員 (D)1990 年代，國會中的國大代表 【101 學測題】

美援：1. 國共內戰期間 1948 因情勢不利而中止. 2 韓戰時. 1950~1965.

7. (C) 臺灣總督在就職時指出：「本政府統治方針本於『臺灣為帝國領土之一部』的精神。我們應當啟發臺人之智能德操，使其感受朝廷一視同仁的美意，希望醇化臺人，使其與內地人融洽相處，進而使臺灣與內地無異。」這位總督最可能是： (A)1895 年接收臺灣，鎮壓抗日的樺山資紀 (B)1902 年肅清「臺地匪亂」的兒玉源太郎 (C)1919 年結束軍事統治的文官總督田健治郎 (D)1936 年推動臺灣進入戰時體制的小林躋造 【102 學測題】

- A. 武力鎮壓.
- B. 特別統治.
- C. 內地延長.
- D. 皇民化.



[耕者有其田]

8. (D) 附表為 1910 年到 1940 年間臺灣人口的統計資料。表中丙、丁代表的族群分別是：

年份	甲族群 (萬)	比率 %	乙族群 (萬)	比率 %	丙族群 (萬)	比率 %	丁族群 (萬)	比率 %	總計 (萬)
1910	306	92.9	1.48	0.4	12.2	3.7	9.8	3.0	329.9
1920	343	91.4	2.48	0.7	13.0	3.5	16.6	4.4	375.7
1930	425	91.0	4.66	1.0	14.0	3.0	23.2	5.0	467.9
1940	552	90.9	4.61	0.8	15.8	2.6	34.6	5.7	607.7

(A) 丙為臺灣人、丁為原住民 (B) 丙為外國人、丁為臺灣人
(C) 丙為日本人、丁為外國人 (D) 丙為原住民、丁為日本人 【102 學測題】

甲：絕對多數-漢人 乙：絕對少數-外國人 丙：變動不大-原住民 丁：逐年增加-日本人
比例減少 ①緩解人口壓力 ②鞏固統治

9. (A) 一個展覽會中，主辦單位不僅邀請來自北海道、京都、大阪、朝鮮等地的機構與企業設館參展，也廣邀滿洲國、暹羅、福建等地的公私團體，展出各地特產。展場中另有一些具有特色的主題館，如糖業館與林業館。這是哪個展覽會的情況？ (A) 1935 年臺北的始政四十年博覽會 (B) 1970 年在大阪舉行的萬國博覽會 (C) 1975 年在沖繩的世界海洋博覽會 (D) 2010 年在上海舉行的世界博覽會 【102 學測題】

滿洲國 1932-1945 日本扶植的傀儡政權

10. (C) 一首讚美臺灣風情的歌謠說：「海岸線長山又高，處處港口都險要。四通八達有公路，南北是鐵道，太平洋上最前哨，臺灣稱寶島。」介紹物產時指出：「四季豐收蓬萊稻，農村多歡笑，白糖茶葉買賣好，家家戶戶吃得飽。鳳梨西瓜和香蕉，特產數不了，不管長住和初到，同聲齊誇耀。」這首歌謠創作的背景最可能是： (A) 1890 年代，臺灣慶祝第一條鐵路通車典禮 (B) 1910 年代，日本總督府完成縱貫鐵路建設 (C) 1950 年代，臺灣實施經濟改革，漸有成效 (D) 1980 年代，中共統戰歌謠，爭取臺灣民心 【102 學測題】

蓬萊米 1922 總永吉改良 → A、B 刪去 C. 1950 年代 土地改革 + 進口替代

11. (C) 某一時期中，臺灣某地曾經發生官民衝突，事件平定後，政府不僅嚴厲處分參與者，也連帶處罰其左鄰右舍，科以相當於一個工人半年工資的高額罰款。這種情形最可能發生於： (A) 荷蘭統治時期，因漢人人數較多，荷蘭人欲以連坐法威嚇 (B) 清朝統治時期，因財政短缺，欲以高額罰款彌補軍費不足 (C) 日本統治時期，為壓制臺民反抗政府，乃採行保甲連坐制 (D) 政府遷臺之後，為阻止共黨勢力蔓延，乃實施保甲連坐制 【103 學測題】

A. 未實施 B. 聯庄教化選民 C. 捲配警署 D. 保甲防諜 課以刑責而非罰金

12. (A) 幾位同學考察「臺灣考古遺址分布圖」時，發現臺灣西部海岸很少有新石器時代遺址，各人紛紛推測造成這個現象的原因，下列哪個說法最合理？ (A) 西部人口稠密，開發過速，遺址遭破壞殆盡 (B) 二次大戰時，美軍轟炸臺灣，遺址遭到破壞 (C) 西部海岸河口沙洲發達，史前人類活動困難 (D) 因斷層經過，地震頻繁，史前人類無法定居 【103 學測題】

B. 以都市軍事設施港口為主 C. 與遺跡形成無關 D. 未造成此現象

13. (A) 日本統治臺灣初期，總督府認為男性留辮、女性纏足都為陋習，企圖禁止，但成效不彰。然而一段時間後，臺灣人民卻開始剪辮、放足，成為風潮。殖民官員檢討，認為這股風潮並非總督府的政策收效，而是受到其他因素影響。這位官員所指的因素最可能是： (A) 辛亥革命推翻滿清政權 (B) 威爾遜提倡的民族自決 (C) 蔣中正推動新生活運動 (D) 七七事變引發中日戰爭 【103 學測題】

A 1911 B. 1918 C. 1934 D. 1937
1900 台北紳士提倡放足 → 1914 各地成立風俗改良會 → 1915 日本明令禁止纏足留辮

14. (A) 某一時期中，一位政治人物表示：臺灣經濟仍以農業為主，農民占人口總數 60% 以上，而佃農戶約占總農戶總額的 68.8%。如想要社會安定，經濟發展，必須實施此項新政策。此項新政策應是： (A) 三七五減租 (B) 漲價歸公 (C) 土地國有 (D) 肥料換穀 【103 學測題】

A. 設定地租上限 穩定農村秩序 孫文「平均地權」理想 以農業培養工業 未實施

15. (B) 十八世紀中，閩南移民來臺後，多聚族而居；同姓之人，常共同興建祠堂，以強化關係。這種現象足以說明清代臺灣漢人社會的哪一項特色？ (A) 移墾社會重視地緣關係 (B) 傳統宗族強調血緣連結 (C) 弱勢移民強調團結合作 (D) 原鄉信仰深入移民社會 【103 學測題】

移民以祭祀同姓祖先(血緣)來凝聚向心力 C 閩南移民非弱勢 D 原鄉信仰與同姓宗祠無弱 唐山祖 → 附台祖(重血緣連結)

16. (D) 一份民間刊物針對臺灣當時的政治現況提出幾點呼籲，包括：政府應依據憲法行政、總統不可擴權、總統不應連選連任；政府應保障基本人權，反對國民黨一黨專政，要求政府應當准許成立其他政黨；以及軍隊國家化。這份刊物最可能是： (A) 1910 年代的《新青年》 (B) 1920 年代的《臺灣青年》 (C) 1920 年代的《臺灣民報》 (D) 1950 年代的《自由中國》 【103 學測題】

A. 陳獨秀 新文化運動 D 雷震：不滿蔣中正又連任總統 B.C. 日治時期雜誌 表達白人政治訴求 (A.B.C 皆為日治時期)

17. (C) 瑞芳的金瓜石曾有座戰俘營，關押了一千多名來自英、美、加拿大等國的戰俘，被迫採掘銅礦。因為生活與工作條件都差，醫藥又不足，不少戰俘命喪於此。這些戰俘的來源應是： (A) 1860 年英法聯軍之役中被俘虜的官兵 (B) 1914 年日本與德國開戰時俘虜的戰俘 (C) 1942 年日本在東南亞戰區俘虜的戰俘 (D) 1972 年越戰期間臺灣收容的各國戰俘 【103 學測題】

A. 無美加軍隊 (加拿大 1931 獨立) C 太平洋戰爭期間 (日 vs 英美) B. 一戰 日與英同陣營 此時美未參戰 (加未獨立) D 台與美同陣營

18. (B) 一位官員上奏朝廷：「水師提督一職至關重要。賊眾已經無法在陸路造成影響，如果水師戰勝，則賊眾自然敗走臺灣。如果水師不勝，則賊眾仍將盤據廈門。若要想與賊眾決一死戰，必須倚賴水師提督。」這個奏摺的背景是： (A) 明末官員要驅逐在東南沿海的倭寇 (B) 清初官員要驅逐鄭成功的殘存軍隊 (C) 清末官員希望驅逐廣東的英國商人 (D) 甲午戰爭時官員要驅趕進犯的日軍 【104 學測題】

→ 賊眾原在陸地作戰 目前敗退廈門 有可能敗走台灣 → 鄭成功 A. 水師提督(清代官職) 倭寇不一定退守台灣 C.D 清軍處於劣勢

19. (B) 1620 年代，荷蘭西印度公司在今紐約市曼哈頓島上建立一座城堡，以保護移民與商人。同一時期，荷蘭東印度公司亦在臺灣建立城堡，作為貿易據點。荷蘭人在曼哈頓與臺灣建立據點的動機之一，是蒐購這兩個地方都出產的一種商品，以供歐洲市場之需。這種商品是： (A) 香料 (B) 獸皮 (C) 棉布 (D) 蔗糖 【104 學測題】

東亞 自北美 北美 台灣 中南美 鹿皮 毛皮

20. (A) 清中葉時，一位臺灣官員指出：臺灣科舉考試常有出人意料的狀況，例如政府公告考期之後，往往有福建漳、泉兩府的考生渡海來臺，報名參加考試。這些考生趕往臺灣報名應試的動機是： (A) 臺灣設有保障名額，較易中舉 (B) 臺灣考官腐敗，較易賄賂舞弊 (C) 在臺灣任官，薪水較內地優渥 (D) 臺灣物價較廉，來臺花費較低 【104 學測題】

A 設有「台」字號 特別錄取 B 考場在福建 與台灣官員無弱 C 迴避本籍下 不會在白任官 D 台灣日用品來自中國 較貴

21. (C) 官方調查指出：近來有農民因經濟困難或希望獲取高利，乃用訂立假借據的方式，以借款抵押名義，將政府放領的土地轉售給其他地主；更有人私自將耕地改建成店面，出租牟利，這種行為大大影響政府政策的效果。官方調查所指的政策應是：(A) 減四留六 (B) 三七五減租 (C) 耕者有其田 (D) 發展精緻農業 【104 學測題】

與土地政策無關
1953年為避免租佃關係，讓中共有機可趁，故限制地主保留旱田六甲，餘由政府徵收。

22. (D) 臺灣總督府發布命令，強制收購輸出的蓬萊米，收購價格比市場價格低一、二成左右，但又高於島內主要消費米的在來米價。這道命令的主要目的是 (A) 維護臺灣人食用在來米的文化傳統 (B) 官方訂定價格，維護臺灣農民權益 (C) 增加稻米輸出，確保總督府的收入 (D) 管控輸往日本的稻米數量以及價格 【105 學測題】

1. 低價收購，賺取價差。2. 高於在來米，確保輸出

23. (A) 民國 50 年代，中華民國政府開始推動「外交下鄉，農業出洋」的國際合作計畫，邀請非洲友邦領袖來臺參訪農村，也派出農業專家與援外技術團隊到非洲。這個計畫的主要目的是 (A) 爭取非洲國家支持中華民國在聯合國的席位 (B) 開發當地天然資源，供應中華民國所需原料 (C) 輸出民主制度，促進非洲當地政治的現代化 (D) 推廣中華民國成功經驗，體現儒家學說價值 【105 學測題】

民國 50 年代 (1960 年代) 非洲獨立年，非洲新興國家相繼獨立。

24. (B) 歷史記載：「金娘，下淡水番婦，習符咒，為人治病。大軍攻鳳山時，聘請她為軍師。臨陣作戰時，要她唸符咒，祈求神佑。」後來大軍攻破鳳山城，大家都說金娘立了大功，被封為「一品柱國夫人」。金娘後遭生擒，送往北京。金娘參與的是 (A) 鄭成功抗清 (B) 林爽文事件 (C) 乙未抗日軍 (D) 二二八事件 【105 學測題】

下淡水 = 屏東
A. 鄭成功僅在鳳山屯墾
B. 林爽文由台中一帶向南攻入鳳山

25. (D) 某國一位國會議員批評某次軍事行動，認為當初遠東軍司令部表示：只要派幾艘軍艦在海面行駛，中國就會退兵。現在我們派了這麼多軍艦前往中國，也不見中國退兵。司令部還說，如果能占領臺灣，中國必定派人求和，現在我們也攻打臺灣，還沒有聽說中國有求和的意思。這場戰爭的軍費，就讓遠東軍自行負擔，國會不應當為這次軍事行動付錢。該國國會議員所提的軍事行動是 (A) 1840 年鴉片戰爭 (B) 1856 年英法聯軍 (C) 1874 年牡丹社事件 (D) 1884 年中法戰爭 【105 學測題】

中法戰爭
A. B. 中國處於劣勢
C. 中國未派兵參與

26. (A) 一個經濟發展程度較高的國家常會利用各種手段，將其鄰近地區的經濟生產內容導引至為其提供廉價原料和勞動力的方向。以下在 1930 年代發生的幾個事件中，何者最足以說明這種經濟發展模式？ (A) 臺灣總督府推動臺灣工業化，建立工業 (B) 甘地反對食鹽公賣制度，號召自行曬鹽 (C) 中國與列強交涉，關稅自主，裁撤釐金 (D) 羅斯福推動新政，發展公共事業及農業 【105 學測題】

A. 工業，台灣，農業，南洋 → 台灣配合日本的南進政策
B. C. D 皆無，提供廉價原料及勞工

27. (C) 一位美國空軍人員回憶：某處基地駐紮了各型新式戰機，都是循著軍售管道或從我國的軍事顧問團獲得。這些戰機停滿了機場待命區，隨時準備升空，迎擊入侵的敵機。這個場景應當是：(A) 1938 年重慶 (B) 1944 年上海 (C) 1970 年臺中 (D) 1995 年臺南 【106 學測題】

美尚未參戰 日本領地 1951~1978 韓戰 斷交前 已斷交
1941 才加入 美軍派駐台灣

1858 開港 → 刪 B. C 開始聘用外國顧問

28. (A) 一位淡水海關稅務官員的報告中提到：臺北盆地修築了城牆，也蓋了新的衙門，又透過丹麥電氣工程師的協助，衙門裡裝設了電燈，各主要街道也架起了電燈。判斷這份報告在 1880 年代的主要依據是：(A) 修城牆、電燈 (B) 海關、外國顧問 (C) 新衙門、海關 (D) 外國顧問、街道 【106 學測題】

1894 牡丹社事件，設台北府(新衙門) → 1882 台北修城牆 → 1884 台北城裝電燈

29. (D) 1920 年代，一位人士在法院受審時的答辯書中指出：製糖會社極盡榨取蔗農們的膏血，以致農民赤貧如洗；會社中的勞動者，一日勞動的報酬，不能維持家計，其慘澹的生活，令時常日擊的我，感到無限傷心，為此決定加入組織奮鬥。文中這位人士所提到的問題最主要是：(A) 家庭的崩潰 (B) 司法的迫害 (C) 族群的矛盾 (D) 經濟的剝削 【106 學測題】

題出巨簡吉「台灣農民組合」
遭總督府查禁後的答辯
李應章「二林事件」
v.s. 林本源株式會社

30. (A) 附表是 1951 年到 1961 年間臺灣農戶數百分比的統計表格，我們如何理解這段期間臺灣農戶資料的變化？

時間	自耕農	半自耕農	佃農
1951	38	25	37
1953	55	24	21
1955	59	23	18
1957	60	23	17
1959	62	23	15
1961	65	21	14

→ 公地放領
→ 耕者有其田

(A) 實施耕者有其田政策的成果 (B) 工業發展，使半自耕農減少 (C) 肥料價格上漲，自耕農棄耕 (D) 政府不斷鼓勵佃農放棄農業 【106 學測題】

B. C. D 無法解釋
自耕農為何增加
肥料換穀，以農業培養工業
農業人口減少

31. (B) 某一時期，政府為了吸收民間存款，特別制定〈臺灣省各行庫舉辦優利儲蓄存款辦法〉，規定每次存入金額不得低於新臺幣 300 元，存期不得少於 1 個月，利率為月息 7 分（即每百元每月 7 元，年利率為 84%，按複利折合年率為 125.08%）。這個政策實施之後，儲蓄風氣盛行，物價上漲的速度立刻減緩。這種政策的背景是：(A) 1946 年，政府因國共內戰需軍費，以高利率吸收民間存款 (B) 1950 年，政府積極壓抑通貨膨脹，建立民眾對新臺幣信心 (C) 1951 年，政府籌募公地放領的經費，高利率吸引民間資金 (D) 1971 年，政府陸續推動大型交通建設，急需民間資金挹注 【106 學測題】

A. 國共內戰，通膨嚴重 C 公地放領，釋放官有農地，向外國低利貸款，發行公債 D. 十大建設

32. (B) 東北亞地區發生衝突之際，一位美國官員建議其政府，應當採取具體措施援助臺灣。他指出：「保護臺灣人民利益及維護太平洋地區和平與安全的計畫，如果僅由聯合國推動，不可能有任何效果。只能由美國提這種方案，才會符合各方期待而且有效。」此人說話的時機最可能是：(A) 1947 年，臺灣發生動亂，美國計畫穩定臺灣局勢 (B) 1951 年韓戰爆發之後，美國決定強化其東亞政策 (C) 1971 年我退出聯合國時，美國努力安定臺灣民心 (D) 1978 年底中美斷交時，美國要保障其在臺灣利益 【107 學測題】

A. C. D 與東北亞無關
→ 韓戰爆發後，美派 No. 7 艦隊協防白海，維持白海中立化原則 (No. 1 島鍊)

33. (C) 某一國際會議召開時，中華民國政府指出：會議摒除我國於會議之外，此為我國之辱。中華人民共和國當局也對該會議提出抗議，指出該會議背棄國際義務，中國不予承認。該國際會議指的是：(A) 1945 年雅爾達會議 (B) 1946 年聯合國第一次大會 (C) 1951 年舊金山和會 (D) 1955 年的第一次亞非會議 【107 學測題】

1949 建國 → 刪 A. B.
萬隆會議「第三世界」
C 討論對日和約的問題
→ 美支持中華民國 → 決議
英支持中共 → 兩岸皆不出席
→ 對台主權未定論

34. (D)附表為臺灣自民國 55 年到 60 年某項資料。這項資料最可能是：

年代(民國)	%
55年	58.95
56年	62.29
57年	74.66
58年	76.04
59年	79.81
60年	81.39

3.34
12.37
1.38
3.97
1.58

A. 1950年代，以農業培養工業，農↓
1960年代，設加工出口區

B. 1970年代，十大建設(核電)，電力才↑

C. 美援 1950~1965 = 米飯作為主食 (民54)

(A)農業生產占全國生產總值的比例 (B)農村地區電力照明設備的普及率 (C)美援麵粉成為國民主食的普及率 (D)小學畢業生進入初(國)中的比例 【108 學測題】

民57 (1968) <九年國民教育實施條例>

35. (D)一件史料記載：淡水廳某士紳因與佃農發生糾紛，乃強制將佃農耕種的田地收回，另行轉租給別的佃農耕種，以致激起民間鬥殺；該士紳還招募壯勇四出焚搶。朝廷認為該士紳為富不仁，目無法紀，下令閩浙總督將該士紳革職逮捕，押解到省城嚴行審辦。該史料記載的事件最可能是：(A)民眾發動反清復明的民變 (B)天地會領袖發動抗清行動 (C)客家居民組成的抗日行動 (D)地方人士參與的分類械鬥 【108 學測題】

清代 刪 C

→ 民間，因經濟利益的械鬥 → D. A、B 為抗官的民變

36. (C)下列哪些臺灣鄉鎮市區級地名的變遷，最能反映解嚴後政府及社會對多元族群及其文化的尊重態度？(甲)吉野→吉安；(乙)三民→那瑪夏；(丙)番社→東山；(丁)吳鳳→阿里山；(戊)紅毛→新豐。(A)甲乙 (B)甲丙 (C)乙丁 (D)丁戊 【108 學測題】

甲. 去日本化, 乙 原住民認同意識, 丁 吳鳳神化的反思, 戊 不雅

37. (A)十七世紀時，亞洲水域的遠東航路上，一艘帆船從公司總部所在的港口出發，船上載滿胡椒、檀香木、乳香、象牙、犀角等商品。抵達「甲」港後，卸下部分商品，並購買當地生產的鹿皮、鹿脯、砂糖等貨物裝船，繼續航行至日本。在日本把貨物賣掉，換取白銀；返航行程中至廈門購買絲綢和瓷器。請問：依據題文資訊，「甲」港的今名最可能是下列何者？(A)安平 (B)馬尼拉 (C)麻六甲 (D)雅加達 【108 學測題】

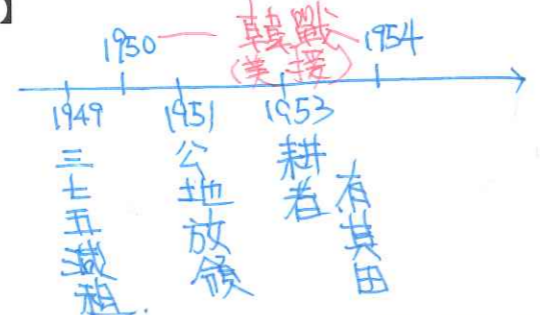
日本 = 1633-1854 鎖國
僅與中荷貿易 → 刪 B

38. (D)相同的時代烙印往往造就了一個歷史世代，例如稱二次大戰結束後不久出生的人為「嬰兒潮世代」，又如稱民國五〇年代出生的人為「五年級」。學者研究 1920 到 1930 年間出生的臺灣囡仔，他們在成長期間接受國家提供的軍國教育，而「玉碎」(全滅)、「散華」(陣亡)、「若櫻」(年輕軍人)、「赤紙」(召集令)等詞彙更成為他們共同的詞語。根據這些共同的詞彙及其成長年代，最能貼切反映這個世代的稱呼是 (A)現代化世代 (B)工業化世代 (C)反傳統世代 (D)戰爭期世代 【109 學測題】

成年: 1937~1945

39. (A)學者評論戰後臺灣三七五減租，認為：推動減租並非只是時任臺灣省主席陳誠施政理念的落實。由於三七五減租是在中美聯合機構—中國農村復興聯合委員會的協助下展開，所以它也可視為是美國在東亞，從日本、韓國到菲律賓，推動的一連串土地改革之一環。亦即，土地改革是特定條件下推動的政策，其政治性超越經濟性。就此評論來看，這位學者所強調的三七五減租之目的最可能是 (A)防堵共產勢力擴張 (B)創造土地最大效益 (C)改善臺灣產業結構 (D)避免資本主義盛行 【109 學測題】

農復會 (美國人)
韓戰期間權力 > 政府



40. (C)清廷治臺二百多年期間，多次調整臺灣地方行政區劃，其最主要的考量依據是：(A)根據自然地理的形勢，分區管理 (B)根據交通線的延伸，作線狀開發 (C)因應民變，考量治安，置縣設廳 (D)隨漢人開發，設廳以保障原住民 【110 學測題】

康熙：一府三縣 → 雍正：一府四縣二廳 → 嘉慶：一府四縣三廳
(彰化、淡水) 海邊 噶瑪蘭

41. (C)1949 年 10 月，共軍集中船隻對金門發動攻擊，遭守軍擊退。1950 年 3 月，共軍又集結大批兵力，用類似「萬船齊放戰術」進攻海南島，迫使當地國軍撤守；5 月底更攻占廣東萬山群島。共軍原本預定隨後再度對金門發動攻擊，但沒有多久就取消這項計畫。最可能的原因是：(A)共軍軍備及船隻有限，已經無法再負擔長期作戰 (B)共軍顧忌金門兵力強大，寧可保持戰果故而避戰 (C)韓戰爆發，美國宣布派遣第七艦隊協助臺灣防務 (D)臺灣實施戒嚴，共軍乃轉以心戰策略來瓦解國軍 【110 學測題】

1950年6月韓戰，中共發起「抗美援朝」響應

D. 1949年5月戒嚴，時間不符

42. (D)自 1943 年 5 月至 1944 年 7 月間，日本帝國與臺灣總督府動員並組織超過兩萬名的臺灣青年，派遣至新幾內亞、菲律賓和印尼等地，擔任各種任務。這些臺灣青年最可能是：(A)擔任突襲戰鬥任務的神風特攻隊 (B)擔任戰鬥任務的臺灣特別志願兵 (C)擔任軍機組裝工作的臺灣少年工 (D)擔任軍供軍屬的臺灣特設勤勞團 【110 學測題】

A. 日本人為主, B. 1942~1945, 但人數未達兩萬

C 前往日本, 而非南洋, 人數約 8000

43. (C)一位學者提到：過去歷史研究的主體，往往偏重於統治者的歷史，比較忽略人民的歷史，其實，人民才是我們應該關心的主體。下列哪個主題最接近這位學者主張的研究方向？(A)鄭氏王朝在臺的屯田政策 (B)清代臺灣職官制度的演變 (C)清代臺灣沿海的王爺信仰 (D)日本在臺殖民體制的建立 【111 學測題】

A. 屯田, B 職官(文武百官) D 殖民 → 統治者角度, 管理瘟疫之神

C 信仰 → 民間角度

44. (A)某校歷史課程進行「歷史考察」學習時，要求同學事先蒐集族譜、臺灣總督府旅券(護照)、同鄉會名簿等史料，並進入內政部網站閱讀人口和戶口調查資料。該「歷史考察」的主題最可能是：(A)人群的移動與交流 (B)國家的建立與形塑 (C)文化的類型與變遷 (D)宗教的起源與傳播 【111 學測題】

族譜 = 來自哪裡

目前族群組成結構

旅券 = 海外移動

45. (C)一份資料提到：1933 年的雙十國慶酒會選在臺北的鐵道旅館舉辦，出席的貴賓有美國、義大利駐臺領事及臺灣總督府高級長官。會場懸掛中華民國國旗，慶典中除演奏中華民國國歌外，還高呼「中華民國萬歲」。這段資料如何解讀最合理？(A)當時滿洲國成立不久，日本乃邀請滿洲國官員來臺舉辦慶祝雙十國慶活動 (B)當時中日兩國的關係親密和善，臺灣總督府乃主動舉辦慶祝雙十國慶酒會 (C)當時來臺的中國僑民日多，國府已在臺北設立領事館，故能舉辦國慶活動 (D)當時的臺灣總督府正在進行皇民化政策，故舉辦雙十酒會來籠絡臺灣人民 【111 學測題】

A. 1932 成立的滿洲國, 與中華民國無關, 不會慶祝雙十


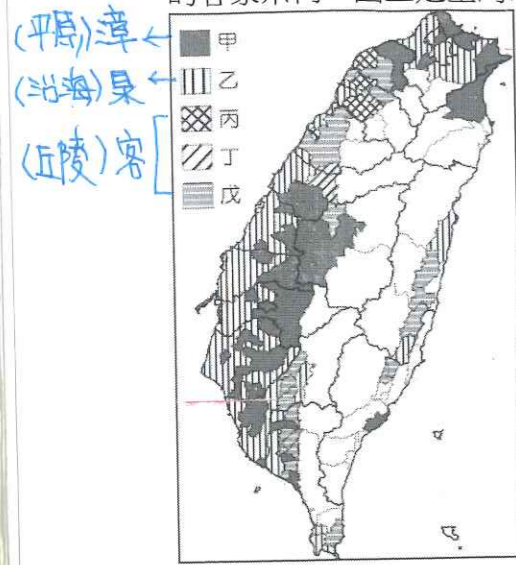
B 1931 九一八事變後, 中日關係緊張, 日方不會主動慶祝雙十

D 皇民化(1936)時間不符

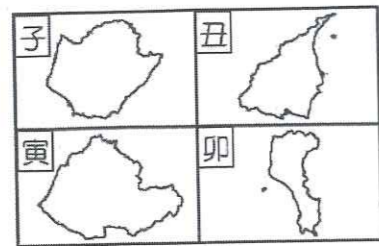
1931 因來台僑民請願而在台北設中華民國領事館, ~ 1938 撤離

二、題組：

1. ①明清之際，移民臺灣的漢人多來自漳州、泉州、嘉應州、潮州和惠州等地區。圖一是根據 1926 年《臺灣在籍漢民族鄉貫別調查》的資料，以街、庄為單位繪製的「祖籍優佔區」分布圖。祖籍優佔區係指某一祖籍人口佔該地總人口比例最高的地區。圖二是某畫家的水彩畫作，主題為椰林圍繞的客家宗祠，圖三是臺灣四個縣市的輪廓圖。請問：



圖二



圖三

王爺信仰：燒王船(象徵驅除瘟疫)
→瘟疫流行於西部沿海
濕熱地區


- (A)(1) 圖一中哪個圖例，最可能代表漳州人的優佔區？ (A)甲 (B)乙 (C)丙 (D)丁
(B)(2) 清代某地方志對民間王爺信仰有如下記載：「各坊里社廟，以王公大人稱者甚夥… 廟宇大小不一，神像俱雄而毅；…王誕之辰，設王醮二三晝夜，謂之送瘟。造木為船，糊紙像三儀仗…告牒畢，乃奉各紙像置船中…推船入水順流揚帆而去則已。」該王爺信仰在哪祖籍優佔區最為普遍？ (A)甲 (B)乙 (C)丙 (D)丁
(D)(3) 圖二畫作內容展現的地景，在圖三中哪個行政區最為常見？ (A)子 (B)丑 (C)寅 (D)卯
【107 學測題】 [地理]

2. 照片甲是臺灣某地公廨改建的「太上龍頭忠義廟」；照片乙是該廟的內部。祭壇供桌上有香爐、供花、長年燈和五個包裹紅色綢布的祀壺等，兩側還有稱為向缸的大水缸。請問：



- (B)(1) 「祭壇供桌上的祀壺和兩側的向缸」，和下列何者關係最密切？ (A)客家移民崇祀三山國王 (B)平埔族群信仰的阿立祖 (C)科舉考生祭拜文昌帝君 (D)沿海漁村供奉媽祖娘娘
(C)(2) 照片所示的祭祀場所，在下列哪個區域為數最多？ (A)北部區域 (B)中部區域 (C)南部區域 (D)東部區域 【107 學測題】

3. 臺灣各地聚落廟宇甚多，規模不一，其門柱均附有對聯，揭示廟宇地點、主祀神及價值規範等相關訊息。照片是四個不同聚落廟宇的立面照，照片下方是該廟大門兩側門柱的對聯，其中照片甲對聯中「鯤鵬」是「傳說中奇大無比的神鳥」；照片乙對聯中「鯤瀛」是「海邊的新家園」之意。請問：



- (D)(1) 哪座廟宇的所在地，早期血緣聚落色彩最為濃厚？ (A)甲 (B)乙 (C)丙 (D)丁
(B)(2) 從廟宇的主祀神判斷，哪座廟宇所在聚落的清代漢移民，主要來自福建漳州府？ (A)甲 (B)乙 (C)丙 (D)丁
(A)(3) 歷史傳統上常常將國家概念與王權或天下連結，並強調人民對國家的義務。下列四座廟宇中，哪座廟宇的門柱對聯最能顯示此種傳統的國家與人民關係？ (A)甲 (B)乙 (C)丙 (D)丁
【108 學測題】 「忠」、「王」、「林」

4. 史料記載：某年 1 月 11 日，駐守臺灣的長官率領 353 人分乘 3 艘戎克船從位於臺灣南部的政治中心出征。船隻沿海岸向南航行時，兩艘船隻觸礁，損失一些食物。軍隊乃在島嶼西岸下船整補，從陸路越過山脈到島嶼東岸。在東岸某村社整補兩天後，沿海岸線北上，攻擊山區另一村社，達成出征目的後才撤軍，並再度越過山脈返回島嶼西岸。軍隊在海邊某村社露宿時，曾受當地社民以米飯、豬肉和雞肉款待。請問：

- (A)(1) 根據題文資訊及歷史知識推論，該史料最可能描述的是： (A)荷人至東臺灣探金與原住民引發衝突 (B)明鄭時期屯墾時和大肚王國發生衝突 (C)清福建水師提督到東部追擊海盜蔡牽 (D)日本警察與阿美族衝突的七腳川事件
(A)(2) 從史料內容可看出當時「村社」社會的哪一特徵？ (A)某些村社應已經發展出稻作農業 (B)部分村社間已建立軍事同盟組織 (C)不同村社間已有穩定的貿易關係 (D)村社的土地制度屬於部落共有制 【108 學測題】

(1) 題幹方向：A ← B ↑ C ↘ 方向不符，D 日治已用輪船。
(2) B.C.D 皆無法從文章中看出。

5. 十七世紀時，亞洲水域的遠東航路上，一艘帆船從公司總部所在的港口出發，船上載滿胡椒、檀香木、乳香、象牙、犀角等商品。抵達「甲」港後，卸下部分商品，並購買當地生產的鹿皮、鹿脯、砂糖等貨物裝船，繼續航行至日本。在日本把貨物賣掉，換取白銀；返航行程中，至廈門購買絲綢和瓷器。請問：

(A)(1) 依據題文資訊，「甲」港的今名最可能是下列何者？ (A)安平 (B)馬尼拉 (C)麻六甲 (D)雅加達

(D)(2) 關於題文中三地貿易的敘述以下何者正確？ (A)日本的絲綢市場價格低於廈門 (B)廈門在生產砂糖上具有比較利益 (C)廈門生產鹿肉的機會成本較低 (D)日本鹿皮市場的消費者剩餘增加 【108 學測題】

6. 出生在南投的詩人陳千武，在二次大戰期間曾以「志願兵」的身分參與戰事；這段經歷成為他創作〈信鴿〉一詩的靈感。此詩的最後一段寫道：
我回到了，祖國／我才想起／我底死，我忘記帶了回來／埋設在南洋島嶼的那唯一的我底死啊／我想總有一天／一定會像信鴿那樣／帶回一些南方的消息飛來。
根據上述內容，請問：

(D)(1) 陳千武在參與戰爭時，最可能遭遇過下列哪種經歷？ (A)持續橫越高山相間的縱谷，勇渡河水，無懼奔流入海的長河 (B)無畏不斷吹襲而來的黃沙，頂風前行，不管是綠洲還是蜃樓 (C)緊盯草原深處的覓食獅群，匍匐前進，緊握槍枝並眼觀四方 (D)穿越一片茂密的熱帶雨林，披荊斬棘，開闢出一條林間小徑

(B)(2) 關於當時臺籍「志願兵」的討論，下列何者正確？ (A)在志願兵實施以前，臺灣人即有服役的義務 (B)志願兵是皇民化運動中，戰爭動員的一種方式 (C)志願兵沒有條件限制，只要願意為國犧牲即可 (D)考量地緣及民族因素，志願兵大多被派往華北

【109 學測題】

A. 志願兵前為軍夫 C. 條件嚴格

7. 資料一：屏東種植紅豆的農民，過去為避免鳥害造成農損，會利用毒餌造成小型鳥類死亡，進而導致檢食的老鷹跟著中毒。近來因維護生態環境，農夫改變耕作方式，在播種期不毒鳥、採收時不用落葉劑，以新創農業的方式建立「老鷹紅豆」品牌以及產銷履歷。雖然生產紅豆的成本上升，但有效提升消費者對產品的評價，使市場銷售價格與數量都大幅提升。老鷹紅豆的製作地區主要在屏東東港和萬丹一帶。

資料二：萬丹聚落形成於明末，曾在清代民變中扮演重要角色，朱一貴事件時，粵籍義民即在「萬丹社」的上帝廟誓師起義。「社」在清代一般是指「熟番」村落，但並非自古如此。例如，鄭氏時期，主政者推行屯田，就曾用「社」作為屯墾村落之名；當時的軍備圖則分別以「番社」和「民社」來標示「番」、「漢」聚落。在清朝治臺初期的地圖中，即有「後勁社」、「左營社」等和「熟番」無關的村落名，「萬丹社」也是如此。根據上述兩則資料，請問：

(C)(1) 我們一般認為「社」是指「熟番」村落，但萬丹「社」的出現，顯然提供了另一種看法。就題文來看，萬丹社的例子最適合從下列哪一歷史脈絡來解讀？ (A)粵民開發與熟番地權的關係 (B)義民形象被塑造的演變過程 (C)鄭氏在當地開發的歷史痕跡 (D)民間信仰與地名命名之關聯 【109 學測題】

A. 萬丹「社」與熟番無關 B. 義民信仰源自林爽文事件 D. 與民間信仰無關

8. 十九世紀前期，張三從寧波來艋舺採購樟腦，計畫運回浙江、上海銷售，同時也運來綢緞、布帛等貨品來臺銷售。請問：

(B)(1) 張三最可能委託下列哪個組織運送這批貨物？

(A)東印度公司 (B)北郊 (C)怡和洋行 (D)三井會社 【109 學測題】

清開港前

9. 1938 年，臺灣總督府發起「寺廟整理運動」，拆毀媽祖廟等不同廟宇，還禁止媽祖遶境活動，但臺灣民間對媽祖信仰並未動搖。二次大戰結束後，眾人重建被毀的媽祖廟，也開始恢復遶境活動，其中以大甲媽祖遶境最負盛名。近年來，政府積極投入資源，結合在地力量，讓更多人了解媽祖遶境文化全貌，並與觀光活動結合，吸引遊客前來體驗。遊客常沿途拍照留念，不過若要區分照片分別在哪个行政區內拍攝，需要先取得這些行政區的面資料，並將照片內隱含的拍攝位置資訊轉換成 GIS 的經緯度坐標的點資料後，透過 GIS 分析步驟，才能將所有照片有效區分。請問：

(B)(1) 總督府發起「寺廟整理運動」最主要的動機是： (A)要積極破除迷信 (B)推動皇民化運動 (C)要廣設國民學校 (D)改建為軍事基地 【110 學測題】

國語、改姓名
寺廟整理
正廳改善

10. 研究指出：臺灣客籍居民主要從閩粵內陸的丘陵、盆地和河谷平原區移來，分布於北部和南部的丘陵、台地或近山平原地帶，空間分布有向內陸集中的趨勢。行政院客家委員會自 2002 年起，每年 4、5 月間在部分客籍居民分布區辦理「客家桐花祭」活動，由「中央籌劃、企業加盟、地方執行、社區營造」的公私協力夥伴關係，達到一定的政策成效，不僅為客庄地區帶來經濟效益，也強化客家族群的在地認同。請問：

(A)(1) 依上文判斷，清代臺灣客籍居民空間分布有向內陸集中的趨勢，和下列何者的關係最密切？ (A)原鄉生活方式 (B)分類械鬥結果 (C)水圳設施分布 (D)保甲制度影響

(B)(2) 文中客委會辦理的「客家桐花祭」活動最可能是下列何種概念的具體實踐？ (A)地方自治 (B)地方治理 (C)地方分權化 (D)全球在地化 【110 學測題】

【公民】

(臨時)

11. 下列是臺灣的四個地名：(甲)臺北市「萬華」；(乙)花蓮縣「光復」；(丙)高雄市「左營」；(丁)宜蘭縣「五結」。請問：

(C)(1) 地名有時也帶有時代的特徵，上述引號之地名在歷史上出現的先後順序是： (A)甲乙丙丁 (B)乙丙甲丁 (C)丙丁甲乙 (D)丁甲丙乙 【110 學測題】

12. 許多國家可能基於某些理由查禁流行歌曲。以臺灣為例，1930 年代開始流行以福佬系民謠為創作題材，當時西門町與大稻埕有許多收費不低的音樂廳，傳唱這些歌謠。但部分歌謠後來遭政府以過於寫實、動搖民心為由，予以查禁。1950 年代左右，行政院依據《戒嚴法》訂定《臺灣省戒嚴期間新聞雜誌圖書管理辦法》，開始管制流行文化，主要由警備總司令部執行歌曲查禁。如披頭四樂團演唱之〈革命〉便因「內容欠妥，混淆視聽，危害社會治安」遭禁。至 1970 年代，查禁業務改由新聞局負責，據統計，當時約有六分之一的歌曲因未通過審查而禁唱。到了 1980 年代，絕大多數歌曲都通過審查，禁唱歌曲大幅減少。面對審查制度，音樂人仍勇於透過流行樂曲批判現狀。曾有外國歌手唱道：「這最好的年代，所以人民不需要自由」而遭到禁播。有樂評指出，該歌詞字面上說政府讓經濟成長率翻升，表示統治萬能，所以人民也就不需要自由，但實際是諷刺該政府，試圖以經濟成果遮掩其威權統治事實。像這類具批判性的樂曲，多屬非主流文化，常被忽視；但也有作品廣受歡迎，甚至在特定時期帶動反叛精神。請問：

(C)(1) 某一時期，出現以流行音樂表達對現狀的不滿，甚至帶動一個充滿反抗、叛逆、迷惘的時代精神，促使社會上形成一股改變的風潮。下列何者最符合此種情形？ (A)1910 年代，運用民間歌謠批判通俗文化 (B)1940 年代，以臺語歌謠抗議太平洋戰爭 (C)1960 年代，以搖滾樂曲推動反越戰運動 (D)1990 年代，運用國語歌曲表達反共立場 【110 學測題】

A、D 與史實不符

B. 皇民化時期

不會以白語公然抗議

1950 年 現代主義
美援傳入

開港前


13. 同學在進行歷史專題報告時，蒐集到一份 1830 年代北臺灣的史料，指出：「淡（水）廳貨之大者，莫如油、米，次（其次）麻、豆，次（其次）糖、菁（染料），至茄藤、通草之屬，多出於內山，樟腦、茶葉惟淡北內港始有之。商人雇船裝載，擇內地可售之處，本省則運至漳、泉、福州，往北則運至寧波、上海，往南則運至澳門等處。凡港路可通者，無不爭相貿易，取其所售之值，購買飲食、衣服及日用必需品等件，隨船載回發賣。」依據前述記載，請問：

- (D)(1) 該同學如要去考察最靠近樟腦和茶葉產地的地點，下列何地最適合？ (A)基隆(雞籠) (B)萬華(艋舺) (C)淡水(滬尾) (D)大溪(大嵙崁) 北部山區
- (D)(2) 上述史料最適合作為下列哪項推論的佐證？ (A)外國洋行已在臺灣設立並發展 (B)漢人和原住民族貿易相當熱絡 (C)農業和農產加工技術已很成熟 (D)兩岸物產可互補形成生產分工 【111 學測題】

1949

14. 臺灣曾於民國 38 年 5 月實施戒嚴。當時由警備總部公告的《戒嚴令》第二條規定：「自同日起，除基隆、高雄、馬公三港口在本部監護之下，仍予開放，並規定省內海上交通航線（辦法另行公布）外，其餘各港，一律封鎖，嚴禁出入。」第四條也列舉處以死刑的各項「擾亂治安」行為，包括：造謠惑眾、聚眾暴動、擾亂金融、搶奪財物、鼓動學潮、破壞交通通信、妨害公眾用水及電氣煤氣事業、持有槍彈或爆裂物等。該次戒嚴歷經 38 年，直至民國 76 年始依總統令解除（附圖）。請問：

- (A)(1) 若僅依照《戒嚴令》第二條規定的內容，下列哪兩地的交通航線仍有機會從事貨物運輸的往來？ (A)蘇澳—安平 (B)新竹—廈門 (C)臺中—香港 (D)花蓮—東京 (省內)
- (C)(2) 《戒嚴令》第二條規定最主要的目的應是： (A)禁止臺灣生產的米、糖外銷，以免發生糧荒 (B)切斷臺灣與前殖民母國日本之間的政治聯繫 (C)管制大陸地區軍民撤離來臺以穩定臺灣政情 (D)與美國共同協議以便執行圍堵共產主義政策 【國共內戰期間】



【111 學測題】

筆記區

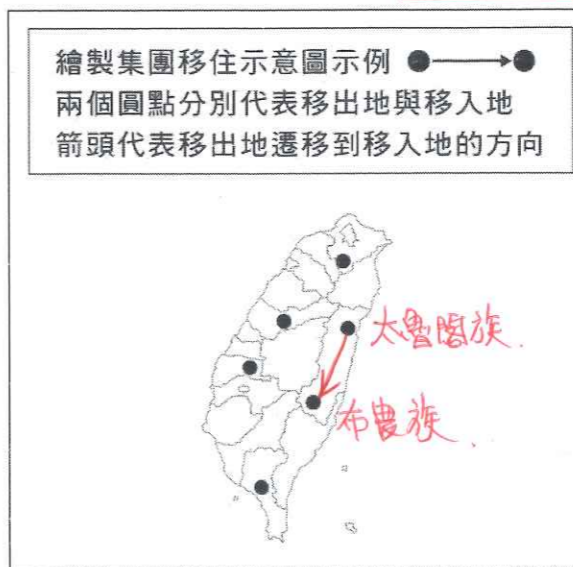
三、混合題：

1. 日治時期，臺灣總督府為開發山林資源，拓殖其經濟利益，初期認為山林中的「蕃人」是阻礙開發的「凶惡之徒」，不但不承認其傳統權益，甚至用武力征伐；後期又進行大規模「集團移住」計畫，迫使各原住民族部落離開其傳統生活空間，遷移到山腳地帶。部落間原有的往來因此被切斷，重新配置的部落也無法和其他部落建立合作關係，以致內部社會關係瓦解，達到總督府期待的可使原住民「舊來勢力關係中斷」。以立霧溪流域的太魯閣族群來說，集團移住的結果，不僅部落被撤離原居住地，且多數部落遭到分割，還有許多部落被嵌入布農族的傳統領域，造成賽德克族、太魯閣族及布農族混居的情況。請問：

- (1) (A) 當今哪項原住民族議題，和臺灣總督府推動的原住民族集團移住計畫關係最密切？ (A)傳統領域的劃設 (B)傳統姓名的回復 (C)正名運動的展開 (D)族語復振的推展
- (2) (D) 題文所述總督府的支配控制及治理措施，有些仍影響至今，包括現行有關原住民族權益的相關法制；但也有些已經因應國際人權觀念趨勢、多元文化發展而有所改變。下列政策何者最能凸顯這樣的改變？ (A)國家為國有林地所有權人，原住民得由政府機構許可取用森林資源 (B)將原住民立法委員的選舉，分為「山地」與「平地」原住民選舉區 (C)設立原住民保留地以保障原住民生計，並限制將土地轉予非原住民 (D)設有部落會議的原住民族部落，經核定後可取得公法人的主體地位 【公民】
- (3) 總督府推行集團移住期待「可使原住民『舊來勢力關係中斷』」，就此來看，總督府推行集團移住的主要目的為何？請在答題卷表格中勾選一項，並說明判斷的理由。（非選擇題，50 字內）

集團移住的主要目的 (勾選一項)	判斷理由 (50 字內)
<input checked="" type="checkbox"/> ①請勾選 <input type="checkbox"/> 切斷各部落過去的恩怨 <input type="checkbox"/> 以強制移民增加勞動力 <input checked="" type="checkbox"/> ②削減反抗總督府的力量 <input type="checkbox"/> 灌輸皇民思想以利徵召	部落之間原有的往來被切斷，重新配置的部落也無法和其他部落建立合作關係，以致原住民內部社會關係瓦解

- (4) 請在答題卷作答區繪出一組「連接線」與「箭頭」來代表從移出地地點遷移到移入地地點，作為文中說明「集團移住造成賽德克族、太魯閣族與布農族混居情況」的輔助地圖。（非選擇題）



【111 學測題】