

歷屆學測試題(世界史篇, 共 93 題)

2. 唐宋時期, 隨著南海貿易的興盛, 外國船隻停靠的貿易港也逐漸從廣州向北延伸到福建和長江流域。繼廣州之後, 泉州、明州(今寧波)也發展成大商港。外國商船將香料、珊瑚、瑪瑙、寶石、象牙、藥材等商品輸往中國, 並購買大量中國產品運回。請問:

- (D)(1) 唐宋時期從南海來華貿易的外國商人, 以下列何者為數最多? (A)印度人 (B)馬來人 (C)義大利人 (D)阿拉伯人 **大食**
- (D)(2) 外國商人從明州(今寧波)購買運回的主要商品為何? (A)蔗糖、樟腦 (B)樟腦、苧麻 (C)蔗糖、棉布 (D)瓷器、絲綢 **明**

【107 學測題】

3. 宋代立國之初, 強化中央集權並提倡文人政治。時人汪洙有〈神童詩〉云:「天子重英豪, 文章教爾曹; 萬般皆下品, 惟有讀書高; 滿朝朱紫貴, 盡是讀書人。」學者認為, 文人政治本為配合宋初的國家政策, 但因宋室後人墨守成規, 以致造成重文輕武的現象, 終至無法應付強鄰環伺的局面。請問:

- (B)(1) 下列哪個概念最接近題文〈神童詩〉所描述的讀書與讀書人從政之現象? (A)次文化 (B)文化位階 (C)社會資本 (D)政治參與 **[公民]**
- (A)(2) 宋初採行中央集權, 提倡文人政治的目的為何? (A)化解軍人勢力的威脅 (B)提高官僚集團的素質 (C)防止兵將帥間的猜忌 (D)節省國家軍費的支出

【109 學測題】

[同 P.24. 67 題]

4. 某一時期, 一艘駛向中國的外國船隻在冬天航行時, 遇上暴風, 漂流至中國東南沿海某地, 船中乘客獲救, 送往官府途中, 險被民眾毆殺。這位乘客懂漢字, 在與中國官員筆談後, 得知該地長期以來受到外國海盜侵擾, 村民誤認他是海盜, 所以群情激憤。這個區域除了經常有外國海盜騷擾外, 且因環境條件不佳, 謀生不易, 導致人口常往海外移出。請問:

- (C)(1) 題文中的這位乘客最可能是下列何者? (A)日本派到長安的遣唐使者 (B)元代到泉州的阿拉伯商人 (C)明代到中國遊歷的朝鮮士人 (D)清初到北京考試的越南士人
- (B)(2) 當地人口常往海外移出, 最可能與其具有下列哪項環境特色有關? (A)位處缺水區, 環境負載力不足 (B)山多平原少, 農業生產力較低 (C)多峽灣海岸, 外來船隻易停泊 (D)針葉林廣布, 造船材料較豐富

【109 學測題】

[地理]

三、混合題:

1. 西晉末年, 北方戰亂, 長安、洛陽二京傾覆, 山西、河北淪陷。面對時局的變動, 人民有不同的作法。學者指出, 中原士庶避難者約有兩途, 或入遼東, 或徙江左。入遼者, 接受慕容氏招撫; 過江和遷於淮漢流域者, 為數尤多, 遂創二百七十年偏安之局。其不克遷徙者, 則鳩合宗黨, 保聚險固, 自治自衛, 以圖苟免於胡人或寇賊之難。還有一種流人, 其背棄鄉貫, 轉徙他方, 與前者相似; 而憑堅乘險, 保守塢聚, 又與後者彷彿。請問: 【111 學測題】 **胡人在兩漢之際, 已多內遷中原。**

- (C)(1) 上述史事的時代背景, 應是: (A)遊牧民族避寒南侵 (B)匈奴勢盛南下牧馬 (C)內遷胡人舉兵起事 (D)蒙古鐵騎橫掃中原 **五胡亂華 → 永嘉之禍**

(2) 題文中的「前者」、「後者」, 他們面對時局變動的作法分別為何? 請在答題卷表格中依序作答, 並從二者擇一勾選何者形成當地政治文化勢力? (非選擇題, 每欄 35 字內)

	面對時局變動的作法 (各 35 字內)	擇一勾選
前者	① 入遼東, 徙江左 背棄鄉貫, 轉徙他方	③ 請勾選 [僑姓] <input checked="" type="checkbox"/> 前者: 形成當地政治文化勢力
後者	② 不克遷徙者, 鳩合宗黨 保聚險固, 自治自衛	<input type="checkbox"/> 後者: 形成當地政治文化勢力 [郡姓]

一、單一選擇題:

1. (C) 一個延續千餘年的大帝國, 以農業為立國基礎, 其首都是歐洲地區及地中海世界最大的政治、經濟和宗教中心, 控制歐洲和亞洲之間的貿易與文化往來。這個帝國是指: (A)亞述帝國 (B)阿拉斯帝國 (C)拜占庭帝國 (D)神聖羅馬帝國 【99 學測題】 **拜占庭**

巴格達 750-1258 君士坦丁堡 330-1453 維也納 962-1906

尼尼微 B.C.2025-612

2. (A) 附圖是 19 世紀末期歐洲某一族群向外移動的路線圖。這個民族原本來自外地, 移入後不斷受到外來干擾, 19 世紀起向外移動, 前往拉丁美洲與美國。也有人提倡移往巴勒斯坦, 希望建立自己的國家。這個民族是:



以色列王國 B.C.972 亞述

猶大王國 B.C.586 迦德底亞

[巴比倫之囚]

離散 → 1948 建國

- (A) 猶太人 (B) 德意志人 (C) 土耳其人 (D) 斯拉夫人 【99 學測題】

3. (B) 一位學者認為: 政府與人民間原有契約關係, 政府應當保障人民的生命、自由和財產, 才能獲得人民的認可, 其統治才有正當性。如果政府不能善盡其義務, 人民便可解除契約。我們如何理解這種理論? (A) 柏拉圖的理想國理念, 主張國君應當為民服務 (B) 洛克提出的政府學說, 主張人民可以推翻政府 (C) 法國大革命時的《人權宣言》, 認為世人都應平等 (D) 威爾遜提出民族自決論, 認為自由為基本人權 【99 學測題】

洛克: <政府論> 1. 知識 = 感覺 + 理性

2. 政府權力來自被統治者的同意, 人民有「反抗」的權利 (天賦人權)

4. (D) 某地自 1840 年代起就發展工業、礦業, 1850 年代修建鐵路, 1860 年代已有鐵路 1300 公里, 到 1870 年擴增為 7700 公里, 1890 年代增至 25600 公里。1851 年, 當地開始興建紡織廠, 到了 1900 年, 共有紡織廠 193 所, 還有茶葉公司與黃麻工廠。當地人民並未享受這些經濟發展帶來的好處, 因此不斷要求自治, 希望享有平等的政治權利。這個地方應當是: (A) 越南 (B) 加拿大 (C) 日本 (D) 印度 【99 學測題】

1757 普拉西戰事 (英東印度公司 v.s 蒙兀兒) [1756-1763]

→ 英國始在印度進行殖民主義工業發展 七年戰爭

5. (B) 一位國家領袖表示:「我們必須加強海軍, 以維護我國的利益。我們的海外同胞, 不管是神職人員、商人或從事其他行業, 都應該相信: 我們的海軍會永遠保護他們。」我們如何理解這個談話? (A) 拿破崙戰爭期間英國政府的主張 (B) 德意志帝國在東亞擴張時的聲明 (C) 日本發動珍珠港事變之前的宣傳 (D) 波斯灣戰爭期間美國提出的政策 【99 學測題】

A. 英海軍已是最強 無須再加強

B. 德皇威廉二世, 大海軍主義 → 世界政策

C. 日: 並非為了保護僑民

D. 美: 為制裁伊拉克侵略科威特, 非保護僑民

6. (A) 18世紀初，一位法國學者稱讚當世某國的政治，認為這個國家的君主以倫理、道德治理天下，任用知識分子為官，但官位並非世襲，堪稱是希臘「哲學家國王」的化身。這位學者所稱的某國是：(A)中國 (B)土耳其 (C)英國 (D)日本 【99學測題】

啟蒙運動
清初

A. 科舉取士
以儒術治國重倫理道德
B. 鄂圖曼以伊斯蘭教義治國
C. 君主立憲，議會政治
D. 德川幕府，官員世襲

7. (C) 一位歐洲學者有這樣的經歷：他出生時，多數世人還認定地球是一個扁平的陸塊；到他求學時，周遭已經有許多人相信地球是圓的，各地還流傳許多有關遠方新奇事物的傳說。這位學者鮮少離開家鄉，卻能根據平時蒐集的資料，描述世界各地的新奇事物，如巨大的宮殿、雄偉的神殿、食人族等。他還將這些蒐集起來，編寫一本世界誌，出版後引起許多人的好奇與搶購。這應當是何時的情景？(A)西元前2世紀 (B)西元9世紀 (C)西元16世紀 (D)西元18世紀 【99學測題】

→ 1522年，麥哲倫船隊繞地球一圈後證實

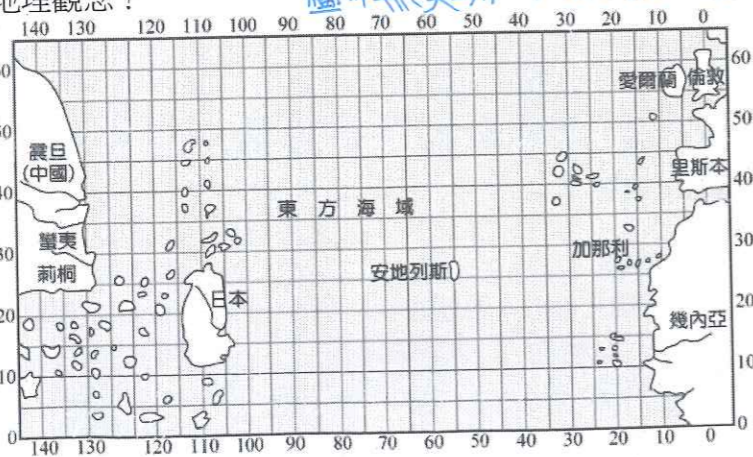
8. (D) 下表是 1891~1896 年間四個國家的農業人口占總人口百分比：

	農業人口占總人口百分比
甲國	70%
乙國	42%
丙國	22%
丁國	10%

1. → 最多：俄國農奴
4 → 法國：大革命影響下，工業化慢
3 → 荷蘭：海上馬車夫
2 → 最少：英國，工業革命

試問表中的甲、乙、丙、丁四國分別是：(A)甲：法國 乙：英國 丙：荷蘭 丁：俄羅斯 (B)甲：英國 乙：荷蘭 丙：俄羅斯 丁：法國 (C)甲：荷蘭 乙：俄羅斯 丙：英國 丁：法國 (D)甲：俄羅斯 乙：法國 丙：荷蘭 丁：英國 【99學測題】

9. (C) 附圖是一幅西方人繪製的地圖，製圖者將中國分成蠻夷與震旦，又認定日本是一個大島。中國最南端的角落為荊桐（泉州）城。從泉州出海，可以遇到無數小島。這幅圖反映的是何時的地理觀念？



(A)西元2世紀的希臘地理學者托勒密 (B)西元5世紀的羅馬哲學家奧古斯丁

(C)14世紀的義大利學者托斯卡內利 (D)18世紀的英國航海家詹姆士庫克 【100學測題】

10. (D) 一位政治人物表示：「我們不能把菲律賓交給德國或法國，這樣不符合我們的經濟利益，我們也不能讓菲律賓人自治，因為菲律賓人沒有自治的能力。我們只能占領整個菲律賓，教育他們，讓他們文明起來，灌輸基督教的理想。」這位政治人物應當是：(A)17世紀的羅馬教宗 (B)18世紀的西班牙王 (C)19世紀的日本天皇 (D)20世紀的美國總統 【100學測題】

從「德國」可看出題幹是19世紀德國統一後，C. 日本非基督教國家
→ 美國總統 威爾遜 簽金萊 藉 1898 美西戰爭
占領波多黎各 菲律賓群島 關島等地 擴展勢力進入遠東

11. (A) 附表是英倫三島、德國與北歐、伊比利半島、義大利半島四個地區從 400~1500 年間的人口統計，請根據表中數據，回答問題。表中丁地應當是指：上古~中古後期

地區\年代	450	650	1000	1200	1340	1500
義大利 ← 甲 羅馬	6	2.5	5	7.8	10	9
伊比利 ← 乙 奧米亞	4	3.5	7	8	9	8.3
德北歐 ← 丙 韋撒	3.5	2	4	7	11.5	7.5
英 ← 丁	1	0.5	2	2.8	5	3

(A)英倫三島 (B)德國與北歐 (C)伊比利半島 (D)義大利半島 【100學測題】

1066 征服者威爾遜
入侵英格蘭

12. (C) 某個帝國，在 11 世紀初是歐洲最強盛的國家，14 世紀以後，境內諸侯紛紛追求自身利益，互相攻伐，國勢漸衰。17 世紀，又因宗教問題，造成內部分裂。19 世紀初，帝國甚至遭拿破崙解散。這個帝國是指：

(A)俄羅斯帝國 (B)拜占庭帝國 (C)神聖羅馬帝國 (D)鄂圖曼帝國 【101學測題】

101 ~ 117 彼得大帝 加冕
330 ~ 1453 鄂圖曼一世
962 ~ 1806 鄂圖曼一世
1299 ~ 1923 鄂圖曼 凱末爾 = 土耳其共和國

13. (B) 歷史上某一時期，甲乙雙方舉行效忠儀式：甲方向乙方保證，願以自由人身分，終身服事乙方，絕不脫離乙方保護，如有違背，願以金錢賠償；乙方則保證，宣誓之後，將終身保護甲方。這個效忠儀式最可能在何時何處舉行？(A)8 世紀前期君士坦丁堡的皇宮 (B)12 世紀中期法國北部的莊園 (C)16 世紀後期英國南部的城堡 (D)19 世紀後期美國南部的棉田 【101學測題】

契約基礎下的封建制度
1. 中古西歐 5~15 世紀 2. 日本幕府 CD 時代不符
A 東羅馬 中央集權 政教合一

14. (D) 某一時期，立國的理念是：「國家應由受過良好教育、擁有財產的人來管理；他們可以制定法律，保護人民財產，維持社會安寧。人民應當遵守法律、熱愛國家。」所有法律也都依據這樣的理念制定。這應當是下列哪個時期的觀念？(A)秦始皇統一六國時期的法家思想 (B)拜占庭帝國《查士丁尼法典》的主張 (C)英格蘭王約翰簽署《大憲章》的概念 (D)法蘭西帝國《拿破崙法典》立法精神 【101學測題】

強調由「人」制定法律保障人民財產，而非「君王」→ C 貴族限制王權
AB 刑法 (強調皇權) 中產階級

15. (C) 一張老相片顯示：火車站中有數列滿載士兵的火車，其中有兩列預計開赴比利時前線，另有一列即將駛往東方邊界，車廂上的標語寫著：「向沙俄宣戰！為祖國奮鬥！」這張相片最可能是何時的情景？(A)1854 年的克里米亞戰爭爆發後，英軍開往前線 (B)1870 年德法戰爭爆發，德意志聯軍向法國開拔 (C)1914 年，第一次世界大戰爆發，德軍準備出發 (D)1939 年歐洲大戰爆發，德軍準備進攻蘇聯之際 【101學測題】

→ 戰場 1. 比利時 2. 俄羅斯
A 戰場在巴爾幹 克里米亞等地 B 俄國未參戰

16. (D) 媒體報導：「波蘭國會於本月中通過加入北大西洋公約組織（簡稱北約）案，波蘭預定在 3 月間與捷克及匈牙利同時成為北約新會員。」這則報導出現的時代背景為何？(A)二戰結束時，美蘇兩國在東歐對峙，美國拉攏波、捷等國加入北約 (B)韓戰結束後，法國欲擴大在歐洲勢力，企圖說服東歐各國加入北約 (C)越戰爆發時，西歐欲打擊華沙公約組織，勸說波、捷等國加入北約 (D)蘇聯解體後，東歐向西方靠攏，波、捷、匈牙利等國家欲加入北約 【101學測題】

波蘭為華沙公約組織的成員 與總部所在地
1955~1991

直到蘇聯解體 才可能加入北約

17. (A) 19世紀中期，一位俄國學者批評政府的某項政策，認為它「改變數百年習慣的生活方式，摧毀自古以來人民與土地的連結關係。」因此他呼籲：「讓我們根據傳統的原則，重新恢復國家與人民、人民與土地之關係。」這位學者批評的政策為何？ (A) 解放農奴 (B) 組織公社 (C) 農地重劃 (D) 土地國有 【101 學測題】

俄國農奴制源自11、12世紀，確立於15世紀。19世紀中迫於國內外情勢，由沙皇亞歷山大二世主持解放農奴。

18. (B) 自某個時期起，藝術創作強調恢復希臘與羅馬的傳統，藝術家精研人體結構，重視透視法。他們的地位大幅提升，非以往的工匠可比，貴族與富商都願意收購藝術作品珍藏。這個時期最可能是： (A) 西元 12 世紀 (B) 西元 15 世紀 (C) 西元 18 世紀 (D) 西元 19 世紀 【101 學測題】

文藝復興 14~16 世紀

19. (A) 16 世紀起，歐亞間的海上貿易興起，許多歐洲國家紛紛前來亞洲經商。歐洲某國王室出資組成船隊，前往印度與東亞地區貿易。國王為反制抗議教派，避免其擴張，還願與教廷合作，免費將傳教士送往商船所到之處傳教。這位國王是： (A) 西班牙國王菲利普 (B) 英格蘭王伊莉莎白 (C) 俄國皇帝彼得大帝 (D) 瑞典國王古斯塔夫 【101 學測題】

抗議教派 = 新教徒 → 題幹 = 天主教國家 → A
 B 英國國教派
 C 東正教
 D 路德教派
 1. 查理五世「在我的領土下，太陽永不落下」
 2. 菲律賓的名稱由來

20. (C) 一位商人自述：家中原本頗有積蓄，曾經擁有一家運輸公司。後因為投資股票，一夜之間，家財全部化為烏有。他為了養家活口，只得到碼頭當搬運工，但工作並不固定，收入有限。許多朋友則因無法繳付房貸，住家遭銀行查封，只得跟許多人一起在公園搭帳棚，領失業救濟金，不相信政府能解決他們的困境。這種情形最可能是： (A) 1800 年拿破崙戰爭後的巴黎 (B) 1918 年第一次大戰後的倫敦 (C) 1932 年經濟蕭條時期的紐約 (D) 1950 年第二次大戰後的上海 【101 學測題】

經濟大恐慌下的失業狀況 (大蕭條) (1929~1933)
 全球經濟大恐慌
 失業、法西斯崛起

21. (C) 一位統治者自述其生平事蹟：「19 歲那年，國家受到奸黨蹂躪，是我招募軍隊，打敗奸黨，才重建和平。元老院選我為執政官，控制所有權力，但我拒絕獨裁，不僅恢復了許多逐漸沒落的傳統，也為後代子孫立下許多典範。」這位統治者最可能是： (A) 亞歷山大大帝 (B) 羅馬將領凱撒 (C) 羅馬皇帝屋大維 (D) 羅馬皇帝君士坦丁 【101 學測題】

A 繼承父親皇位，非元老院推選
 B 因獨裁而遇刺
 C 尊為「奧古斯都」(第一公民)
 D 羅馬晚期，藉政變 xP 獲得王位

22. (B) 一位學者擔心：國家因為民族多元，許多人受到當時流行的民族主義影響，希望獨立、建國，最終可能導致國家分崩離析。他呼籲大家珍惜共同擁有的歷史經驗，以「命運共同體」的觀念整合國家。這位學者最可能生活在： (A) 1860 年的義大利 (B) 1910 年的奧匈帝國 (C) 1930 年的波蘭 (D) 1960 年的美國 【102 學測題】

1866 普奧戰爭後成立奧匈二元帝國
 由奧地利的哈布斯堡王朝與匈牙利貴族合作，為維持帝國穩定的折衷方案

23. (B) 一位國家元首在議會中表示：統治者應當傾聽上帝的意旨，而不受制於法律。他認為自己是人民的主人與父親，可以主宰臣民的生死。他應當遵守與上帝的誓約，無須經過議會便可自行制定法律。這位元首是： (A) 1 世紀羅馬統治者奧古斯都 (B) 17 世紀的英王詹姆士一世 (C) 19 世紀初法蘭西皇帝拿破崙 (D) 19 世紀末的德皇威廉二世 【102 學測題】

題幹：君權神授 → 17 世紀流行於歐洲，用以對抗「教權至上」 → B

A. 自稱第一公民，尚無議會
 C 自行加冕
 D 議會政治] 未強調權力來自上帝

24. (AD) 1950 年代初期，歐洲某城市中，一位住在英國占領區的居民，一大早先通過檢哨站，到蘇聯占領區上班。下班後，經常要繞到美國占領區購買日常用品，然後搭電車回家。這個人最可能生活在何地？ (A) 維也納 (B) 華沙 (C) 布拉格 (D) 柏林 【102 學測題】

1945 年 (= 戰後) 德、奧兩國由英、法、美、蘇分區占領 (奧國於 1955 結束)

25. (C) 一座城市中，居民熱烈討論即將重建的大教堂建築樣式，他們對常見的哥德式建築並不滿意。因為古代建築廢墟隨處可見，他們鼓勵競標的建築師從古代建築中尋找靈感。經過幾十年的努力，一座覆以圓頂的長方形教堂，終告竣工。這座城市是： (A) 羅馬帝國時期的耶路撒冷 (B) 11 世紀中期的聖彼得堡 (C) 文藝復興時期的佛羅倫斯 (D) 19 世紀初期的墨西哥市 【102 學測題】

古羅馬 → 中古西歐 → 哥德式 → 文藝復興羅馬式 (找回失落的古代圓頂建築)

26. (C) 一本書寫道：這個國家原本絕大多數人民為農民，因社會發展不均，農民起而造反，爆發大革命，推翻既有政府，重建國家。新政府之施政目標是強化國防力量，以對抗資本主義國家，因此強調鋼鐵工業，民生工業的發展相對落後。但因該國實施計畫經濟，受到經濟恐慌的影響也較小。這最可能是描寫： (A) 1790 年代的法國 (B) 1870 年代的日本 (C) 1930 年代的俄國 (D) 1970 年代的印度 【102 學測題】

題幹：農民革命，建立對抗資本的「共產國家」 → C 史達林
 五年經三齊計劃
 A 大革命時期
 B 明治維新
 D 印巴戰爭

27. (B) 基督教會自「某個事件」開始，經常以宗教審判和贖罪券兩種方式強化教會的領導地位。宗教審判用以處罰危害教會的異端；贖罪券則用於酬謝參與打擊異教徒者，可免除死後審判。上述所說的「某個事件」是： (A) 諾曼人入侵 (B) 十字軍運動 (C) 黑死病盛行 (D) 東羅馬滅亡 【102 學測題】

1066 征服者威廉入主英格蘭
 與異端無關
 對抗伊斯蘭
 須打擊異端
 1143
 14
 掉動教會權威

28. (A) 新航路暢通之後，國際人口移動逐漸增加，許多地區成了移民的目標。18 世紀以後，出現許多移民組成的新國家。這種想法應是受到何種思想影響？ (A) 社會達爾文主義 (B) 馬克思共產主義 (C) 啟蒙運動思潮 (D) 理性主義思潮 【102 學測題】

殖民：帶有種族優越的觀念 - A 史賓塞 (B 資本家剝削勞工，C D 理性思維與種族無關)

29. (B) 某地原為希臘人活動區域，後來才有其他民族移入，包括羅馬尼亞人、土耳其人、克羅埃西亞人、波士尼亞人、斯洛維尼亞人與馬其頓人。居民分別信奉基督教與伊斯蘭教；基督教信仰又以希臘正教為主。當地曾經建立聯邦制國家，卻爆發內戰，民族紛爭至今不斷。這個地區是： (A) 伊比利半島 (B) 巴爾幹半島 (C) 克里米亞半島 (D) 安那托利亞高原 【103 學測題】

A, C D 非原鄉區域 拜 → 鄂 → 南斯拉夫社會主義共和國聯邦

30. (D) 附表是一場戰爭之中各國人口損失的統計：

國家	百分比 (%)	國家	百分比 (%)
波蘭	20	德國	6.6
南斯拉夫	12.5	法國	1.3
希臘	7	英國	0.8
蘇聯	9		

這場戰爭是： (A) 三十年戰爭 (B) 克里米亞戰爭 (C) 第一次世界大戰 (D) 第二次世界大戰 【103 學測題】

1922
 1991

31. (C) 某一時期中，英國議員知道普魯士已經實施強迫入學的政策，而英國許多兒童仍然沒有受過任何教育。於是通過法案，設置教育部，並提出「初等教育法」，撥款興學，同時要求父母督促5到12歲的兒童上學。這是何時的情況？ (A)17世紀後期 (B)18世紀中期 (C)19世紀後期 (D)20世紀中期 【103學測題】

18世紀中，英工業革命 19世紀中後
形成「工人階級」→追求政治教育權利 (世界上最早的義務教育)
1717(普)腓特烈威廉一世推動 → 英：1887國會改革法案

32. (D) 老師在課堂中介紹西歐某一時期時提到：當時君主積極發展工商業，力求增加稅收；並改革法律制度，興辦教育事業，以提高行政效率及國民素質。這堂課的主題應是： (A)中古時期的莊園經濟活動 (B)12世紀的東西文化交流 (C)16世紀西歐的重商主義 (D)18世紀的開明專制理念 【103學測題】

受啟蒙運動影響 A. 很少商業活動 B. 未涉及法律教育
國家主導經濟發展 未涉及法律教育

33. (B) 某地位於歐洲通往中國的航路上，早在1819年，英國商船便在此建立交易據點，逐漸發展成繁榮港口。二次世界大戰期間，日軍曾攻占此地，控制三年多。1945年，日本投降，該地重歸英國管轄，但當地人民爭取自主，先脫離英國統治，進而獨立建國。這個國家是： (A)泰國 (B)新加坡 (C)越南 (D)印度 【103學測題】

英→日→英→獨立 A. 中立國(朱拉隆功大帝) D. WWI 日軍最遠到緬甸未抵印

34. (B) 1792年，英國派遣馬夏爾尼出使中國，使團於9月底乘船自英國出發，1793年8月5日才抵達天津。1878年，中國派遣曾紀澤為駐英國、法國欽差大臣，於11月22日自上海乘船赴任，1879年1月1日便抵達法國馬賽港。這期間，哪一項重大變化縮短了航行的時間？ (A)美國發明航空器 (B)蘇伊士運河通航 (C)海圖製作更精良 (D)公海航行較安全 【103學測題】

航行時間：1個月→1.5個月 (A) 20世紀才有 (C) 影響不大 (B) 1869年完工

35. (C) 某次戰爭之後，戰勝國要求：挑起戰事者要割地、賠款。有人呼籲：如果賠償金額遠超出發動戰爭者所能承擔，一定會造成經濟困境，引發民怨，無論任何一方都難逃捲入的命運，甚至引發下一場戰爭。不幸言中，不久之後，各國又捲入衝突之中。此人最可能是： (A)1815年維也納會議中的奧地利首相梅特涅 (B)1871年德法戰爭後德意志帝國首相俾斯麥 (C)1919年巴黎和會召開時的英國代表凱因斯 (D)1945年二次大戰結束後的美國總統杜魯門 【103學測題】

A. 未割地賠款 僅流於拿破崙 B. 對亞爾薩斯、洛林 希特勒 崛起背景 美蘇對戰敗國立場不一 未嚴格處罰

36. (A) 史家討論希臘時期政治領袖亞歷山大時，有不同的看法：甲：亞歷山大的成就非凡，奠定了日後羅馬帝國統治與基督教傳播的基礎。乙：亞歷山大野心勃勃，所到之處，攻城略地，屠殺守軍，將婦孺轉賣為奴。我們應當如何認識這兩種看法？ (A)甲乃討論其影響；乙則陳述其作為 (B)甲陳述相關史實；乙則評價其功過 (C)甲反映當時人看法；乙為後世評論 (D)甲乙均持正面態度，肯定亞歷山大 【104學測題】

B. 相反 C. 甲後人、乙時人或後人 D. 乙持正面態度

37. (B) 16世紀以後，英國對外貿易成長，促成毛紡織業快速發展，羊毛價格上漲，牧羊業獲利豐厚，10英畝牧場的收益超過20英畝的耕地。地主為追求利益，紛紛收回農民土地，改作放牧之用，引發「圈地運動」，致使農民無地可耕。17世紀後，圈地的範圍越來越大，農民生計大受影響，但英國並未發生食物短缺現象，經濟仍可持續發展，主要的原因為何？ (A)長期內戰使人口銳減，減少糧食消費 (B)從北美殖民地進口，以滿足糧食需求 (C)大批移民移往北美，英國不缺乏糧食 (D)大量人口死於瘟疫，故糧食需求減少 【104學測題】

A. 清教徒革命 未造成人口銳減 1642-1649 C. 移民人口 僅占3%~4% D. 黑死病 盛行於14世紀

38. (C) 有人指出，國家締造者曾經承諾所有國人：可享有生存、自由和追求幸福的權利，但黑人拿到的，卻是一張空頭支票。我們絕不相信正義會破產，絕不相信這個國家會「存款不足」。因此，我們要求國家兌現這項承諾。我期待國家會很快實現立國的信條，也相信「人生而平等」。這種說法的背景是： (A)1776年，美洲地區人民追求獨立 (B)1918年，美國總統提出民族自決 (C)1963年，民權運動主張種族平等 (D)1990年，南非黑人反對種族隔離 【104學測題】

AB與黑人爭平等權無關 馬丁路德金恩 未曾承諾享有權利

39. (D) 某一個國家，到1930年代末期時，仍受到第一次世界大戰及經濟不景氣的影響，工業生產水準還未能恢復1910年時的標準。第二次世界大戰時，該國又受到嚴重破壞，不僅2/3的國土被占領，工業生產也連年下降，1944年的工業生產總值只有1938年的40%。這個國家是： (A)中國 (B)美國 (C)蘇聯 (D)法國 【104學測題】

(1928-1937) 1930年代 新政 五年計劃 未視占領 殖林

40. (C) 閱讀以下兩段資料：資料一、當時，最普遍的工作就是家庭幫傭，幾十萬名婦女從事這種工作；也有許多婦女在紡織工廠做工，最糟糕的是許多婦女必須從事苦力活，按件計酬，沒有保障。資料二、我原本在人家中幫傭，每天從上午6點做到晚上9點，極為厭惡這種工作。後來一家軍火工廠招工，我前往應徵，負責製作彈藥引信，一天工作12個小時，薪水是原本薪水的兩倍半。這兩段資料最適當的主題是 (A)南北戰爭期間的黑人婦女勞工 (B)拿破崙法典實施後的婦女勞動 (C)一次世界大戰前後的婦女就業 (D)東歐地區社會主義與婦女問題 【105學測題】

A. 無法自由就業 主要在採收棉花、種植玉米 B. 工業剛起步 不可能到軍火工廠上班 D. 社會主義下 所有人均無法自由就業

41. (D) 立法者制定某一法典時，主張根據個人主義精神與自由平等觀念，強調尊重所有權與契約自由，對過失責任也詳加規範，甚至保障原本因為宗教因素而受迫害的猶太人。這部法典最可能是 (A)《漢摩拉比法典》 (B)《大憲章》 (C)《權利法案》 (D)《拿破崙法典》 【105學測題】 報復 階級之分 貴族限制王權 確立議會政治 融入大革命精神 「民法典」

42. (C) 一幅畫作描繪某地羊毛市集的景象：各地來的商人熙來攘往，好不熱鬧，主教在廣場上為市民祝福，羊毛商人把貨品陳列攤位上，供人選購，還有幾個攤位專門提供兌換貨幣的服務。這種景象最早可能出現於 (A)1世紀的雅典 (B)4世紀的羅馬 (C)12世紀米蘭 (D)16世紀巴黎 【105學測題】

兌換貨幣的服務 → 銀行業 (=源自中古後期 11-15世紀) 如：房地奇家族 A. 無主教 B. 無羊毛市集 D. 非最早

43. (D) 某殖民國家在殖民地推行「強迫種植制度」，農民被迫將良田種植咖啡、甘蔗、茶、菸草、胡椒等經濟作物，並規定：總耕地面積至少要有五分之一種植經濟作物。殖民政府將收穫全部運往歐洲銷售，賺取巨大財富。直到20世紀中期，這個殖民地經由武裝抗爭才取得獨立。請問這種「強迫種植制度」最可能是什麼時候，在哪個地區的殖民地推行？ (A)16世紀北非 (B)17世紀北美 (C)18世紀中南美 (D)19世紀東南亞 【105學測題】

→ 位於熱帶的歐洲殖民地，於20世紀中獨立 → 荷蘭殖民下的印尼 A. 鄂圖曼帝國 B. 非熱帶 18世紀後獨立 C. 19世紀中獨立 (玻利亞爾)

44. (D) 一座教堂，原本建築在羅馬神廟的遺址上，8世紀時，改建成清真寺；13世紀時，又改為羅馬教會的主教座堂；16世紀時，重新修建。這座教堂因經歷不同的歷史發展，被聯合國列為世界遺產。這座教堂最可能位在 (A)巴爾幹半島 (B)猶加敦半島 (C)阿拉伯半島 (D)伊比利半島 【105學測題】 (8.拜占庭) (中東) (無教堂)

8世紀 阿拉伯帝國 → 刪A.B 歐 = 伊比利半島 (奧米亞) 亞 = 阿拉伯 非 = 北非 13世紀 卡斯提爾王國 塞維亞地區

45. (B) 1492年，哥倫布率領3艘帆船從西班牙帕洛斯港(37°N, 6°W)出海，經加那利群島(28°N, 16°W)向西橫渡大西洋，於10月12日登陸美洲，陸續繞經附近地區，完成首航。一行人於1493年啟程返航，此後陸續有人前往美洲，帶回許多新物種，並傳播到各地，促成「物種大交換」。請問哥倫布於出發前，表示可以帶回下列什麼物品，才說服西班牙王室出資？
 (A)美洲白銀 (B)印度香料 (C)玉米花生 (D)南亞蔗糖 【105學測題】

哥倫布出發前並不知道會抵達美洲，而是希望找到抵達印度的捷徑

46. (D) 某場戰爭結束後，歐洲大部分國家因幣制崩潰，欠缺貨幣可供使用。在德國，香菸是公認的交易媒介，一位教師的月薪等於五包香菸。匈牙利通貨膨脹嚴重，貨幣面值高達一億(如附圖)，難於進行正常交易。此外，大部分的歐洲國家稅收付之闕如，無錢購買糧食，餓飽居民；也無法購買原料與機器，經濟復甦相當緩慢。這種情況最可能發生於

匈牙利
原屬奧匈帝國



WWI後，
德奧鄂俄
相繼瓦解
才獨立
→ A、B刪去
C. 一戰後
德國仍以
貨幣還債

(A) 1815年，拿破崙戰爭後 (B) 1872年，德法戰爭之後
 (C) 1919年，第一次大戰後 (D) 1946年，第二次大戰後 【105學測題】

D. 二戰後，德、意分區占領下，跟美軍換香菸作為交易媒介。
 1. 面額可大可小 2. 只有美軍有 3. 數量充足

47. (A) 某一國家，宗教色彩相當濃厚，居民除80%左右信奉該國的主流宗教外，其餘20%則各有不同的信仰，宗教類別與內涵相當豐富多樣。居民使用的語言也很複雜，該國憲法除規定2種全國通用的語言外，還認可15種以上的官方語言。全國有60%左右的人口務農，將近半數的人口生活於聯合國訂定的貧窮線之下。2014年該國人類發展程度指標(HDI)只有0.609，世界排名第130。請問該國具有下列哪二項特質？甲、世界古文明的發源地之一；乙、猶太教和伊斯蘭教的發源地；丙、1858~1947年間曾受英國殖民統治；丁、葡萄牙引進黑奴在該國發展熱帶栽培業；戊、生產的白銀曾於明朝中葉以後大量流入中國 (A) 甲丙 (B) 甲戊 (C) 乙丁 (D) 丙戊 【105學測題】

乙. 兩河流域 丁. 美洲
 題幹所指為「印度」，主流宗教=印度教，官方語言=印地語、英語

48. (B) 1154年，埃及法提馬王朝統治者在一封致比薩大主教的信中說：只要你們承諾不與法蘭克人合作，我方同意你們的商人運送貨品來我方貿易。除了亞歷山卓城外，你們也可以在開羅建立據點，但需繳交關稅；木材、鐵、樹脂這三項貨品，我方保證以市價購買。埃及法提馬王朝統治者寫這封信的目的最可能是：(A) 埃及希望與比薩形成商業同盟 (B) 防止比薩大主教與十字軍合作 (C) 保護埃及木材、鐵、樹脂產業 (D) 歡迎比薩商人可以在埃及定居 【106學測題】

12世紀
中古復興

題目取自 No. 2 十字軍東征後，埃及法提馬王朝藉拉攏義大利
 → 削弱十字軍實力

從埃及不希望比薩與法蘭克合作來看
 → 埃及與法蘭克為敵

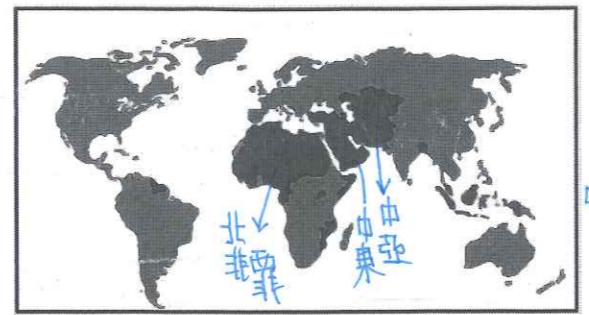
49. (D) 1776年，北美洲殖民地人民要求獨立，在某城市發表宣言，指出：「我們不是沒有顧念我們的英國弟兄。我們一再警告，但他們的立法機關仍企圖把無理的管轄權加到我們頭上。」宣言中所指的「無理的管轄權」最可能是指：(A) 殖民地不得發行報紙 (B) 殖民地禁止蓄養黑奴 (C) 禁止設立銀行與郵局 (D) 未經同意便強行徵稅 【106學測題】

1756~1763 七年戰爭 → 1765 英在北美加稅 → 1773 波士頓茶葉事件 → 1776 費城獨立宣言

50. (C) 某一時期，許多學者寫了不同的手冊，教導年輕人舉止要合宜，吃飯有禮貌，學習文學、音樂、藝術，才能成為有趣的社交分子。這些手冊一經出版，便銷售一空，說明當時社會重視禮儀規範。這個時期最早出現於何時？(A) 古典希臘時期 (B) 羅馬共和時期 (C) 文藝復興時期 (D) 啟蒙運動時期 【106學測題】

A、B 印刷術未發達，D 非最早
 從手冊可知應始於印刷術發達的文藝復興時代。(強調人文教育，重人格修養)

51. (B) 附圖為2016年某國際組織會員國分布圖，圖中深色區域為會員國的位置。請問：這個國際組織所涵蓋的區域中，在歷史上曾經出現哪個帝國？



跨亞非兩洲

(A) 神聖羅馬帝國 (B) 鄂圖曼帝國 (C) 蒙兀兒帝國 (D) 奧匈帝國 【106學測題】
 日耳曼地區 No. 6 跨三洲 印度 中歐

52. (D) 某人覺得自己犯了罪過，便依照教會要求，前往指定教堂悔罪，還要申請贖罪。一位修士則給予憑證，赦免教會對他的處罰。這位修士最可能屬於：(A) 德意志路德教會 (B) 尼德蘭改革教會 (C) 英格蘭國教會 (D) 羅馬天主教會 【106學測題】

天主教會因十字軍文藝復興而販售贖罪券 → 1517 馬丁路德 95條論綱 → 新教

53. (A) 一份文書指出：「政府曾發布命令，教導大家崇敬諸神，卻使基督教徒陷於危險和苦難之中，甚至有人喪失性命，許多人至今不能公開參加他們的宗教活動。我們應本著寬大宗旨，開恩處理這件事。今後，他們可以自由表達想法，不受干擾地自由集會，但得尊敬法律和政府。」這份文書是：(A) 君士坦丁發布的米蘭詔令 (B) 英國約翰王公布的大憲章 (C) 拿破崙頒行的拿破崙法典 (D) 聯合國公布的世界人權宣言 【106學測題】

A. 基督教合法化 B. 約束王權 C. 確立民法 D. 確保人權

54. (B) 某人評論：今日之俄如同七國時期之秦，而英則像是齊，土則是魏也。「秦人不得志於魏，則不能倚(牽制)六國，俄人不得志於土，不能倚歐洲。」「英人陽(表面)護土而陰蔽歐洲。俄之不得志於歐洲，英為之也。」這位人士評論何時的情勢？(A) 拿破崙戰爭 (B) 克里米亞戰爭 (C) 第一次世界大戰 (D) 第二次世界大戰 【106學測題】

俄 英 秦 vs 六國 土

A. 法 vs 反法 CD 英俄同盟營

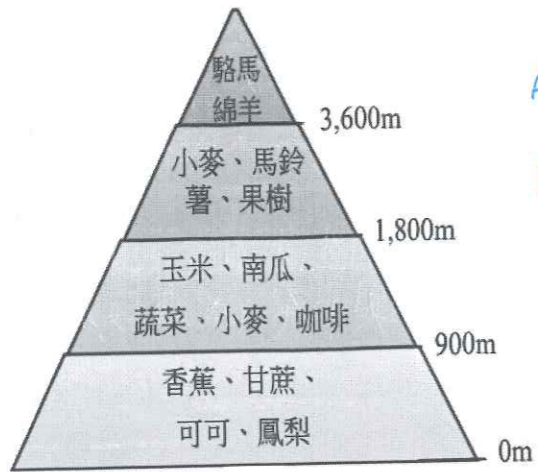
55. (D) 17世紀時，某國曾響應共同抵禦伊斯蘭教入侵的號召，出兵加入歐洲聯軍，國勢頗強。其後，強大貴族勢力開始侵凌王權，內部爭鬥不斷，國勢逐漸衰落，引起鄰國覬覦，終遭列強瓜分，消失於歐洲政治版圖。第一次世界大戰後雖得復國，第二次世界大戰期間又遭占領，戰後才得再度建國。這個國家是：(A) 義大利 (B) 奧地利 (C) 希臘 (D) 波蘭 【107學測題】

1683. 9. 11 維也納之戰 (17世紀) 波蘭騎兵擊敗鄂圖曼軍隊

→ 二戰，波蘭遭德蘇瓜分

A 19世紀才統一
 B 奧匈於一戰後瓦解，一戰前也沒被瓜分
 C 17世紀為鄂圖曼領地

56. (C) 附圖顯示某國農業土地利用隨著高度增加而變化。請問：圖中，中低海拔地區大規模專業化栽培香蕉、甘蔗、可可、鳳梨等作物的情況，最可能始於何時？



(A) 15~16 世紀物種大交換時期 (B) 18 世紀中葉工業革命開始時 (C) 19~20 世紀帝國主義發展時 (D) 20 世紀晚期簽訂世貿組織時 【106 學測題】

A. 舊帝國主義，未大規模。
B. 英國 18 世紀中葉工業革命 19 世紀才傳到美洲
D. 並非最早。

57. (B) 某國的礦業一直是其經濟發展的主要動力，其政局長期紛擾不斷；1990 年，該國一位政治人物在演說中呼籲：「我國的未來只能是一個在不分膚色的基礎上，通過民主選舉而產生的機構來決定，也就是建立一個民主、不分膚色和統一的國家，白人壟斷政權的狀況必須結束。」該政治人物的理想逐漸成為事實，但國內經濟發展同時出現遲緩現象，直到 21 世紀初才逐漸復甦。請問該政治人物最可能是：(A) 歐巴馬 (Barack Obama) (B) 曼德拉 (Nelson Rolihlahla Mandela) (C) 甘地 (Mohandas Karamchand Gandhi) (D) 馬丁·路德·金恩 (Martin Luther King) 【107 學測題】

C 1869-1946 D 1929-1968 時間不符
A. 美國於 1860 年代廢種族隔離。

58. (B) 附圖畫作的主题經常出現於某一時期的西歐與南歐，這類畫作的內容除貴族人物外，也常包括：地球儀、天體儀、四分儀、兩腳規、星盤等。請問根據畫作的內容，下列哪項推論最為合理？



文藝復興的代表畫作 <大使們> (14-16 世紀)
(桌上) 航海用具 15-16 世紀
(桌下) 新、舊教用具 16 世紀
(地板) 透視法。

(A) 這是 13 世紀的情況，說明時人熱衷航行前往耶路撒冷朝聖 (B) 這是 16 世紀的情況，說明航海已成為貴族交際的重要話題 (C) 這是 18 世紀的情況，說明巴黎沙龍聚會以天文星象為主題 (D) 這是 19 世紀的情況，說明工業革命後資本主義發展的盛況 【107 學測題】

59. (C) 課堂上，老師向學生介紹一本西方小說，內容寫道：主角一覺醒來，發現自己處在陌生環境中，資本家、企業家全部消失，土地、工廠、工具全屬公有；每個人可依照自己的興趣工作，工時不長，工作愉快，社會上每一項商品生產的數量恰能滿足所有人之需。請問這本小說最可能描述的是：(A) 12 世紀西歐的莊園生活 (B) 17 世紀的自由主義理念 (C) 19 世紀的社會主義理想 (D) 20 世紀的帝國主義藍圖 【107 學測題】

馬托邦社會主義 A. 農奴不自由 B. 助長資本主義出現 D. 向外擴張 剝削

60. (D) 近幾年，許多非洲難民湧入歐洲，國際移民組織 (OIM) 統計，2016 年湧入歐洲難民有 364,000 人，其中約有半數從北非地區橫渡地中海偷渡入境，又以來自奈及利亞 (占 21.0%)、厄利垂亞 (占 11.7%)、幾內亞 (占 7.2%) 和象牙海岸 (占 6.7%) 四國者為數最多。大量難民湧入歐洲後，常面臨找不到工作、長期失業以及居住環境條件不佳的生活困境。面對此現象，歐洲某國政府官員對外發表言論，主張該國應停止收容非洲難民，否則將影響歐洲生活水準與歐洲文化。該言論一出，引發眾多輿論強烈的批評。請問難民由地中海偷渡湧進歐洲的起點，歷史上曾為哪些帝國的領地？甲、羅馬帝國；乙、查理曼帝國；丙、阿拉伯帝國；丁、鄂圖曼帝國；戊、神聖羅馬帝國 (A) 甲乙戊 (B) 丙丁戊 (C) 乙丙戊 (D) 甲丙丁 【107 學測題】

北非地區
甲、丙、丁 → 跨歐亞非之帝國。乙、中西歐。戊中歐。

61. (B) 古波斯人及羅馬人對統治者表示敬意時，往往親吻其腳部或足印，稱為吻足禮。後來有人自認是使徒彼得的繼承人，也享有吻足禮特權，凡是授予大主教職位、為皇帝加冕、接待諸侯時，都應行吻足禮。他也可以廢止任何命令，乃至罷免皇帝，解除臣民對暴君的義務。這人最可能是：(A) 8、9 世紀時人稱大帝的法蘭克王查理 (B) 11 世紀改革教會的教宗格列高里七世 (C) 16 世紀中主張改革教會的馬丁·路德 (D) 17 世紀主張「朕即國家」的路易十四 【107 學測題】

第一任羅馬主教 → 教宗 { 1. 政治中心, 2. 彼得磐石說, 3. 利奧一世力退阿提拉 }

62. (D) 17 世紀時，某國曾響應共同抵禦伊斯蘭教入侵的號召，出兵加入歐洲聯軍，國勢頗強。其後，強大貴族勢力開始侵凌王權，內部爭鬥不斷，國勢逐漸衰落，引起鄰國覬覦，終遭列強瓜分，消失於歐洲政治版圖，第一次世界大戰後雖得復國，第二次世界大戰期間又遭占領，戰後才得再度建國。這個國家是：(A) 義大利 (B) 奧地利 (C) 希臘 (D) 波蘭 【107 學測題】

(同 55 題)

63. (C) 附表為某次戰爭中，德意志地區共同組成聯軍的兵力配置表。此次作戰，德意志聯軍利用火車運輸，快速造成對手國極大損失，該國被迫簽訂條約，割地賠款，結束戰局。其政府威信大失，帝制遭到廢除，改行共和。這場戰爭最可能是：

	步兵	騎兵	大砲
北德同盟	385,600	48,000	1,284
巴伐利亞王國	50,000	5,500	192
威登堡	15,000	1,500	54
巴登	11,700	1,800	54

(A) 1806 年反法同盟戰爭 (B) 1866 年的普奧戰爭 (C) 1870 年的德法戰爭 (D) 1914 年一次世界大戰 【107 學測題】

可見德國尚未統一 D

A. 聯軍戰敗而非對手戰敗。
B. 奧國未結束帝制。
C. 拿破崙三世退位 NO. 2 帝國 → NO. 3 共和。

亨利八世《至尊法案》

64. (C) 某一時期，英國國王下令關閉修道院，沒收教會財產，將其土地出售給富人，不僅獲得巨大利益，也調整政教關係。請問依據題文資訊，上述事件最可能發生於何時？ (A) 13 世紀約翰王簽署大憲章，重新確認國王與貴族的關係 (B) 15 世紀百年戰爭後，英王放棄在法國權力轉而注重內政 (C) 16 世紀宗教改革時，英王欲排除羅馬教會在英國的勢力 (D) 17 世紀時英王迫害清教徒，許多清教徒流亡北美洲地區 【108 學測題】

A. 限制王權 B. 放棄歐陸 → 仍歸羅馬教會所管 D. 恢復舊教

65. (C) 巴剎 (Bāzār) 原為波斯文中的市場之意，多指有頂棚遮蓋的商業街道，在其中販售各種商品。現在，馬來西亞、印尼等東南亞地區及中國西北地區如新疆，也將市場稱為「巴剎」。學者研究，這是某種語言借用「巴剎」的名稱後，向各地推廣所致。這種語言應是： (A) 英語 (B) 印度語 (C) 阿拉伯語 (D) 西班牙語 【108 學測題】

伊斯蘭教：通用語

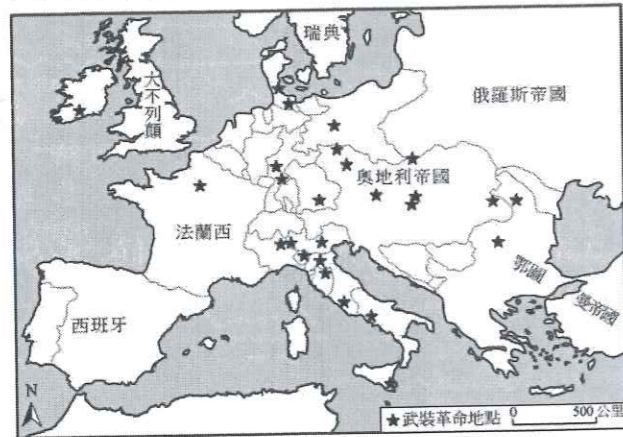
66. (A) 美國於 1954 年 9 月聯合英國、澳洲、法國、紐西蘭、巴基斯坦、泰國和菲律賓組成「東南亞公約組織」，其組織的目標與內容都與北大西洋公約組織類似，總部設於曼谷。美國原本希望我國也加入，但因各種原因而未果。美國補救的方式是： (A) 另與我簽訂共同防禦條約 (B) 支持我成為聯合國會員國 (C) 要求各國遵守聯合國憲章 (D) 支持我國加入東南亞國協 【108 學測題】

「公約組織」：美國為圍堵共產勢力的軍事防禦組織

67. (D) 某人到非洲某地旅行時寫道：「從機場到市區的公路寬闊又平整，公路兩邊麥田、葡萄園、橄欖園到處可見。進入市區後，歐式建築相當普遍，中心區的主幹道兩邊有好多露天咖啡館，我挑個位子坐下，一邊品著中東式的濃咖啡，一邊看有軌電車從眼前叮叮噹噹地駛過，感覺簡直和歐洲毫無分別。不過，這裡的咖啡館幾乎全是男性工作人員與顧客，看不到女性。」請問該地區農業和市區景觀具有濃厚歐洲色彩，主要和哪些國家的殖民經驗有關？ (A) 英國、荷蘭、義大利 (B) 荷蘭、德國、西班牙 (C) 英國、法國、比利時 (D) 法國、西班牙、義大利 【108 學測題】

葡萄、橄欖 → 地中海型氣候的作物

68. (D) 附圖是 1848 年至 1849 年歐洲一系列武裝革命運動的分布情形，這波革命運動雖然都以失敗告終，但對歐洲的影響卻極為深遠。請問下列歷史事件中何者深受該系列武裝革命運動的影響？



A. 16 世紀，時間不符。
B. 受英國影響而非法國。
C. 受工業革命 → 新帝國主義影響
(1848 年二月革命 激起各地民族主義興起 保守勢力垮台)

(A) 宗教改革的風潮向北歐轉移 (B) 工業革命漸向歐陸各國擴散 (C) 殖民擴張成為各國首要目標 (D) 德國、義大利完成國家統一 【108 學測題】


69. (A) 15 世紀中葉，葡萄牙人在大西洋東部海域馬德拉群島開始種植甘蔗；16 世紀中葉，葡萄牙殖民巴西以後，又在當地發展蔗糖產業。由於蔗糖屬於勞力密集產業，於是引進大量外來勞工。請問這些外來勞工主要為下列何者？ (A) 非洲黑人 (B) 華工 (C) 歐洲罪犯 (D) 北美印第安人 【109 學測題】

人口銳減

東南亞

名媛 沙龍 哲士

70. (D) 歐洲某一時期，城市裡有些地位高貴的夫人，經常在自己的宅第邀請智識菁英、上流社會人士聚會，進行思想交流與評論，參與者多自視為文人雅士。這些高貴夫人有權挑選客人、制定規則和聚會討論主題，凸顯當時女性在這種知性聚會的核心角色。後人以為，經常舉行的這類聚會，不僅成為該時期的特殊文化現象，且對後來的歷史發展影響深遠。請問上述現象最常出現於何時何地？ (A) 西元前 4 世紀的雅典 (B) 14 世紀的佛羅倫斯 (C) 16 世紀的羅馬 (D) 18 世紀的巴黎 【109 學測題】




71. (C) 附圖是某文化圈具代表性的裝飾花紋。該文明因不允許偶像崇拜，是以在藝術表現上不見神像或聖像，而是以花草、文字，以及幾何圖形的重覆運用構成畫面。此種藝術手法常見於其宗教建築或宮殿的牆面。文中所指的最可能是下列哪個宗教的文化圈？ (A) 印度教 (B) 希臘正教 (C) 伊斯蘭教 (D) 羅馬教公 【109 學測題】

72. (B) 1935 年，美國《時代雜誌》以一位蘇聯礦工為封面 (附圖)。根據報導，這位礦工發明新的採煤方式，創下高出政府訂定生產目標十幾倍的紀錄。蘇聯政府特別表揚他，以激勵國人，並凸顯蘇聯經濟體制的優越。《時代雜誌》報導這則新聞的背景最可能是： (A) 為共同打擊法西斯主義，美國希望與蘇聯合作 (B) 美國國內的經濟不景氣，關切蘇聯的經濟發展 (C) 美國認為蘇聯重工業發達，欲拉攏蘇聯以制德 (D) 時代雜誌立場左傾，成為蘇聯在美國的代言人 【109 學測題】

戰後經濟大恐慌

蘇：計劃經濟 → 不受大蕭條影響

A. C. 美孤立 不贊歐洲事務



73. (D) 唐宋以後，南海貿易不再只是奇珍異寶的輸入，更有中國的茶葉、瓷器等商品輸出。這個變動除了反映中國生產與經濟的發展之外，也與南海形勢的「重大變化」有關。導致這個「重大變化」的原因最可能是： (A) 南洋諸國開始盛行佛教 (B) 印度人大量移民東南亞 (C) 南洋諸國航海技術進步 (D) 阿拉伯勢力進入東南亞 【109 學測題】

74. (C) 學者研究，西非某地普遍流行的蠟染花布與印尼傳統的蠟染花布圖案相似，應當源自印尼。這種情況發生的原因最可能是： (A) 該地的居民為印尼移民後裔，傳承原有文化 (B) 16 世紀起，英人便掠捕印尼居民販至該地 (C) 荷蘭曾在該地設有貿易據點，輸入印尼土布 (D) 19 世紀時，英商將花布輸往兩地造成流行 【109 學測題】

→ 印尼：荷蘭東印度公司所在 (巴達維亞)

75. (B) 甲國企圖以經濟戰手段迫使乙國屈服，並保護自己的經濟發展，乃宣布禁止一切來自乙國的貨物登陸歐洲大陸；還在其統治區內，追查乙國商人並沒收乙國貨物，造成乙國經濟危機，引發社會動盪。但乙國尚有許多海外貿易，仍可支撐其經濟。這種情形最可能是： (A) 1651 年，英國公布航海法，封鎖荷蘭貿易活動 (B) 1806 年，拿破崙為壓迫英國，發動對英國封鎖 (C) 1917 年，德國發動無限制潛艇作戰，封鎖英國 (D) 1941 年，美國對德國宣戰之後，封鎖德國貿易 【110 學測題】

A 禁止荷 → 北美

B. 大陸政策 俄未遵守 41 → 拿破崙在俄

C 引起經濟危機

D 德海外貿易不盛

76. (C)地圖幫助人們以空間的方式來理解世界中的事物、概念、情況、過程或事件。附圖為一幅繪製於某時期的世界地圖，蘊含著當時人對世界的觀察與理解。圖面正中間的區域，一直是東西文化交流頻繁之地，在現代也具有重要的戰略地位。2018年甲處水域的鄰近各國召開會議並簽署公約，以確保各國的政治、經濟利益。



請問根據附圖中出現的陸塊及其形狀、大小、方位等，推論這幅世界地圖最可能繪製於何時？ (A)8世紀，阿拉伯帝國從北非進入伊比利半島後 (B)11世紀，羅馬天主教廷發動十字軍運動之時 (C)16世紀，哥倫布最後一次探訪美洲新大陸後 (D)19世紀，歐洲的列強協議瓜分非洲大陸之時【109學測題】

美洲仍不完整
已知美洲→16世紀→刪AB
→刪D

77. (B)有人回憶：當時，食物都要配給，沒有咖啡，但有糖和紅茶。每次參加茶會，都要自備糖和茶葉。原本商店中還有牛油和乳酪，大多來自紐西蘭或加拿大，現在也少了。經常一個月也吃不上一斤肉，天天吃鱈魚。有一段時間，政府領導人還提倡自己種植糧食作物，解決糧食短缺問題。這最可能是何時何地的景象？ (A)一次世界大戰時的德國 (B)二次世界大戰時的英國 (C)文化大革命時期的中國 (D)首次石油危機時的伊朗【110學測題】

英國殖民地

78. (A)某國的動力織布機技術在十九世紀初獨步全球，該國嚴格控管此關鍵技術，避免秘密外洩。一名外國技師刻意潛入該國工廠學習，花費六個月將所有技術細節記在腦中，回國後憑記憶建立相同的動力織布工廠，推動自己國家的工業技術革新。此情況最可能是： (A)他從英國偷學技術，帶回美國 (B)他從英國偷學技術，帶回日本 (C)他從美國偷學技術，帶回印度 (D)他從美國偷學技術，帶回俄國【111學測題】

B 日本仍在鎖國，1868才開始工業化。 CD 美國到19世紀中才工業化。

79. (B)據統計，二次世界大戰期間德國平民死亡約117萬人，占該國1939年總人口1.6%；蘇聯平民死亡約1400萬人，占該國1939年總人口7.3%。蘇聯平民死亡人數與比率均遠多於德國的原因為何？ (A)納粹黨在東歐多處設立大型滅絕營，用毒氣殺害當地人 (B)蘇聯是主要戰場，戰火摧殘人命外，還有缺糧飢荒問題 (C)德、義、日軸心國武器優越，超過蘇聯、英、美同盟國 (D)為對付全球反共產勢力，大量的蘇聯士兵駐防東歐國家【111學測題】

A 對象為猶太人 C 雙方武器等級相當 D 為二戰後 B 中連林格勒攻防戰

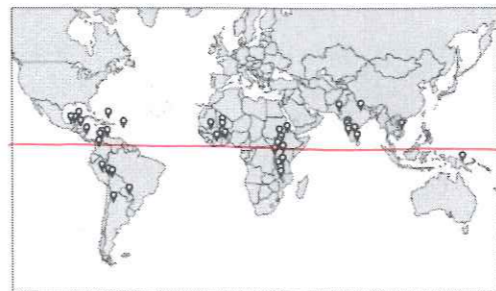
80. (C)二十世紀初期，某人嚴厲抨擊貨幣的使用：「誰還需要該死的貨幣？生活意味著食物、衣服、房子與休息，沒有貨幣這種金屬與碎紙片，我們依然可以快樂生活。貨幣將會失去意義，政府應以實物取代貨幣，作為工作所得」。此人的論述反映下列哪個主義的觀點？ (A)重商主義 (B)自由主義 (C)共產主義 (D)法西斯主義【111學測題】

社會主義
激進派

重私有
穩定

42

81. (C)公平貿易指的是在農產品的產銷過程中，確保生產者獲得公平的報酬、勞動者獲得應有的保障、環境可以得到保護的一種制度。附圖為參與公平貿易生產商的分布，這些生產商的分布區，具有哪些共同的時空背景？



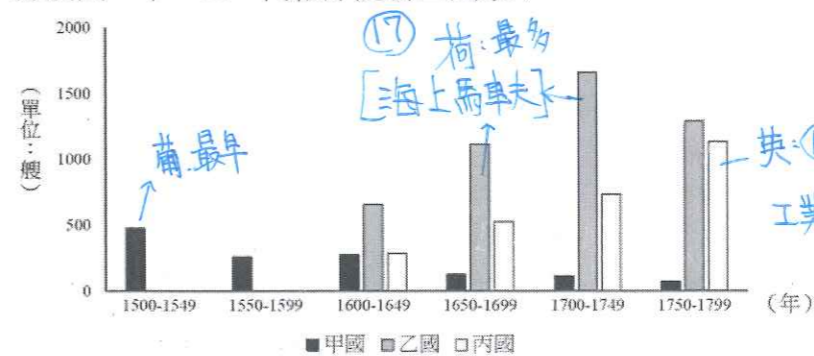
[歐亞非無美洲]

(A)多位於熱帶沙漠區，八至九世紀時曾為阿拉伯帝國的勢力範圍 (B)多位於熱帶季風區，十至十三世紀曾為東亞人群外流的移入地 (C)多位於熱帶氣候區，二十世紀中期以前曾先後遭歐洲列強殖民 (D)多位於信風帶，二十世紀後期冷戰期間曾為美蘇競爭的緩衝區【111學測題】

未及美洲
19世紀才有華工赴美

東歐

82. (A)附圖為1500年至1799年間，從歐洲出發，前往亞洲海域貿易前三名國家的船隻數量變化圖。根據該圖，甲、乙、丙依序是哪些國家？



17 荷:最多
海上馬車夫

葡:最早

英:18
工業革命

■甲國 ■乙國 □丙國

(A)葡萄牙、荷蘭、英國 (B)西班牙、英國、荷蘭 (C)荷蘭、英國、西班牙 (D)英國、葡萄牙、荷蘭【111學測題】

83. (B)某校歷史課進行「歐洲與非、美兩洲的交流」探究學習時，以一幅歐洲十七世紀流傳的蔗糖生產過程圖，說明當時蔗糖逐漸取代蜂蜜，成為歐洲人最重要的甜味來源。圖中糖廠最可能在何地區？



氣臭不適宜

(A)北非的阿爾及利亞 (B)中美洲西印度群島 (C)北美洲的紐芬蘭島 (D)中部非洲剛果盆地【111學測題】

17 鄂圖曼

43

歐人
19世紀
才進入
臺灣

二、題組題：

1. 印度境內德干高原種植咖啡，據說起源是十七世紀一位宗教修行者根據教義規範，前往聖地履行一生至少朝覲聖地一次的義務時，從葉門摩卡帶回了種子。歐洲人在印度殖民時，將印度生產的咖啡豆以海運載回殖民母國。咖啡豆在長時間的航程中受濕潤海風吹拂，形成獨特風味，頗受消費者喜愛。十九世紀後，隨著海運技術改進和新航道開通，航程大幅縮短，這些獨特風味不再，於是咖啡業者便在鄰近產地的馬拉巴海岸開設風漬場，先讓溫暖潮濕季風吹拂咖啡豆數個月，增添其獨特風味，稱為「季風馬拉巴」咖啡。請問：



- (B)(1)文中這位朝聖者信仰的宗教最可能是：(A)印度教 (B)伊斯蘭教 (C)猶太教 (D)希臘正教
 (D)(2)文中提到的新航道，最可能是指下列何者？ (A)英吉利海峽 (B)麻六甲海峽 (C)巴拿馬運河 (D)蘇伊士運河
 (B)(3)馬拉巴海岸最可能位在圖中何處？ (A)甲 (B)乙 (C)丙 (D)丁 【110 學測題】

[地理]

2. 歐洲某一時期，城市裡有些地位高貴的夫人，經常在自己的宅第邀請智識菁英、上流社會人士聚會，進行思想交流與評論，參與者多自視為文人雅士。這些高貴夫人有權挑選客人、制定規則和聚會討論主題，凸顯當時女性在這種知性聚會的核心角色。後人以為，經常舉行的這類聚會，不僅成為該時期的特殊文化現象，且對後來的歷史發展影響深遠。請問：

- (D)(1)上述現象最常出現於何時何地？ (A)西元前 4 世紀的雅典 (B)14 世紀的佛羅倫斯 (C)16 世紀的羅馬 (D)18 世紀的巴黎 [同 P. 41. 90]
 (D)(2)對當時該現象展現之文化形式與特性的描述，下列敘述何者最為適當？ (A)從普遍流行情況來看，可推論其屬性為大眾文化 (B)女性藉此獲得發言權，屬多元文化政策之發展 (C)智識菁英的普遍參與，反映出具有官方文化特色 (D)參與者形成特定認同，顯示文化具身分區別作用 【109 學測題】 [公民]

3. 十六世紀時，某國管轄今墨西哥、除巴拿馬外的中美洲各地、美國西南部地區等，設置總督府，下轄瓜地馬拉都督、古巴都督及菲律賓都督，臺灣部分地區也曾為其控制。當時該國的瓜地馬拉都督（轄區包括今日的瓜地馬拉、薩爾瓦多、宏都拉斯、尼加拉瓜、哥斯大黎加、墨西哥東部）特別重視在當地取得某項物產資源，因而常與原住民對峙。但該區內的原住民認為傳教士能夠融入當地文化，因此對傳教士相對友善。請問：

- (D)(1)這個總督府屬於何國？ (A)英國 (B)荷蘭 (C)葡萄牙 (D)西班牙
 (A)(2)當時傳教士在上述都督區傳教時，記錄許多當地特殊的地理現象。這些現象最可能包括下列何者？甲、颶風（颱風）；乙、地震；丙、龍捲風；丁、沙塵暴
 (A)甲乙 (B)甲丁 (C)乙丙 (D)丙丁 【110 學測題】

4. 愛爾蘭土地肥沃，盛產大麥、小麥等穀類。十三世紀以後，愛爾蘭即受英國統治，長期成為穀物供應者。十七世紀以後，愛爾蘭人民以馬鈴薯為主食。1845 至 1852 年間，愛爾蘭馬鈴薯歉收，發生嚴重饑荒，約有 20% 以上的人口死亡或移民。研究指出，晚疫病應是造成馬鈴薯歉收的主因，其主要傳播途徑來自空氣或人畜攜帶，尤其在持續低溫、高濕的環境最容易傳播，而多雨加上強風更助長其快速蔓延，極短時間即可造成馬鈴薯廢耕。學者分析，在饑荒時期，愛爾蘭歉收的作物只有馬鈴薯，然輸出至英國的穀物，據推算足以養活當時愛爾蘭的兩倍人口，因而認為饑荒實為人禍。饑荒之後，愛爾蘭展開大規模佃農運動，組織聯盟，爭取權益，提出幾項訴求，包括：土地買賣自由、保障佃租契約與合理地租。請問：

- (A)(1)若以投入、過程、產出、回饋為馬鈴薯農業系統的四個環節，根據上文，最可能是在哪個環節內的自然要素發生變化，使得晚疫病快速傳播蔓延，造成馬鈴薯廢耕，而使整個系統運作出現崩壞現象？ (A)投入 (B)過程 (C)產出 (D)回饋
 (A)(2)依上文推論，除馬鈴薯歉收外，最可能造成愛爾蘭饑荒的主要原因是： (A)愛爾蘭地主抽取高地租，造成愛爾蘭人民窮困，無力購買高價穀物 (B)愛爾蘭人自古以來就以馬鈴薯為主食，不慣食用新引進的穀類作物 (C)愛爾蘭篤信宗教，視馬鈴薯發生疫病為天譴，情願受罰而不食穀物 (D)英國政府因愛爾蘭人民叛服無常，閣員主張嚴懲，故禁止輸入穀物 【110 學測題】

美洋作物
不致於饑荒

5. 附圖是幅流傳於歐洲某時期的諷刺畫。此圖（由左至右）將方濟會修士穆納、神學家埃姆澤、教宗利奧十世、神學家艾克，以及神學家萊普，分別繪製成貓、公羊、反基督的獅子、豬，以及狗。請問：



(16世紀)
批評教會人士 → 始於宗教改革時
B. 路德教派

- (B)(1)依據你的歷史知識，此諷刺畫最可能出現於何時何地？ (A)15 世紀的義大利 (B)16 世紀的日耳曼 (C)17 世紀的西班牙 (D)18 世紀的法蘭西 A、B、D 為天主教地區
 (B)(2)此種諷刺文宣品的刊布與流傳，與當時哪種歷史發展的關係最為密切？ (A)方言文學流行 (B)印刷術的盛行 (C)大航海時代的來臨 (D)資本主義制度興起 【109 學測題】

古騰堡

6. 15 世紀中葉，葡萄牙人在大西洋東部海域馬德拉群島開始種植甘蔗；16 世紀中葉，葡萄牙殖民巴西以後，又在當地發展蔗糖產業。由於蔗糖屬於勞力密集產業，於是引進大量外來勞工。請問：

- (A)(1)這些外來勞工主要為下列何者？ (A)非洲黑人 (B)華工 (C)歐洲罪犯 (D)北美印第安人
 (B)(2)題文中的葡萄牙人選擇發展蔗糖產業之區位考量，最可能為下列何者？ (A)產地鄰近美國，加上蔗糖不耐久放，故蔗糖需快速運到市場 (B)母國地處溫帶，國內並不適合種蔗，故尋找熱帶殖民地種蔗 (C)產地水力充沛，地勢高低落差明顯，故可提供製糖電力資源 (D)母國人力不足，多投入馬鈴薯生產，故需要到海外招工種蔗 【109 學測題】

[地理]

同 P. 40 69 題

7. 一位出生於阿富汗的思想家，據聞是穆罕默德的後裔，在十九世紀後期見到當時伊斯蘭世界受到西方列強勢力入侵，伊斯蘭族群四分五裂，且當時最大的伊斯蘭帝國——鄂圖曼帝國也無法善盡保護伊斯蘭世界之責。為了讓伊斯蘭世界團結共同抵禦列強，他走訪中東、北非、歐洲各地，倡議「泛伊斯蘭主義」，嘗試建立跨宗派、地域、民族的單一伊斯蘭國度。「泛伊斯蘭主義」不是與西方對抗的軍事行動策略，也非教條儀式與民族主義，而是強調以伊斯蘭的基本信仰為普遍生活倫理規範，以此團結伊斯蘭世界並促進其政治現代化。請問：

- (B)(1) 當時鄂圖曼帝國面臨的危機為何？ (A) 帝國多次進攻基督教大城維也納未果，伊斯蘭勢力擴張失敗 (B) 新帝國主義者覬覦近東地理區位與資源，使得國土深受威脅 (C) 世界大戰爆發，帝國加入德、奧匈帝國陣營，戰後國勢衰弱 (D) 軍人凱末爾推動西化政策，引起保守者反抗，國內政局不安
A. 17世紀 C. D. 20世紀
- (C)(2) 依據題文資訊，下列有關該思想家主張的敘述，何者最能凸顯「泛伊斯蘭主義」的社會規範功能？ (A) 對抗西方諸列強入侵的武力團結主義 (B) 避免伊斯蘭世界分裂的國家民族主義 (C) 重建伊斯蘭文化共同價值與集體信念 (D) 教育穆斯林信徒遵守伊斯蘭宗教儀式
阿富汗 阿拉伯
- (D)(3) 該思想家的出生地被納入伊斯蘭世界的一部分，最可能是透過下列哪種文化擴散過程？ (A) 從尼羅河流域向西越過撒哈拉沙漠擴散而來 (B) 從尼羅河流域向北越過地中海海域擴散而來 (C) 從阿拉伯半島向東南經過南洋群島擴散而來 (D) 從阿拉伯半島向東北經過伊朗高原擴散而來 【111 學測題】

8. 地圖幫助人們以空間的方式來理解世界中的事物、概念、情況、過程或事件。附圖為一幅繪製於某時期的世界地圖，蘊含著當時人對世界的觀察與理解。圖面正中間的區域，一直是東西文化交流頻繁之地，在現代也具有重要的戰略地位。2018 年甲處水域的鄰近各國召開會議並簽署公約，以確保各國的政治、經濟利益。請問：



- (C)(1) 根據圖 13 中出現的陸塊及其形狀、大小、方位等，推論這幅世界地圖最可能繪製於何時？ (A) 8 世紀，阿拉伯帝國從北非進入伊比利半島後 (B) 11 世紀，羅馬天主教廷發動十字軍運動之時 (C) 16 世紀，哥倫布最後一次探訪美洲新大陸後 (D) 19 世紀，歐洲列強協議瓜分非洲大陸之時
[同 142-76 題]
- (D)(2) 題文提及的甲處戰略地位，最可能指的是下列何者？ (A) 歐盟政治軍事勢力向東擴張的跳板 (B) 控制俄羅斯出入地中海的航道扼塞 (C) 北美西岸與亞洲大圓航線必經之處 (D) 當地蘊藏豐富的石油與天然氣資源 【109 學測題】

[地理] 46 A. 東歐 B. 土耳其 D. 中亞 裏海一帶

阿克蘇姆 (東北非國家) [埃及南方]

9. 古代某國位於印度與羅馬的商道之間，鑄造貨幣，繁榮商業，經濟發達。該國也是農業國家，生產大麥、小麥，也飼養牛、羊及駱駝。除象牙、犀角與食鹽外，甚至輸出大批奴隸。西元四世紀時，該國與羅馬君士坦丁皇帝結盟，共同對抗波斯帝國，並加強貿易。請問：

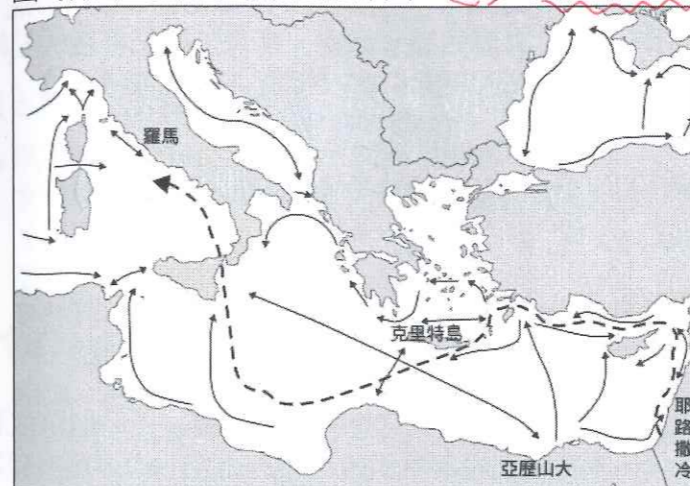
- (A)(1) 該國的管轄範圍，最可能位於下列哪個地帶的部分地區？ (A) 撒赫爾 (B) 高加索 (C) 馬其頓 (D) 賽普勒斯
- (C)(2) 羅馬人最可能需要何種來自印度的商品？ (A) 咖啡 (B) 瓷器 (C) 香料 (D) 茶葉 【110 學測題】

↓
[撒哈拉的海岸]

東非 17 世紀 中國 10-13 宋 → 阿拉伯 10 世紀 中國 農

三、混合題

1. 猶太教與基督教的信仰屬性，及其對「神的選民」的看法略有異同，以致二者常有紛爭。西元一世紀，猶太宗教領袖在耶路撒冷以基督教傳道者保羅褻瀆猶太教，且無法證明自己清白為由，控告保羅並要求對其處刑。當時羅馬法律規定：非經審判，羅馬公民不得被捆綁、監禁或鞭打。保羅因具有羅馬公民身分，故要求交羅馬當局處理，於是當地總督在夏季末期，將保羅押送至羅馬審判。附圖為羅馬帝國時期東地中海的航運路線圖，虛線為押送保羅航線，實線為地中海貿易線。請問：【111 學測題】



- (C)(1) 文中所敘述之事件，乃發生於羅馬人統治的時代。時至今日，若以法治國家理念檢視此案，可看出題文中羅馬法律保障羅馬公民的規定，與下列何種近代法律重要原則的精神最為接近？ (A) 自由心證原則 (B) 公開審理原則 (C) 無罪推定原則 (D) 偵查不公開原則 [公民]
- (C)(2) 保羅從耶路撒冷被押解去羅馬的航程中，前期與一般貿易航線類似，沿著陸地前行，利用地形來減輕航行的障礙。若從行星風系的大氣環流角度，押解保羅的航程沿陸地前行，最可能是為了避開哪一行星風帶或氣壓帶的影響？ (A) 東北信風帶 (B) 極圈氣旋帶 (C) 盛行西風帶 (D) 副熱帶高壓帶 [地理]
- (3) 請問猶太教與基督教的信仰屬性分別是「一神信仰」或「多神信仰」？以及此二宗教對「神的選民」之看法分別為何？請在答題卷表格中作答。(非選擇題)

	猶太教	基督教
信仰屬性	① 一神信仰	② 一神信仰
神的選民	③ 猶太人 (希伯來以色列) 是神的唯一選民	信仰神，並得到恩寵者即是神的選民