

普台高級中學

111 學年度 歷史科歷屆學測指考試題 與 歷史重點提要

「最偉大的將軍就是犯錯最少的那一個。」

—拿破崙

班級：高三____班

姓名：_____

歷屆學測試題(台灣史篇，共 60 題)

一、單一選擇題：(共 45 題)

1. (A) 一名臺灣官員向朝廷報告：「臺地無源可開，但通其流，而源自裕。米穀不流通，日積日多……蓋由內地食洋米而不食臺米也。不食臺米，則臺米無去處，而無內渡之米船。無內渡之米船，則無外來之貨船。」依據你對東亞歷史的了解，文中的「洋」指何而言？「洋米」自何地輸入？ (A)指南洋，由東南亞輸入 (B)指東洋，係由日本輸入 (C)指西洋，係由歐洲輸入 (D)指印度洋，由印度輸入 【98 學測題】
2. (A) 臺灣原本不產耕牛，主政者在南北兩路各設「牛頭司」，負責引進牛隻繁殖，以用於耕作。主政者並在各地修築水利設施，提供耕牛、農具與種籽；又大量招募「中土遺民」前來開墾。這是何時的情況？ (A)荷蘭時期 (B)清領初期 (C)日治時期 (D)戰後初期 【101 學測題】
3. (A) 日本軍方在一份布告書中說：「我軍所向，蕃人懾服。」但當要與清國議和之際，清國政府生出異議，未能立刻達成和議。「現在，兩國商議已決，即將接受清國請求而撤軍，並將該地人民交還清國。」這份布告書應當是： (A)牡丹社事件後日軍的公告 (B)日軍占領琉球之後的公告 (C)甲午戰後日軍對臺的公告 (D)日俄戰爭期間對東北公告 【101 學測題】
4. (C) 一位作家呼籲：希望作家不要身處危難，卻仍然成天做著新式或舊式的鴛鴦蝴蝶夢。我們要關心現實，寫我們的現實，主要一點便是反買辦、反崇洋媚外、反分裂的地方主義。這段話反映哪個時期臺灣的文學思潮？ (A)1950 年代的反共文學 (B)1960 年代的現代文學 (C)1970 年代的鄉土文學 (D)1980 年代的浪漫文學 【101 學測題】
5. (C) 近世臺灣開發以來，逐漸形成「大租戶——小租戶——佃戶」的土地所有與經營結構。某個時期，政府為了解決財政不足的問題，除了清查全臺土地，防止逃漏稅外，更以行政命令，剝奪某個層級地主的土地所有權，而以政府發行的公債以及現金作為補償。如此一來，政府得以向直接經營土地者徵稅，擴大徵稅對象，稅收也得以增加。這次土地所有權的變動最可能是指： (A)鄭成功實施屯田制 (B)劉銘傳行減四留六法 (C)日本取消了大租權 (D)國民政府三七五減租 【101 學測題】
6. (B) 一位民意代表主張：「今日臺灣發電條件豐富，政府應研究鐵路電氣化的可能性，其經濟效益可提高人民所得。」主管交通的官員答覆：「關於鐵路電氣化問題，美援會研究認為需再慎重，本案中央繼續研究中。」這位民意代表最可能是： (A)1930 年代，街庄協議會的議員 (B)1960 年代，臺灣省議會的議員 (C)1980 年代，立法院的立法委員 (D)1990 年代，國會中的國大代表 【101 學測題】
7. (C) 臺灣總督在就職時指出：「本政府統治方針本於『臺灣為帝國領土之一部』的精神。我們應當啟發臺人之智能德操，使其感受朝廷一視同仁的美意，希望醇化臺人，使其與內地人融洽相處，進而使臺灣與內地無異。」這位總督最可能是： (A)1895 年接收臺灣，鎮壓抗日的樺山資紀 (B)1902 年肅清「臺地匪亂」的兒玉源太郎 (C)1919 年結束軍事統治的文官總督田健治郎 (D)1936 年推動臺灣進入戰時體制的小林躋造 【102 學測題】

8. (D) 附表為 1910 年到 1940 年間臺灣人口的統計資料。表中丙、丁代表的族群分別是：

年份	甲族群 (萬)	比率 %	乙族群 (萬)	比率 %	丙族群 (萬)	比率 %	丁族群 (萬)	比率 %	總計 (萬)
1910	306	92.9	1.48	0.4	12.2	3.7	9.8	3.0	329.9
1920	343	91.4	2.48	0.7	13.0	3.5	16.6	4.4	375.7
1930	425	91.0	4.66	1.0	14.0	3.0	23.2	5.0	467.9
1940	552	90.9	4.61	0.8	15.8	2.6	34.6	5.7	607.7

- (A)丙為臺灣人、丁為原住民 (B)丙為外國人、丁為臺灣人
(C)丙為日本人、丁為外國人 (D)丙為原住民、丁為日本人 【102 學測題】

9. (A) 一個展覽會中，主辦單位不僅邀請來自北海道、京都、大阪、朝鮮等地的機構與企業設館參展，也廣邀滿洲國、暹羅、福建等地的公私團體，展出各地特產。展場中另有一些具有特色的主題館，如糖業館與林業館。這是哪個展覽會的情況？ (A)1935 年臺北的始政四十年博覽會 (B)1970 年在大阪舉行的萬國博覽會 (C)1975 年在沖繩的世界海洋博覽會 (D)2010 年在上海舉行的世界博覽會 【102 學測題】

10. (C) 一首讚美臺灣風情的歌謠說：「海岸線長山又高，處處港口都險要。四通八達有公路，南北是鐵道，太平洋上最前哨，臺灣稱寶島。」介紹物產時指出：「四季豐收蓬萊稻，農村多歡笑，白糖茶葉買賣好，家家戶戶吃得飽。鳳梨西瓜和香蕉，特產數不了，不管長住和初到，同聲齊誇耀。」這首歌謠創作的背景最可能是： (A)1890 年代，臺灣慶祝第一條鐵路通車典禮 (B)1910 年代，日本總督府完成縱貫鐵路建設 (C)1950 年代，臺灣實施經濟改革，漸有成效 (D)1980 年代，中共統戰歌謠，爭取臺灣民心 【102 學測題】

11. (C) 某一時期中，臺灣某地曾經發生官民衝突，事件平定後，政府不僅嚴厲處分參與者，也連帶處罰其左鄰右舍，科以相當於一個工人半年工資的高額罰款。這種情形最可能發生於： (A)荷蘭統治時期，因漢人人數較多，荷蘭人欲以連坐法威嚇 (B)清朝統治時期，因財政短缺，欲以高額罰款彌補軍費不足 (C)日本統治時期，為壓制臺民反抗政府，乃採行保甲連坐制 (D)政府遷臺之後，為阻止共黨勢力蔓延，乃實施保甲連坐制 【103 學測題】

12. (A) 幾位同學考察「臺灣考古遺址分布圖」時，發現臺灣西部海岸很少有新石器時代遺址，各人紛紛推測造成這個現象的原因，下列哪個說法最合理？ (A)西部人口稠密，開發過速，遺址遭破壞殆盡 (B)二次大戰時，美軍轟炸臺灣，遺址遭到破壞 (C)西部海岸河口沙洲發達，史前人類活動困難 (D)因斷層經過，地震頻繁，史前人類無法定居 【103 學測題】

13. (A) 日本統治臺灣初期，總督府認為男性留辮、女性纏足都為陋習，企圖禁止，但成效不彰。然而一段時間後，臺灣人民卻開始剪辮、放足，成為風潮。殖民官員檢討，認為這股風潮並非總督府的政策收效，而是受到其他因素影響。這位官員所指的因素最可能是： (A)辛亥革命推翻滿清政權 (B)威爾遜提倡的民族自決 (C)蔣中正推動新生活運動 (D)七七事變引發中日戰爭 【103 學測題】

14. (A) 某一時期中，一位政治人物表示：臺灣經濟仍以農業為主，農民占人口總數 60% 以上，而佃農戶約占總農戶總額的 68.8%。如想要社會安定，經濟發展，必須實施此項新政策。此項新政策應是： (A) 三七五減租 (B) 漲價歸公 (C) 土地國有 (D) 肥料換穀【103 學測題】
15. (B) 十八世紀中，閩南移民來臺後，多聚族而居；同姓之人，常共同興建祠堂，以強化關係。這種現象足以說明清代臺灣漢人社會的哪一項特色？ (A) 移墾社會重視地緣關係 (B) 傳統宗族強調血緣連結 (C) 弱勢移民強調團結合作 (D) 原鄉信仰深入移民社會【103 學測題】
16. (D) 一份民間刊物針對臺灣當時的政治現況提出幾點呼籲，包括：政府應依據憲法行政、總統不可擴權、總統不應連選連任；政府應保障基本人權，反對國民黨一黨專政，要求政府應當准許成立其他政黨；以及軍隊國家化。這份刊物最可能是： (A) 1910 年代的《新青年》 (B) 1920 年代的《臺灣青年》 (C) 1920 年代的《臺灣民報》 (D) 1950 年代的《自由中國》【103 學測題】
17. (C) 瑞芳的金瓜石曾有座戰俘營，關押了一千多名來自英、美、加拿大等國的戰俘，被迫採掘銅礦。因為生活與工作條件都差，醫藥又不足，不少戰俘命喪於此。這些戰俘的來源應是： (A) 1860 年英法聯軍之役中被俘虜的官兵 (B) 1914 年日本與德國開戰時俘虜的戰俘 (C) 1942 年日本在東南亞戰區俘虜的戰俘 (D) 1972 年越戰期間臺灣收容的各國戰俘【103 學測題】
18. (B) 一位官員上奏朝廷：「水師提督一職至關重要。賊眾已經無法在陸路造成影響，如果水師戰勝，則賊眾自然敗走臺灣。如果水師不勝，則賊眾仍將盤據廈門。若要想與賊眾決一死戰，必須倚賴水師提督。」這個奏摺的背景是： (A) 明末官員要驅逐在東南沿海的倭寇 (B) 清初官員要驅逐鄭成功的殘存軍隊 (C) 清末官員希望驅逐廣東的英國商人 (D) 甲午戰爭時官員要驅趕進犯的日軍【104 學測題】
19. (B) 1620 年代，荷蘭西印度公司在今紐約市曼哈頓島上建立一座城堡，以保護移民與商人。同一時期，荷蘭東印度公司亦在臺灣建立城堡，作為貿易據點。荷蘭人在曼哈頓與臺灣建立據點的動機之一，是蒐購這兩個地方都出產的一種商品，以供歐洲市場之需。這種商品是： (A) 香料 (B) 獸皮 (C) 棉布 (D) 蔗糖【104 學測題】
20. (A) 清中葉時，一位臺灣官員指出：臺灣科舉考試常有出人意料的狀況，例如政府公告考期之後，往往有福建漳、泉兩府的考生渡海來臺，報名參加考試。這些考生趕往臺灣報名應試的動機是： (A) 臺灣設有保障名額，較易中舉 (B) 臺灣考官腐敗，較易賄賂舞弊 (C) 在臺灣任官，薪水較內地優渥 (D) 臺灣物價較廉，來臺花費較低【104 學測題】

21. (C) 官方調查指出：近來有農民因經濟困難或希望獲取高利，乃用訂立假借據的方式，以借款抵押名義，將政府放領的土地轉售給其他地主；更有人私自將耕地改建成店面，出租牟利，這種行為大大影響政府政策的效果。官方調查所指的政策應是： (A)減四留六 (B)三七五減租 (C)耕者有其田 (D)發展精緻農業 【104 學測題】
22. (D) 臺灣總督府發布命令，強制收購輸出的蓬萊米，收購價格比市場價格低一、二成左右，但又高於島內主要消費米的在來米價。這道命令的主要目的是 (A)維護臺灣人食用在來米的文化傳統 (B)官方訂定價格，維護臺灣農民權益 (C)增加稻米輸出，確保總督府的收入 (D)管控輸往日本的稻米數量以及價格 【105 學測題】
23. (A) 民國 50 年代，中華民國政府開始推動「外交下鄉，農業出洋」的國際合作計畫，邀請非洲友邦領袖來臺參訪農村，也派出農業專家與援外技術團隊到非洲。這個計畫的主要目的是 (A)爭取非洲國家支持中華民國在聯合國的席位 (B)開發當地天然資源，供應中華民國所需原料 (C)輸出民主制度，促進非洲當地政治的現代化 (D)推廣中華民國成功經驗，體現儒家學說價值 【105 學測題】
24. (B) 歷史記載：「金娘，下淡水番婦，習符咒，為人治病。大軍攻鳳山時，聘請她為軍師。臨陣作戰時，要她唸符咒，祈求神佑。」後來大軍攻破鳳山城，大家都說金娘立了大功，被封為「一品柱國夫人」。金娘後遭生擒，送往北京。金娘參與的是 (A)鄭成功抗清 (B)林爽文事件 (C)乙未抗日軍 (D)二二八事件 【105 學測題】
25. (D) 某國一位國會議員批評某次軍事行動，認為當初遠東軍司令部表示：只要派幾艘軍艦在海面行駛，中國就會退兵。現在我們派了這麼多軍艦前往中國，也不見中國退兵。司令部還說，如果能占領臺灣，中國必定派人求和，現在我們也攻打臺灣，還沒有聽說中國有求和的意思。這場戰爭的軍費，就讓遠東軍自行負擔，國會不應當為這次軍事行動付錢。該國國會議員所提的軍事行動是 (A)1840 年鴉片戰爭 (B)1856 年英法聯軍 (C)1874 年牡丹社事件 (D)1884 年中法戰爭 【105 學測題】
26. (A) 一個經濟發展程度較高的國家常會利用各種手段，將其鄰近地區的經濟生產內容導引至為其提供廉價原料和勞動力的方向。以下在 1930 年代發生的幾個事件中，何者最足以說明這種經濟發展模式？ (A)臺灣總督府推動臺灣工業化，建立工業 (B)甘地反對食鹽公賣制度，號召自行曬鹽 (C)中國與列強交涉，關稅自主，裁撤釐金 (D)羅斯福推動新政，發展公共事業及農業 【105 學測題】
27. (C) 一位美國空軍人員回憶：某處基地駐紮了各型新式戰機，都是循著軍售管道或從我國的軍事顧問團獲得。這些戰機停滿了機場待命區，隨時準備升空，迎擊入侵的敵機。這個場景應當是： (A)1938 年重慶 (B)1944 年上海 (C)1970 年臺中 (D)1995 年臺南 【106 學測題】

28. (A) 一位淡水海關稅務官員的報告中提到：臺北盆地修築了城牆，也蓋了新的衙門，又透過丹麥電氣工程師的協助，衙門裡裝設了電燈，各主要街道也架起了電燈。判斷這份報告在 1880 年代的主要依據是： (A)修城牆、電燈 (B)海關、外國顧問 (C)新衙門、海關 (D)外國顧問、街道 【106 學測題】

29. (D) 1920 年代，一位人士在法院受審時的答辯書中指出：製糖會社極盡榨取蔗農們的膏血，以致農民赤貧如洗；會社中的勞動者，一日勞動的報酬，不能維持家計，其慘澹的生活，令時常目擊的我，感到無限傷心，為此決定加入組織奮鬥。文中這位人士所提到的問題最主要是： (A)家庭的崩潰 (B)司法的迫害 (C)族群的矛盾 (D)經濟的剝削 【106 學測題】

30. (A) 附表是 1951 年到 1961 年間臺灣農戶數百分比的統計表格，我們如何理解這段期間臺灣農戶資料的變化？

時間	自耕農	半自耕農	佃農
1951	38	25	37
1953	55	24	21
1955	59	23	18
1957	60	23	17
1959	62	23	15
1961	65	21	14

(A)實施耕者有其田政策的成果 (B)工業發展，使半自耕農減少 (C)肥料價格上漲，自耕農棄耕 (D)政府不斷鼓勵佃農放棄農業 【106 學測題】

31. (B) 某一時期，政府為了吸收民間存款，特別制定〈臺灣省各行庫舉辦優利儲蓄存款辦法〉，規定每次存入金額不得低於新臺幣 300 元，存期不得少於 1 個月，利率為月息 7 分（即每百元每月 7 元，年利率為 84%，按複利折合年率為 125.08%）。這個政策實施之後，儲蓄風氣盛行，物價上漲的速度立刻減緩。這種政策的背景是： (A)1946 年，政府因國共內戰需軍費，以高利率吸收民間存款 (B)1950 年，政府積極壓抑通貨膨脹，建立民眾對新臺幣信心 (C)1951 年，政府籌募公地放領的經費，高利率吸引民間資金 (D)1971 年，政府陸續推動大型交通建設，急需民間資金挹注 【106 學測題】

32. (B) 東北亞地區發生衝突之際，一位美國官員建議其政府，應當採取具體措施援助臺灣。他指出：「保衛臺灣人民利益及維護太平洋地區和平與安全的計畫，如果僅由聯合國推動，不可能有任何效果。只能由美國提這種方案，才會符合各方期待而且有效。」此人說話的時機最可能是： (A)1947 年，臺灣發生動亂，美國計畫穩定臺灣局勢 (B)1951 年韓戰爆發之後，美國決定強化其東亞政策 (C)1971 年我退出聯合國時，美國努力安定臺灣民心 (D)1978 年底中美斷交時，美國要保障其在臺灣利益 【107 學測題】

33. (C) 某一國際會議召開時，中華民國政府指出：會議摒除我國於會議之外，此為我國之辱。中華人民共和國當局也對該會議提出抗議，指出該會議背棄國際義務，中國不予承認。該國際會議指的是： (A)1945 年雅爾達會議 (B)1946 年聯合國第一次大會 (C)1951 年舊金山和會 (D)1955 年的第一次亞非會議 【107 學測題】

34. (D) 附表為臺灣自民國 55 年到 60 年某項資料。這項資料最可能是：

年代(民國)	%
55 年	58.95
56 年	62.29
57 年	74.66
58 年	76.04
59 年	79.81
60 年	81.39

(A)農業生產占全國生產總值的比例 (B)農村地區電力照明設備的普及率 (C)美援麵粉成為國民主食的普及率 (D)小學畢業生進入初(國)中的比例 【108 學測題】

35. (D) 一件史料記載：淡水廳某士紳因與佃農發生糾紛，乃強制將佃農耕種的田地收回，另行轉租給別的佃農耕種，以致激起民間鬥殺；該士紳還招募壯勇四出焚搶。朝廷認為該士紳為富不仁，目無法紀，下令閩浙總督將該士紳革職逮捕，押解到省城嚴行審辦。該史料記載的事件最可能是：(A)民眾發動反清復明的民變 (B)天地會領袖發動抗清行動 (C)客家居民組成的抗日行動 (D)地方人士參與的分類械鬥 【108 學測題】

36. (C) 下列哪些臺灣鄉鎮市區級地名的變遷，最能反映解嚴後政府及社會對多元族群及其文化的尊重態度？(甲)吉野→吉安；(乙)三民→那瑪夏；(丙)番社→東山；(丁)吳鳳→阿里山；(戊)紅毛→新豐。(A)甲乙 (B)甲丙 (C)乙丁 (D)丁戊 【108 學測題】

37. (A) 十七世紀時，亞洲水域的遠東航路上，一艘帆船從公司總部所在的港口出發，船上載滿胡椒、檀香木、乳香、象牙、犀角等商品。抵達「甲」港後，卸下部分商品，並購買當地生產的鹿皮、鹿脯、砂糖等貨物裝船，繼續航行至日本。在日本把貨物賣掉，換取白銀；返航行程中，至廈門購買絲綢和瓷器。請問：依據題文資訊，「甲」港的今名最可能是下列何者？(A)安平 (B)馬尼拉 (C)麻六甲 (D)雅加達 【108 學測題】

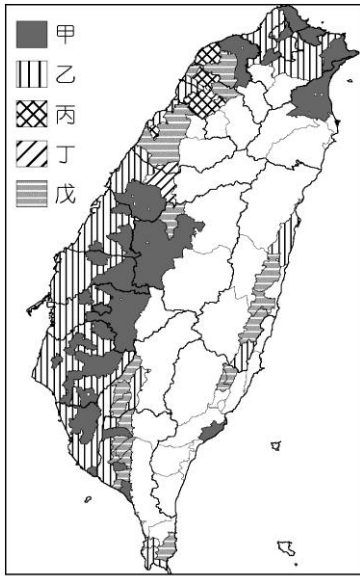
38. (D) 相同的時代烙印往往造就了一個歷史世代，例如稱二次大戰結束後不久出生的人為「嬰兒潮世代」，又如稱民國五〇年代出生的人為「五年級」。學者研究 1920 到 1930 年間出生的臺灣囡仔，他們在成長期間接受國家提供的軍國教育，而「玉碎」(全滅)、「散華」(陣亡)、「若櫻」(年輕軍人)、「赤紙」(召集令)等詞彙更成為他們共同的詞語。根據這些共同的詞彙及其成長年代，最能貼切反映這個世代的稱呼是 (A)現代化世代 (B)工業化世代 (C)反傳統世代 (D)戰爭期世代 【109 學測題】

39. (A) 學者評論戰後臺灣三七五減租，認為：推動減租並非只是時任臺灣省主席陳誠施政理念的落實。由於三七五減租是在中美聯合機構—中國農村復興聯合委員會的協助下展開，所以它也可視為是美國在東亞，從日本、韓國到菲律賓，推動的一連串土地改革之一環。亦即，土地改革是特定條件下推動的政策，其政治性超越經濟性。就此評論來看，這位學者所強調的三七五減租之目的最可能是 (A)防堵共產勢力擴張 (B)創造土地最大效益 (C)改善臺灣產業結構 (D)避免資本主義盛行 【109 學測題】

40. (C) 清廷治臺二百多年期間，多次調整臺灣地方行政區劃，其最主要的考量依據是： (A)根據自然地理的形勢，分區管理 (B)根據交通線的延伸，作線狀開發 (C)因應民變，考量治安，置縣設廳 (D)隨漢人開發，設廳以保障原住民 【110 學測題】
41. (C) 1949 年 10 月，共軍集中船隻對金門發動攻擊，遭守軍擊退。1950 年 3 月，共軍又集結大批兵力，用類似「萬船齊發戰術」進攻海南島，迫使當地國軍撤守；5 月底更攻占廣東萬山群島。共軍原本預定隨後再度對金門發動攻擊，但沒有多久就取消這項計畫。最可能的原因是： (A)共軍軍備及船隻有限，已經無法再負擔長期作戰 (B)共軍顧忌金門兵力強大，寧可保持戰果故而避戰 (C)韓戰爆發，美國宣布派遣第七艦隊協助臺灣防務 (D)臺灣實施戒嚴，共軍乃轉以心戰策略來瓦解國軍 【110 學測題】
42. (D) 自 1943 年 5 月至 1944 年 7 月間，日本帝國與臺灣總督府動員並組織超過兩萬名的臺灣青年，派遣至新幾內亞、菲律賓和印尼等地，擔任各種任務。這些臺灣青年最可能是： (A)擔任突襲戰鬥任務的神風特攻隊 (B)擔任戰鬥任務的臺灣特別志願兵 (C)擔任軍機組裝工作的臺灣少年工 (D)擔任軍伙軍屬的臺灣特設勤勞團 【110 學測題】
43. (C) 一位學者提到：過去歷史研究的主體，往往偏重於統治者的歷史，比較忽略人民的歷史，其實，人民才是我們應該關心的主體。下列哪個主題最接近這位學者主張的研究方向？ (A)鄭氏王朝在臺的屯田政策 (B)清代臺灣職官制度的演變 (C)清代臺灣沿海的王爺信仰 (D)日本在臺殖民體制的建立 【111 學測題】
44. (A) 某校歷史課程進行「歷史考察」學習時，要求同學事先蒐集族譜、臺灣總督府旅券(護照)、同鄉會名簿等史料，並進入內政部網站閱讀人口和戶口調查資料。該「歷史考察」的主題最可能是： (A)人群的移動與交流 (B)國家的建立與形塑 (C)文化的類型與變遷 (D)宗教的起源與傳播 【111 學測題】
45. (C) 一份資料提到：1933 年的雙十國慶酒會選在臺北的鐵道旅館舉辦，出席的貴賓有美國、義大利駐臺領事及臺灣總督府高級長官。會場懸掛中華民國國旗，慶典中除演奏中華民國國歌外，還高呼「中華民國萬歲」。這段資料如何解讀最合理？ (A)當時滿洲國成立不久，日本乃邀請滿洲國官員來臺舉辦慶祝雙十國慶活動 (B)當時中日兩國的關係親密和善，臺灣總督府乃主動舉辦慶祝雙十國慶酒會 (C)當時來臺的中國僑民日多，國府已在臺北設立領事館，故能舉辦國慶活動 (D)當時的臺灣總督府正在進行皇民化政策，故舉辦雙十酒會來籠絡臺灣人民 【111 學測題】

二、題組：

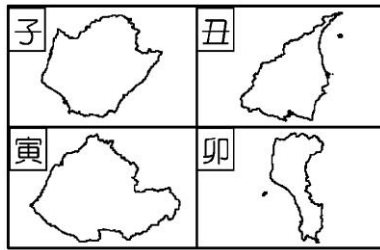
1. ◎明清之際，移民臺灣的漢人多來自漳州、泉州、嘉應州、潮州和惠州等地區。圖一是根據 1926 年《臺灣在籍漢民族鄉貫別調查》的資料，以街、庄為單位繪製的「祖籍優佔區」分布圖。祖籍優佔區係指某一祖籍人口佔該地總人口比例最高的地區。圖二是某畫家的水彩畫作，主題為椰林圍繞的客家宗祠，圖三是臺灣四個縣市的輪廓圖。請問：



圖一



圖二



圖三

- (A) (1) 圖一中哪個圖例，最可能代表漳州人的優佔區？ (A)甲 (B)乙 (C)丙 (D)丁
- (B) (2) 清代某地方志對民間王爺信仰有如下記載：「各坊里社廟，以王公大人稱者甚夥… 廟宇大小不一，神像俱雄而毅；…王誕之辰，設王醮二三晝夜，謂之送瘟。造木為船，糊紙像三儀仗…告牒畢，乃奉各紙像置船中…推船入水順流揚帆而去則已。」該王爺信仰在哪祖籍優佔區最為普遍？ (A)甲 (B)乙 (C)丙 (D)丁
- (D) (3) 圖二畫作內容展現的地景，在圖三中哪個行政區最為常見？ (A)子 (B)丑 (C)寅 (D)卯 【107 學測題】
2. 照片甲是臺灣某地公廨改建的「太上龍頭忠義廟」；照片乙是該廟的內部。祭壇供桌上有香爐、供花、長年燈和五個包裹紅色綢布的祀壺等，兩側還有稱為向缸的大水缸。請問：



- (B) (1) 「祭壇供桌上的祀壺和兩側的向缸」，和下列何者關係最密切？ (A)客家移民崇祀三山國王 (B)平埔族群信仰的阿立祖 (C)科舉考生祭拜文昌帝君 (D)沿海漁村供奉媽祖娘娘
- (C) (2) 照片所示的祭祀場所，在下列哪個區域為數最多？ (A)北部區域 (B)中部區域 (C)南部區域 (D)東部區域 【107 學測題】

3. 臺灣各地聚落廟宇甚多，規模不一，其門柱均附有對聯，揭示廟宇地點、主祀神及價值規範等相關訊息。照片是四個不同聚落廟宇的立面照，照片下方是該廟大門兩側門柱的對聯，其中照片甲對聯中「鯤鵬」是「傳說中奇大無比的神鳥」；照片乙對聯中「鯤瀛」是「海邊的新家園」之意。請問：



- (D) (1) 哪座廟宇的所在地，早期血緣聚落色彩最為濃厚？ (A)甲 (B)乙 (C)丙 (D)丁
- (B) (2) 從廟宇的主祀神判斷，哪座廟宇所在聚落的清代漢移民，主要來自福建漳州府？ (A)甲 (B)乙 (C)丙 (D)丁
- (A) (3) 歷史傳統上常常將國家概念與王權或天下連結，並強調人民對國家的義務。下列四座廟宇中，哪座廟宇的門柱對聯最能顯示此種傳統的國家與人民關係？ (A)甲 (B)乙 (C)丙 (D)丁 【108 學測題】
4. 史料記載：某年 1 月 11 日，駐守臺灣的長官率領 353 人分乘 3 艘戎克船從位於臺灣南部的政治中心出征。船隻沿海岸向南航行時，兩艘船隻觸礁，損失一些食物。軍隊乃在島嶼西岸下船整補，從陸路越過山脈到島嶼東岸。在東岸某村社整補兩天後，沿海岸線北上，攻擊山區另一村社，達成出征目的後才撤軍，並再度越過山脈返回島嶼西岸。軍隊在海邊某村社露宿時，曾受當地社民以米飯、豬肉和雞肉款待。請問：
- (A) (1) 根據題文資訊及歷史知識推論，該史料最可能描述的是： (A)荷人至東臺灣探金與原住民引發衝突 (B)明鄭時期屯墾時和大肚王國發生衝突 (C)清福建水師提督到東部追擊海盜蔡牽 (D)日本警察與阿美族衝突的七腳川事件
- (A) (2) 從史料內容可看出當時「村社」社會的哪一特徵？ (A)某些村社應已經發展出稻作農業 (B)部分村社間已建立軍事同盟組織 (C)不同村社間已有穩定的貿易關係 (D)村社的土地制度屬於部落共有制 【108 學測題】

5. 十七世紀時，亞洲水域的遠東航路上，一艘帆船從公司總部所在的港口出發，船上載滿胡椒、檀香木、乳香、象牙、犀角等商品。抵達「甲」港後，卸下部分商品，並購買當地生產的鹿皮、鹿脯、砂糖等貨物裝船，繼續航行至日本。在日本把貨物賣掉，換取白銀；返航行程中，至廈門購買絲綢和瓷器。請問：

(A) (1) 依據題文資訊，「甲」港的今名最可能是下列何者？ (A)安平 (B)馬尼拉 (C)麻六甲 (D)雅加達

(D) (2) 關於題文中三地貿易的敘述以下何者正確？ (A)日本的絲綢市場價格低於廈門 (B)廈門在生產砂糖上具有比較利益 (C)廈門生產鹿肉的機會成本較低 (D)日本鹿皮市場的消費者剩餘增加 【108 學測題】

6. 出生在南投的詩人陳千武，在二次大戰期間曾以「志願兵」的身分參與戰事；這段經歷成為他創作〈信鴿〉一詩的靈感。此詩的最後一段寫道：

我回到了，祖國／我才想起／我底死，我忘記帶了回來／埋設在南洋島嶼的那唯一的我底死啊／我想總有一天／一定會像信鴿那樣／帶回一些南方的消息飛來。

根據上述內容，請問：

(D) (1) 陳千武在參與戰爭時，最可能遭遇過下列哪種經歷？ (A)持續橫越高山相間的縱谷，勇渡河水，無懼奔流入海的長河 (B)無畏不斷吹襲而來的黃沙，頂風前行，不管是綠洲還是蜃樓 (C)緊盯草原深處的覓食獅群，匍匐前進，緊握槍枝並眼觀四方 (D)穿越一片茂密的熱帶雨林，披荊斬棘，開闢出一條林間小徑

(B) (2) 關於當時臺籍「志願兵」的討論，下列何者正確？ (A)在志願兵實施以前，臺灣人即有服兵役的義務 (B)志願兵是皇民化運動中，戰爭動員的一種方式 (C)志願兵沒有條件限制，只要願意為國犧牲即可 (D)考量地緣及民族因素，志願兵大多被派往華北 【109 學測題】

7. 資料一：屏東種植紅豆的農民，過去為避免鳥害造成農損，會利用毒餌造成小型鳥類死亡，進而導致檢食的老鷹跟著中毒。近來因維護生態環境，農夫改變耕作方式，在播種期不毒鳥、採收時不用落葉劑，以新創農業的方式建立「老鷹紅豆」品牌以及產銷履歷。雖然生產紅豆的成本上升，但有效提升消費者對產品的評價，使市場銷售價格與數量都大幅提升。老鷹紅豆的製作地區主要在屏東東港和萬丹一帶。

資料二：萬丹聚落形成於明末，曾在清代民變中扮演重要角色，朱一貴事件時，粵籍義民即在「萬丹社」的上帝廟誓師起義。「社」在清代一般是指「熟番」村落，但並非自古如此。例如，鄭氏時期，主政者推行屯田，就曾用「社」作為屯墾村落之名；當時的軍備圖則分別以「番社」和「民社」來標示「番」、「漢」聚落。在清朝治臺初期的地圖中，即有「後勁社」、「左營社」等和「熟番」無關的村落名，「萬丹社」也是如此。根據上述兩則資料，請問：

(C) (1) 我們一般認為「社」是指「熟番」村落，但萬丹「社」的出現，顯然提供了另一種看法。就題文來看，萬丹社的例子最適合從下列哪一歷史脈絡來解讀？ (A)粵民開發與熟番地權的關係 (B)義民形象被塑造的演變過程 (C)鄭氏在當地開發的歷史痕跡 (D)民間信仰與地名命名之關聯 【109 學測題】

8. 十九世紀前期，張三從寧波來艋舺採購樟腦，計畫運回浙江、上海銷售，同時也運來綢緞、布帛等貨品來臺銷售。請問：

(B) (1) 張三最可能委託下列哪個組織運送這批貨物？

(A)東印度公司 (B)北郊 (C)怡和洋行 (D)三井會社 【109 學測題】

9. 1938 年，臺灣總督府發起「寺廟整理運動」，拆毀媽祖廟等不同廟宇，還禁止媽祖遶境活動，但臺灣民間對媽祖信仰並未動搖。二次大戰結束後，眾人重建被毀的媽祖廟，也開始恢復遶境活動，其中以大甲媽祖遶境最負盛名。近年來，政府積極投入資源，結合在地力量，讓更多人了解媽祖遶境文化全貌，並與觀光活動結合，吸引遊客前來體驗。遊客常沿途拍照留念，不過若要區分照片分別在哪個行政區內拍攝，需要先取得這些行政區的面資料，並將照片內隱含的拍攝位置資訊轉換成 GIS 的經緯度坐標的點資料後，透過 GIS 分析步驟，才能將所有照片有效區分。請問：

(B) (1) 總督府發起「寺廟整理運動」最主要的動機是： (A)要積極破除迷信 (B)推動皇民化運動 (C)要廣設國民學校 (D)改建為軍事基地 【110 學測題】

10. 研究指出：臺灣客籍居民主要從閩粵內陸的丘陵、盆地和河谷平原區移來，分布於北部和南部的丘陵、台地或近山平原地帶，空間分布有向內陸集中的趨勢。行政院客家委員會自 2002 年起，每年 4、5 月間在部分客籍居民分布區辦理「客家桐花祭」活動，由「中央籌劃、企業加盟、地方執行、社區營造」的公私協力夥伴關係，達到一定的政策成效，不僅為客庄地區帶來經濟效益，也強化客家族群的在地認同。請問：

(A) (1) 依上文判斷，清代臺灣客籍居民空間分布有向內陸集中的趨勢，和下列何者的關係最密切？ (A)原鄉生活方式 (B)分類械鬥結果 (C)水圳設施分布 (D)保甲制度影響

(B) (2) 文中客委會辦理的「客家桐花祭」活動最可能是下列何種概念的具體實踐？ (A)地方自治 (B)地方治理 (C)地方分權化 (D)全球在地化 【110 學測題】

11. 下列是臺灣的四個地名：(甲)臺北市「萬華」；(乙)花蓮縣「光復」；(丙)高雄市「左營」；(丁)宜蘭縣「五結」。請問：

(C) (1) 地名有時也帶有時代的特徵，上述引號之地名在歷史上出現的先後順序是： (A)甲乙丙丁 (B)乙丙甲丁 (C)丙丁甲乙 (D)丁甲丙乙 【110 學測題】

12. 許多國家可能基於某些理由查禁流行歌曲。以臺灣為例，1930 年代開始流行以福佬系民謠為創作題材，當時西門町與大稻埕有許多收費不低的音樂廳，傳唱這些歌謠。但部分歌謠後來遭政府以過於寫實、動搖民心為由，予以查禁。1950 年代左右，行政院依據《戒嚴法》訂定《臺灣省戒嚴期間新聞雜誌圖書管理辦法》，開始管制流行文化，主要由警備總司令部執行歌曲查禁。如披頭四樂團演唱之〈革命〉便因「內容欠妥，混淆視聽，危害社會治安」遭禁。至 1970 年代，查禁業務改由新聞局負責，據統計，當時約有六分之一的歌曲因未通過審查而禁唱。到了 1980 年代，絕大多數歌曲都通過審查，禁唱歌曲大幅減少。面對審查制度，音樂人仍勇於透過流行樂曲批判現狀。曾有外國歌手唱道：「這是最好的年代，所以人民不需要自由」而遭到禁播。有樂評指出，該歌詞字面上說政府讓經濟成長率翻升，表示統治萬能，所以人民也就不需要自由，但實際是諷刺該政府，試圖以經濟成果遮掩其威權統治事實。像這類具批判性的樂曲，多屬非主流文化，常被忽視；但也有作品廣受歡迎，甚至在特定時期帶動反叛精神。請問：

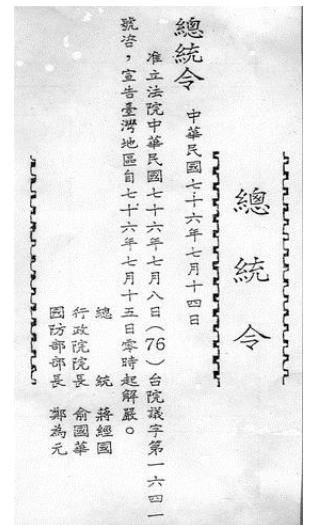
(C) (1) 某一時期，出現以流行音樂表達對現狀的不滿，甚至帶動一個充滿反抗、叛逆、迷惘的時代精神，促使社會上形成一股改變的風潮。下列何者最符合此種情形？ (A)1910 年代，運用民間歌謠批判通俗文化 (B)1940 年代，以臺語歌謠抗議太平洋戰爭 (C)1960 年代，以搖滾樂曲推動反越戰運動 (D)1990 年代，運用國語歌曲表達反共立場 【110 學測題】

13. 同學在進行歷史專題報告時，蒐集到一份 1830 年代北臺灣的史料，指出：「淡（水）廳貨之大者，莫如油、米，次（其次）麻、豆，次（其次）糖、菁（染料），至茄藤、通草之屬，多出於內山，樟腦、茶葉惟淡北內港始有之。商人雇船裝載，擇內地可售之處，本省則運至漳、泉、福州，往北則運至寧波、上海，往南則運至澳門等處。凡港路可通者，無不爭相貿易，取其所售之值，購買飲食、衣服及日用必需品等件，隨船載回發賣。」依據前述記載，請問：

- (D) (1) 該同學如要去考察最靠近樟腦和茶葉產地的地點，下列何地最適合？ (A)基隆(雞籠) (B)萬華(艋舺) (C)淡水(滬尾) (D)大溪(大料崁)
- (D) (2) 上述史料最適合作為下列哪項推論的佐證？ (A)外國洋行已在臺灣設立並發展 (B)漢人和原住民族貿易相當熱絡 (C)農業和農產加工技術已很成熟 (D)兩岸物產可互補形成生產分工 【111 學測題】

14. 臺灣曾於民國 38 年 5 月實施戒嚴。當時由警備總部公告的《戒嚴令》第二條規定：「自同日起，除基隆、高雄、馬公三港口在本部監護之下，仍予開放，並規定省內海上交通航線（辦法另行公布）外，其餘各港，一律封鎖，嚴禁出入。」第四條也列舉處以死刑的各項「擾亂治安」行為，包括：造謠惑眾、聚眾暴動、擾亂金融、搶奪財物、鼓動學潮、破壞交通通信、妨害公眾用水及電氣煤氣事業、持有槍彈或爆裂物等。該次戒嚴歷經 38 年，直至民國 76 年始依總統令解除（附圖）。請問：

- (A) (1) 若僅依照《戒嚴令》第二條規定的內容，下列哪兩地的交通航線仍有機會從事貨物運輸的往來？ (A)蘇澳—安平 (B)新竹—廈門 (C)臺中—香港 (D)花蓮—東京
- (C) (2) 《戒嚴令》第二條規定最主要的目的應是： (A)禁止臺灣生產的米、糖外銷，以免發生糧荒 (B)切斷臺灣與前殖民母國日本之間的政治聯繫 (C)管制大陸地區軍民撤離來臺以穩定臺灣政情 (D)與美國共同協議以便執行圍堵共產主義政策



【111 學測題】

筆記區

三、混合題：

1. 日治時期，臺灣總督府為開發山林資源，拓殖其經濟利益，初期認為山林中的「蕃人」是阻礙開發的「凶惡之徒」，不但不承認其傳統權益，甚至用武力征伐；後期又進行大規模「集團移住」計畫，迫使各原住民族部落離開其傳統生活空間，遷移到山腳地帶。部落間原有的往來因此被切斷，重新配置的部落也無法和其他部落建立合作關係，以致內部社會關係瓦解，達到總督府期待的可使原住民「舊來勢力關係中斷」。以立霧溪流域的太魯閣族群來說，集團移住的結果，不僅部落被撤離原居住地，且多數部落遭到分割，還有許多部落被嵌入布農族的傳統領域，造成賽德克族、太魯閣族及布農族混居的情況。請問：

- (1) (A)當今哪項原住民族議題，和臺灣總督府推動的原住民族集團移住計畫關係最密切？ (A)傳統領域的劃設 (B)傳統姓名的回復 (C)正名運動的展開 (D)族語復振的推展
- (2) (D)題文所述總督府的支配控制及治理措施，有些仍影響至今，包括現行有關原住民族權益的相關法制；但也有些已經因應國際人權觀念趨勢、多元文化發展而有所改變。下列政策何者最能凸顯這樣的改變？ (A)國家為國有林地所有權人，原住民得由政府機構許可取用森林資源 (B)將原住民立法委員的選舉，分為「山地」與「平地」原住民選舉區 (C)設立原住民保留地以保障原住民生計，並限制將土地轉予非原住民 (D)設有部落會議的原住民族部落，經核定後可取得公法人的主體地位
- (3) 總督府推行集團移住期待「可使原住民『舊來勢力關係中斷』」，就此來看，總督府推行集團移住的主要目的為何？請在答題卷表格中勾選一項，並說明判斷的理由。(非選擇題，50字內)

集團移住的主要目的 (勾選一項)	判斷理由(50字內)
①請勾選 <input type="checkbox"/> 切斷各部落過去的恩怨 <input type="checkbox"/> 以強制移民增加勞動力 <input type="checkbox"/> 削減反抗總督府的力量 <input type="checkbox"/> 灌輸皇民思想以利徵召	②

(4) 請在答題卷作答區繪出一組「連接線」與「箭頭」來代表從移出地地點遷移到移入地地點，以作為文中說明「集團移住造成賽德克族、太魯閣族與布農族混居情況」的輔助地圖。(非選擇題)

繪製集團移住示意圖示例 ●——→●
 兩個圓點分別代表移出地與移入地
 箭頭代表移出地遷移到移入地的方向



歷屆學測試題(東亞史篇，共 91 題)

一、單一選擇題：(共 86 題)

1. (B) 教科書描述某一古都：「這個城市的人口大約一百萬，外國人可能占了三分之一。城內圍隔成一百多個坊，除了皇城、中央官署外，還有東、西兩個市場。如果有機會拜訪這座城市，你會因為眾多的佛寺而感到震驚。宴會上常可看到外國女子組成的樂隊，坐在駱駝背負的平臺上表演，演奏著類似吉他的琵琶。」這最可能是哪一座都城？ (A)東漢的洛陽 (B)唐朝的長安 (C)北宋的汴京 (D)清朝的北京 【98 學測題】
2. (D) 一位民國時期的文人撰文紀念友人道：「他是中國思想界的一個清道夫，他把啟蒙的水灑向那孔孟瀰漫的大道上。因此時時被那無數吃慣孔孟的老頭子們跳腳痛罵，怪他不識貨。有時候他顯得疲乏了，失望了，忽然遠遠的覩見那望不盡頭的大路那一頭，好像也有幾個人在那裡灑水清道，他的心裡又高興起來了。」上文中「灑水清道」的人是指誰？ (A)嚴復 (B)梁啟超 (C)康有為 (D)陳獨秀 【98 學測題】
3. (A) 旅行團安排了一次德川日本古蹟之旅，為了讓團員享受一趟超值的深度旅遊，導遊預先對團員解說德川幕府的歷史發展。以下是導遊作的一些解說，何者正確？ (A)現今日本首都東京，舊稱江戶，是德川幕府的根據地 (B)德川幕府的威勢超越天皇，但卻又受制於旗下的諸侯 (C)因為鎖國政策，德川日本的商業蕭條，貨幣經濟消失 (D)德川武士喜歡庭園，更愛養蘭花，遂發展出「蘭學」 【98 學測題】
4. (D) 1816 年，英王喬治三世派遣阿美士德 (Amherst) 出使中國，卻與清朝發生「禮節之爭」。清朝要求英使依「天朝定制」，覲見皇帝時行「三跪九叩頭禮」，英使以跪叩禮「有傷英國尊嚴」，堅持僅行「免冠俯首」。雙方爭持不下，最後英使遭逐出，不顧而去。此一「禮節之爭」的歷史意涵為何？ (A)新帝國主義與反殖民主義的對抗 (B)海權思想與傳統陸權觀念的對立 (C)工業資本主義與農業文化的矛盾 (D)天下秩序觀與主權國家觀的衝突 【98 學測題】
5. (C) 兩位士族出身的文人，回憶了時代和家族出路。甲文人雖然看到戰亂使其家族前途未卜，但他相信，如果他的子弟想要出仕為官，應該不會有什麼問題。乙文人對於士人家族的前途同樣感到渺茫，但他所處的時代，官員們幾乎不可能為其後代子孫的仕途提供庇護。請問，甲、乙兩位文人最可能分屬於哪一朝代？ (A)秦朝、唐朝 (B)元朝、清朝 (C)魏晉、宋朝 (D)漢朝、唐朝 【98 學測題】
6. (D) 西方人論及某國時，指出：「該國原本閉關自守，後改其態，君民一德，變法維新，迄今不過五十年，而功效大著，以能收還其治外法權，列入萬國公會，成為完全獨立自主，平等之國矣。」這是指哪一個國家？ (A)德國 (B)中國 (C)印度 (D)日本 【99 學測題】
7. (B) 在中國某個朝代中，皇帝頒下詔書，一個官員反對這個命令，並在詔書上寫下他的看法。其他官員趕忙勸阻，認為這對皇帝不敬，但這位官員表示這是法律賦予他的職責。皇帝知道此事後，非但沒有責備，反而嘉許他能防範詔敕可能發生的錯誤。這個故事最可能發生在何時？ (A)兩漢 (B)隋唐 (C)兩宋 (D)明清 【99 學測題】

8. (D) 兩位學者各自根據其閱讀史料，提出對漢代社會型態的看法。甲學者認為漢代社會是地緣社會，聚落內部的血緣聯繫不強；乙學者則認為漢代是血緣社會，聚落內部同姓的力量強大。我們應如何理解兩位學者意見的差異？ (A)甲學者的主張符合古代宗族瓦解後的形勢，較為合理 (B)乙學者的看法反映出古代社會的延續性，較具說服力 (C)兩位學者立場相反，正可說明歷史解釋缺少合理基礎 (D)古代地域社會間差異甚大，不應該只有一種社會型態【99 學測題】
9. (D) 一群學生接到政府命令，前往草原上放牧牛羊，名為「學習」。不巧，這年冬天風大雪大，牛、羊損失甚多，有些學生受不了草原生活的艱苦，潛逃回城市，但又被遣送回草原。若干年後，政府政策改變，他們才獲准回到都市，繼續求學就業。這種情景最可能發生在何時何地？ (A)1871 年，法國 (B)1910 年，俄國 (C)1941 年，德國 (D)1970 年，中國【99 學測題】
10. (B) 某州長官希望任用張三為其僚屬，但人事官員卻以「資籍不當」為由，不同意這項任命。當州長官表示一定要任用此人，人事官員嚴肅地說：「州僚屬的任命必須經過本地人的評議，我是本地人，既然不同意，長官就不應違反這個制度。」這樣的場景最可能發生在：(A)兩漢 (B)南北朝 (C)中晚唐 (D)宋明【99 學測題】
11. (B) 幾件獸首銅像在一場藝術品拍賣會中公開，供收藏家競標，引來中國政府抗議。這些獸首銅像原本來自北京圓明園，在晚清一場戰爭中遭到外人掠奪，這場戰爭之後，清廷痛定思痛，開始改革。這場戰爭是：(A)鴉片戰爭 (B)英法聯軍 (C)甲午戰爭 (D)八國聯軍【100 學測題】
12. (A) 幾位同學討論某一主題時，各自發表意見如下：(甲)中國皇帝權力來自上天，不受監督與制衡 (乙)時代愈晚，相權愈輕，皇帝直接掌理朝政 (丙)中央政府設有言官，提出建言，針砭朝政 (丁)地方長官有一定任期，接受中央政府遷調。這幾位同學討論的主題最可能是：(A)傳統政治的特質 (B)言官的政治功能 (C)政統與道統衝突 (D)中央與地方權限【100 學測題】
13. (D) 揚州城呈現出一幅忙碌的景象：市場裡，搬運工人正將來自湖北的稻米運到倉庫裡，港口邊，工人將棉布整齊地堆疊在一起，準備運上船，銷售到全國各地。一旁的茶樓裡，交易的商人正在結算著買賣的價格。這是哪個時期的景象？(A)南朝時期 (B)唐朝中期 (C)北宋末年 (D)明朝後期【100 學測題】
14. (B) 1938 年 8 月間某國新聞報導指出：「德國已經正式承認我國，我國政府將於德國首都柏林設立公使館，辦理兩國外交事務。國務院特別任命呂宜文為公使，並以日籍的三源綱一為參事官，王替夫與日籍的伊吹幸隆為書記官。」1939 年 2 月這些新任的官員遞交國書，正式上任。這個國家是：(A)日本 (B)滿洲國 (C)韓國 (D)中華民國【100 學測題】

15. (A) 美國與日本簽訂條約，規定：「侵犯日本人之美國人，由美國領事法庭審判，如屬有罪，當按美國法律處罰。侵犯美國人之日本人，由日本官方審判，按日本法律處罰。」同時規定：「日本政府准許美國人可以在開放的港口中自由行動；也准許居住於日本的美國僑民宗教自由，並可於適當地點建築教堂。」這個條約是： (A)1854 年簽訂的《神奈川通商條約》 (B)1922 年限制軍備的《華盛頓條約》 (C)1951 年舊金山簽訂的對日和約 (D)1960 年所訂《美日安全保障條約》【100 學測題】
16. (C) 中國某一個時期中，許多人呼籲總統賦予內閣全權，召開全國和談大會，並要求：改組內閣，網羅全國和平民主人士，充實和平的內容。他們甚至計畫發動國人，一致擁護和平；更希望美、蘇、英、法等強權能諒解，支持中國希望和平的想法。這個事件的背景是： (A)1912 年辛亥革命後，革命黨人對清廷的呼籲 (B)1937 年中日戰爭爆發後，學界對政府的希望 (C)1949 年國共和談期間，政界對國民黨的建議 (D)1950 年舊金山和會召開前，新聞界所提建議【100 學測題】
17. (B) 一篇論文裡的關鍵詞有：中日關係、山東問題、胡適、巴黎和會。這篇論文討論的主題最可能是： (A)庚子拳亂 (B)五四運動 (C)瀋陽事變 (D)七七事變【101 學測題】
18. (A) 西方商人到中國貿易時，地方政府常藉各種名義收取費用，令商人不勝其擾。在一場戰爭後，中國政府同意各國商品除繳交 5% 的進口關稅外，不用再繳納任何雜費。從此以後，各國貨物正式繳稅進口，到各處販賣。這場戰爭是： (A)鴉片戰爭 (B)英法聯軍 (C)甲午戰爭 (D)八國聯軍【101 學測題】
19. (D) 古董商販售一批聲稱是從河南安陽出土的甲骨文書，指出：這批書寫於牛肩胛骨的文物，主要內容為土地交易契約。幾位同學發表看法，下列何種說法最可信？ (A)這批文物從河南安陽出土，又有甲骨文書，應當是真品 (B)刻寫在牛肩胛骨，而非書寫在龜甲，故極有可能為贗品 (C)甲骨文直到清末才出土，無法偽造，這批文物應為真品 (D)商代並無土地交易行為，自然不可能有契約，應為贗品【101 學測題】
20. (D) 「現代化的關鍵在於發展科技。我們不可能光靠空談變成現代國家，我們國內的科技、教育都比附近國家落後 20 年，我們需要有知識、有訓練的人才，就好像當初的日本。不過他們是靠新興起的資產階級，我們要靠普羅大眾。我相信我們一定會做得比日本好。」這種說法最可能出現於： (A)1890 年代的俄國 (B)1930 年代的德國 (C)1950 年代的印度 (D)1980 年代的中國【101 學測題】
21. (D) 此一時期，君權高張，對於大臣、高官並不尊重。官員如觸怒天子，可能當眾遭到責罰，甚至押到午門外杖刑，年紀大的官員往往死於杖下。這本不是當時法典規範的刑罰，皇帝卻藉此樹立威望，壓抑大臣。這場景應發生於何時？ (A)漢代 (B)唐代 (C)元代 (D)明代【102 學測題】
22. (D) 秦漢時期實施郡、縣二級的行政區劃，最基層的地方行政長官為縣令（長），負責管理地方，統籌稅收。當時縣令（長）如何產生？ (A)根據宗法，父死子繼 (B)皇帝分封，冊命任用 (C)由郡守指派下屬擔任 (D)由中央政府直接任命【102 學測題】

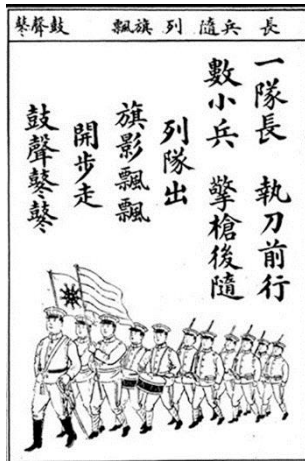
23. (A) 近代亞洲曾經爆發一場戰爭，交戰雙方都使用西方軍事技術及裝備。原本列強認為雙方旗鼓相當，但人口、土地均居下風的國家，因維新政策成功，反而戰勝，頗出各國意料。這場戰爭是： (A)日本打敗中國的甲午戰爭 (B)以色列勝埃及的六日戰爭 (C)越南擊敗美國的解放戰爭 (D)印尼擊退荷蘭的獨立戰爭 【102 學測題】
24. (C) 蔣中正在日記中記載：最近，中共代表向美國表示，中共必須重視莫斯科的意見，美國想調解國共關係，必須先徵求俄國同意。此段記載最可能出現於何時？ (A)1924 年國民黨實施聯俄容共之際 (B)1937 年七七盧溝橋事變爆發之後 (C)1946 年二次大戰後中國發生內戰 (D)1958 年中共發動八二三砲戰之前 【102 學測題】
25. (A) 教科書往往反映當代的時局與世變。某一時期，小學課本中有一個單元名稱為「一個惡魔」，說「帝國主義是什麼？帝國主義是一個惡魔。他一隻手裡是算盤，一隻手裡是武器。他有兩副面孔，打算盤的時候，他的面孔好像很和善，但是，使用武器的時候，他的面孔就變得兇惡無比了。」還說：「他恐怕人家不如他的意，就想同人家訂不平等條約。」這應當是哪個時期的課本？ (A)新文化運動時期 (B)對日抗戰時期 (C)文化大革命時期 (D)臺灣戒嚴時期 【102 學測題】
26. (C) 一位政治人物呼籲：全國各黨各派要放棄歧見，停止內戰及一切敵對行為；大家應當團結一致，抵禦外侮，集中力量來奮鬥救國。這種說法應是： (A)曾國藩對太平天國將領的招降公告 (B)民國初年袁世凱稱帝時的登基宣言 (C)九一八事變以後毛澤東的抗日聲明 (D)抗戰勝利後蔣中正號召團結的主張 【102 學測題】
27. (B) 一本書的作者批評當時的社會現象，指出：世人喜歡利用祖先彰顯自己，例如王家已經遷居本地數代，但王某詩文中卻仍標示百年前的祖籍，以證明家世顯赫。這本書最可能是： (A)漢代《風俗通義》 (B)唐代《史通》 (C)南宋《夷堅志》 (D)清代《皇朝通考》 【102 學測題】
28. (A) 某一地區在 15 世紀初逐漸成為國際貿易中心，各地商人在此交易，也可乘船前往中國經商。當地國王與中國建立友好關係，曾親自前往北京，中國使臣也經常前往該地。16 世紀，該地遭西方殖民者入侵，國際貿易形勢改變，東西文明往來更為頻繁。這個地區是： (A)麻六甲 (B)臺灣 (C)琉球 (D)香港 【102 學測題】
29. (C) 西方學術傳到中國時，引起許多人的學習興趣。某位皇帝對數學非常有興趣，儘管國事紛擾，南方還有重臣叛變，他仍與幾位數學家一起研究科學，計算各種幾何問題。這位皇帝最可能是： (A)向馬可波羅學習西方科學的元朝皇帝 (B)在宮廷討論歐基里德數學的明朝皇帝 (C)向耶穌會傳教士學習數學的清初皇帝 (D)在同文館學習數學、幾何的清末皇帝 【103 學測題】

30. (A) 旅行社推出城市觀光行程，訴求：「大唐遺風」，說明此行可以參訪當地的唐式建築，體驗茶道，參拜佛寺，也可以參觀法律文書的收藏，領略中國唐朝的風情。這個行程最可能是： (A)京都物語 (B)首爾采風 (C)河內漫遊 (D)上海驚艷【103 學測題】
31. (B) 某一時期，朝廷給予官員合法占田的特權，官位越大，土地越多。同時，許多大族家中動輒擁有千百名奴僕，依法均不需負擔稅役。這最可能是哪一時期的現象？ (A)戰國時期，戰爭頻仍，藉以爭取大族合作 (B)晉朝，世家大族基礎雄厚，皇帝亦需妥協 (C)南宋，為對抗北方金人，以特權換取支持 (D)清初，南方未統一，以優厚條件吸引歸順【103 學測題】
32. (D) 一個民族在中國建立政權後，國君諮詢學者，以了解統治中國之術。一位漢人建議：「為政應以原本法令為主，並參酌中國制度」。這種說法引起該民族的王公大臣反對，認為中國僅是帝國的一部分，不必重視，而統治者也不需採用亡國者的制度。這個統治民族是： (A)女真 (B)鮮卑 (C)契丹 (D)蒙古【103 學測題】
33. (C) 老師在黑板上懸掛一幅地圖(如圖)，圖中將日本領域分別以黑色及灰色標示。這幅地圖最可能是反映哪一時期的東亞情勢？



- (A)1871年 (B)1905年 (C)1935年 (D)1971年【103 學測題】
34. (B) 某地位於歐洲通往中國的航路上，早在 1819 年，英國商船便在此建立交易據點，逐漸發展成繁榮港口。二次世界大戰期間，日軍曾攻占此地，控制三年多。1945 年，日本投降，該地重歸英國管轄，但當地人民爭取自主，先脫離英國統治，進而獨立建國。這個國家是： (A)泰國 (B)新加坡 (C)越南 (D)印度【103 學測題】
35. (D) 一位外國軍官在家書中提到：我們如果能攻下這座城市，將可以就近補充煤炭。但該城的砲臺頗為堅固，據說是德國工程師設計的，而且中國指揮官帶來自己一手訓練的部隊，地方士紳也組織民兵投入戰場，戰爭可能不會太順利。這位外國軍官所參加的戰爭是： (A)1840 年鴉片戰爭 (B)1860 年英法聯軍 (C)1874 年牡丹社事件 (D)1884 年中法戰爭【103 學測題】

36. (D) 附圖是近代新式學堂教科書的課文及插圖，從課文的敘述與插圖的呈現，其內容最可能反映了哪一種時代思潮？



- (A)尊君思想，以維護皇室地位 (B)強化團練，以防止內亂再起 (C)排滿思潮，以推翻滿清政權 (D)保國強種，以對抗列強侵略 【103 學測題】
37. (D) 學者討論中國歷史上的某個朝代時，有人認為當時皇權專制盛行，社會停滯，思想僵化，可說是一個「黑暗時代」。但有學者不同意這種說法，主張當時商品經濟繁榮，類似今日資本主義的情況；出版事業發達，學術流通快速；知識分子還常常組織社團，發表對時事的意見。這些學者討論的是哪個朝代？ (A)唐代 (B)宋代 (C)元代 (D)明代【104 學測題】
38. (B) 一部地方志記錄某地區各縣的人口情形，內容顯示：地方官員除了登記當地居民的種族等級、宗教信仰外，也開始依職業將居民分成不同類別。方志中這種居民分類方式，最早可能反映何時的情況？ (A)宋代 (B)元代 (C)明代 (D)清代 【104 學測題】
39. (C) 一位西方人士觀察中國時，提到：「報紙上出現許多新名詞，『教育』就是一個使用頻率很高的新詞，用來區別過去使用的『授業』。一位名人則認為：教會學校從道德和知識兩方面著手，教育小學生，遠比傳統私塾要好。因為中國傳統私塾只是教給小學生許多難以理解，無法消化的倫理綱常大道理。」這種「新教育」的發展情況與下列哪個事件關係最為密切？ (A)自強運動 (B)義和團事變 (C)新文化運動 (D)文化大革命 【104 學測題】
40. (A) 明治維新時期，日本經歷多次政治變革：1868 年，幕府將軍「大政奉還」；1869 年，地方「奉還版籍」；1871 年，實施「廢藩置縣」政策；到了 1885 年，仿效歐洲內閣制，以「總理大臣」統率行政部會，直接向天皇負責。這種變動反映日本明治時代政治發展趨勢是： (A)強化中央集權 (B)避免天皇濫權 (C)加強地方分權 (D)走向民主共和 【104 學測題】
41. (C) 某人回憶小時候至京城，看見城內建築十分雄偉，街道旁盡是青樓畫閣，寶馬奔馳在御路大街上。店舖裡陳列海外的奇貨珍寶，茶坊酒肆人聲鼎沸，夾雜說書聲，餐館夜間也常高朋滿座。父親說：這是百年無戰爭所創造的繁榮。這座京城應是： (A)東漢洛陽 (B)唐代長安 (C)北宋汴京 (D)明初北京 【104 學測題】

42. (D) 一位記者報導某次軍事衝突：在衝突爆發後，北京郊區一座車站被毀，電報線遭切斷，各國在北京人員無法對外聯絡。使節團立刻派人向外求援，緊急調集數百名官兵，進駐使館。20多艘外國軍艦也迅速集結在天津附近，準備登陸。這個事件應當是： (A)1858年的英法聯軍 (B)1884年的中法戰爭 (C)1894年的甲午戰爭 (D)1900年的八國聯軍

【104 學測題】

43. (B) 資料一：漢初的諸侯國有自己的朝廷、軍隊，可自行任命官吏，向人民收稅，但丞相由中央派任。資料二：漢初法律文書記載，皇帝禁止不同諸侯國的人民相互通婚，士人不可以游仕諸國。綜合兩則資料，最能說明漢初哪種現象？ (A)皇帝鼓勵諸侯推行地方自治 (B)皇帝與諸侯的權力關係緊張 (C)諸侯重視人民維持血統純正 (D)諸侯強調人民應當安土重遷 【104 學測題】

44. (D) 附圖是一張日本在某個時期發行的明信片，顯示一群日本青少年踏在亞洲地圖上，圖上還標示從日本到亞洲許多國家主要城市的飛行時間。從內容看，這幅圖表現的主題最可能是：



- (A)日俄戰爭爆發前，鼓勵青少年從軍 (B)一次大戰爆發時，鼓吹日本人參戰 (C)1920年代，宣導日人移居東亞城市 (D)1930年代，向青少年宣揚軍國主義 【104 學測題】
45. (A) 某一時期，朝廷重視海路互市，開放沿海地區，以便與阿拉伯半島的大食、印度半島的注輦 (Chola)、東南亞的蘇門答臘、爪哇、占城等地貿易，商人甚至遠從麥加前來。政府因此在廣州、泉州、杭州、明州、密州等港口設市舶司，發給貿易執照，征收貨物稅。請問政府設立機構管理海上貿易活動，最早始於何時？ (A)唐代 (B)宋代 (C)元代 (D)明代 【105 學測題】
46. (B) 一位德國人旅行某地時，寫下：「這裡有奇妙的園林、寶塔、大理石橋，一切都接近盡善盡美，世界沒有任何地方可以與之相比。但是數千個英國人能在七天內將之澈底毀壞。」這位德國人描述的最可能是 (A)1840年英軍攻打舟山群島 (B)1860年英、法劫掠圓明園 (C)1863年，英艦炮轟鹿兒島 (D)1868年，英軍攻擊安平港 【105 學測題】

47. (C) 某次，中國政府派兵前往國外，全軍包括軍官與士兵等，共約 28000 人，並設置醫官、醫士、通譯、買辦等職官。拜訪了 30 多個國家和地區，途中曾與某國發生衝突，指揮官帶領官兵破城，生擒該國國王及家屬，送回京師。這是 (A)漢代，張騫出使西域 (B)宋代，富弼出使漠南 (C)明代，鄭和出使南洋 (D)民國，國軍前往滇緬 【105 學測題】
48. (C) 某人回憶：長崎「現在」滿街都是洋文招牌，但當我數十年前初到此求學時，才第一次見到 ABC。求學期間，我認識一位來自薩摩藩的醫生，奉其藩主之命，遠從鹿兒島前來長崎，學習荷蘭醫學。還說：當時如果想學習炮術，只能閱讀荷蘭文的書籍。此人所說的「現在」最可能是 (A)1590 年代，豐臣秀吉統一日本時 (B)1630 年代，日本頒布鎖國令之前 (C)1860 年代，美國海軍進入日本後 (D)1940 年代，日本戰敗宣布投降後 【105 學測題】
49. (A) 兩個鮮卑大臣議論國政時發生爭執，一人口操漢語，引用儒家理念發表議論，另一人責罵他為「漢兒」。這個現象最早可能發生在 (A)北朝後期，實施漢化改革政策後 (B)隋、唐前期，種族融合形成之後 (C)五代十國，契丹南下打草穀之時 (D)北宋初年，北亞民族南下中原時 【105 學測題】
50. (B) 清朝末年，一位外交官員前往某國參觀該國閱兵，回北京後報告：這個國家改變制度，「擇（他國）長（處）為師，悉命人譯。飛砲霹靂，軍容強盛。有輕氣球，凌風千尺。」他有感而發，希望兩國能和平相處，「玉帛相見，互相輔弼」。這位外交官員參訪的國家最可能是 (A)德國 (B)日本 (C)英國 (D)土耳其 【105 學測題】
51. (B) 某人建議：您控制的領域農業發達，天然資源豐富，土地比德、法兩國加起來還大。您跟令尊一樣深獲百姓支持，如果與中央合作，頂多是稱雄一方，不如自己創造一番事業。我國願意傾全力支持您，完成建國大業。這個對話的場景最可能是： (A)1921 年，英國首相向凱末爾建議 (B)1928 年，日本特使與張學良談判 (C)1948 年，蘇聯領袖對毛澤東指導 (D)1949 年，美國國務卿提醒蔣介石 【106 學測題】
52. (C) 一位作者討論當時中國的社會情況，重要內容包括：論修治道路、論綏靖地方、懲戒奢侈、清除鴉片流弊、嚴禁買賣奴婢、禁溺女嬰等。這種想法最可能出現於下列何書中？ (A)明代的《職方外紀》 (B)清初的《大義覺迷錄》 (C)清末的《自西徂東》 (D)抗戰時期的《中國之命運》 【106 學測題】
53. (D) 一位君主告誡大臣：前朝因為不斷加稅，造成民生困苦。不僅平時練兵要加稅，出兵遼東也要加稅，後來鎮壓民變、清剿海盜更要加稅，各項稅收超過兩千萬兩。「我朝」為民謀利，首先應當免除這些苛捐雜稅。這位君主所說的「我朝」應是： (A)唐 (B)宋 (C)明 (D)清 【107 學測題】

54. (C) 以下三段資料為三個不同時期的中國知識分子對傳統與西方文化的看法：【106 學測題】
資料甲：我們要拋棄傳統中國的四書五經、打倒那吃人的禮教，專心學習西方的民主與科學。
資料乙：我們要拒絕汙染心靈的西方文化，更要唾棄傳統中國的文化遺毒，知識青年應該下鄉向農民學習。
資料丙：我們可以仿效西方國家的科學與技術，但是，仍要堅持維護中國的綱常、名教與聖人之道。
上述資料依時序先後應是： (A)甲乙丙 (B)乙丙甲 (C)丙甲乙 (D)丙乙甲
55. (A) 學者發現許多三國時代吳國的文獻資料，包括《隱核（查核）新占民簿》、《隱核州軍吏父兄子弟簿》、《兵曹徙作部工師及妻子簿》、《郡縣吏兄弟叛走人名簿》、《生口買賣簿》等。這些簿冊的作用應是： (A)掌控各類人口，增加稅收 (B)強迫職業世襲，確保生產 (C)因應戰爭需要，強制徵兵 (D)分析人民壽命，發展醫學 【107 學測題】
56. (C) 某一朝代，因強敵入侵，皇帝從寧波乘船出逃，船隻在江南沿海躲藏以避追擊。四十天後敵軍撤退，皇帝才返回陸地。為了安全考量，皇帝決定在富庶的江南臨海地區建都，萬一強敵再侵時，才方便出海避難。請問，該事件最可能是： (A)春秋時期的吳越相爭 (B)三國時期的孫吳政權 (C)女真壓境時宋室南渡 (D)滿清入關後南明諸王 【107 學測題】
57. (C) 一位外國傳教士回憶傳教時的遭遇：當地久旱不雨，百姓認為是建洋教堂造成，許多人包圍教堂，意圖生事，官府派遣官兵保護教士，僵持不下。稍後，天降大雨，百姓才紛紛散去。這最可能發生在： (A)1820 年代廣州 (B)1840 年代天津 (C)1880 年代濟南 (D)1920 年代臺北 【107 學測題】
58. (D) 柬埔寨為中南半島的文明古國，昔稱扶南，後名真臘、高棉帝國。真臘和鄰近的占城、暹羅等地，是宋代成形的「南海貿易體系」成員，當時中國和東南亞間的貿易商船往來不絕，許多東南亞的物種隨貿易活動傳入中國。《宋會要》記載：紹興 3 年進口商品中，以香料、藥材、珍寶為主。《諸蕃志》也列舉中國商人在真臘、占城等 15 個地區販售的商品有瓷器、絲織品、酒、漆器等。柬埔寨於十九世紀淪為法國保護國，1953 年才獨立；但獨立後長年動亂，某國際組織乃通過決議，在該國成立柬埔寨臨時權力機構，於 1992 年至 1993 年協助該國重建和平政府，舉行自由和公正的選舉並制定新憲法，使該國恢復正常秩序；這也是該國際組織第一次接手管理一個獨立國家。該國政局較為穩定後，臺商也陸續到該國投資紡織成衣、製鞋、農產、木材加工等產業。請問：若僅以題文中有關宋代「南海貿易體系」的敘述作為推論依據，可直接由上述資料獲得下列哪項結論？ (A)原產於真臘、占城，耐旱早熟的占城稻，至宋代才傳入中國 (B)南海貿易商船多在夏季從中國出發，冬季從東南亞返回中國 (C)中國的經濟重心南移和造船技術進步是南海貿易發展的基礎 (D)宋代南海貿易以中國輸出手工業商品、進口原物料商品為主 【108 學測題】
59. (C) 某一時期，中國周邊民族普遍使用文字，並營建都城，反映其國家組織的強化，構成對農業中國的嚴重威脅。無論是東北、北方，甚至西南，都發生周邊民族入侵的現象，同時對中國造成重大的壓力。這種形勢出現於何時？ (A)西周末年 (B)西晉末年 (C)唐宋之際 (D)清朝中葉 【108 學測題】

60. (A) 清朝初年，政府起用傳教士協助官員繪製《皇輿全覽圖》。康熙 52 年 5 月 20 日（陰曆），皇帝下令：「往河南、江南畫輿圖去的官和西洋人不必回來，就彼處往浙江舟山等處、福建臺灣等處畫去。但走海時，著伊等謹慎看好天色時節行走，不必急了。」從康熙 49 年到 55 年共完成「有度數直隸、山東等 13 省全省圖 14 張」。這些地圖都以「府」為基本量算單位，用墨色硬筆繪製，度數用阿拉伯數字記在圖的邊框，山川城鎮符號基本一致。請問，協助清朝官員繪製地圖的傳教士最可能是： (A)法國的耶穌會教士 (B)英國的長老會教士 (C)荷蘭的喀爾文教士 (D)俄羅斯的東正教士 【108 學測題】
61. (B) 學者認為：國家失道，將敗之際，上天會先降下災害，以為警惕。如果人君無法領受天降災異的教訓，把政治導正，那麼天就有權力來奪取君王的權位。如果君王行為得當，五行運轉便正常。他因此主張：「天道」運行變化，主要是為了建立「人道」。這位學者最可能是： (A)主張民貴君輕的孟子 (B)主張天人感應的董仲舒 (C)主張格物致知的朱熹 (D)主張知行合一的王陽明 【108 學測題】
62. (B) 許多關切教育的地方人士指出：國家建設百廢待舉，傳統知識已不敷使用，需借重歐美先進國家的政治經驗、學術思想與科學技藝等專門知識，才能提升國家建設的效率。國家先前雖曾多次派選學生出洋念書，但人數不足。為便於學習歐美先進國家的專門知識，建設家鄉，我們也應廣派學子出國留學。呼籲主事者籌設「留學歐美預備學校」，招收學子，先在國內學習歐、美語文，以便將來出國學習。該文章反映哪種時代背景？ (A)簽訂《南京條約》後，政府需培養對外交涉人才 (B)民國初年，擴大大學校教育，也培育各種專門人才 (C)八年抗戰期間，同盟國資金援助，學生可赴歐美 (D)韓戰爆發以後，美援開始，故派遣學生赴美學習 【108 學測題】
63. (B) 1862 年，德川幕府派官員到上海考察，隨行一位藩士寫下《遊清五錄》，描述當時上海的情形：「歐羅巴諸邦商船軍艦數千艘停泊江上，桅檣林立，填滿津口；陸上則有諸邦商館，粉壁千尺，殆如城郭，其雄大壯偉，筆紙難以表述。」另一方面他也觀察到：「中國人到處被外國人牽制著。……與其說上海是中國人的土地，還不如說是英法兩國的殖民地。……雖然說我們是日本人，但對於這樣的局面也應該關心留意。因為這不僅是中國之事。」他指出中國受侵略的根源是國策失誤：「當權者只知守舊……沒有製造軍艦大砲在戰區裡抵禦敵人，才造成如此衰敗的結果。」這位日本人寫此書的目的最可能是： (A)日本已是先進國家，自認為是高級文化代表，故多批評 (B)日本也相當落後，看到中國情況，希望能避免重蹈覆轍 (C)日本自以為遠較中國富強，希望也能效法列強瓜分中國 (D)日本自知無法抵抗列強，主張閉關自守，拒列強於境外 【108 學測題】
64. (C) 1871 年，西洋人在上海敷設了電報線；1877 年，丁日昌在臺灣架設了電報設備，成為中國第一條自行架設的電報線。1879 年，李鴻章也在天津與大沽及北塘之間架設電報設備。當時架設電報設備的主要動機是： (A)西洋商社在中國投資，希望中國提供電信設備 (B)中國報業為求現代化，希望引進電報通信設施 (C)清朝官員認為電報設施有助於國防，因此架設 (D)朝廷認為電報為國家現代化象徵，故極力支持 【108 學測題】

65. (B) 某一時期，中共《新華日報》〈社論〉曾讚美「美國是自由世界的核心、民主的守護神、專制者的敵人」，希望用民主與科學的紐帶結合中、美兩大民族。後來，毛澤東也強調反對一黨專政，主張建立民主的聯合政府，承諾保障人民的言論、出版、集會、結社、思想、信仰及身體等自由。發表上述言論的背景最可能是： (A)1920 年代，中國共產黨成立時的主張 (B)1940 年代，要拉攏美國，對抗國民黨 (C)1960 年代，爭取美國支持文化大革命 (D)1970 年代，會見季辛吉保證支持美國 【109 學測題】
66. (B) 中共建國後，為貫徹共產主義的理想，在 1950 年代後期開始推動「集體化」運動，即打破小農經濟的格局，取消土地私有制，在農村推動集體農場制度，並開始將農村編組成人民公社。但這些政策並無法解決農村問題，甚至弊多於利，演變成空前的災難，農村因飢饉而引發大量人口死亡。下列哪項原因和中國這項集體化運動的失敗最有關係？ (A)抗美援朝戰爭爆發，農民被動員上戰場 (B)取消土地私有制，使農民失去生產意願 (C)集體農場精耕細作，傳統農民無法適應 (D)推行上山下鄉運動，導致農村人力不足 【109 學測題】
67. (A) 宋代立國之初，強化中央集權並提倡文人政治。時人汪洙有〈神童詩〉云：「天子重英豪，文章教爾曹；萬般皆下品，惟有讀書高；滿朝朱紫貴，盡是讀書人。」學者認為，文人政治本為配合宋初的國家政策，但因宋室後人墨守成規，以致造成重文輕武的現象，終至無法應付強鄰環伺的局面。請問宋初採行中央集權，提倡文人政治的目的為何？ (A)化解軍人勢力的威脅 (B)提高官僚集團的素質 (C)防止兵將帥間的猜忌 (D)節省國家軍費的支出 【109 學測題】
68. (C) 某一時期，一艘駛向中國的外國船隻在冬天航行時，遇上暴風，漂流至中國東南沿海某地，船中乘客獲救，送往官府途中，險被民眾毆殺。這位乘客懂漢字，在與中國官員筆談後，得知該地長期以來受到外國海盜侵擾，村民誤認他是海盜，所以群情激憤。這個區域除了經常有外國海盜騷擾外，且因環境條件不佳，謀生不易，導致人口常往海外移出。請問文中的這位乘客最可能是下列何者？ (A)日本派到長安的遣唐使者 (B)元代到泉州的阿拉伯商人 (C)明代到中國遊歷的朝鮮士人 (D)清初到北京考試的越南士人 【109 學測題】
69. (C) 學者指出：北魏實行均田法的背景，第一，因戰亂的傷亡及遷徙，留下大片無主荒田；第二，許多農民為躲避戰禍，逃離農村，流落城市，成為不事生產的游民；第三，農民投靠大戶士族，「五十家方為一戶」，只向其宗主貢獻，不必向政府納稅。均田法的實施是結合戶籍的清查及管理，透過計口授田，使農業勞動力與耕地達到合理配合，以恢復生產，建立小農社會。根據上述，學者認為北魏均田法實施的主要目的最可能是： (A)限制土地兼并 (B)保全士族特權 (C)重建編戶稅基 (D)推行漢化運動 【109 學測題】
70. (A) 某地的警察組成有歐籍、印度籍、華籍，以及特別從山東威海衛招募來的人員，分別以 ABCD 編號。其中印度籍警察包著頭巾，華籍警察戴著三角形竹帽，穿綠色制服。當地孩童以「ABCD，大頭綠衣，追賊不到，吹嗶嗶！」來形容警察。這些孩童最可能是： (A)在英國殖民統治香港時的華人小孩 (B)在德國轄下膠州灣生活的華人小孩 (C)在雅加達經商貿易的華僑家庭小孩 (D)在舊金山建造鐵路的華工家庭小孩 【109 學測題】

71. (D) 某一時期，主事者推動一項政策：將工、農、學、兵結合在一起，便於領導。大部分人民編入組織，私人物品如鍋、盆、桌、椅都交給公家，以便共同生活、共同生產。不分男女都要工作，兒童都送到托兒所，甚至設置食堂，免費供應食物和必需品。原本希望建立自給自足的社會，結果卻造成工業停頓，經濟倒退，國民生產總值大幅減少。這最可能是何種制度或組織？ (A)1853年太平天國天朝田畝制 (B)1900年山東的義和團組織 (C)1931年江西的中華蘇維埃 (D)1958年華北各地人民公社 【110學測題】
72. (C) 某一時期，許多知識分子研究軍事技術，紛紛著書立說，出版了《火輪船圖說》、《演炮圖說》、《西洋自來火銃制法》及《請仿西洋製造火藥疏》等書。這種情況最可能反映哪種思想？ (A)嚴守夷夏之防 (B)推動全盤西化 (C)師夷長技制夷 (D)擴張軍國主義 【110學測題】
73. (A) 十八世紀初，一位在中國傳教的法國傳教士於書信中描述，他所在的地區為群山中的平原，人口稠密，富人甚多。此地自西元一千年左右起已是重要的工業城，現有作坊三千座，產品不僅供應全中國，還外銷世界各地，數量驚人。這位傳教士詳述該地產品的製作過程，使歐洲人終得仿製成功。他所描述的產業最可能是： (A)江西景德的瓷器製作 (B)浙江杭州的絲綢製品 (C)福建福州的武夷茶葉 (D)廣東沿海的醫療藥材 【110學測題】
74. (A) 某一時期，有人記錄在中國旅行的見聞：漢字不像西方文字橫排書寫，由字母組成，而是由上而下的直排，每個字都有特定的符號，鄰近民族也都能認識。進入中國人的家中，一定有人端上一種顏色淡紅的溫水，以一種有苦味的草製成，有一股藥味，他們稱其為茶。這份記錄最可能出自： (A)十六世紀來華傳教的耶穌會士，開始認識中國文化 (B)十七世紀入主中國的滿洲皇族，體會北京日常生活 (C)十八世紀來華朝貢的安南貢使，走訪中國風土民情 (D)十九世紀來華經商的英國商人，看到新奇特有事物 【110學測題】
75. (B) 唐太宗下令大臣修《氏族志》，欲排定各姓氏等級。編成之後，太宗不滿意，指示重修時只需根據現在的官爵等第區分等級。修訂版將各姓氏分成九等級，以皇室為首，外戚次之。高宗時，宰相李義府門第寒微，想與山東士族結親被拒，乃上告高宗。唐高宗因此下令，山東士族「七姓十家不得自為婚」。唐代修訂《氏族志》、發布「禁婚令」，最主要目的是： (A)擔憂士族通婚，聲氣相通，壟斷科舉考試晉身管道 (B)避免傳統士族透過聯姻結盟，禁婚壓抑其社會地位 (C)禁止士族近親通婚，避免造成人倫與社會關係混淆 (D)擔心士族通婚，擴大土地兼併，造成農民流離失所 【110學測題】
76. (D) 一位皇帝指示研商減稅事宜，隨即有大臣上奏：我朝前一陣子因為軍費支出甚多，政府財政有些不足，建議暫緩減稅政策。但皇帝認為：先前雲南、貴州、廣西、四川等省因大規模叛變，使得地方殘破不堪，田畝荒廢，財政才會短收。現在大亂已平，人口逐漸增加，荒地也逐一開墾，國用已經充足，就應與民休息。所以，仍決定減稅。這種情況最可能是： (A)唐太宗親征高麗等地之後 (B)宋高宗與金簽訂和約之後 (C)明成祖發動靖難之役之後 (D)清聖祖平定三藩之亂之後 【110學測題】

77. (A) 1720年，某地的商業組織制訂「行規」，部分條文內容如下：華夷商民一視同仁，各行商應與夷商相聚一堂，共同議價，其有單獨行為者應受處罰。他處或他省商人來省與夷商交易時，本行應與之協訂貨價，俾得賣價公道；有自行訂定貨價或暗中購入貨物者罰。制訂這份文書者最可能是： (A)廣州公行代表 (B)鹿港行郊商 (C)香港殖民政府 (D)天津通商大臣 【110 學測題】
78. (C) 二十世紀初，一名道士在某處山洞中整理文物，發現許多自十六國到北宋以前的公私文書、大量的佛教典籍及繪畫作品。這些文件的書寫文字，除中文外，還有梵文和藏文等。許多外國學者聞風而至，購走大量文物，至今仍存於英、俄、法等國的國家博物館及圖書館。此山洞最可能位在： (A)山西 (B)遼寧 (C)甘肅 (D)雲南 【110 學測題】
79. (A) 一位大臣向皇帝稟告：朝廷已三十多年未遷徙百姓守先帝陵墓，如今關東地區甚多富人，富人購買良田，招貧民耕種。他建議繼續推行遷徙，讓富人搬到首都附近的陵墓區，一方面壯大首都，衰弱王室諸侯；一方面可平均中等以下家庭的貧富差距。此政策因地方豪強抵制，且違背朝廷推動的孝道而難以執行。這最可能發生於： (A)重視儒術的漢代 (B)偏安江南的東晉 (C)崇尚胡風的唐代 (D)推行科舉的宋代 【110 學測題】
80. (B) 中國的百貨公司成立以來，多以「洋貨」為主打商品。民國初年，某一事件發生期間，上海一間百貨公司在報紙上刊登「敬告國人書」：「外交失敗，悲憤同深，……敝公司雖係統辦環球貨品，然宗旨首重國貨，歐美貨次之，其某國貨，則僅供市上之需求耳。」並表示某國貨品存貨出清，即不再販售。不過，抵制某國貨品的聲浪如排山倒海而來，該公司只好再度聲明：概將某國貨品「完全收束不賣，寧願犧牲血本，以示與眾共棄之決心。」請問「某一事件」指的是： (A)三一運動 (B)五四運動 (C)九一八事變 (D)七七事變 【111 學測題】
81. (C) 一份資料提到：1933年的雙十國慶酒會選在臺北的鐵道旅館舉辦，出席的貴賓有美國、義大利駐臺領事及臺灣總督府高級長官。會場懸掛中華民國國旗，慶典中除演奏中華民國國歌外，還高呼「中華民國萬歲」。這段資料如何解讀最合理？ (A)當時滿洲國成立不久，日本乃邀請滿洲國官員來臺舉辦慶祝雙十國慶活動 (B)當時中日兩國的關係親密和善，臺灣總督府乃主動舉辦慶祝雙十國慶酒會 (C)當時來臺的中國僑民日多，國府已在臺北設立領事館，故能舉辦國慶活動 (D)當時的臺灣總督府正在進行皇民化政策，故舉辦雙十酒會來籠絡臺灣人民 【111 學測題】
82. (D) 十五至十六世紀間，某王國曾興建一座大型的宮殿，此建築物分為三部分：正殿為國王舉行各種典禮和議政的場所；北殿專為接待中國的冊封使之用；南殿則自十七世紀初期開始，用來接待日本薩摩藩官員。該宮殿最可能位於： (A)朝鮮 (B)暹羅 (C)安南 (D)琉球 【111 學測題】

83. (C) 金門有許多洋樓，建築上裝飾著象徵吉祥如意的鳳梨、祈求多子多孫的麥穗、象徵科舉及第的螃蟹（以「甲殼」比喻「科甲」）、表示時間的西洋時鐘或扛著屋簷的印度苦力（象徵屋主的社會地位）。這些建築裝飾反映以下何種歷史現象？ (A)荷蘭人主導遠東貿易時期，當時盛行的建築風格也流傳至金門 (B)鄭成功家族前往巴達維亞貿易，並將當地的建築特色帶回金門 (C)民國早期，僑民從南洋帶回西方建築風格並融入金門傳統裝飾 (D)日本占領金門時，其商人引進當時歐洲最流行的巴洛克式裝飾 【111 學測題】
84. (B) 清宣統三年十二月二十五日（1912年2月12日），清帝溥儀頒布退位詔書。但在國立故宮博物院典藏的清代檔案中，發現一件進呈給溥儀的奏摺，時間標註為「宣統十六年七月」。我們應如何解釋這個現象？ (A)宣統朝只有三年，應該是清政府官員誤植年代的奏摺 (B)清帝雖退位，政府仍同意其繼續使用帝號和原有紀年 (C)洪憲帝制時，為獲滿族支持而以宣統紀年進呈的奏摺 (D)滿洲國成立，其政府官員上奏給溥儀，故以宣統紀年 【111 學測題】
85. (D) 中國傳統政治制度歷經漢、唐的演變而大備，日、韓等國立國較晚，其各種制度參酌中國者甚多，也有徒取其形式而忽略其精神的。例如：有某個制度在中國具有公平與促進社會流動的意義，在東亞的日本、朝鮮卻成為保障特定對象的工具。這個制度最可能是： (A)戶籍 (B)律令 (C)賦役 (D)科舉 【111 學測題】
86. (A) 某校歷史課程進行「歷史考察」學習時，要求同學事先蒐集族譜、臺灣總督府旅券（護照）、同鄉會名簿等史料，並進入內政部網站閱讀人口和戶口調查資料。該「歷史考察」的主題最可能是： (A)人群的移動與交流 (B)國家的建立與形塑 (C)文化的類型與變遷 (D)宗教的起源與傳播 【111 學測題】

二、題組：

1. ◎某一時期，朝廷重視海路互市，開放沿海地區，以便與阿拉伯半島的大食、印度半島的注輦(Chola)、東南亞的蘇門答臘、爪哇、占城等地貿易，商人甚至遠從麥加前來。政府因此在廣州、泉州、杭州、明州、密州等港口設市舶司，發給貿易執照，征收貨物稅。請問：
- (A) (1) 政府設立機構管理海上貿易活動，最早始於何時？ (A)唐代 (B)宋代 (C)元代 (D)明代
- (C) (2) 引文所述的海上貿易活動，與下列哪個南洋群島的現象關係最密切？ (A)都市化的勃興 (B)人口轉型的出現 (C)伊斯蘭教的傳播 (D)殖民地式經濟的建立 【105 學測題】

2. 唐宋時期，隨著南海貿易的興盛，外國船隻停靠的貿易港也逐漸從廣州向北延伸到福建和長江流域。繼廣州之後，泉州、明州（今寧波）也發展成大商港。外國商船將香料、珊瑚、瑪瑙、寶石、象牙、藥材等商品輸往中國，並購買大量中國產品運回。請問：

- (D) (1) 唐宋時期從南海來華貿易的外國商人，以下列何者為數最多？ (A)印度人 (B)馬來人 (C)義大利人 (D)阿拉伯人
- (D) (2) 外國商人從明州（今寧波）購買運回的主要商品為何？ (A)蔗糖、樟腦 (B)樟腦、苧麻 (C)蔗糖、棉布 (D)瓷器、絲綢

【107 學測題】

3. 宋代立國之初，強化中央集權並提倡文人政治。時人汪洙有〈神童詩〉云：「天子重英豪，文章教爾曹；萬般皆下品，惟有讀書高；滿朝朱紫貴，盡是讀書人。」學者認為，文人政治本為配合宋初的國家政策，但因宋室後人墨守成規，以致造成重文輕武的現象，終至無法應付強鄰環伺的局面。請問：

- (B) (1) 下列哪個概念最接近題文〈神童詩〉所描述的讀書與讀書人從政之現象？ (A)次文化 (B)文化位階 (C)社會資本 (D)政治參與
- (A) (2) 宋初採行中央集權，提倡文人政治的目的為何？ (A)化解軍人勢力的威脅 (B)提高官僚集團的素質 (C)防止兵將帥間的猜忌 (D)節省國家軍費的支出

【109 學測題】

4. 某一時期，一艘駛向中國的外國船隻在冬天航行時，遇上暴風，漂流至中國東南沿海某地，船中乘客獲救，送往官府途中，險被民眾毆殺。這位乘客懂漢字，在與中國官員筆談後，得知該地長期以來受到外國海盜侵擾，村民誤認他是海盜，所以群情激憤。這個區域除了經常有外國海盜騷擾外，且因環境條件不佳，謀生不易，導致人口常往海外移出。請問：

- (C) (1) 題文中的這位乘客最可能是下列何者？ (A)日本派到長安的遣唐使者 (B)元代到泉州的阿拉伯商人 (C)明代到中國遊歷的朝鮮士人 (D)清初到北京考試的越南士人
- (B) (2) 當地人口常往海外移出，最可能與其具有下列哪項環境特色有關？ (A)位處缺水區，環境負載力不足 (B)山多平原少，農業生產力較低 (C)多峽灣海岸，外來船隻易停泊 (D)針葉林廣布，造船材料較豐富

【109 學測題】

三、混合題：

1. 西晉末年，北方戰亂，長安、洛陽二京傾覆，山西、河北淪陷。面對時局的變動，人民有不同的作法。學者指出，中原士庶避難者約有兩途，或入遼東，或徙江左。入遼者，接受慕容氏招撫；過江和遷於淮漢流域者，為數尤多，遂創二百七十年偏安之局。其不克遷徙者，則鳩合宗黨，保聚險固，自治自衛，以圖苟免於胡人或寇賊之難。還有一種流人，其背棄鄉貫，轉徙他方，與前者相似；而憑堅乘險，保守塢聚，又與後者彷彿。請問：【111 學測題】

(C) (1) 上述史事的時代背景，應是： (A)遊牧民族避寒南侵 (B)匈奴勢盛南下牧馬 (C)內遷胡人舉兵起事 (D)蒙古鐵騎橫掃中原

(2) 題文中的「前者」、「後者」，他們面對時局變動的作法分別為何？請在答題卷表格中依序作答，並從二者擇一勾選何者形成當地政治文化勢力？（非選擇題，每欄 35 字內）

	面對時局變動的作法（各 35 字內）	擇一勾選
前者	①	<input checked="" type="checkbox"/> 請勾選 <input type="checkbox"/> 前者：形成當地政治文化勢力
後者	②	<input type="checkbox"/> 後者：形成當地政治文化勢力

歷屆學測試題(世界史篇，共 93 題)

一、單一選擇題：

1. (C) 一個延續千餘年的大帝國，以農業為立國基礎，其首都是歐洲地區及地中海世界最大的政治、經濟和宗教中心，控制歐洲和亞洲之間的貿易與文化往來。這個帝國是指： (A)亞述帝國 (B)阿拔斯帝國 (C)拜占庭帝國 (D)神聖羅馬帝國 【99 學測題】
2. (A) 附圖是 19 世紀末期歐洲某一族群向外移動的路線圖。這個民族原本來自外地，移入後不斷受到外來干擾，19 世紀起向外移動，前往拉丁美洲與美國。也有人提倡移往巴勒斯坦，希望建立自己的國家。這個民族是：



- (A)猶太人 (B)德意志人 (C)土耳其人 (D)斯拉夫人 【99 學測題】
3. (B) 一位學者認為：政府與人民間原有契約關係，政府應當保障人民的生命、自由和財產，才能獲得人民的認可，其統治才有正當性。如果政府不能善盡其義務，人民便可解除契約。我們如何理解這種理論？ (A)柏拉圖的理想國理念，主張國君應當為民服務 (B)洛克提出的政府學說，主張人民可以推翻政府 (C)法國大革命時的《人權宣言》，認為世人都應平等 (D)威爾遜提出民族自決論，認為自由為基本人權 【99 學測題】
4. (D) 某地自 1840 年代起就發展工業、礦業，1850 年代修建鐵路，1860 年代已有鐵路 1300 公里，到 1870 年擴增為 7700 公里，1890 年代增至 25600 公里。1851 年，當地開始興建紡織廠，到了 1900 年，共有紡織廠 193 所，還有茶葉公司與黃麻工廠。當地人民並未享受這些經濟發展帶來的好處，因此不斷要求自治，希望享有平等的政治權利。這個地方應當是： (A)越南 (B)加拿大 (C)日本 (D)印度 【99 學測題】
5. (B) 一位國家領袖表示：「我們必須加強海軍，以維護我國的利益。我們的海外同胞，不管是神職人員、商人或從事其他行業，都應該相信：我們的海軍會永遠保護他們。」我們如何理解這個談話？ (A)拿破崙戰爭期間英國政府的主張 (B)德意志帝國在東亞擴張時的聲明 (C)日本發動珍珠港事變之前的宣傳 (D)波斯灣戰爭期間美國提出的政策 【99 學測題】

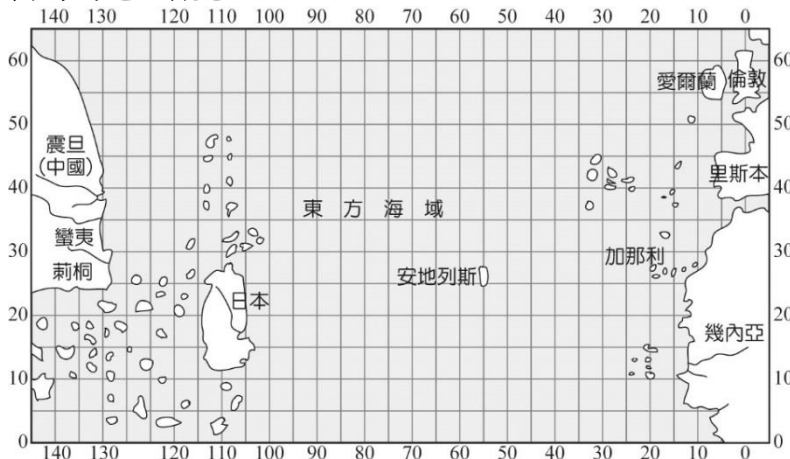
6. (A) 18 世紀初，一位法國學者稱讚當世某國的政治，認為這個國家的君主以倫理、道德治理天下，任用知識分子為官，但官位並非世襲，堪稱是希臘「哲學家國王」的化身。這位學者所稱的某國是： (A)中國 (B)土耳其 (C)英國 (D)日本 【99 學測題】
7. (C) 一位歐洲學者有這樣的經歷：他出生時，多數世人還認定地球是一個扁平的陸塊；到他求學時，周遭已經有許多人相信地球是圓的，各地還流傳許多有關遠方新奇事物的傳說。這位學者鮮少離開家鄉，卻能根據平時蒐集的資料，描述世界各地的新奇事物，如巨大的宮殿、雄偉的神殿、食人族等。他還將這些蒐集起來，編寫一本世界誌，出版後引起許多人的好奇與搶購。這應當是何時的情景？ (A)西元前 2 世紀 (B)西元 9 世紀 (C)西元 16 世紀 (D)西元 18 世紀 【99 學測題】

8. (D) 下表是 1891~1896 年間四個國家的農業人口占總人口百分比：

	農業人口占總人口百分比
甲國	70%
乙國	42%
丙國	22%
丁國	10%

試問表中的甲、乙、丙、丁四國分別是： (A)甲：法國 乙：英國 丙：荷蘭 丁：俄羅斯 (B)甲：英國 乙：荷蘭 丙：俄羅斯 丁：法國 (C)甲：荷蘭 乙：俄羅斯 丙：英國 丁：法國 (D)甲：俄羅斯 乙：法國 丙：荷蘭 丁：英國 【99 學測題】

9. (C) 附圖是一幅西方人繪製的地圖，製圖者將中國分成蠻夷與震旦，又認定日本是一個大島。中國最南端的角落為荊桐（泉州）城。從泉州出海，可以遇到無數小島。這幅圖反映的是何時的地理觀念？



- (A)西元 2 世紀的希臘地理學者托勒密 (B)西元 5 世紀的羅馬哲學家奧古斯丁
(C)14 世紀的義大利學者托斯卡內利 (D)18 世紀的英國航海家詹姆士庫克 【100 學測題】

10. (D) 一位政治人物表示：「我們不能把菲律賓交給德國或法國，這樣不符合我們的經濟利益，我們也不能讓菲律賓人自治，因為菲律賓人沒有自治的能力。我們只能占領整個菲律賓，教育他們，讓他們文明起來，灌輸基督教的理想。」這位政治人物應當是： (A)17 世紀的羅馬教宗 (B)18 世紀的西班牙王 (C)19 世紀的日本天皇 (D)20 世紀的美國總統 【100 學測題】

11. (A) 附表是英倫三島、德國與北歐、伊比利半島、義大利半島四個地區從 400~1500 年間的人口統計，請根據表中數據，回答問題。表中丁地應當是指：

單位：百萬人

地區\年代	450	650	1000	1200	1340	1500
甲	6	2.5	5	7.8	10	9
乙	4	3.5	7	8	9	8.3
丙	3.5	2	4	7	11.5	7.5
丁	1	0.5	2	2.8	5	3

- (A)英倫三島 (B)德國與北歐 (C)伊比利半島 (D)義大利半島 【100 學測題】

12. (C) 某個帝國，在 11 世紀初是歐洲最強盛的國家，14 世紀以後，境內諸侯紛紛追求自身利益，互相攻伐，國勢漸衰。17 世紀，又因宗教問題，造成內部分裂。19 世紀初，帝國甚至遭拿破崙解散。這個帝國是指：

- (A)俄羅斯帝國 (B)拜占庭帝國 (C)神聖羅馬帝國 (D)鄂圖曼帝國 【101 學測題】

13. (B) 歷史上某一時期，甲乙雙方舉行效忠儀式：甲方向乙方保證，願以自由人身分，終身服事乙方，絕不脫離乙方保護，如有違背，願以金錢賠償；乙方則保證，宣誓之後，將終身保護甲方。這個效忠儀式最可能在何時何處舉行？ (A)8 世紀前期君士坦丁堡的皇宮 (B)12 世紀中期法國北部的莊園 (C)16 世紀後期英國南部的城堡 (D)19 世紀後期美國南部的棉田 【101 學測題】

14. (D) 某一時期，立國的理念是：「國家應由受過良好教育、擁有財產的人來管理；他們可以制定法律，保護人民財產，維持社會安寧。人民應當遵守法律、熱愛國家。」所有法律也都依據這樣的理念制定。這應當是下列哪個時期的觀念？ (A)秦始皇統一六國時期的法家思想 (B)拜占庭帝國《查士丁尼法典》的主張 (C)英格蘭王約翰簽署《大憲章》的概念 (D)法蘭西帝國《拿破崙法典》立法精神 【101 學測題】

15. (C) 一張老相片顯示：火車站中有數列滿載士兵的火車，其中有兩列預計開赴比利時前線，另有一列即將駛往東方邊界，車廂上的標語寫著：「向沙俄宣戰！為祖國奮鬥！」這張相片最可能是何時的情景？ (A)1854 年的克里米亞戰爭爆發後，英軍開往前線 (B)1870 年德法戰爭爆發，德意志聯軍向法國開拔 (C)1914 年，第一次世界大戰爆發，德軍準備出發 (D)1939 年歐洲大戰爆發，德軍準備進攻蘇聯之際 【101 學測題】

16. (D) 媒體報導：「波蘭國會於本月中通過加入北大西洋公約組織（簡稱北約）案，波蘭預定在 3 月間與捷克及匈牙利同時成為北約新會員。」這則報導出現的時代背景為何？ (A)二戰結束時，美蘇兩國在東歐對峙，美國拉攏波、捷等國加入北約 (B)韓戰結束後，法國欲擴大在歐洲勢力，企圖說服東歐各國加入北約 (C)越戰爆發時，西歐欲打擊華沙公約組織，勸說波、捷等國加入北約 (D)蘇聯解體後，東歐向西方靠攏，波、捷、匈牙利等國家欲加入北約 【101 學測題】

17. (A) 19 世紀中期，一位俄國學者批評政府的某項政策，認為它「改變數百年習慣的生活方式，摧毀自古以來人民與土地的連結關係。」因此他呼籲：「讓我們根據傳統的原則，重新恢復國家與人民、人民與土地之關係。」這位學者批評的政策為何？ (A)解放農奴 (B)組織公社 (C)農地重劃 (D)土地國有【101 學測題】
18. (B) 自某個時期起，藝術創作強調恢復希臘與羅馬的傳統，藝術家精研人體結構，重視透視法。他們的地位大幅提升，非以往的工匠可比，貴族與富商都願意收購藝術作品珍藏。這個時期最可能是： (A)西元 12 世紀 (B)西元 15 世紀 (C)西元 18 世紀 (D)西元 19 世紀【101 學測題】
19. (A) 16 世紀起，歐亞間的海上貿易興起，許多歐洲國家紛紛前來亞洲經商。歐洲某國王室出資組成船隊，前往印度與東亞地區貿易。國王為反制抗議教派，避免其擴張，還願與教廷合作，免費將傳教士送往商船所到之處傳教。這位國王是： (A)西班牙國王菲利普 (B)英格蘭王伊莉莎白 (C)俄國皇帝彼得大帝 (D)瑞典國王古斯塔夫【101 學測題】
20. (C) 一位商人自述：家中原本頗有積蓄，曾經擁有一家運輸公司。後因為投資股票，一夜之間，家財全部化為烏有。他為了養家活口，只得到碼頭當搬運工，但工作並不固定，收入有限。許多朋友則因無法繳付房貸，住家遭銀行查封，只得跟許多人一起在公園搭帳棚，領失業救濟金，不相信政府能解決他們的困境。這種情形最可能是： (A)1800 年拿破崙戰爭後的巴黎 (B)1918 年第一次大戰後的倫敦 (C)1932 年經濟蕭條時期的紐約 (D)1950 年第二次大戰後的上海【101 學測題】
21. (C) 一位統治者自述其生平事蹟：「19 歲那年，國家受到奸黨蹂躪，是我招募軍隊，打敗奸黨，才重建和平。元老院選我為執政官，控制所有權力，但我拒絕獨裁，不僅恢復了許多逐漸沒落的傳統，也為後代子孫立下許多典範。」這位統治者最可能是： (A)亞歷山大大帝 (B)羅馬將領凱撒 (C)羅馬皇帝屋大維 (D)羅馬皇帝君士坦丁【101 學測題】
22. (B) 一位學者擔心：國家因為民族多元，許多人受到當時流行的民族主義影響，希望獨立、建國，最終可能導致國家分崩離析。他呼籲大家珍惜共同擁有的歷史經驗，以「命運共同體」的觀念整合國家。這位學者最可能生活在： (A)1860 年的義大利 (B)1910 年的奧匈帝國 (C)1930 年的波蘭 (D)1960 年的美國【102 學測題】
23. (B) 一位國家元首在議會中表示：統治者應當傾聽上帝的意旨，而不受制於法律。他認為自己是人民的主人與父親，可以主宰臣民的生死。他應當遵守與上帝的誓約，無須經過議會便可自行制定法律。這位元首是： (A)1 世紀羅馬統治者奧古斯都 (B)17 世紀的英王詹姆士一世 (C)19 世紀初法蘭西皇帝拿破崙 (D)19 世紀末的德皇威廉二世【102 學測題】

24. (AD) 1950 年代初期，歐洲某城市中，一位住在英國占領區的居民，一大早先通過檢哨站，到蘇聯占領區上班。下班後，經常要繞到美國占領區購買日常用品，然後搭電車回家。這個人最可能生活在何地？ (A)維也納 (B)華沙 (C)布拉格 (D)柏林 【102 學測題】

25. (C) 一座城市中，居民熱烈討論即將重建的大教堂建築樣式，他們對常見的哥德式建築並不滿意。因為古代建築廢墟隨處可見，他們鼓勵競標的建築師從古代建築中尋找靈感。經過幾十年的努力，一座覆以圓頂的長方形教堂，終告竣工。這座城市是： (A)羅馬帝國時期的耶路撒冷 (B)11 世紀中期的聖彼得堡 (C)文藝復興時期的佛羅倫斯 (D)19 世紀初期的墨西哥市 【102 學測題】

26. (C) 一本書寫道：這個國家原本絕大多數人民為農民，因社會發展不均，農民起而造反，爆發大革命，推翻既有政府，重建國家。新政府之施政目標是強化國防力量，以對抗資本主義國家，因此強調鋼鐵工業，民生工業的發展相對落後。但因該國實施計畫經濟，受到經濟恐慌的影響也較小。這最可能是描寫： (A)1790 年代的法國 (B)1870 年代的日本 (C)1930 年代的俄國 (D)1970 年代的印度 【102 學測題】

27. (B) 基督教會自「某個事件」開始，經常以宗教審判和贖罪券兩種方式強化教會的領導地位。宗教審判用以處罰危害教會的異端；贖罪券則用於酬謝參與打擊異教徒者，可免除死後審判。上述所說的「某個事件」是： (A)諾曼人入侵 (B)十字軍運動 (C)黑死病盛行 (D)東羅馬滅亡 【102 學測題】

28. (A) 新航路暢通之後，國際人口移動逐漸增加，許多地區成了移民的目標。18 世紀以後，出現許多移民組成的新國家。這種想法應是受到何種思想影響？ (A)社會達爾文主義 (B)馬克思共產主義 (C)啟蒙運動思潮 (D)理性主義思潮 【102 學測題】

29. (B) 某地原為希臘人活動區域，後來才有其他民族移入，包括羅馬尼亞人、土耳其人、克羅埃西亞人、波士尼亞人、斯洛維尼亞人與馬其頓人。居民分別信奉基督教與伊斯蘭教；基督教信仰又以希臘正教為主。當地曾經建立聯邦制國家，卻爆發內戰，民族紛爭至今不斷。這個地區是： (A)伊比利半島 (B)巴爾幹半島 (C)克里米亞半島 (D)安那托利亞高原 【103 學測題】

30. (D) 附表是一場戰爭之中各國人口損失的統計：

國家	百分比 (%)	國家	百分比 (%)
波蘭	20	德國	6.6
南斯拉夫	12.5	法國	1.3
希臘	7	英國	0.8
蘇聯	9		

這場戰爭是： (A)三十年戰爭 (B)克里米亞戰爭

(C)第一次世界大戰 (D)第二次世界大戰 【103 學測題】

31. (C) 某一時期中，英國議員知道普魯士已經實施強迫入學的政策，而英國許多兒童仍然沒有受過任何教育。於是通過法案，設置教育部，並提出「初等教育法」，撥款興學，同時要求父母督促 5 到 12 歲的兒童上學。這是何時的情況？ (A)17 世紀後期 (B)18 世紀中期 (C)19 世紀後期 (D)20 世紀中期【103 學測題】
32. (D) 老師在課堂中介紹西歐某一時期時提到：當時君主積極發展工商業，力求增加稅收；並改革法律制度，興辦教育事業，以提高行政效率及國民素質。這堂課的主題應是： (A)中古時期的莊園經濟活動 (B)12 世紀的東西文化交流 (C)16 世紀西歐的重商主義 (D)18 世紀的開明專制理念【103 學測題】
33. (B) 某地位於歐洲通往中國的航路上，早在 1819 年，英國商船便在此建立交易據點，逐漸發展成繁榮港口。二次世界大戰期間，日軍曾攻占此地，控制三年多。1945 年，日本投降，該地重歸英國管轄，但當地人民爭取自主，先脫離英國統治，進而獨立建國。這個國家是： (A)泰國 (B)新加坡 (C)越南 (D)印度【103 學測題】
34. (B) 1792 年，英國派遣馬戛爾尼出使中國，使團於 9 月底乘船自英國出發，1793 年 8 月 5 日才抵達天津。1878 年，中國派遣曾紀澤為駐英國、法國欽差大臣，於 11 月 22 日自上海乘船赴任，1879 年 1 月 1 日便抵達法國馬賽港。這期間，哪一項重大變化縮短了航行的時間？ (A)美國發明航空器 (B)蘇伊士運河通航 (C)海圖製作更精良 (D)公海航行較安全【103 學測題】
35. (C) 某次戰爭之後，戰勝國要求：挑起戰事者要割地、賠款。有人呼籲：如果賠償金額遠超出發動戰爭者所能承擔，一定會造成經濟困境，引發民怨，無論任何一方都難逃捲入的命運，甚至引發下一場戰爭。不幸言中，不久之後，各國又捲入衝突之中。此人最可能是： (A)1815 年維也納會議中的奧地利首相梅特涅 (B)1871 年德法戰爭後德意志帝國首相俾斯麥 (C)1919 年巴黎和會召開時的英國代表凱因斯 (D)1945 年二次大戰結束後的美國總統杜魯門【103 學測題】
36. (A) 史家討論希臘時期政治領袖亞歷山大時，有不同的看法：甲：亞歷山大的成就非凡，奠定了日後羅馬帝國統治與基督教傳播的基礎。乙：亞歷山大野心勃勃，所到之處，攻城略地，屠殺守軍，將婦孺轉賣為奴。我們應當如何認識這兩種看法？ (A)甲乃討論其影響；乙則陳述其作為 (B)甲陳述相關史實；乙則評價其功過 (C)甲反映當時人看法；乙為後世評論 (D)甲乙均持正面態度，肯定亞歷山大【104 學測題】
37. (B) 16 世紀以後，英國對外貿易成長，促成毛紡織業快速發展，羊毛價格上漲，牧羊業獲利豐厚，10 英畝牧場的收益超過 20 英畝的耕地。地主為追求利益，紛紛收回農民土地，改作放牧之用，引發「圈地運動」，致使農民無地可耕。17 世紀後，圈地的範圍越來越大，農民生計大受影響，但英國並未發生食物短缺現象，經濟仍可持續發展，主要的原因為何？ (A)長期內戰使人口銳減，減少糧食消費 (B)從北美殖民地進口，以滿足糧食需求 (C)大批移民移往北美，英國不缺乏糧食 (D)大量人口死於瘟疫，故糧食需求減少【104 學測題】

38. (C) 有人指出，國家締造者曾經承諾所有國人：可享有生存、自由和追求幸福的權利，但黑人拿到的，卻是一張空頭支票。我們絕不相信正義會破產，絕不相信這個國家會「存款不足」。因此，我們要求國家兌現這項承諾。我期待國家會很快實現立國的信條，也相信「人生而平等」。這種說法的背景是： (A)1776 年，美洲地區人民追求獨立 (B)1918 年，美國總統提出民族自決 (C)1963 年，民權運動主張種族平等 (D)1990 年，南非黑人反對種族隔離【104 學測題】
39. (D) 某一個國家，到 1930 年代末期時，仍受到第一次世界大戰及經濟不景氣的影響，工業生產水準還未能恢復 1910 年時的標準。第二次世界大戰時，該國又受到嚴重破壞，不僅 2/3 的國土被占領，工業生產也連年下降，1944 年的工業生產總值只有 1938 年的 40%。這個國家是： (A)中國 (B)美國 (C)蘇聯 (D)法國【104 學測題】
40. (C) 閱讀以下兩段資料：資料一、當時，最普遍的工作就是家庭幫傭，幾十萬名婦女從事這種工作；也有許多婦女在紡織工廠做工，最糟糕的是許多婦女必須從事苦力活，按件計酬，沒有保障。資料二、我原本在人家中幫傭，每天從上午 6 點做到晚上 9 點，極為厭惡這種工作。後來一家軍火工廠招工，我前往應徵，負責製作彈藥引信，一天工作 12 個小時，薪水是原本薪水的兩倍半。這兩段資料最適當的主題是 (A)南北戰爭期間的黑人婦女勞工 (B)拿破崙法典實施後的婦女勞動 (C)一次世界大戰前後的婦女就業 (D)東歐地區社會主義與婦女問題【105 學測題】
41. (D) 立法者制定某一法典時，主張根據個人主義精神與自由平等觀念，強調尊重所有權與契約自由，對過失責任也詳加規範，甚至保障原本因為宗教因素而受迫害的猶太人。這部法典最可能是 (A)《漢摩拉比法典》 (B)《大憲章》 (C)《權利法案》 (D)《拿破崙法典》【105 學測題】
42. (C) 一幅畫作描繪某地羊毛市集的景象：各地來的商人熙來攘往，好不熱鬧，主教在廣場上為市民祝福，羊毛商人把貨品陳列攤位上，供人選購，還有幾個攤位專門提供兌換貨幣的服務。這種景象最早可能出現於 (A)1 世紀的雅典 (B)4 世紀的羅馬 (C)12 世紀米蘭 (D)16 世紀巴黎【105 學測題】
43. (D) 某殖民國家在殖民地推行「強迫種植制度」，農民被迫將良田種植咖啡、甘蔗、茶、菸草、胡椒等經濟作物，並規定：總耕地面積至少要有五分之一種植經濟作物。殖民政府將收穫全部運往歐洲銷售，賺取巨大財富。直到 20 世紀中期，這個殖民地經由武裝抗爭才取得獨立。請問這種「強迫種植制度」最可能是什麼時候，在哪個地區的殖民地推行？ (A)16 世紀北非 (B)17 世紀北美 (C)18 世紀中南美 (D)19 世紀東南亞【105 學測題】
44. (D) 一座教堂，原本建築在羅馬神廟的遺址上，8 世紀時，改建成清真寺；13 世紀時，又改為羅馬教會的主教座堂；16 世紀時，重新修建。這座教堂因經歷不同的歷史發展，被聯合國列為世界遺產。這座教堂最可能位在 (A)巴爾幹半島 (B)猶加敦半島 (C)阿拉伯半島 (D)伊比利半島【105 學測題】

45. (B) 1492 年，哥倫布率領 3 艘帆船從西班牙帕洛斯港(37°N, 6°W)出海，經加那利群島(28°N, 16°W)向西橫渡大西洋，於 10 月 12 日登陸美洲，陸續繞經附近地區，完成首航。一行人於 1493 年啟程返航，此後陸續有人前往美洲，帶回許多新物種，並傳播到各地，促成「物種大交換」。請問哥倫布於出發前，表示可以帶回下列什麼物品，才說服西班牙王室出資？
(A)美洲白銀 (B)印度香料 (C)玉米花生 (D)南亞蔗糖 【105 學測題】

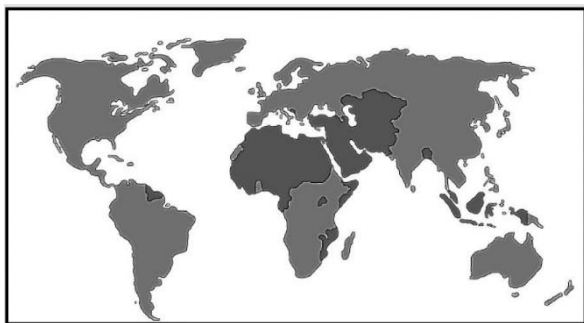
46. (D) 某場戰爭結束後，歐洲大部分國家因幣制崩潰，欠缺貨幣可供使用。在德國，香菸是公認的交易媒介，一位教師的月薪等於五包香菸。匈牙利通貨膨脹嚴重，貨幣面值高達一億(如附圖)，難於進行正常交易。此外，大部分的歐洲國家稅收付之闕如，無錢購買糧食，餓飽居民；也無法購買原料與機器，經濟復甦相當緩慢。這種情況最可能發生於



- (A)1815 年，拿破崙戰爭後 (B)1872 年，德法戰爭之後
(C)1919 年，第一次大戰後 (D)1946 年，第二次大戰後 【105 學測題】
47. (A) 某一國家，宗教色彩相當濃厚，居民除 80% 左右信奉該國的主流宗教外，其餘 20% 則各有不同的信仰，宗教類別與內涵相當豐富多樣。居民使用的語言也很複雜，該國憲法除規定 2 種全國通用的語言外，還認可 15 種以上的官方語言。全國有 60% 左右的人口務農，將近半數的人口生活於聯合國訂定的貧窮線之下。2014 年該國人類發展程度指標 (HDI) 只有 0.609，世界排名第 130。請問該國具有下列哪二項特質？甲、世界古文明的發源地之一；乙、猶太教和伊斯蘭教的發源地；丙、1858~1947 年間曾受英國殖民統治；丁、葡萄牙引進黑奴在該國發展熱帶栽培業；戊、生產的白銀曾於明朝中葉以後大量流入中國 (A)甲丙 (B)甲戊 (C)乙丁 (D)丙戊 【105 學測題】
48. (B) 1154 年，埃及法提馬王朝統治者在一封致比薩大主教的信中說：只要你們承諾不與法蘭克人合作，我方可同意你們的商人運送貨品來我方貿易。除了亞歷山卓城外，你們也可以在開羅建立據點，但需繳交關稅；木材、鐵、樹脂這三項貨品，我方保證以市價購買。埃及法提馬王朝統治者寫這封信的目的最可能是： (A)埃及希望與比薩形成商業同盟 (B)防止比薩大主教與十字軍合作 (C)保護埃及木材、鐵、樹脂產業 (D)歡迎比薩商人可以在埃及定居 【106 學測題】

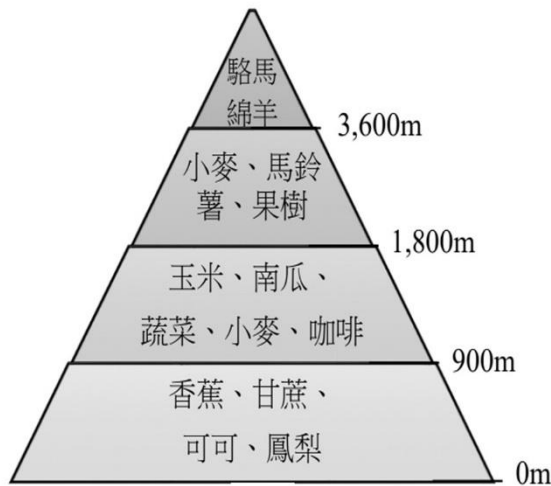
49. (D) 1776 年，北美洲殖民地人民要求獨立，在某城市發表宣言，指出：「我們不是沒有顧念我們的英國弟兄。我們一再警告，但他們的立法機關仍企圖把無理的管轄權加到我們頭上。」宣言中所指的「無理的管轄權」最可能是指： (A)殖民地不得發行報紙 (B)殖民地禁止蓄養黑奴 (C)禁止設立銀行與郵局 (D)未經同意便強行徵稅 【106 學測題】
50. (C) 某一時期，許多學者寫了不同的手冊，教導年輕人舉止要合宜，吃飯有禮貌，學習文學、音樂、藝術，才能成為有趣的社交分子。這些手冊一經出版，便銷售一空，說明當時社會重視禮儀規範。這個時期最早出現於何時？ (A)古典希臘時期 (B)羅馬共和時期 (C)文藝復興時期 (D)啟蒙運動時期 【106 學測題】

51. (B) 附圖為 2016 年某國際組織會員國分布圖，圖中深色區域為會員國的位置。請問：這個國際組織所涵蓋的區域中，在歷史上曾經出現哪個帝國？



- (A)神聖羅馬帝國 (B)鄂圖曼帝國 (C)蒙兀兒帝國 (D)奧匈帝國 【106 學測題】
52. (D) 某人覺得自己犯了罪過，便依照教會要求，前往指定教堂悔罪，還要申請贖罪。一位修士則給予憑證，赦免教會對他的處罰。這位修士最可能屬於： (A)德意志路德教會 (B)尼德蘭改革教會 (C)英格蘭國教會 (D)羅馬天主教會 【106 學測題】
53. (A) 一份文書指出：「政府曾發布命令，教導大家崇敬諸神，卻使基督教徒陷於危險和苦難之中，甚至有人喪失性命，許多人至今不能公開參加他們的宗教活動。我們應本著寬大宗旨，開恩處理這件事。今後，他們可以自由表達想法，不受干擾地自由集會，但得尊敬法律和政府。」這份文書是： (A)君士坦丁發布的米蘭詔令 (B)英國約翰王公布的大憲章 (C)拿破崙頒行的拿破崙法典 (D)聯合國公布的世界人權宣言 【106 學測題】
54. (B) 某人評論：今日之俄如同七國時期之秦，而英則像是齊，土則是魏也。「秦人不得志於魏，則不能掎（牽制）六國，俄人不得志於土，不能掎歐洲。」「英人陽（表面）護土而陰蔽歐洲。俄之不得志於歐洲，英為之也。」這位人士評論何時的情勢？ (A)拿破崙戰爭 (B)克里米亞戰爭 (C)第一次世界大戰 (D)第二次世界大戰 【106 學測題】
55. (D) 17 世紀時，某國曾響應共同抵禦伊斯蘭教入侵的號召，出兵加入歐洲聯軍，國勢頗強。其後，強大貴族勢力開始侵凌王權，內部爭鬥不斷，國勢逐漸衰落，引起鄰國覬覦，終遭列強瓜分，消失於歐洲政治版圖，第一次世界大戰後雖得復國，第二次世界大戰期間又遭占領，戰後才得再度建國。這個國家是： (A)義大利 (B)奧地利 (C)希臘 (D)波蘭 【107 學測題】

56. (C) 附圖顯示某國農業土地利用隨著高度增加而變化。請問：圖中，中低海拔地區大規模專業化栽培香蕉、甘蔗、可可、鳳梨等作物的情況，最可能始於何時？



- (A) 15~16 世紀物種大交換時期 (B) 18 世紀中葉工業革命開始時 (C) 19~20 世紀帝國主義發展時 (D) 20 世紀晚期簽訂世貿組織時 【106 學測題】

57. (B) 某國的礦業一直是其經濟發展的主要動力，其政局長期紛擾不斷；1990 年，該國一位政治人物在演說中呼籲：「我國的未來只能是一個在不分膚色的基礎上，通過民主選舉而產生的機構來決定，也就是建立一個民主、不分膚色和統一的國家，白人壟斷政權的狀況必須結束。」該政治人物的理想逐漸成為事實，但國內經濟發展同時出現遲緩現象，直到 21 世紀初才逐漸復甦。請問該政治人物最可能是： (A) 歐巴馬 (Barack Obama) (B) 曼德拉 (Nelson Rolihlahla Mandela) (C) 甘地 (Mohandas Karamchand Gandhi) (D) 馬丁·路德·金恩 (Martin Luther King) 【107 學測題】

58. (B) 附圖畫作的主題經常出現於某一時期的西歐與南歐，這類畫作的內容除貴族人物外，也常包括：地球儀、天體儀、四分儀、兩腳規、星盤等。請問根據畫作的內容，下列哪項推論最為合理？



- (A) 這是 13 世紀的情況，說明時人熱衷航行前往耶路撒冷朝聖 (B) 這是 16 世紀的情況，說明航海已成為貴族交際的重要話題 (C) 這是 18 世紀的情況，說明巴黎沙龍聚會以天文星象為主題 (D) 這是 19 世紀的情況，說明工業革命後資本主義發展的盛況 【107 學測題】

59. (C) 課堂上，老師向學生介紹一本西方小說，內容寫道：主角一覺醒來，發現自己處在陌生環境中，資本家、企業家全部消失，土地、工廠、工具全屬公有；每個人可依照自己的興趣工作，工時不長，工作愉快，社會上每一項商品生產的數量恰能滿足所有人之需。請問這本小說最可能描述的是： (A)12世紀西歐的莊園生活 (B)17世紀的自由主義理念 (C)19世紀的社會主義理想 (D)20世紀的帝國主義藍圖 【107學測題】

60. (D) 近幾年，許多非洲難民湧入歐洲，國際移民組織(OIM)統計，2016年湧入歐洲難民有364,000人，其中約有半數從北非地區橫渡地中海偷渡入境，又以來自奈及利亞(占21.0%)、厄利垂亞(占11.7%)、幾內亞(占7.2%)和象牙海岸(占6.7%)四國者為數最多。大量難民湧入歐洲後，常面臨找不到工作、長期失業以及居住環境條件不佳的生活困境。面對此現象，歐洲某國政府官員對外發表言論，主張該國應停止收容非洲難民，否則將影響歐洲生活水準與歐洲文化。該言論一出，引發眾多輿論強烈的批評。請問難民由地中海偷渡湧進歐洲的起點，歷史上曾為哪些帝國的領地？甲、羅馬帝國；乙、查理曼帝國；丙、阿拉伯帝國；丁、鄂圖曼帝國；戊、神聖羅馬帝國 (A)甲乙戊 (B)丙丁戊 (C)乙丙戊 (D)甲丙丁 【107學測題】

61. (B) 古波斯人及羅馬人對統治者表示敬意時，往往親吻其腳部或足印，稱為吻足禮。後來有人自認是使徒彼得的繼承人，也享有吻足禮特權，凡是授予大主教職位、為皇帝加冕、接待諸侯時，都應行吻足禮。他也可以廢止任何命令，乃至罷免皇帝，解除臣民對暴君的義務。這人最可能是： (A)8、9世紀時人稱大帝的法蘭克王查理 (B)11世紀改革教會的教宗格列哥里七世 (C)16世紀中主張改革教會的馬丁·路德 (D)17世紀主張「朕即國家」的路易十四 【107學測題】

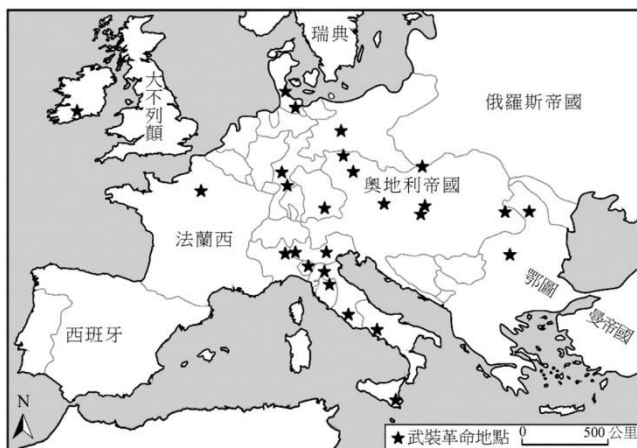
62. (D) 17世紀時，某國曾響應共同抵禦伊斯蘭教入侵的號召，出兵加入歐洲聯軍，國勢頗強。其後，強大貴族勢力開始侵凌王權，內部爭鬥不斷，國勢逐漸衰落，引起鄰國覬覦，終遭列強瓜分，消失於歐洲政治版圖，第一次世界大戰後雖得復國，第二次世界大戰期間又遭占領，戰後才得再度建國。這個國家是： (A)義大利 (B)奧地利 (C)希臘 (D)波蘭 【107學測題】

63. (C) 附表為某次戰爭中，德意志地區共同組成聯軍的兵力配置表。此次作戰，德意志聯軍利用火車運輸，快速造成對手國極大損失，該國被迫簽訂條約，割地賠款，結束戰局。其政府威信大失，帝制遭到廢除，改行共和。這場戰爭最可能是：

	步兵	騎兵	大砲
北德同盟	385,600	48,000	1,284
巴伐利亞王國	50,000	5,500	192
威登堡	15,000	1,500	54
巴登	11,700	1,800	54

(A)1806年反法同盟戰爭 (B)1866年的普奧戰爭 (C)1870年的德法戰爭 (D)1914年一次世界大戰 【107學測題】


64. (C) 某一時期，英國國王下令關閉修道院，沒收教會財產，將其土地出售給富人，不僅獲得巨大利益，也調整政教關係。請問依據題文資訊，上述事件最可能發生於何時？ (A)13 世紀約翰王簽署大憲章，重新確認國王與貴族的關係 (B)15 世紀百年戰爭後，英王放棄在法國權力轉而注重內政 (C)16 世紀宗教改革時，英王欲排除羅馬公教在英國的勢力 (D)17 世紀時英王迫害清教徒，許多清教徒流亡北美洲地區 【108 學測題】
65. (C) 巴剎 (Bāzār) 原為波斯文中的市場之意，多指有頂棚遮蓋的商業街道，在其中販售各種商品。現在，馬來西亞、印尼等東南亞地區及中國西北地區如新疆，也將市場稱為「巴剎」。學者研究，這是某種語言借用「巴剎」的名稱後，向各地推廣所致。這種語言應是： (A) 英語 (B) 印度語 (C) 阿拉伯語 (D) 西班牙語 【108 學測題】
66. (A) 美國於 1954 年 9 月聯合英國、澳洲、法國、紐西蘭、巴基斯坦、泰國和菲律賓組成「東南亞公約組織」，其組織的目標與內容都與北大西洋公約組織類似，總部設於曼谷。美國原本希望我國也加入，但因各種原因而未果。美國補救的方式是： (A) 另與我簽訂共同防禦條約 (B) 支持我成為聯合國會員國 (C) 要求各國遵守聯合國憲章 (D) 支持我國加入東南亞國協 【108 學測題】
67. (D) 某人到非洲某地旅行時寫道：「從機場到市區的公路寬闊又平整，公路兩邊麥田、葡萄園、橄欖園到處可見。進入市區後，歐式建築相當普遍，中心區的主幹道兩邊有好多露天咖啡館，我挑個位子坐下，一邊品著中東式的濃咖啡，一邊看有軌電車從眼前叮叮噹噹地駛過，感覺簡直和歐洲毫無分別。不過，這裡的咖啡館幾乎全是男性工作人員與顧客，看不到女性。」請問該地區農業和市區景觀具有濃厚歐洲色彩，主要和哪些國家的殖民經驗有關？ (A) 英國、荷蘭、義大利 (B) 荷蘭、德國、西班牙 (C) 英國、法國、比利時 (D) 法國、西班牙、義大利 【108 學測題】
68. (D) 附圖是 1848 年至 1849 年歐洲一系列武裝革命運動的分布情形，這波革命運動雖然都以失敗告終，但對歐洲的影響卻極為深遠。請問下列歷史事件中何者深受該系列武裝革命運動的影響？




- (A) 宗教改革的風潮向北歐轉移 (B) 工業革命漸向歐陸各國擴散 (C) 殖民擴張成為各國首要目標 (D) 德國、義大利完成國家統一 【108 學測題】
69. (A) 15 世紀中葉，葡萄牙人在大西洋東部海域馬德拉群島開始種植甘蔗；16 世紀中葉，葡萄牙殖民巴西以後，又在當地發展蔗糖產業。由於蔗糖屬於勞力密集產業，於是引進大量外來勞工。請問這些外來勞工主要為下列何者？ (A) 非洲黑人 (B) 華工 (C) 歐洲罪犯 (D) 北美印地安人 【109 學測題】

70. (D) 歐洲某一時期，城市裡有些地位高貴的夫人，經常在自己的宅第邀請智識菁英、上流社會人士聚會，進行思想交流與評論，參與者多自視為文人雅士。這些高貴夫人有權挑選客人、制定規則和聚會討論主題，凸顯當時女性在這種知性聚會的核心角色。後人以為，經常舉行的這類聚會，不僅成為該時期的特殊文化現象，且對後來的歷史發展影響深遠。請問上述現象最常出現於何時何地？ (A)西元前 4 世紀的雅典 (B)14 世紀的佛羅倫斯 (C)16 世紀的羅馬 (D)18 世紀的巴黎 【109 學測題】

71. (C) 附圖是某文化圈具代表性的裝飾花紋。該文明因不允許偶像崇拜，是以在藝術表現上不見神像或聖像，而是以花草、文字，以及幾何圖形的重覆運用構成畫面。此種藝術手法常見於其宗教建築或宮殿的牆面。文中所指的最可能是下列哪個宗教的文化圈？(A)印度教 (B)希臘正教 (C)伊斯蘭教 (D)羅馬公教 【109 學測題】



72. (B) 1935 年，美國《時代雜誌》以一位蘇聯礦工為封面（附圖）。根據報導，這位礦工發明新的採煤方式，創下高出政府訂定生產目標十幾倍的紀錄。蘇聯政府特別表揚他，以激勵國人，並凸顯蘇聯經濟體制的優越。《時代雜誌》報導這則新聞的背景最可能是：(A)為共同打擊法西斯主義，美國希望與蘇聯合作 (B)美國國內的經濟不景氣，關切蘇聯的經濟發展 (C)美國認為蘇聯重工業發達，欲拉攏蘇聯以制德 (D)時代雜誌立場左傾，成為蘇聯在美國的代言人 【109 學測題】



73. (D) 唐宋以後，南海貿易不再只是奇珍異寶的輸入，更有中國的茶葉、瓷器等商品輸出。這個變動除了反映中國生產與經濟的發展之外，也與南海形勢的「重大變化」有關。導致這個「重大變化」的原因最可能是： (A)南洋諸國開始盛行佛教 (B)印度人大量移民東南亞 (C)南洋諸國航海技術進步 (D)阿拉伯勢力進入東南亞 【109 學測題】

74. (C) 學者研究，西非某地普遍流行的蠟染花布與印尼傳統的蠟染花布圖案相似，應當源自印尼。這種情況發生的原因最可能是： (A)該地的居民為印尼移民後裔，傳承原有文化 (B)16 世紀起，英人便掠捕印尼居民販至該地 (C)荷蘭曾在該地設有貿易據點，輸入印尼土布 (D)19 世紀時，英商將花布輸往兩地造成流行 【109 學測題】

75. (B) 甲國企圖以經濟戰手段迫使乙國屈服，並保護自己的經濟發展，乃宣布禁止一切來自乙國的貨物登陸歐洲大陸；還在其統治區內，追查乙國商人並沒收乙國貨物，造成乙國經濟危機，引發社會動盪。但乙國尚有許多海外貿易，仍可支撐其經濟。這種情形最可能是：(A)1651 年，英國公布航海法，封鎖荷蘭貿易活動 (B)1806 年，拿破崙為壓迫英國，發動對英國封鎖 (C)1917 年，德國發動無限制潛艇作戰，封鎖英國 (D)1941 年，美國對德國宣戰之後，封鎖德國貿易 【110 學測題】

76. (C) 地圖幫助人們以空間的方式來理解世界中的事物、概念、情況、過程或事件。附圖為一幅繪製於某時期的世界地圖，蘊含著當時人對世界的觀察與理解。圖面正中間的區域，一直是東西文化交流頻繁之地，在現代也具有重要的戰略地位。2018 年甲處水域的鄰近各國召開會議並簽署公約，以確保各國的政治、經濟利益。



請問根據附圖中出現的陸塊及其形狀、大小、方位等，推論這幅世界地圖最可能繪製於何時？ (A)8 世紀，阿拉伯帝國從北非進入伊比利半島後 (B)11 世紀，羅馬天主教廷發動十字軍運動之時 (C)16 世紀，哥倫布最後一次探訪美洲新大陸後 (D)19 世紀，歐洲的列強協議瓜分非洲大陸之時 【109 學測題】

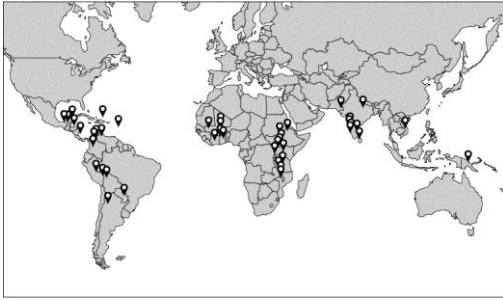
77. (B) 有人回憶：當時，食物都要配給，沒有咖啡，但有糖和紅茶。每次參加茶會，都要自備糖和茶葉。原本商店中還有牛油和乳酪，大多來自紐西蘭或加拿大，現在也少了。經常一個月也吃不上一斤肉，天天吃鱈魚。有一段時間，政府領導人還提倡自己種植糧食作物，解決糧食短缺問題。這最可能是何時何地的景象？ (A)一次世界大戰時的德國 (B)二次世界大戰時的英國 (C)文化大革命時期的中國 (D)首次石油危機時的伊朗 【110 學測題】

78. (A) 某國的動力織布機技術在十九世紀初獨步全球，該國嚴格控管此關鍵技術，避免秘密外洩。一名外國技師刻意潛入該國工廠學習，花費六個月將所有技術細節記在腦中，回國後憑記憶建立相同的動力織布工廠，推動自己國家的工業技術革新。此情況最可能是： (A)他從英國偷學技術，帶回美國 (B)他從英國偷學技術，帶回日本 (C)他從美國偷學技術，帶回印度 (D)他從美國偷學技術，帶回俄國 【111 學測題】

79. (B) 據統計，二次世界大戰期間德國平民死亡約 117 萬人，占該國 1939 年總人口 1.6%；蘇聯平民死亡約 1400 萬人，占該國 1939 年總人口 7.3%。蘇聯平民死亡人數與比率均遠多於德國的原因為何？ (A)納粹黨在東歐多處設立大型滅絕營，用毒氣殺害當地人 (B)蘇聯是主要戰場，戰火摧殘人命外，還有缺糧飢荒問題 (C)德、義、日軸心國武器優越，超過蘇聯、英、美同盟國 (D)為對付全球反共產勢力，大量的蘇聯士兵駐防東歐國家 【111 學測題】

80. (C) 二十世紀初期，某人嚴厲抨擊貨幣的使用：「誰還需要該死的貨幣？生活意味著食物、衣服、房子與休息，沒有貨幣這種金屬與碎紙片，我們依然可以快樂生活。貨幣將會失去意義，政府應以實物取代貨幣，作為工作所得」。此人的論述反映下列哪個主義的觀點？ (A)重商主義 (B)自由主義 (C)共產主義 (D)法西斯主義 【111 學測題】

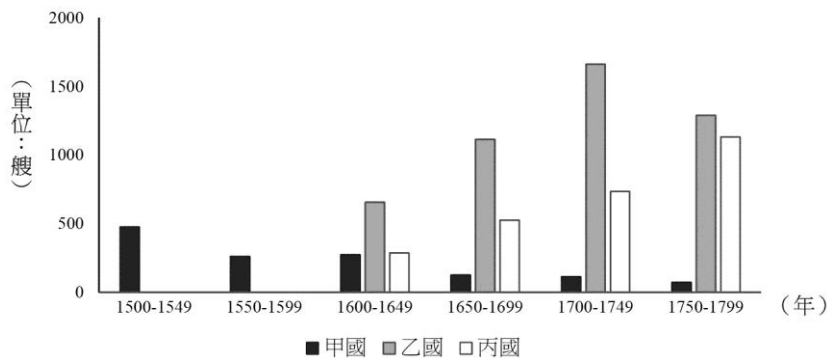
81. (C) 公平貿易指的是在農產品的產銷過程中，確保生產者獲得公平的報酬、勞動者獲得應有的保障、環境可以得到保護的一種制度。附圖為參與公平貿易生產商的分布，這些生產商分布區，具有哪些共同的時空背景？



- (A)多位於熱帶沙漠區，八至九世紀時曾為阿拉伯帝國的勢力範圍 (B)多位於熱帶季風區，十至十三世紀曾為東亞人群外流的移入地 (C)多位於熱帶氣候區，二十世紀中期以前曾先後遭歐洲列強殖民 (D)多位於信風帶，二十世紀後期冷戰期間曾為美蘇競爭的緩衝區

【111 學測題】

82. (A) 附圖為 1500 年至 1799 年間，從歐洲出發，前往亞洲海域貿易前三名國家的船隻數量變化圖。根據該圖，甲、乙、丙依序是哪些國家？



- (A)葡萄牙、荷蘭、英國 (B)西班牙、英國、荷蘭 (C)荷蘭、英國、西班牙 (D)英國、葡萄牙、荷蘭 【111 學測題】

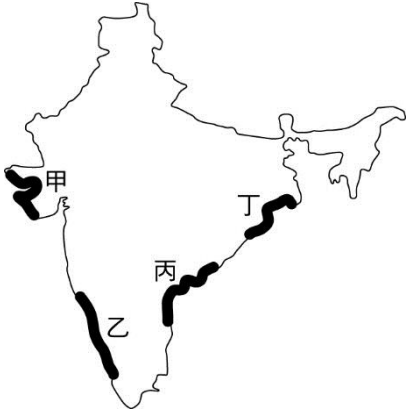
83. (B) 某校歷史課進行「歐洲與非、美兩洲的交流」探究學習時，以一幅歐洲十七世紀流傳的蔗糖生產過程圖，說明當時蔗糖逐漸取代蜂蜜，成為歐洲人最重要的甜味來源。圖中糖廠最可能在何地區？



- (A)北非的阿爾及利亞 (B)中美洲西印度群島 (C)北美洲的紐芬蘭島 (D)中部非洲剛果盆地 【111 學測題】

二、題組題：

1. 印度境內德干高原種植咖啡，據說起源是十七世紀一位宗教修行者根據教義規範，前往聖地履行一生至少朝覲聖地一次的義務時，從葉門摩卡帶回了種子。歐洲人在印度殖民時，將印度生產的咖啡豆以海運載回殖民母國。咖啡豆在長時間的航程中受濕潤海風吹拂，形成獨特風味，頗受消費者喜愛。十九世紀後，隨著海運技術改進和新航道開通，航程大幅縮短，這些獨特風味不再，於是咖啡業者便在鄰近產地的馬拉巴海岸關設風漬場，先讓溫暖潮濕季風吹拂咖啡豆數個月，增添其獨特風味，稱為「季風馬拉巴」咖啡。請問：




- (B) (1) 文中這位朝聖者信仰的宗教最可能是： (A)印度教 (B)伊斯蘭教 (C)猶太教 (D)希臘正教
- (D) (2) 文中提到的新航道，最可能是指下列何者？ (A)英吉利海峽 (B)麻六甲海峽 (C)巴拿馬運河 (D)蘇伊士運河
- (B) (3) 馬拉巴海岸最可能位在圖中何處？ (A)甲 (B)乙 (C)丙 (D)丁 【110 學測題】
2. 歐洲某一時期，城市裡有些地位高貴的夫人，經常在自己的宅第邀請智識菁英、上流社會人士聚會，進行思想交流與評論，參與者多自視為文人雅士。這些高貴夫人有權挑選客人、制定規則和聚會討論主題，凸顯當時女性在這種知性聚會的核心角色。後人以為，經常舉行的這類聚會，不僅成為該時期的特殊文化現象，且對後來的歷史發展影響深遠。請問：
- (D) (1) 上述現象最常出現於何時何地？ (A)西元前 4 世紀的雅典 (B)14 世紀的佛羅倫斯 (C)16 世紀的羅馬 (D)18 世紀的巴黎
- (D) (2) 對當時該現象展現之文化形式與特性的描述，下列敘述何者最為適當？ (A)從普遍流行情況來看，可推論其屬性為大眾文化 (B)女性藉此獲得發言權，屬多元文化權政策之發展 (C)智識菁英的普遍參與，反映出具有官方文化特色 (D)參與者形成特定認同，顯示文化具身分區別作用 【109 學測題】
3. 十六世紀時，某國管轄今墨西哥、除巴拿馬外的中美洲各地、美國西南部地區等，設置總督府，下轄瓜地馬拉都督、古巴都督及菲律賓都督，臺灣部分地區也曾為其控制。當時該國的瓜地馬拉都督（轄區包括今日的瓜地馬拉、薩爾瓦多、宏都拉斯、尼加拉瓜、哥斯大黎加、墨西哥東部）特別重視在當地取得某項物產資源，因而常與原住民對峙。但該區內的原住民認為傳教士能夠融入當地文化，因此對傳教士相對友善。請問：
- (D) (1) 這個總督府屬於何國？ (A)英國 (B)荷蘭 (C)葡萄牙 (D)西班牙
- (A) (2) 當時傳教士在上述都督區傳教時，記錄許多當地特殊的地理現象。這些現象最可能包括下列何者？甲、颶風（颱風）；乙、地震；丙、龍捲風；丁、沙塵暴 (A)甲乙 (B)甲丁 (C)乙丙 (D)丙丁 【110 學測題】

4. 愛爾蘭土地肥沃，盛產大麥、小麥等穀類。十三世紀以後，愛爾蘭即受英國統治，長期成為穀物供應者。十七世紀以後，愛爾蘭人民以馬鈴薯為主食。1845 至 1852 年間，愛爾蘭馬鈴薯歉收，發生嚴重饑荒，約有 20% 以上的人口死亡或移民。研究指出，晚疫病應是造成馬鈴薯歉收的主因，其主要傳播途徑來自空氣或人畜攜帶，尤其在持續低溫、高濕的環境最容易傳播，而多雨加上強風更助長其快速蔓延，極短時間即可造成馬鈴薯廢耕。學者分析，在饑荒時期，愛爾蘭歉收的作物只有馬鈴薯，然輸出至英國的穀物，據推算足以養活當時愛爾蘭的兩倍人口，因而認為饑荒實為人禍。饑荒之後，愛爾蘭展開大規模佃農運動，組織聯盟，爭取權益，提出幾項訴求，包括：土地買賣自由、保障佃租契約與合理地租。請問：

- (A) (1) 若以投入、過程、產出、回饋為馬鈴薯農業系統的四個環節，根據上文，最可能是在哪個環節內的自然要素發生變化，使得晚疫病快速傳播蔓延，造成馬鈴薯廢耕，而使整個系統運作出現崩壞現象？ (A)投入 (B)過程 (C)產出 (D)回饋
- (A) (2) 依上文推論，除馬鈴薯歉收外，最可能造成愛爾蘭饑荒的主要原因是： (A)愛爾蘭地主抽取高地租，造成愛爾蘭人民窮困，無力購買高價穀物 (B)愛爾蘭人自古以來就以馬鈴薯為主食，不慣食用新引進的穀類作物 (C)愛爾蘭篤信宗教，視馬鈴薯發生疫病為天譴，情願受罰而不食穀物 (D)英國政府因愛爾蘭人民叛服無常，閣員主張嚴懲，故禁止輸入穀物 【110 學測題】

5. 附圖是幅流傳於歐洲某時期的諷刺畫。此圖（由左至右）將方濟會修士穆納、神學家埃姆澤、教宗利奧十世、神學家艾克，以及神學家萊普，分別繪製成貓、公羊、反基督的獅子、豬，以及狗。請問：



- (B) (1) 依據你的歷史知識，此諷刺畫最可能出現於何時何地？ (A)15 世紀的義大利 (B)16 世紀的日耳曼 (C)17 世紀的西班牙 (D)18 世紀的法蘭西
- (B) (2) 此種諷刺文宣品的刊布與流傳，與當時哪種歷史發展的關係最為密切？ (A)方言文學流行 (B)印刷術的盛行 (C)大航海時代的來臨 (D)資本主義制度興起【109 學測題】

6. 15 世紀中葉，葡萄牙人在大西洋東部海域馬德拉群島開始種植甘蔗；16 世紀中葉，葡萄牙殖民巴西以後，又在當地發展蔗糖產業。由於蔗糖屬於勞力密集產業，於是引進大量外來勞工。請問：

- (A) (1) 這些外來勞工主要為下列何者？ (A)非洲黑人 (B)華工 (C)歐洲罪犯 (D)北美印第安人
- (B) (2) 題文中的葡萄牙人選擇發展蔗糖產業之區位考量，最可能為下列何者？ (A)產地鄰近美國，加上蔗糖不耐久放，故蔗糖需快速運到市場 (B)母國地處溫帶，國內並不適合種蔗，故尋找熱帶殖民地種蔗 (C)產地水力充沛，地勢高低落差明顯，故可提供製糖電力資源 (D)母國人力不足，多投入馬鈴薯生產，故需要到海外招工種蔗 【109 學測題】

7. 一位出生於阿富汗的思想家，據聞是穆罕默德的後裔，在十九世紀後期見到當時伊斯蘭世界受到西方列強勢力入侵，伊斯蘭族群四分五裂，且當時最大的伊斯蘭帝國——鄂圖曼帝國也無法善盡保護伊斯蘭世界之責。為了讓伊斯蘭世界團結共同抵禦列強，他走訪中東、北非、歐洲各地，倡議「泛伊斯蘭主義」，嘗試建立跨宗派、地域、民族的單一伊斯蘭國度。「泛伊斯蘭主義」不是與西方對抗的軍事行動策略，也非教條儀式與民族主義，而是強調以伊斯蘭的基本信仰為普遍生活倫理規範，以此團結伊斯蘭世界並促進其政治現代化。請問：

- (B) (1) 當時鄂圖曼帝國面臨的危機為何？ (A)帝國多次進攻基督教大城維也納未果，伊斯蘭勢力擴張失敗 (B)新帝國主義者覬覦近東地理區位與資源，使得國土深受威脅 (C)世界大戰爆發，帝國加入德、奧匈帝國陣營，戰後國勢衰弱 (D)軍人凱末爾推動西化政策，引起保守者反抗，國內政局不安
- (C) (2) 依據題文資訊，下列有關該思想家主張的敘述，何者最能凸顯「泛伊斯蘭主義」的社會規範功能？ (A)對抗西方諸列強入侵的武力團結主義 (B)避免伊斯蘭世界分裂的國家民族主義 (C)重建伊斯蘭文化共同價值與集體信念 (D)教育穆斯林信徒遵守伊斯蘭宗教儀式
- (D) (3)該思想家的出生地被納入伊斯蘭世界的一部分，最可能是透過下列哪種文化擴散過程？ (A)從尼羅河流域向西越過撒哈拉沙漠擴散而來 (B)從尼羅河流域向北越過地中海海域擴散而來 (C)從阿拉伯半島向東南經過南洋群島擴散而來 (D)從阿拉伯半島向東北經過伊朗高原擴散而來 【111 學測題】

8. 地圖幫助人們以空間的方式來理解世界中的事物、概念、情況、過程或事件。附圖為一幅繪製於某時期的世界地圖，蘊含著當時人對世界的觀察與理解。圖面正中間的區域，一直是東西文化交流頻繁之地，在現代也具有重要的戰略地位。2018 年甲處水域的鄰近各國召開會議並簽署公約，以確保各國的政治、經濟利益。請問：



- (C) (1) 根據圖 13 中出現的陸塊及其形狀、大小、方位等，推論這幅世界地圖最可能繪製於何時？ (A)8 世紀，阿拉伯帝國從北非進入伊比利半島後 (B)11 世紀，羅馬天主教廷發動十字軍運動之時 (C)16 世紀，哥倫布最後一次探訪美洲新大陸後 (D)19 世紀，歐洲的列強協議瓜分非洲大陸之時
- (D) (2) 題文提及的甲處戰略地位，最可能指的是下列何者？ (A)歐盟政治軍事勢力向東擴張的跳板 (B)控制俄羅斯出入地中海的航道扼塞 (C)北美西岸與亞洲大圓航線必經之處 (D)當地蘊藏豐富的石油與天然氣資源 【109 學測題】

9. 古代某國位於印度與羅馬的商道之間，鑄造貨幣，繁榮商業，經濟發達。該國也是農業國家，生產大麥、小麥，也飼養牛、羊及駱駝。除象牙、犀角與食鹽外，甚至輸出大批奴隸。西元四世紀時，該國與羅馬君士坦丁皇帝結盟，共同對抗波斯帝國，並加強貿易。請問：

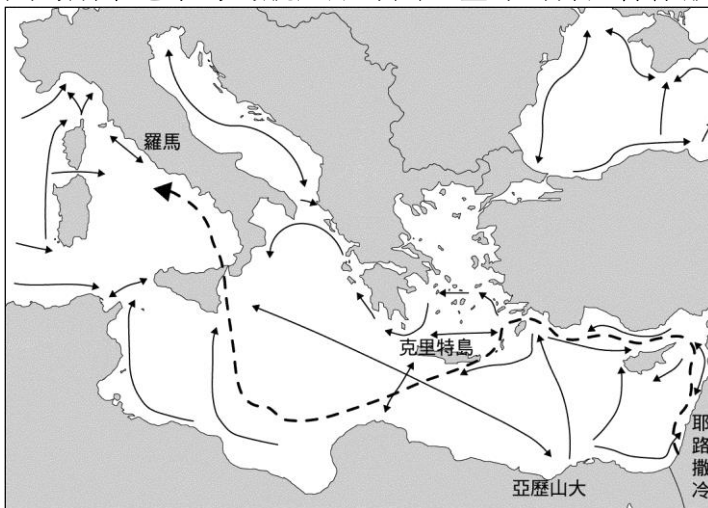
(A) (1) 該國的管轄範圍，最可能位於下列哪個地帶的部分地區？ (A)撒赫爾 (B)高加索 (C)馬其頓 (D)賽普勒斯

(C) (2) 羅馬人最可能需要何種來自印度的商品？ (A)咖啡 (B)瓷器 (C)香料 (D)茶葉

【110 學測題】

三、混合題

1. 猶太教與基督教的信仰屬性，及其對「神的選民」的看法略有異同，以致二者常有紛爭。西元一世紀，猶太宗教領袖在耶路撒冷以基督教傳道者保羅褻瀆猶太教，且無法證明自己清白為由，控告保羅並要求對其處刑。當時羅馬法律規定：非經審判，羅馬公民不得被捆綁、監禁或鞭打。保羅因具有羅馬公民身分，故要求交羅馬當局處理，於是當地總督在夏季末期，將保羅押送至羅馬審判。附圖為羅馬帝國時期東地中海的航運路線圖，虛線為押送保羅航線，實線為地中海貿易線。請問：【111 學測題】



(C) (1) 文中所敘述之事件，乃發生於羅馬人統治的時代。時至今日，若以法治國家理念檢視此案，可看出題文中羅馬法律保障羅馬公民的規定，與下列何種近代法律重要原則的精神最為接近？

(A)自由心證原則 (B)公開審理原則 (C)無罪推定原則 (D)偵查不公開原則

(C) (2) 保羅從耶路撒冷被押解去羅馬的航程中，前期與一般貿易航線類似，沿著陸地前行，利用地形來減輕航行的障礙。若從行星風系的大氣環流角度，押解保羅的航程沿陸地前行，最可能是為了避開哪一行星風帶或氣壓帶的影響？ (A)東北信風帶 (B)極圈氣旋帶 (C)盛行西風帶 (D)副熱帶高壓帶

(3) 請問猶太教與基督教的信仰屬性分別是「一神信仰」或「多神信仰」？以及此二宗教對「神的選民」之看法分別為何？請在答題卷表格中作答。(非選擇題)

	猶太教	基督教
信仰屬性	①	②
神的選民	③	信仰神，並得到恩寵者即是神的選民

近年指考手寫題

1. 以下是兩則有關法國大革命之初，從「三級會議」演變到「國民會議」的資料。

資料一、一位史家評論「三級會議」的選舉：「整體而論，第三階級為擺脫貴族對選舉的操控而團結起來。另一方面，教士階級因基層教士的離心而陷入分裂。貴族階級也不見得比較安寧，地方貴族拒絕投票給任何廷臣或軍官。」

資料二、「6月17日，第三階級自我宣告為『國民會議』，並邀第一階級與第二階級加入。兩天後，半數教士代表進入議場。6月25日，更增加至170名教士與50名貴族加入，其餘教士與貴族仍堅持分別開會。6月27日，國王迫於形勢，只好改變態度，下令特權階級加入國民會議。6月30日，保守派貴族與教士才遵從指示，不情願地進入會議廳。第三階級打贏了第一仗。」【105指考題】

綜合以上兩則資料，請問：

(1) 「第一階級」、「第二階級」所指各為何？請分別作答。

(2) 第三階級能「打贏第一仗」，主因為何？

解答 (1)第一階級指教士、第二階級指貴族 (2)教士與貴族內部的分裂

2. 「歐洲從某一時代開始，不同國家的知識分子，都可以共同享有一些超越國界的文化和思想，形成一種『知識的國度』。在這個國度中，任何人不論出身背景，只要知識水準夠，都可以平起平坐的互相討論。即使路途遙遠不便參加討論，也可以藉簡訊的流通來保持聯絡。」請問：【100指考題】

(1) 文中「知識的國度」大約形成於哪個時代？

(2) 文中的「知識分子」經常在什麼地方聚會討論？

解答 (1)18世紀（啟蒙思潮） (2)沙龍

3. 閱讀以下三則有關英國某一都市的資料，回答問題。

資料一：1883年10月，美國詩人羅威爾擔任駐英外交官時，曾以文學手法描寫此地的景象：「我們的霧季剛開始，今天是黃色的霧，這種霧總是令我充滿活力，因為它有種美化事物的巧勁。」

資料二：科學史家研究指出：「此地的市民面對籠罩整座城市、令人窒息的黃色煙霾。……但這種混濁停滯的霧幕，其實是在維多利亞時代最後幾十年，才開始在每年秋天後出現在上空，規律得有如定期遷移的幽靈。」

資料三：一個報導說：「1873年12月，黃霧連續三天籠罩此地，奪走多達700名市民性命。」

(1) 綜合三段資料，從生態角度，羅威爾筆下「黃色的霧」點出當時此一都市面臨什麼問題？

(2) 在19世紀後期，何以此一都市在每年秋後就會定期發生「黃霧」景象？

【103指考題】

解答 (1)空氣汙染 (2)燃煤（家庭燃煤或工廠燃煤）

4. 閱讀下列三則資料，回答問題。

資料一：「此法」實我先民千年前之一大發明也。自此法行，而我國貴族、寒門之階級永消滅；自此法行，我國民不待勸而競於學。

資料二：中國之民素貧，而其識字之人所以尚不至絕無僅有者，則以讀書之值（花費）之廉（低廉）也。應試之法，人蓄（儲備）《四書合講》、《詩韻》並房行墨卷（八股文選輯）等數種，即可終身以之，由是而作狀元宰相不難。計其本，十金而已。

資料三：「此法」廢除後，新式學校興起，學校的設置既偏於都市，學費的徵取亦令中等以下家庭無力負擔，更將使鄉間多數學齡孩童難以就學。另一方面，新學制下的學生與都市的關聯愈來愈密切，而與鄉村日益疏遠。【103指考題】

上述資料中的「此法」，是指哪一制度？**科舉**

5. 資料甲、乾隆 10 年（1745）：「臺郡……自南至北，綿亙二千餘里。崇山之內，皆生番所居；界外平埔，係熟番、漢民零散相處。從前定有地界，立石開溝。」
 資料乙、乾隆 25 年（1760）：「淡防廳一帶，從前原定火焰山等界，僅於生番出沒之隘口立石為表，餘亦未經劃清。今酌量地處險要，於依山傍溪處，即以山溪為界；其無山溪處，亦一律挑溝堆土，以分界限。」
 資料丙、乾隆 55 年（1790）：「查臺灣地土膏腴，易於謀食，無籍民人，愈聚愈多，往往深入內山，墾越滋事。……從前以紅、藍、紫色畫線為界，今即添畫綠線，以別新舊。臣查界外未墾埔地，既已分給屯丁耕種，丈溢田園（清丈後多出之田地），又歸民佃征租，各有定主，似可毋慮奸民覬覦……占墾之風，自可禁絕。」
 閱讀以上三段資料，回答下列問題：

- (1) 資料甲、乙提到「立石開溝」、「挑溝堆土」，所指為何？清政府設置目的為何？
- (2) 資料丙提到「從前以紅、藍、紫色畫線為界，今即添畫綠線，以別新舊」。清政府需不斷重新「畫線」，原因為何？
- (3) 資料丙的官員認為「占墾之風，自可禁絕」，其理由是什麼？

【109 指考題】

解答 (1)土牛溝或土牛線；劃分「生番」與「熟番（漢人）」區域 (2)漢人（熟番）一再越界拓墾，侵奪原住民（生番）土地，為免產生糾紛，只好重新劃線為界 (3)界外土地由軍隊駐紮屯墾；丈溢的田園由人民租佃，政府徵租

6. 以下三則資料是明代學者關於「東番」的記載：

資料甲：陳第〈舟師客問〉云：「沈子（沈有容）嘗私募漁人，直至東番，圖（繪）其地里，乃知彭（澎）湖以東，上自魴港（布袋），下至加哩（佳里），往往有嶼可泊。」「賊之所據誠非版圖，其突而入犯，亦非我之版圖乎？」

資料乙：葉向高〈改建浯嶼水寨碑〉云：「浯嶼水寨，故在大擔、南太武山外，後徙於中左所之廈門所。轄地北至崇武，南至料羅。……寨成，而有事東番。東番者，海上夷也。……頃倭據其地，四出剽掠。將軍（沈有容）便宜興師，冒風濤，力戰蕩其巢。」

資料丙：屠隆〈平東番記〉云：「東番者，彭（澎）湖外洋海島中夷也。橫亙千里，種類甚繁。……頃倭奴來據其要害，四出剽掠，飽所欲則還歸巢穴，張樂舉宴為驩（歡）；東番莫敢誰何，（沈有容）滅跡銷聲避之。」【110 指考題】

- (1) 三則資料中的「東番」是指今天的哪裡？
- (2) 根據三則資料，在明人觀念裡「東番」是否屬於明朝版圖？從三則資料中找出一項證據。（未舉出證據者，本小題不給分）
- (3) 根據這三則資料判斷，沈有容平「東番」的動機為何？

解答 (1)臺灣 (2)不是；資料一，賊之所據誠非版圖 (3)對付倭寇

7. 以下是一則與臺灣有關的資料，根據資料回答問題。

「小的三十二歲，乾隆三十八年，隨父母來臺，趕車度日。時常聽見漳、泉兩府，設有天地會，邀集多人，立誓結盟，患難相救。我與同伙，平日意氣相投，遂拜盟起會。後因斗六有人立會入夥被人告發，並牽連我們一齊呈告。彰化官衙，差人到處查辦，衙役等從中勒索，無論好人、歹人，紛紛亂拿，以致各村莊俱被滋擾，我等只好抗拒官兵。」【102 指考題】

- (1) 這則資料應與哪個歷史事件有關？
- (2) 就資料內容來看，資料中的主角「只好抗拒官兵」的原因為何？（不可抄題幹，請用自己的話語歸納說明。）
- (3) 就史料性質來看，這則資料是一手史料？還是二手史料？你／妳如何判斷？

解答 (1)林爽文事件 (2)官逼民反 (3)一手史料，當事人自我陳述

8. 以下兩則為晚清臺灣茶、糖、樟腦三項產業相關資料，閱讀後回答問題。

甲：貿易稅收成為晚清臺灣主要的財政收入之一，而出口值的增減實為貿易額增減的主要關鍵。比較 1868~1895 年間臺灣南北的對外貿易額可知，1880 年以前南部貿易額多於北部，1871 年以前且為北部的 2 倍；但 1880 年後，北部已超過南部，1885~1895 年間，北部貿易額反而超過南部 2 倍。

乙：劉銘傳為籌措建省經費，加課百貨釐金，並進行土地清丈以增稅。糖因市場競爭和生產成本較高，獲利不及茶和樟腦。糖原未課釐金，而北部的茶和樟腦已課釐金；樟腦不需課土地稅，茶園多在地，土地稅較產糖的平地為輕。【106 指考題】

- (1) 劉銘傳的增稅對哪項產業打擊最大？為什麼？請說明一項原因。
- (2) 就兩則資料推論，臺灣的經濟重心呈現怎樣的轉變？經濟重心的轉變和三項產業消長的關係為何？

解答 (1)糖。糖原本不必課釐金，而北部的茶和樟腦原本就課釐金，因此劉銘傳加課百貨釐金時，自然對糖業的打擊較大。(2)經濟重心逐漸由南部轉向北部。1880 年代以後，茶和樟腦事業的獲利高於糖業。由於茶和樟腦的產地在北部，製糖產業在南部，因此經濟重心逐漸向北移。

9. 閱讀下列兩則資料，回答問題。

資料一：臺灣銀行以省庫的角色，藉通貨發行增加來墊付中央政府的各種款項；並以法幣作為發行準備，且以舊臺幣與法幣之間採取固定匯率，因而法幣及金圓券在中國大陸上的惡性通貨膨脹乃藉固定匯率而輸入臺灣。

資料二：自 1945 年起至 1949 年止，舊臺幣的發行額增加了 367 倍；由於物價上漲過速，臺幣供不應求。【103 指考題】

- (1) 兩則資料共同反映什麼問題？
- (2) 針對兩則資料所反映的嚴重問題，政府推行什麼政策因應？
- (3) 除上述政策外，還有哪些因素緩和了惡化的情況？列舉一答案即可。

解答 (1)臺灣惡性通貨膨脹的問題。(2)發行新臺幣。(3)政府遷臺（土地改革、美援、上海黃金運臺穩定貨幣）。

10. 以下是兩則關於 8、9 世紀間（唐後期）長安和汴州的資料：

資料甲：唐代白居易詩描述長安「百千家似圍碁局（棋盤），十二街如種菜畦」，城內官署、道觀、佛寺、民房、市集分區而立、格局方正，區外有坊（圍牆）環繞，坊上有門稽查出入，日出而啟，日入而閉，盜賊宵小無處藏身；坊臨街道，街道筆直通達。

資料乙：汴州（今河南開封）地處黃河與運河之交。唐代王建詠汴州詩云：「草市迎江貨，津橋稅海商」、「水門向晚茶商鬧、橋（畔）市（集）通宵酒客行」，雖然街道紊亂、坊牆傾毀，但經濟活動熱絡。【110 指考題】

- (1) 比較同時期的長安與汴州，從城市空間區劃與管理的角度看，兩則資料反映唐後期何種「城市制度」的變化？
- (2) 這種變化反映在兩座城市的生活景象上。參考下表，從資料乙摘出適當的文字，作為反映汴州生活景象的判斷依據，並書寫於答案卷上。

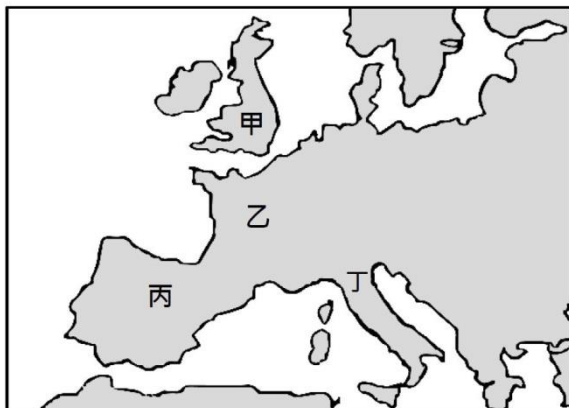
城市	生活景象	判斷依據
長安	城市管理森嚴	坊門日出而啟，日入而閉
汴州	生活秩序自由	

- (3) 汴州地勢平坦，無險可守，但五代和北宋卻都選擇作為都城。根據上述資料與你／妳的歷史知識推斷，其最主要考量為何？

解答 (1)坊市制度已被破壞，由住商分離轉變成住商合一 (2)水門向晚茶商鬧，橋市通宵酒客行 (3)基於經濟、地理位置考量，汴州位於黃河與運河交界，商業貿易繁榮

11. 史家考察中世紀中、後期歐洲某些地區的政經發展，指出：「這些地區的封建政權和君主政權形成較晚，城鎮因而得以建立自己的獨特政治和社會體制，以維護公共利益。它們打著維持和平的旗號，竭力保護自己的生意和貿易路線，而且只要占有優勢，它們就會控制周邊地區，建立支配性的市場體系。」根據你的歷史知識，回答下列問題：

(1) 文中描述的現象出現在附圖中的哪一地區？請以甲、乙、丙、丁表示。



- (2) 這個地區城鎮出現的「獨特政治體制」，主要是指什麼？
 (3) 從社會階級角度，主導此一政治體系的社會力量為何？

【109 指考題】

解答 (1)丁 (2)城邦或自治城市 (3)市民階級或商人階層

12. 附圖是 1560 年前後歐洲宗教勢力分布圖。其中不同線條標示的地區(以甲、乙、丙、丁表示)代表不同教派的勢力範圍，四個黑圓點(以 A、B、C、D 表示)則是四座城市坐落處。請看圖並依據歷史知識，回答下列問題：

- (1) 馬丁·路德是在圖中何處發起宗教改革運動？
 (請以 A、B、C、D 代號回答)
 (2) 馬丁·路德的基本神學觀點為何？
 (3) 丙區是哪一個教派的分布區？
 (4) 在臺灣傳教歷史甚久的基督長老教會，應是出自哪一區的教派？
 (請以甲、乙、丙、丁代號回答)



【99 指考題】

解答 (1)D (2)因信得救 (3)天主教(舊教) (4)丁

13. 一本書談到俄羅斯教士對土耳其帝國的宗教怨懟，說道：「四百年來，俄羅斯帝國官方信仰的精神首都，一直落在可恨的土耳其人的控制之下。將這個聖城從伊斯蘭異教徒的掌握中解放，長久以來一直是俄羅斯教會人士的一個頗孚眾望的原則。」請問：

- (1) 文中所說「精神首都」、「聖城」，其「現在」的名稱為何？
 (2) 文中所說俄羅斯帝國「官方信仰」所指為何？

【102 指考題】

解答 (1)伊斯坦堡 (2)希臘正教(東正教)

14. 1501 年夏，一支滿載香料的船隊遠渡重洋返抵歐洲，某位威尼斯人聞此消息，在日誌中寫道：「從熱那亞、里昂等地的來信得知，幾艘被期待滿載香料的快帆剛返抵某國港口。其中三艘來自印度的古里，一艘來自有大量金礦之地。對威尼斯而言，這是非常不好的消息。香料原從印度運到亞歷山大城或者貝魯特，再轉運到威尼斯，各地商人則從這裡批貨。今天，由於這一新航線，原本從開羅而來的香料，將由那個國家控制，因其船隊將直接到印度採購。確實，威尼斯商人真是處境堪虞！」仔細閱讀這則日誌，回答下列問題：

- (1) 文中提到的「某國」是指何國？
- (2) 上述發展會對威尼斯貿易造成什麼影響？

【106 指考題】

解答 (1)葡萄牙 (2)威尼斯的貿易地位逐漸下降

15. 以下是與納粹崛起相關的圖、表資料，請根據資料回答問題。

時間 \ 黨派	納粹黨	共產黨
1928 年	12	54
1930 年	107	77
1932 年 7 月	230	89
1932 年 11 月	196	100

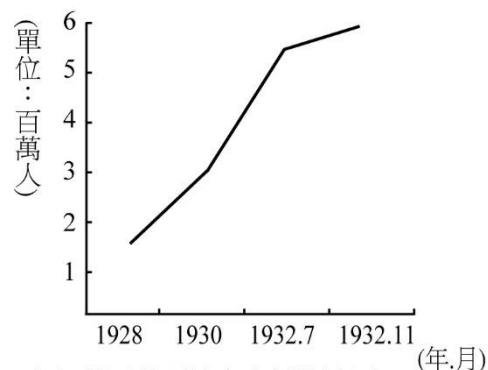


圖2 德國某項社會資料統計圖

表 2 德國納粹黨和共產黨在國會中的席次

- (1) 圖 2、表 2 共同呈現的轉捩點出現於何時？
- (2) 圖 2 應是德國哪項社會資料的統計圖？

【101 指考題】

解答 (1)1932 年 (2)德國的失業人口

16. 以下兩則印度與巴基斯坦分治的資料：

資料甲：1940 年，巴基斯坦「國父」穆罕默德·真納在「全印穆斯林聯盟年會」上演講：「要保障次大陸人民的和平與幸福，唯一途徑是……建立兩個自治的民族國家。……嚴格地說，兩者的實質不同不在宗教，而在於它們是兩個不同的獨特世界。……印度教徒和穆斯林信仰不同的宗教哲學，有不同的社會習俗和文化。不能通婚，也不能共同用餐，他們屬於兩個不同的文明，其理想和觀念相互衝突。」

資料乙：印度獨立後，首任總理賈瓦哈拉爾·尼赫魯在 1946 年的著作中寫道：「任何基於印度教徒和穆斯林之宗教不同而提出的印度分治，都無法分開在印度這兩個宗教的追隨者，因為他們混居在整個印度土地上。並且，這違背了其他宗教族群的意願。……當給予一個族群分離的自由，其他族群卻被否定這項權利。」

閱讀這兩份資料，請問：

- (1) 真納強調印度教徒與穆斯林實質上「屬於兩個不同的文明」，其主要論據為何？
- (2) 依據資料乙，尼赫魯反對印度和巴基斯坦分治，其主要考慮為何？

【108 指考題】

解答 (1)兩種宗教的哲學思想、社會習俗及文化差異太大，難以融合 (2)擔心其他不同宗教信仰的族群若循穆斯林的方式爭取獨立，會造成國家四分五裂

17. 以下為三則與臺灣史相關的口述歷史文獻，請根據資料回答問題。

甲：「到了山頂，她望見成列的屍首上吊在樹枝上，一共 21 名親人，夫君的屍首也在其中，親人都穿著傳統服裝，夫君穿著羽織和服，想必他在死亡前是充滿怨恨、矛盾、茫然和遺憾。」

乙：「在川中島，優秀的青年都爭先恐後地赴海外出征。我們都在志願制度下血書報效。這是告訴日本人，我們也是男子漢呀！不要對我們有差別待遇！」

丙：「每逢建設，我們必定被強迫從事砍伐森林等苦工，工資比其他地方低很多，還時常領不到錢，只給我們鹽代替工資，強迫勞役的日子有增無減。」

- (1) 這三則文獻和哪個歷史事件有關？
- (2) 請就甲、乙、丙三則文獻內容，依時間先後，排列順序。
- (3) 乙文獻中的人會在川中島，是因為統治者採取了什麼措施？

【101 指考題】

解答 (1)霧社事件 (2)丙甲乙 (3)為消滅反叛勢力而強迫族人遷移的政策

18. 以下是兩段有關 11 世紀歐洲政教衝突的資料：

資料甲：11 世紀時，羅馬教廷銳意推動教內改革，包括禁止神職買賣、教士娶妻；防堵世俗勢力干預教宗選舉與教士任命；強化教宗之權威等。這些改革引發諸多爭端，史稱「政教之爭」或「政教衝突」。

資料乙：一位現代學者指出：「教會改革引發的爭論，常冠以『政教之爭』的標題，這會造成誤導。當時，許多主教和修院院長……對教廷的改革持反對態度，因為無論怎麼改革，這都會使他們受制於教宗權威。畢竟，他們已習慣於和地方貴族建立合作關係，且雙方常有親緣、利益和人情關係。他們可不願意淪為教宗的工具。……相反，許多貴族支持教會改革，至少贊同以溫和方式進行。」

- (1) 根據上述資料，教宗推動的改革為何引發基督教內部許多人的反彈？請舉出一個原因。
- (2) 這位學者認為，把這段時期教宗的改革引發的爭議單純以「政教之爭」名之，會是一種「誤導」的看法。他的理由是什麼？

【110 指考題】

解答 (1)因許多主教和修院院長與貴族有親緣、利益、人情關係 (2)當時許多主教和修院院長與地方貴族合作，反對教廷改革；另外，許多貴族贊同以溫和的方式改革教會

19. 西元 1521 年，神聖羅馬帝國皇帝查理五世在帝國會議中，對某事件申明他的立場，以防止此一事件繼續延燒，衝擊帝國內部的安寧。他以堅決的語氣宣示：「很明顯，當一位孤立的兄弟發表與整個基督教相反的言論時，他的話是謬論，否則千年、甚至更久以來的基督教就成了謬誤。因此，我決心以我的王國、領地、朋友，以及我的身體、鮮血和靈魂去鬥爭。」請問：

- (1) 文中這位遭到指責的「孤立的兄弟」最可能是誰？
- (2) 這位兄弟發表了什麼「謬論」而受到譴責？

【104 指考題】

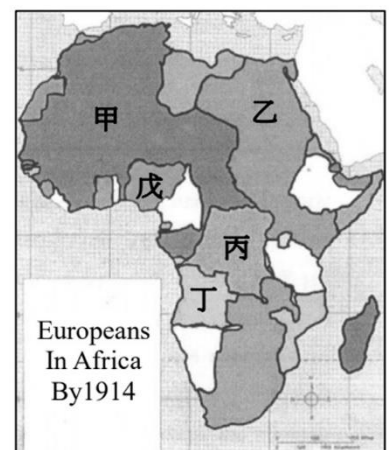
解答 (1)馬丁·路德 (2)《九十五條論綱》

20. 附圖是第一次世界大戰前夕，歐洲列強瓜分非洲的形勢圖。請回答下列問題：

- (1) 1870 年代，傳教士史坦利受比利時國王委託，深入非洲探險，為比利時取得一塊殖民地，是圖中何處？
- (2) 圖中乙地區淪為哪個國家的保護國？
- (3) 控制乙地區，對於該國在亞洲的利益，有何重要戰略價值？

【108 指考題】

解答 (1)丙 (2)英國 (3)控制埃及蘇伊士運河，便可控制地中海通往紅海及亞洲印度洋的航線



21. 美國波士頓猶太人屠殺紀念碑上，銘刻著一位新教牧師馬丁尼莫拉(Martin Niemoller)所作的短詩：「在德國，起初他們追殺共產主義者，我沒有說話，因為我不是共產主義者；接著他們追殺猶太人，我沒有說話，因為我不是猶太人；後來他們追殺工會成員，我沒有說話，因為我不是工會成員；此後，他們追殺天主教徒，我沒有說話，因為我是新教教徒；最後他們矛頭指向我，卻再也沒有人站起來為我說話了。」請問：

- (1) 短詩中的情境大約發生在哪個時期(年代)中？
- (2) 短詩中的情景，反映了作者當時正處在哪一種政治思想與行動的恐怖氣氛中？
- (3) 作者在詩中深切反省的是「壞人所以得逞，就是因為好人袖手旁觀！」以此推論，當時美國也曾對歐、亞侵略國家袖手旁觀，造成侵略氣焰高漲，世局更加動盪，美國的袖手旁觀主要是受哪一種思想影響？
- (4) 直到哪一事件爆發，才促使美國不再袖手旁觀，並且積極參與對抗侵略者，成為克敵制勝的關鍵力量？

【100 指考題】

解答 (1)1930 年代 (2)法西斯主義 (3)孤立主義 (4)珍珠港事件

22. 西元 4 世紀，一位羅馬軍人史家對羅馬周邊外族有這樣的描述：

資料甲：「匈人(Huns)都是身體結實，四肢強壯，醜如怪物，看來像是站立的野獸。」

「他們沒有建物可以遮蔽，都在山林中遊蕩；他們沒有皇室管轄，而由族中首領混亂地治理；他們沒有固定的居所，也沒有法律，只是以馬車為居，從一處到另一處。」

資料乙：「放牧的薩拉遜人(Saracens)四處漫遊，所到之處都成廢墟。他們如同貪婪的鷹，一看到獵物，就以最快的速度抓捕。」

「從亞述到埃及沙漠，那裡的各部族人都沒拿過農具或種過樹，都未以耕地為生。他們沒有家，不斷地在森林中流浪，沒有固定居所，也無法律。」

回答下列問題：

- (1) 資料甲、乙反映出這位史家是以何種心態看待外族？
- (2) 從這位史家對兩個外族社會特色的論述，可以推論他對身處之「羅馬文明」有特別看重之處。請舉出兩項他看重的文明要素

【107 指考題】

解答 (1)文化本位主義 (2)定居、法律

23. 17 世紀法國專制王權的建立歷經路易十三、路易十四。以下為相關敘述：

甲：「路易十三令首席大臣李希留強硬地處決和拘禁許多意圖叛亂的貴族，利用告密者組成網狀機構，派出享有專斷權力的督察，監視各地總督。」

乙：「路易十四建造凡爾賽宮，要求貴族家庭每年必須來此一段時間。他讓貴族以參與宮廷生活和國王起居禮儀為榮。貴族之間彼此競爭，都想討得國王歡心，國王賦予財富和特權，回報他們的忠誠。」

根據以上資料：

- (1) 17 世紀法國專制王權發展的一大阻力是什麼？
- (2) 路易十三至路易十四對上述阻力的處理方式有何改變？

【106 指考題】

解答 (1)貴族 (2)從壓制貴族到拉攏、懷柔貴族

24. 閱讀下列兩則資料，回答問題。

資料一：美國政府官員原本相信：「這兩個主要盟國」因有殖民地可以挹助，能夠迅速重建其國內經濟。然而到 1947 年時，「這兩個主要盟國」經濟不見起色；失業率增加、食品短缺、各地不斷罷工，經濟無法恢復。據統計，農業生產是 1938 年的 83%，工業生產為 88%，出口總額則僅為 59%。

資料二：1948 年至 1952 年是歷史上經濟發展最快的時期。工業生產增長了 35%，農業生產實際上已經超過戰前的水準。戰後前幾年的貧窮和饑餓已不復存在，經濟開始了長達二十年的空前發展。

- (1) 資料一中的「這兩個主要盟國」是指哪兩國？
- (2) 這兩個國家的經濟從資料一轉變到資料二的最重要原因為何？

【103 指考題】

解答 (1)英國與法國。(2)美國執行馬歇爾計畫(或歐洲復興計畫)；或美國提供經濟援助

25. 以下為兩位西方哲學家的論點：

甲：「水是萬物生存的根本。」

乙：「人的靈魂裡面有一個較好的部分和一個較壞的部分，而所謂『做自己的主人』就是說較壞的部分受天性較好的部分控制。」

- (1) 這兩位哲學家身處於哪一個時代？
- (2) 這兩位哲學家思考的重點有何不同？

【101 指考題】

解答 (1)希臘時代 (2)哲學的重點從宇宙論轉移到人本身的探討

26. 閱讀以下兩則與「馬歇爾計畫」有關的資料，回答問題。

資料一、1947 年美國國務卿喬治·馬歇爾提到：美國應協助擬訂並實際支援歐洲復興計畫，這項計畫是為了解決飢餓、貧窮、絕望與混亂，而非為對付哪個國家或意識型態而設。學者評論：事實恰恰相反，馬歇爾計畫是針對特定對象而提出的。

資料二、蘇聯官方文件：此計畫目的是「建立一個國家集團——這些國家一起被綁在對美國的義務下，並促使美國以借款換取歐洲國家先是放棄他們的經濟獨立、後來放棄政治獨立。」學者評論：此計畫讓史達林更進一步控制東歐，以護衛俄國利益。

- (1) 資料一的學者評論馬歇爾計畫是針對「特定對象」而提出，所謂「特定對象」所指為何？
- (2) 請根據資料二的兩段敘述，說明馬歇爾計畫為什麼會導致史達林進一步控制東歐？

【105 指考題】

解答 (1)蘇聯 (2)反美國的圍堵政策

27. 以下是第二次世界大戰後某一衝突事件的兩則報告：

甲：「西方國家正將德國改造成他們的防禦據點。他們正在把德國變成軍事和政治的一個防衛站，目的是危害我們的聯盟。」

乙：「如果我們有意去保護歐洲、防範共產主義，我們必須堅持下去。我相信，為了民主制度的未來，我們必須留在這座城市，除非我們被迫離開。」

請問：

- (1) 甲方最有可能是哪個國家？
- (2) 乙方報告中有兩個重要詞語可能為雙方衝突的根源，這兩個重要詞語是什麼？

【99 指考題】

解答 (1)蘇聯 (2)防範共產主義；留在這座城市

28. 冷戰時期，兩大陣營對立。以下是 1960 年某一陣營領導國家官方出版品的摘錄：

「共產黨和蘇維埃政府對其他人民民主國家嚴守不干涉內政的原則。蘇聯承認這些國家，給予政治上的支持，並致力盡到國際主義責任，……以穀物、種子和原物料援助他們。

美國則利用資本主義國家的經濟和政治困難，遂行控制。……日、西德、義、法、英都不同程度仰賴它。……1949 年美國建立一個侵略性軍事集團，名為北大西洋公約組織。……1950 年，它侵犯遠東地區，在朝鮮人民民主共和國與南韓之間挑起武裝衝突……

二次世界大戰後的巨大變動改變了世界政治版圖。兩個主要社會和政治陣營出現了：一是社會主義與民主陣營，一是帝國主義與反民主陣營。……追逐世界霸權的美國帝國主義者引發了所謂的冷戰，試圖點燃第三次世界大戰的烽火。」

回答以下問題：

- (1) 文中「帝國主義與反民主陣營」，所指為何？
- (2) 這份文件應是出自哪個國家的官方機構？
- (3) 承上題，從上文的書寫文字，找出一個證據，並說明你判斷這份文件出自該國的理由。

【109 指考題】

解答 (1)美國及其盟邦 (2)蘇聯 (3)舉例如：指責美國：「建立一個侵略性軍事集團」或在「1950 年，它侵犯遠東地區」或「追逐世界霸權的美國帝國主義者」或「試圖點燃第三次世界大戰的烽火」。或肯定蘇聯：「對其他人民民主國家嚴守不干涉內政的原則」或「致力盡到國際主義責任」或「以穀物、種子和原物料援助他們」

29. 閱讀下列資料，回答問題：

「每與諸將言及五省沿海人民移徙內地，嘆曰：『吾欲留此數莖（根）髮，累及桑梓人民！且以數千里膏腴魚鹽之地、百萬億眾生靈，一旦委而棄之，將以為得計乎？徒殃民而已！吾若不決志東征，苟徇（順從）諸將意，株守各島，豈不笑吾英雄為其束縛？今當馳令各處，收沿海之殘民，移我東土，開闢草萊，以相助耕種，養精蓄銳。俟有罅隙（等其發生內變），整甲而西，恢復迎駕，未為晚也。』」

- (1) 文獻中的「吾」應是指誰？
- (2) 文中提及「五省沿海人民移徙內地」，主要是因為當時政府頒布了什麼命令所致？
- (3) 「收沿海之殘民，移我東土」，對當時東土的發展有何意義？

【104 指考題】

解答 (1)鄭成功 (2)遷界令 (3)有助開發臺灣

30. 以下三則為和臺人「三千煩惱絲」有關的資料，閱讀後回答問題。

資料甲：悔染陋風三四春，奮然割去一時新。而今偷得文明樣，洗濯圓顛見性真。

資料乙：是何世界任戕殘，警吏施威六月寒。削足妄思求適履，髡（剃）頭謬說慶彈冠（做官）。時無美鬢（濃密）人人鬚（脫落），家有金蓮步步難。癸女丁男（指成年）顛倒甚，此間奚事不心酸。

資料丙：予素喜西制，嘗慕改妝效顰，以為利便，奈格於清俗，不肯權變為憾。今者，國既喪師獻款，身為棄地遺民，此次東遊（日本），沿途頻遭無賴輩擲石毀罵之苦，因是決意斷辮改妝，以為出門方便之計。

- (1) 三則資料出現的背景和哪一時期的何種政策有關？
- (2) 三則資料中有兩則資料對處理頭髮的態度較主動，是哪兩則？這兩則資料主動處理頭髮各持的理由為何？

【107 指考題】

解答 (1)日本殖民統治時期的放足斷髮運動 (2)甲：象徵文明或消除陋習；丙：政治政權轉變（馬關條約割讓臺灣）

31. 下列是三則與中華民國外交有關的文件內容，閱讀後回答問題。

甲：提供防禦性武器給臺灣人民；維持美國的能力，以抵抗任何訴諸武力、或使用其他方式高壓手段，而危及臺灣人民安全及社會經濟制度的行動。

乙：美利堅合眾國承認中華人民共和國政府是中國的唯一合法政府。在此範圍內，美國人民將同臺灣人民保持文化、商務和其他非官方關係。

丙：以光榮之同感，追溯上次大戰期間，兩國人民為對抗帝國主義侵略，而在相互同情與共同理想之結合下，團結一致併肩作戰之關係；……願加強兩國為維護和平與安全而建立集體防禦之現有努力，以待西太平洋區域安全制度之發展。

- (1) 「丙」是指哪一文件？
- (2) 甲、乙、丙三項文件依制定／簽署時間的先後順序為何？
- (3) 依據甲、乙兩項文件，簡述中華民國與美國外交關係的變化？

【105 指考題】

解答 (1)《中美共同防禦條約》 (2)丙乙甲 (3)斷交後建立實質關係

32. 閱讀下列三段資料，回答問題。

資料一：乾隆十三年，湖南巡撫楊錫紱指出：「國初地餘于人，則地價賤。承平以後，地足以養人，則地價平。承平既久，人餘于地，則地價貴。向日每畝一二兩者，今至七八兩；向日七八兩者，今至二十餘兩。」

資料二：乾隆十三年，雲貴總督張允隨指出：「天下沃野，首稱巴蜀，在昔田多人少，米價極賤，雍正八、九年間，每石尚止四五錢，今則動至一兩。」

資料三：「臺灣地廣民稀，所出之米，一年豐收，足供四、五年之用。民人用力耕田，固然是為自用，也希望賣米換錢。雍正三（1725）年以後，臺米年年運送福建漳州、泉州、福州等地，亦達浙江、天津、廣東。乾隆年間，臺灣米價逐漸上揚，道光初期（1820 年代）起，米價騰貴。」

- (1) 根據資料一、二，從清初到乾隆十三年間米價日漸上揚的原因為何？
- (2) 根據上述資料，臺灣地區米價逐漸上升的最主要原因為何？

【102 指考題】

解答 (1)人口增加，糧食不足 (2)臺米輸陸造成供需失衡

33. 老師在課堂教導學生學習歷史考證，他首先提供一則清代史家錢大昕對唐代回紇所做的說明：「回紇，後改名為回鶻，唐末年遷於北庭（今新疆），元時，回鶻音轉為畏兀，或作畏兀兒、畏吾兒。」接著要同學依據上述錢大昕的說明，針對以下甲、乙、丙三組未經校勘的資料進行考證。請你／妳試著回答下列問題。

甲、《元史·文宗紀》：「各道廉訪司官用蒙古二人，畏兀、河西、回回、漢人各一人。」《明史·哈密傳》：「其地種落雜居，一曰回回，一曰畏兀兒，一曰哈刺灰，其頭目不相統屬。」

乙、元世祖說：「回回人中，阿合馬才任宰相。」

丙、《元史·姦臣傳》：「阿合馬，回紇人也。」

- (1) 這三組資料中，哪一組有明顯錯誤？
- (2) 此一錯誤是什麼？
- (3) 如何由錢大昕的說明及各段資料所述，推論出它是錯誤的？

【106 指考題】

解答 (1)丙 (2)《元史·姦臣傳》的紀錄不會使用「回紇」一詞 (3)根據錢大昕等資料看來，元朝以後，回鶻音轉為畏兀，或作畏兀兒、畏吾兒，因此《元史·姦臣傳》不會再使用「回紇」一詞

34. 一位日本將領自我辯護說：「我們就像一大群人擠在一間狹小的房間內，只有三扇門供我們逃出去，也就是說移居外地、打入世界市場和領土擴張。第一扇門，移居外地，已經被其他反對日本移民的國家堵死了。第二扇門，打入世界市場，又已被關稅壁壘關上了。三扇門關上了兩扇，日本該怎麼辦？很自然，日本只有從剩下的一扇門奪門而出了。」請問：

- (1) 這位將領最可能是為日本的哪一次擴張行動辯護？
- (2) 這位將領說日本的第二扇門也被關上了，導致此事發生的原因為何？

【100 指考題】

解答 (1)九一八事變 (2)經濟大恐慌

35. 閱讀下列資料，回答問題。

16世紀初，一位歐洲學者寫了《騎士手冊》，談到研究《聖經》的方法：「《聖經》裡包含著耶穌的教義，沒有人為摻染。但我們需先有古代文學的訓練，因古代文學滋養人的思想，使其能理解神聖教義。」他指出：「一個基督教徒應通過詩人和演說家，來研究哲學家的著作，最好是柏拉圖學派，因他們更接近《福音書》……他須懷著虔敬心情研究《聖經》，堅信能從中找到可靠的真理。」又說「《騎士手冊》是要糾正一些人的錯誤，他們把宗教說成是由清規、戒律和外在的宗教儀式組成，他們完全不懂虔敬的真正本質。」

- (1) 文中提及「古代文學」，其所稱的「古代」，應是指歐洲史上的哪一時期？
- (2) 這位學者的觀點反映了當時的哪種思潮？
- (3) 這種思潮影響了後來哪個運動的發生？

【102 指考題】

解答 (1)希臘羅馬 (2)基督教人文主義 (3)宗教改革

36. 清代學者姚瑩《東槎紀略·埔里社紀略》云：「昔蘭人之法，合數十佃為一結，通力合作，以曉事而貲多者為之首，名曰小結首。合數十小結中舉一富強有力、公正服眾者為之首，名曰大結首。」針對姚瑩的記述，兩位學者分別提出說法：

學者甲：「荷蘭人對於當時移入之十萬漢人，成立所謂『結首制度』。〈埔里社紀略〉記述其制度。」
學者乙：「依據姚瑩所述之『蘭人之法的小結首大結首制』，來論述結首制為荷蘭人在臺之土地拓墾制度是不對的，而是噶瑪蘭人的拓墾結首制度。……噶瑪蘭及臺灣的舊志，多簡稱噶瑪蘭人或地區為蘭人、蘭地，而稱荷蘭人為荷蘭人或紅毛人，或紅夷。」

閱讀上述資料，回答下列問題：

- (1) 學者甲和學者乙對「結首制」的起源，解釋有何不同？
- (2) 學者乙不支持學者甲的說法，主要的理由為何？
- (3) 根據上述討論推斷，今日宜蘭地區地名如「二結」、「五結」等，歷史淵源為何？

【108 指考題】

解答 (1)甲學者認為結首是荷蘭治臺時期開始創立的制度，乙學者認為結首制本身就是噶瑪蘭人的拓墾制度 (2)根據臺灣的舊志，多簡稱噶瑪蘭人為蘭人，而稱荷蘭人為荷蘭人或紅毛人，或紅夷 (3)漢人學習噶瑪蘭人的開墾制度所留下的地名

111 分科測驗試題

一、單選題

1.(A) 以下是兩則伊斯蘭史上翻譯運動的觀察：

資料甲：十世紀時，阿拔斯帝國有規模浩大的翻譯運動，主要是把希臘典籍譯成阿拉伯文。他們翻譯醫學、天文學、化學、物理學論著，但不譯任何類型的文學和歷史書籍。

資料乙：十六至十八世紀，鄂圖曼帝國也有翻譯運動，以引進西歐學問。他們翻譯地理學著作，也有軍事論著，但找不到任何哲學著述。

綜合兩則資料，歷史上伊斯蘭世界引進外來知識時，態度常是

- (A)有選擇性：具有實用價值者 (B)有選擇性：契合宗教教義者
(C)無選擇性：隨譯者興趣而定 (D)無選擇性：依市場喜好決定。

2.(A) 王莽建立政權後，為示民寬政，隨即頒布命令，將土地收歸國有，並按一夫百畝、八家為井的古制重新分配，稱為「王田」。家中男子不足八口卻占田土一井者，須將多餘土地分給族眾或鄰里。這些作法的主要目的是 (A)抑制貧富懸殊 (B)獎勵農業生產 (C)爭取奴婢人權 (D)追求稅賦公平。

3.(B) 以下兩則資料談及羅馬人對於基督徒的看法：

資料甲：西元二世紀，羅馬作家菲力克斯寫道：一批賤民攻擊諸神……，這些人或者是無知的底層賤民，或者是從來就輕信的婦女。他們蔑視神殿、對神像啐唾沫，譏諷我們拜神的儀式，不把祭司放在眼裡。

資料乙：西元四世紀皇帝迦萊里說：「我們的責任是依循羅馬古代法律和公共秩序，來糾正和重建一切。我們尤其希望喚醒那班基督徒……他們拋棄祖宗所創宗教和典禮，蔑視古代習俗，杜撰荒唐法律和學說。」

這兩則資料共同反映羅馬人敵視基督徒的主要原因是

- (A)賦予女性自主的教義 (B)背棄傳統宗教的態度
(C)採取神祕奇怪的儀式 (D)敵視下層階級的居心。

4.(A) 以下是對臺灣史上某一時期的描述：一、臺灣第一次出現具有規模的漢人社會；二、開始發展以糖、米為主的農業經濟，外銷海外；三、利用臺灣優越地理位置發展轉口貿易。此一時期應是 (A)荷蘭時期 (B)鄭氏時期 (C)清朝時期 (D)日本時期。

5.(B) 十八、十九世紀之交，某個東亞城市的書肆裡，既可找到傳統漢醫《傷寒論》、《黃帝內經》的註疏，也可買到荷蘭人醫學著作《內科選要》的在地譯本。這座東亞城市最可能是 (A)朝鮮的漢城 (B)日本的江戶 (C)清國的蘇州 (D)越南的河內。

6.(A) 經濟史家稱十九世紀英國是史上「第一個工業國家」。附表是 1801 到 1921 年，英國就業結構百分比的變化。根據十九世紀英國經濟發展趨勢判斷，甲、乙、丙分別是指 (A)甲、服務業；乙、農業；丙、工業 (B)甲、農業；乙、工業；丙、服務業 (C)甲、工業；乙、服務業；丙、農業 (D)甲、農業；乙、服務業；丙、工業。

年代	產業部門 (%)		
	甲	乙	丙
1801	36	35	29
1841	28	24	48
1881	34	14	52
1921	42	9	49


- 7.(C) 1920 年代，一位臺灣女性在喜帖上申明：不用聘金、不用賀禮、不注重一切形式。《臺灣民報》推崇這是「前所未有的聲明」、「新時代男女結婚的參考」。這位女性的作法反映 (A)總督府實施「內地延長主義」，要求婚禮符合日本習俗 (B)一次大戰後，臺灣生活清苦，結婚不用聘金、不收賀禮 (C)受到時代思潮的影響，臺灣女性開始實踐婦女解放主張 (D)戰爭導致人口減少，鼓勵女性結婚生子，增進人口成長。
- 8.(C) 某時期，歐洲出現收集古代抄本熱潮。學者遍訪修道院，尋找湮沒的古書抄本，雇人抄寫，並進行考訂、校勘，以回復古書原樣。他們摹仿古拉丁文，以之寫作。富商和權貴競相興建豪華宅第以彰顯個人權勢，也資助學者與藝術家的創作，展現文化品味。這最可能出現在哪一時期？ (A)六世紀拜占庭帝國時期 (B)九世紀查理曼帝國時期 (C)十四世紀文藝復興時期 (D)十八世紀啟蒙運動時期。
- 9.(C) 某位法國文人觀察：「近年來，我們又開始喜歡中世紀；我們打心底敬仰當時的宗教熱情。在啟蒙哲士伏爾泰眼中，這種信仰只是一種粗鄙的迷信。……我們喜愛……游俠的英勇冒險；在伏爾泰眼中，這不過是……蠻族粗鄙風俗的殘存。」這位文人所處時代最可能是 (A)文藝復興時代、人文主義興起 (B)十八世紀中葉、理性主義盛行 (C)十九世紀上半、浪漫主義當道 (D)十九世紀後半、國族主義勃興。
- 10.(B) 日治初期埔里的族群調查提及：同治末年，熟番自己隨意附上姓名，故姓氏並未一定，而同名者甚多，常產生糾紛。所以某官員定例：生子命名必須加上父親之名，迄今不廢。然而，其中有學識或從事公職者，對此稍覺不悅，因而不少人又再改成漢名。從這則記載來看，哪個敘述比較符合平埔族使用漢人姓名一事？ (A)清朝官員強制平埔族改用漢人名字 (B)平埔族受漢人影響而改用漢人姓名 (C)平埔族有識之士不願改用漢人名字 (D)平埔族接受清朝官員制定命名原則。
- 11.(B) 研討會上，學者爭論清朝前期成功統治帝國的原因，有兩類解釋：第一類認為是統治者在不同地區，包括新疆、西藏、蒙古、關內，因地制宜，採取不同統治策略，形成一多民族帝國。第二類認為是統治者採取漢化政策，才能以少數民族身分入主中原。我們應如何理解這兩種歷史解釋？ (A)第一類解釋的證據：實施八旗制度、西南地區實行改土歸流 (B)第二類解釋的證據：動員學者編纂《四庫全書》、開科取士 (C)第一類學者採取多元主義觀點，解釋較空疏，不具學術意義 (D)第二類學者站在華夏中心主義，立場相對客觀，解釋較可靠。
- 12.(B) 某朝代史家修撰史書，出現這種情況：書中常以文意欠佳的漢字，音譯異族姓名。究其故，除了這些王朝入主中原時，未盡通曉漢文，而致誤用同音字外，更有史官刻意借不雅文字，暗中詆毀當朝統治者，例如「蒙古」一詞，刻意音譯成「朦骨、盲骨」。這種情況常見於哪一種史書？ (A)宋代修的唐史 (B)元代修的金史 (C)清代修的明史 (D)民國修的清史。
- 13.(B) 學者指出：兩宋政府雖不是強大的政權，但政府重視官方訊息流通管道的管理，除了嚴格要求輿情的蒐集、巡訪、分析與檢核外，還敕令各層級政令文書必須依規定的時效傳遞。兩宋政府這麼做的主要目的是 (A)監控在野人士的活動 (B)穩定深入地控制地方 (C)取締翻刻官方的文書 (D)動員民力以對抗外族。

- 14.(C) 二次世界大戰結束後，美國計畫根除日本再度發動戰爭的能力，也認為日本的生活水準不應高於被其侵略的國家，因此並未計畫協助日本復興。後來，美國改變政策，不但釋放戰犯，協助日本重建經濟，還要求日本成立「自衛隊」。美國改變政策的關鍵是 (A)中國主張「以德報怨」，應對日寬大 (B)盟軍統帥麥克阿瑟個人同情日本人民 (C)冷戰開始，扶植日本以防堵共黨擴張 (D)越戰發生，發展日本經濟以補給美軍。
- 15.(C) 一位學者回憶：他考上北平一所私立大學，9 月開學，但 10 月 10 日便被政府接管，改成公立大學，課程也調整了。他先前修過哲學，對馬克思主義、黨史、革命史等新課程，並不覺困難。這最可能是發生於何時的情況？ (A)五四運動時期，左翼思潮流行 (B)聯俄容共期間，接納共產主義 (C)中共建政以後，管控高等教育 (D)文化大革命時，向工農兵學習。
- 16.(D) 歷史家考察某一經濟作物的傳播史，認為富有全球史意義。它最初可能是從印度、波斯傳到埃及；中世紀時，穆斯林將其引入地中海地區和伊比利半島；十六世紀起，西班牙與葡萄牙在中、南美洲殖民地，利用非洲奴工大量種植，再將產品運回歐洲。這種作物應是 (A)胡椒 (B)煙草 (C)棉花 (D)甘蔗。
- 17.(C) 經濟史家考察十九世紀歐洲運輸革命與工業革命的關聯，指出：「這種運輸設施」的推展，使先前未曾開發地區捲入世界經濟活動內，更因其克服運輸量、畜力、季節及移動速度等限制，工業革命成果得以擴大。因此，此一交通革新「不但是運輸革命的完成，而且也是工業革命的完成」。這位史家所說的「這種運輸設施」，最可能是指 (A)汽車的量產 (B)運河的開通 (C)鐵路的興起 (D)輪船的通航。
- 18.(B) 學界對清領臺灣前期的作為，有「消極政府，積極人民」的評論，意指：清廷雖限制內地人民前往臺灣，但人民仍然一波波渡臺，在土地開發、農業耕作或通商貿易方面，都有不錯的發展。下列哪一項可作為清領前期「積極人民」的證據？ (A)設置土牛溝 (B)興築八堡圳 (C)成立撫墾局 (D)派班兵駐防。
- 19.(D) 1895 年，福澤諭吉發表〈臺灣永遠的方針〉：「(臺灣)現在既然歸入我國版圖，便不容許照舊交付蠻民手中，應自內地大舉移民開發富源，這樣纔符合文明的本意。政府的方針一定，諒不催促也有多數內地人希望移居。自蠻民手中褫奪開闢以來的野蠻事業，加以文明方式的新創意，無疑可獲驚人的發展。」根據上文，福澤諭吉主張「內地人」大量移民臺灣，主要目的應是 (A)複製北海道農業移民經驗 (B)解決日本人口膨脹的問題 (C)成為日本帝國南進的基地 (D)透過移民以達到殖產興利。
- 20.(D) 下列兩則是荷蘭人記載鄭成功貿易的資料：
- 資料甲：1655 年 3 月 9 日《熱蘭遮城日誌》：國姓爺的 24 艘船隻，從中國沿岸開去各地貿易：往巴達維亞 7 艘，往(越南)東京 2 艘，往暹羅 10 艘，往(越南)廣南 4 艘，往馬尼拉 1 艘。
- 資料乙：1656 年 12 月 11 日《巴達維亞城日記》：今年國姓爺的 6 艘帆船，從中國到柬埔寨，收購鹿皮及其他貨物運去日本。
- 根據這兩則資料，可以得出哪一項推論？ (A)鄭成功拒絕與荷蘭人進行貿易活動 (B)鄭成功獨占了與日本人的鹿皮貿易 (C)鄭成功與荷蘭合作經營南海的貿易 (D)鄭成功是荷蘭在亞洲貿易的競爭者。

二、題組

1. 1960 年代初，南非黑人領袖曼德拉在法庭上抗辯：「多年來，白人對非洲民族施行暴政、剝削和壓迫」；「白人享受世界上最高的生活品質，非洲人卻活在貧窮和悲慘中」；「所有體制內合法表達反對白人優越主義的手段都被法律禁止」，因此「若不採用暴力行動，非洲民族無法在對抗白人優越主義的奮鬥中得到勝利。」
- (A) (1) 我們應如何理解曼德拉的作為？ (A) 他指控制度性的隔離政策造成對黑人的壓迫 (B) 他在效法甘地作法，以不合作運動進行抗爭 (C) 他呼籲循法律途徑，推動體制內的改革運動 (D) 他積極鼓吹南非的窮人，發動無產階級革命。
- (C) (2) 在 1960 年代，南非之外，哪個地區也出現性質相似的社會矛盾？ (A) 印度 (B) 英國 (C) 美國 (D) 伊朗。

2. 附圖描繪十八世紀末亞洲某港口的景象。該國政府鑑於外商日多，就在海口劃一特區，由外商依國籍設立貨棧，懸掛國旗標示。圖中，外商由左至右分別是美國、瑞典、英國與荷蘭。外商每年只能停留七個月，每月進城次數也有限制，與政府交涉須透過本地商人中介。



- (D) (1) 圖中的港口最可能是 (A) 巴達維亞 (B) 馬尼拉 (C) 長崎 (D) 廣州。
- (A) (2) 該國政府在海口劃定通商特區，並對外商活動設下限制，反映該國對外商前來貿易時，所持想法為何？ (A) 通商並不是一種互惠，而是施惠於人 (B) 外人經商只是幌子，目的是領土擴張 (C) 擔心外商挾著船堅砲利，恐顛覆政權 (D) 限制貿易地點，目的是防堵白銀外流。