

# 一、台灣史(共 96 題)

- (D) 1. 下表資料顯示臺灣人理解日語的人口比率。由該表可知，臺灣人口中理解日語的比率漸增。1930 年起的大幅增加，是因為日本政府設立「國語講習所」，而自 1937 年起，理解日語的比率再次大幅增加。請問其最主要的原因為何？ (A) 日本政府普設學校，使臺灣人可以接受小學教育 (B) 日本政府鼓勵臺灣人接受高等教育，增加臺灣人學習日語意願 (C) 1935 年起日本在臺灣實施有限度的地方自治選舉，增加臺灣人學習日語的意願 (D) 日本政府在二次大戰期間推行「皇民化」運動。(91 學測)

時間	總人口	理解日語人數	比率 (%)
1930 年	440 萬	365,427	8.3
1933 年	461 萬	1,127,509	24.5
1937 年	510 萬	1,934,000	37.9
1940 年	552 萬	2,885,373	52.3
1941 年	568 萬	3,239,962	57.0

國語運動  
改姓名  
寺廟整理  
正廳改善

- (D) 2. 國民政府遷臺後，臺灣政治上的反對運動是經過哪一場事件後，形成跨縣市的結合，後來更成為打破黨禁的動力？ (A) 霧社事件 (B) 二二八事件 (C) 退出聯合國 (D) 美麗島事件。(91 學測)
- (C) 3. 臺灣光復後進行的「耕者有其田」政策奠定其後經濟發展的基礎。下列敘述何者適當？ (A) 政府強制地主將土地以公告地價現值賣給實際耕作的佃農，若農民沒有足夠的資金，可向政府貸款 (B) 政府沒收地主土地，強制發放給實際耕作的佃農，且政府不補償地主的損失 (C) 政府強制徵收地主多餘的土地，發給地主公營企業的股票與實物債券作為補償 (D) 凡是欲從事農業經營之人，若無土地，可以向政府申請開發國有土地，若經營有成，該土地可轉為私有。(91 學測)

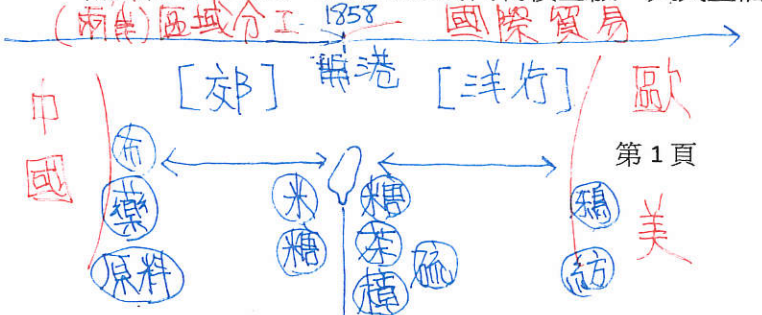
1949  
1930 1947 1971 1979 白美斷交

1949 三七五減租 → 1951 公地放領 → 1953 耕者有其田

## 第 4-5 題為題組

一部小說中有以下一段情節：「太明開始對教育有了懷疑了。最少是對教育方法有所懷疑。想起來有很多不能了解的。比如小學校不用體罰，也能提高教育的效果；為什麼公學校不能那樣？小學校按照學則辦理，為什麼公學校把重點放在農業教育？」請回答以下兩個問題：(91 學測)

- (B) 4. 這部小說所說的是什麼時代、什麼地方的事？ (A) 滿清時代，福建 (B) 日據時代，臺灣 (C) 1945 年以後，臺灣 (D) 二十世紀初，香港。 題目出處：吳濁流《亞細亞的孤兒》 主角原名「胡志明」→「胡太明」：日治台灣人身分認同
- (A) 5. 在小學校與公學校接受教育的人各是誰？ (A) 小學校是日本人；公學校是臺灣人 (B) 小學校是外省人；公學校是本省人 (C) 小學校是英國人；公學校是香港人 (D) 小學校是滿人；公學校是漢人。 日文原版結局：加入毛澤東 改造新中國 → 中文版刪去
- (B) 6. 有一段資料記載：道光十年以後，因為閩、浙地區連年豐收，一年之中，好幾個月沒有廈門商船到臺灣收購稻米，「臺人苦穀有餘而乏日用」。有關此一資料的解釋何者較為適當？ (A) 臺灣需從大陸進口日用品，大陸日用品價格上漲，臺人無力負擔 (B) 臺灣與大陸的經濟分工關係，臺灣出售糧食，從大陸購入日用品 (C) 大陸引進新作物，糧食已可自給，此後不再需要由臺灣進口糧食 (D) 臺地已無餘糧可供輸出，以致引起島內物價上漲，人民生活窮困。(92 學測)





- (D) 7. 臺灣南部某鎮一座有兩百餘年歷史的廟宇，留下的捐款紀錄記載長期以來捐獻者的姓名、居地與捐獻金額。此資料自某時期開始，出現了來自「板橋、新莊」等北部地區的信眾，且此後漸以為常。關於此一現象，以下哪個選項的解釋最為合理？ (A) 清朝中期族群衝突緩和，南北交流漸趨密切 (B) 臺灣開港通商之後，南部居民轉向北部移動 (C) 日據時期為了開發南部，北部農業人口南移 (D) 二次大戰後臺灣工業化，南部居民北上就業。(93 學測)

→ 南部廟宇常有北部民眾捐款 → 白濁因河流分布之故，南北移動便利 → 日治鐵路

- (B) 8. 參看以下資料，回答問題：

資料一：「臺灣鄉間的諺語：天下第一憨，種甘蔗給會社磅（稱重量）。」

資料二：「1905 年 6 月臺灣總督府規定：為制止各製糖工廠間的原料爭奪，避免擾亂蔗價，各蔗作區劃定為一定範圍的區域。此區域內的甘蔗未經許可，不得運出區域之外，或供作砂糖以外成品的製作原料。」根據以上資料，下列敘述何者適當？ (A) 保障了臺灣蔗農，使蔗農有固定買主與穩定的銷路 (B) 保障了新式糖廠，使其降低收購甘蔗原料的價格 (C) 政府照顧臺人生活，引進製糖業，糖從此成為重要輸出物資 (D) 使臺灣舊糖廠在政府補助下轉型為新式糖廠，奠定工業的基礎。(92 學測)

→ 日治製糖株式會社「原料採收區域制」= 保障會社利益，剝削蔗農

- (C) 9. 政府宣布：禁止演出布袋戲、歌仔戲，也不准進入寺廟，鼓勵人民更改姓氏，強迫改說「國語」。這種政策是在何時開始推行的？ (A) 1895 年，甲午戰後日本占領臺灣時 (B) 1919 年，第一次世界大戰結束之時 (C) 1937 年，中日爆發蘆溝橋衝突之後 (D) 1945 年，陳儀任臺灣行政長官之後。(93 學測)

↓ 皇民化運動

- (D) 10. 日治時期，臺灣海峽兩岸雖然政治分離，但文化思想的交流仍然密切。1923 年《臺灣民報》創刊，其「創刊詞」說：「我們處在今日的臺灣社會，欲望平等，要求生存，實在非趕緊創設民眾的言論機關，以助社會教育，並喚醒民生不可了。……所以這回新刊本報，專用平易的漢文，滿載民眾的知識，宗旨不外欲啟發我島文化，振起同胞的元氣，以謀臺灣的幸福。」這段話顯示，當時臺灣知識份子已接納的近代中國新文化是下列哪一項？ (A) 新教育 (B) 反傳統 (C) 反腐敗 (D) 白話文。(94 學測)

《臺灣民報》創刊於日本東京，首份全漢文的白濁雜誌，號稱「白濁人唯一的言論機關」，1929 同黨加入日文版後，遷入白濁。

- (D) 11. 下表是臺灣在某一時期的對外貿易統計數字。請問造成表中數字變化的主要原因是什麼？ (A) 海禁政策的解除 (B) 技職教育的推廣 (C) 殖民體制的確立 (D) 鐵路港口的興建。(94 學測)

(單位：日圓)

年代	輸出	輸入	合計	指數
1896	11,396	8,631	20,027	100
1924	42,567	46,424	89,000	444
1925	47,966	56,489	104,454	522
1926	49,315	62,008	111,323	557

基礎建設 1895 1905 1930 1945  
 農工日 農南洋  
 交通建設 南進政策

- (C) 12. 一位作家以充滿感性的文字寫道：「內地人徹底地擁抱本島人，而本島人喜悅地投入內地人的懷裡，這種親和性不是一時的現象，可能在永久性的意義上有著要創造一個民族的骨骼之性質吧！現在，臺灣人非打開眼睛不可。正是時候了，臺灣人不單只是日本國籍，而且從內心深處完全變成日本人。如果失去這次時機，以後我們不能再遇到這種機會了。」這位作家寫作的背景與目的是下列何者？ (A) 反對臺灣民主國的抗日運動 (B) 爭取臺灣自治權的民主運動 (C) 呼應臺灣總督府的皇民運動 (D) 渴望臺灣人出頭的民族運動。(94 學測)

題組題 (第 13~14 題為題組)

◎圖 1 及圖 2 分別是臺灣在兩個不同時期的行政區域示意圖。請問：(94 學測)

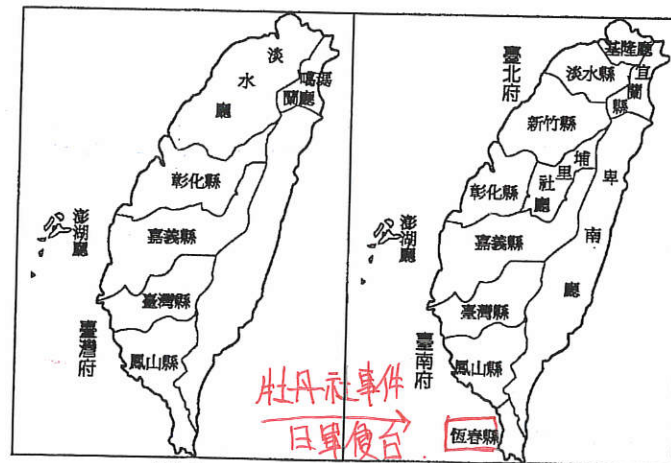
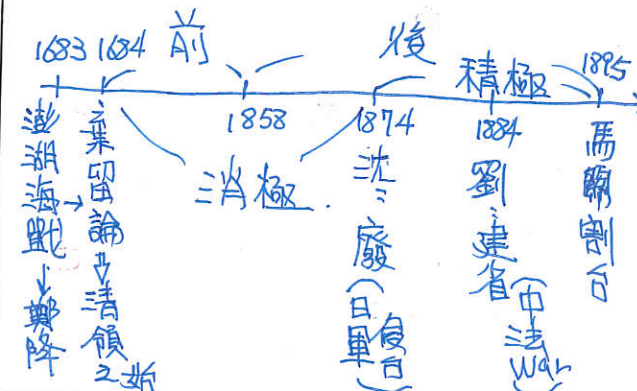


圖 1 圖 2



- (B) 13. 臺灣的行政區劃由圖 1 演變至圖 2，是受到哪一事件衝擊的結果？ (A) 1856 年的英法聯軍 (B) 1874 年的日本侵臺 (C) 1884 年的中法戰爭 (D) 1894 年的甲午戰爭。  
 (A) 14. 臺灣的行政區劃由圖 1 演變至圖 2，顯示出臺灣歷史的哪一種發展？ (A) 漢人移墾的禁令已告廢除 (B) 建省後統治政策轉趨積極 (C) 蓬勃發展的地方自治運動 (D) 日本殖民統治的基礎穩固。

- (B) 15. 一位英國商人第一次到淡水地區經商時，與當地商人發生衝突，但當地官署無法處罰他。七年後，這位商人再度來臺，企圖如法炮製，卻立刻被官署糾正、處罰。這位商人大概是在何時來臺？ (A) 1840 年臺灣開港通商前後 (B) 1895 年臺灣割讓日本前後 (C) 1915 年一次大戰爆發前後 (D) 1945 年日本戰敗投降前後。(95 學測)

清 1895 日  
 (總理各國事務衙門) (總督府外事部)

- (A) 16. 某人翻閱古書，看到一位任職臺灣的官員在 1820 年提出一份有關當地的報告。這份報告的主旨最可能包括下列何者？ (A) 彰化地區發生了兩派人馬的集體衝突 (B) 魚塢養殖的鰻魚豐收，外銷成果良好 (C) 當地父老聯名，請求官府改建火車站 (D) 糖廠安裝新式的蒸汽鍋爐以提高產能。(95 學測)

清領前期：械鬥 日治

- (B) 17. 朱一貴之亂後，康熙皇帝在上諭裡指稱：「臺灣止一海島，本地所產不敷所用，仰賴閩省錢糧養生。」關於這份上諭，以下哪一項說明較為合理？ (A) 當時臺灣生產力落後，人民生活窮困，需要福建接濟 (B) 當時國家控制下繳納賦稅的戶口不多，財政收入不足 (C) 這是清廷為了安撫鄭氏餘黨，給予大量物資作為酬庸 (D) 這是清初加強臺灣的建設，不足的經費由福建來支援。(95 學測)

消極日治，駐守官兵，由福建負責

- (B) 18. 學者根據清代兩次戶口統計資料，計算出清代臺灣北、中、南、東四個區域人口數如表一，其中哪一個是北部地區？ (A) 甲 (B) 乙 (C) 丙 (D) 丁。(95 學測)

表一

	嘉慶十六年(1811)	光緒十九年(1893)
東 甲	無資料	6,000 人
乙 北	258,000 人 3	767,000 人 2
南 丙	1,305,000 人 1	1,101,000 人 1
丁 中	342,000 人 2	622,000 人 3

開港後，逐漸北移

1858 開港



1919-1937 內地延長

(A) 19. 表二是 1926 年時臺灣的一項統計數字，這個表最適當的主題為何？(95 學測)

表二

	男	女	平均
日本人	98.3%	98.1%	98.2%
臺灣人	43.0%	12.3%	28.0%

(A) 臺灣適齡兒童就學情況統計 (B) 臺灣地區神道信徒人口統計 **台灣改信仰者極少**

(C) 臺灣地區成年人口就業統計 (D) 臺灣地區醫療照護保險統計

**台. 數字偏低 (同工不同酬)**

(A) 20. 劉銘傳擔任臺灣巡撫時，招募許多歐洲工程師來臺灣協助興建鐵路，架設電線。有位工程師覺得臺灣風土民情處處新鮮，將許多有趣之事向歐洲的親友報告，許多人也有親臨現場的感覺。他當時使用的方法最可能是：(A) 照相 (B) 錄影 (C) 繪圖 (D) 剪報。(95 學測)

1885-1891

1880 美伊斯曼 → 日治才引入台灣

(C) 21. 有一位臺灣原住民敘述他的家族史：「祖先原來住在群山萬嶺之中，但來了一群『新的統治者』，強迫族人遷移到較低海拔的地區，集中居住。生活環境改變了，族人一直受到瘧疾、霍亂等新疾病的侵襲，部落裡的巫醫全都束手無策。」這些「新的統治者」是指：(A) 荷蘭東印度公司官員 (B) 福建省臺灣府官員 (C) 臺灣總督府民政長官 (D) 臺灣省政府民政廳。(96 學測)

**消極土牛紅線 遷村管理 如清流部落**

(B) 22. 某官員批評：「自從決議要開山以後，蕃亂不止，已有十多年了，剿也無功，撫也無效。提到開墾，也沒有新增任何土地可以增加政府稅收。至於防守，只是為了富紳土豪保護茶寮、田寮、腦寮，而不能禁止『兇蕃』出草，每年浪費許多軍費。」這位官員批評的是哪個事件？(A) 清朝初期，施琅禁止粵移民來臺 (B) 清朝後期，劉銘傳主張開關山地 (C) 日據初期，日本總督要征討山地 (D) 國府遷臺，要開發山地增加糧產。(96 學測)

**A 消極治台 B 沈丁劉「開山撫番」 C、D 可禁止出草**

(A) 23. 一位美國總統宣示：「臺灣依《開羅宣言》及《波茨坦宣言》，早已於日本投降後交還中國。」他表示美國並無強占臺灣的意圖，也不想臺灣建立軍事基地，或干涉現狀；但宣示後不久，他又派艦隊進入臺海。導致這位總統政策轉變的最可能原因為何？(A) 蘇聯支持中共出兵朝鮮，破壞區域和平 (B) 中國成功進行核子試爆，引起美國疑慮 (C) 美國介入導致越戰擴大，威脅日本安全 (D) 限制核武擴散談判破裂，美蘇兩國反目。(96 學測)

(A) 24. 表一是 1912 年到 1921 年間有關臺灣的一項統計。這個表的主題應當為何？(96 學測)

表一 **特別統治 內地延長**

年度	1912	1913	1914	1915	1916	1917	1918	1919	1920	1921
百分比	6.63	8.32	9.09	9.63	11.06	13.14	15.71	20.69	25.11	27.22

(A) 適齡學童的就學率 (B) 家用電話的普及率 (C) 人口成長的年增率 (D) 日人占臺灣人口比。

**二戰後才逐漸普及 0.988% ~ 0.835% 0.08% → 0.32%**

(B) 25. 某一時期，有人指出：「臺灣物產豐富，有硫磺、蔗糖、鹿皮，原來缺少布帛，現也不虞匱乏」，建議政府善加防守。只要將內地的部分軍隊移防臺灣，便可確保臺灣及澎湖兩地，以確保東南數省之安全。這種想法的背景是：(A) 鄭成功被清軍打敗，轉移到臺灣的構想 (B) 施琅攻下臺灣之後強化臺灣防務的建議 (C) 劉銘傳於臺灣建省之後有關軍備的設計 (D) 甲午戰爭後日軍希望在臺灣殖民的想法。(97 學測)

**施琅〈恭陳台灣籌留論〉**

(C) 26. 表二為臺灣某時期人口數超過 1 萬人的都市。根據表中的資料推測，我們可以得知這項調查應於何時完成？(A) 1805 年 (B) 1850 年 (C) 1905 年 (D) 1950 年 (97 學測)

表二

地名	臺北	臺南	新竹	嘉義	鹿港	宜蘭	彰化	麻豆
人口數	50,773	50,000	17,827	17,281	17,273	15,104	13,539	10,027

**無高雄 1920 建港後興起**

(C) 27. 《嘉義縣採訪冊》記載了嘉義縣各地的開發過程、人口和田畝數、廟宇和風景名勝等資料，這是我們認識清朝統治時期較精確的數字資料。這本書中出現的數據與下列何者有關：(A) 施琅計畫攻打明鄭政權，調查南臺灣的地理環境 (B) 沈葆楨為了阻止日軍進攻，調查該地的軍事地形 (C) 劉銘傳為統治臺灣，改善財政，先進行相關調查 (D) 臺灣民主國唐景崧為了抵抗日本，從事國力調查。(97 學測)

**原名諸羅 林爽文事件**

**1858 開港後才逐步崛起 → 1858 ~ 1920**

**A. 時間不對 B 日軍入侵屏東石門 D 不曾發生**

(C) 28. 某一時期，臺灣的法律規定：「凡是向官府登記在案，並繳納稅金者，即可合法吸食鴉片。」但是具有「某種身分者」不准吸食，如供應這種人吸食工具者，皆處以死刑。這裡所謂「某種身分者」是指：(A) 原住民 (B) 荷蘭人 (C) 日本人 (D) 本島人。(97 學測)

**為了維護日人健康**

(D) 29. 一位在臺任職的官員向長官報告，指出：「為獲得『蕃地』的經濟利益，我們必須使用武力，沒收『蕃人』的槍枝，讓他們放棄狩獵生活，並強制將他們移居接近平地的河川地，從事農耕，以便加強控制。」這種觀點的歷史背景是：(A) 明鄭時期積極開發山地，以期對抗滿清 (B) 沈葆楨為了取得林業資源，開山「撫番」 (C) 劉銘傳為了樟腦利益，採行「撫番」政策 (D) 日本為掌握山地資源，控制「番地秩序」。(97 學測)

**同治題 遷村管理**

**(清代) 番 → (日治) 蕃**

(D) 30. 慎終追遠是漢人社會的核心價值，臺灣人也供奉祖先牌位，按時祭祀。但在某個時期，為了避免違反統治者的命令，必須設法將祖宗牌位藏起來。這種現象最可能發生在何時：(A) 1835 年 (B) 1886 年 (C) 1912 年 (D) 1943 年。(97 學測)

**皇民化運動 (1937 ~ 1945)**

**正廳改善**

(B) 31. 表三是 1905 ~ 1938 年臺灣的「米、糖、甘蔗」的價格變動與比率表，表中顯示出何種意義？(97 學測)

表三 **一戰 1922 礎永吉 蓬萊米**

年代	1905	1910	1915	1920	1925	1930	1935	1938
在來米價(圓/100斤)	3.33	3.67	3.58	10.98	10.68	7.08	9.08	9.92
蓬萊米價(圓/100斤)	/	/	/	/	14.37	8.81	9.98	11.35
甘蔗價格(圓/100斤)	/	2.779	4.138	10.59	7.118	4.50	4.09	/
糖/米價格比率(倍)	2.11	1.63	2.35	2.76	0.81	0.82	0.80	0.99

(A) 米糖價格變動反映了臺灣人消費習慣的改變 (B) 米糖價格變動趨勢說明臺灣經濟的殖民地化 (C) 臺灣稻米價格上漲，須進口稻米來平抑米價 (D) 臺灣稻米的產量倍增，造成米糖價格的波動。

**1. 殖民地政策 2. 配合母國政策**

(A) 32. 一位日本人寫一封信給在臺灣的友人，信封上標示的地址是「臺灣恒春郡海角七番地」。臺灣普遍擁有戶籍地址，和日治時期政府哪項建設事業有關？(A) 土地調查事業 (B) 蕃地調查事業 (C) 森林計畫事業 (D) 都市計畫事業。(98 學測)

**土地調查：**

**針對土地所有權、種類及使用情况進行調查及整理 → 戶籍地址**

**題目取材：電影 = 海角七號 2008/07 年上映**



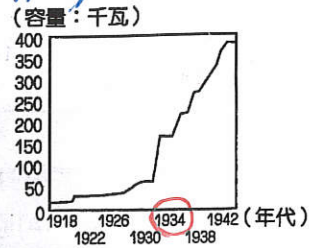
(C) 33. 一塊碑文寫道：「勘定朴仔籬處，南北計長二百八十五丈五尺，共堆土牛一十九個，每土牛長二丈，底闊一丈，高八尺，頂寬六尺；每溝長一十五丈，闊一丈二尺，深六尺。永禁民人逾越私墾。」這塊石碑最有可能是為確立何種地界而立？(A)荷治時期王田地界 (B)明鄭時期屯田地界 (C)清治時期漢番地界 (D)日治時期蕃地地界。(98學測)

題目取材：台中石岡土牛國小的「土牛民番地界碑」=土牛紅線(劃界封山)

(A) 34. 一名臺灣官員向朝廷報告：「臺地無源可開，但通其流，而源自裕。米穀不流通，日積日多……蓋由內地食洋米而不食臺米也。不食臺米，則臺米無去處，而無內渡之米船。無內渡之米船，則無外來之貨船。」依據你對東亞歷史的了解，文中的「洋」指何而言？「洋米」自何地輸入？(A)指南洋，由東南亞輸入 (B)指東洋，係由日本輸入 (C)指西洋，係由歐洲輸入 (D)指印度洋，由印度輸入。(98學測)

1842年中國五口通商後，引進東南亞米 (1850 白蠟道 徐宗幹) 的反映 (容量：千瓦)

(C) 35. 右圖為日本統治期間臺灣發電設施之設備容量變化圖。請問，使1930年代設備容量急遽增加的設施為何？(A)恆春的核能發電廠 (B)高雄的火力發電廠 (C)日月潭水力發電廠 (D)大甲溪水力發電廠。(98學測)



A 核三廠 1984 完工 B. 1955 年 (林蘭鹿城 安平古堡)

(B) 36. 有本臺灣地方志提及某地的築城：「他們蓋的城很小，根本就不能算是城……但他們有好的船隻，也善用火砲，所以雖然軍隊數量不多，但各地的原住民都聽命於他們。他們又在城外設立市場，福建沿海商人頻繁前來和他們貿易。」這應是哪一次的築城活動？(A)西班牙人在基隆地區築城貿易 (B)荷蘭人據臺時在安平地區築城 (C)鄭成功復臺後修築的承天府城 (D)英國人在淡水地區修築紅毛城。(98學測)

A. 貿易不順 C. 未與福建商人正面交流 D. 英國於清開港後建紅毛城 模大

(C) 37. 同學撰寫報告時，前往圖書館翻閱日據時期的舊報刊，無意間發現：從某個時期起，臺灣所有報刊裡的漢文欄目都消失了。這個現象最早可能發生於何時？(A)1905年 (B)1920年 (C)1937年 (D)1945年。(99學測)

小林躋造 = 皇民化、工業化、南進基地化

推行國語(日文) 廢漢文科考試

(C) 38. 監察御史來臺考察後，上奏建議：應在臺灣府以木為柵，保護官署，並在要衝處設置砲位，加強防守，相關工程交由臺灣縣知縣辦理。朝廷批示：實屬妥當，同意辦理，並嘉獎相關人員。這個事件的背景是：(A)鄭成功企圖攻打臺灣，荷蘭管理當局的計畫 (B)施琅攻下臺灣之後，為加強臺灣防務的處置 (C)朱一貴事件平息以後，雍正皇帝的治臺措施 (D)日軍借牡丹社事件攻臺後，福建巡撫的作為。(99學測)

康熙 禁築城 (朱) → 雍正 柵 (林) → 乾隆 磚造

(A) 39. 1830 年左右，臺灣的官員為了因應局勢，開始推動「聯莊」政策。他們編造「閑民冊」，又結合數個村莊，加以編組，實施「清莊聯甲」之法。這個政策的目的是：(A)防範遊民擾亂秩序 (B)抵抗西方國家進犯 (C)防範日本入侵臺灣 (D)削弱本地地主勢力。(99學測)

開港前 → 清領初期 法 War 牡丹社事件 劉銘傳 「減四留六」 羅漢脚

◎40~41 為題組

表一與表二是 1956 到 1986 年間臺灣四個都會區人口數與人口年成長率的資料。(99 學測)

表一 (單位：千人)

	1956	1966	1976	1986
甲	1,237	2,099	3,457	4,887
乙	608	977	1,546	1,954
丙	4,378	4,560	808	3,109
丁	426	599	780	972

表二 (單位：%)

	1956	1966	1976	1986
甲	6.1	5.3	4.4	3.6
乙	4.3	4.3	3.5	1.8
丙	—	3.7	3.6	3.1
丁	6.6	3.1	2.3	2.3

1945 重建 1953 進口替代 1960 出口擴張 1973 進口替代 1980 產業轉型 (美援) (外資) (內需: 大建設)

(B) 40. 表一的丙都會區最可能是：(A)臺北 (B)臺中 (C)臺南 (D)高雄。

1965 設加工出口區下 台中超越台南

(A) 41. 表二的甲都會區到 1980 年代以後人口仍維持較高成長率的主要原因為何？(A)經濟與社會發展，吸引大批人口移入 (B)政府推行鼓勵生育的新人口政策生效 (C)醫療資源發達，人口死亡率大幅降低 (D)為發展經濟，進用國外高級科技人才。

影響不大 未僅針對「甲」都會

(D) 42. 臺灣某報刊登一則啓事，招募 18 歲以上，小學校或公學校畢業的青年，加入「特設勞務奉公團」，前往南洋服務，這則啓事應出現於以下哪一時期？(A)日本占領臺灣初期 (B)第一次世界大戰前 (C)文官總督治臺時期 (D)推行皇民化運動時。(100學測)

南進政策

(C) 43. 某時期，臺灣當局邀請士紳前往「內地」參訪，不僅補助旅費，還安排他們參觀現代化設施，使其認識現代文明，以利統治。我們如何理解此一作法？(A)清朝領臺之初，以交流化解明遺民反清的意志 (B)劉銘傳治臺初期，讓士紳認識清廷的自強新政 (C)日本殖民之初，欲加強臺灣人民對日本的了解 (D)臺灣光復初期，要臺灣人民加速認識祖國文化。(100學測)

A. 清朝本身也未現代化 B. 台灣是互強運動的模範省 D. 比同期中國進步

(A) 44. 某時期中，臺灣當局對入港船隻課徵關稅，來臺漢人除繳納田租外，還須申請執照，繳交費用後才可打獵、捕魚；年滿 7 歲者，均須繳交人頭稅。發布這個命令的人應是：(A)荷屬東印度公司總督 (B)鄭氏時期的承天知府 (C)康熙年間的臺灣知府 (D)日據時期的臺灣總督。(100學測)

B. 無打獵執照 C. 未開港無關稅 D. 無打獵、捕魚執照，無頭稅

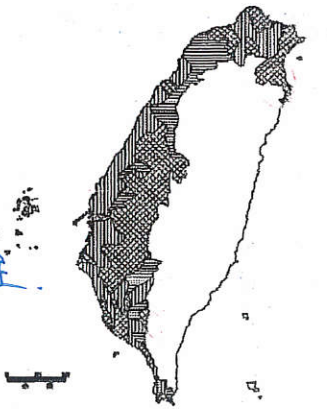
(D) 45. 某地方志記載：此地製茶工房林立，茶葉產期，茶行必須僱用許多女工，多則五六十人，少則二三十人，甚至有漳、泉婦女來此短期工作，每日工資四五錢不等。這本地方志最可能是：(A)《諸羅縣志》 (B)《彰化縣志》 (C)《臺東州志》 (D)《臺北府志》。(100學測)

茶 = 台開港後 種植於中、北部丘陵 大稻埕

(C) 46. 許多人為「改革臺灣省政」召開會議，通過組織大綱，以各縣市參議會為主體成立分會，提出高度自治、廢止煙酒專賣等主張，並與政府展開交涉。這個會議與下列哪一組織最為相關？(A)臺灣文化協會 (B)臺灣民眾黨 (C)二二八事件處理委員會 (D)美麗島雜誌社。(100學測)

A. B. 日台時期 台非「省」級單位 → 以選舉宣揚民主

(B) 47. 右圖是根據 1907 年前後臺灣某項統計資料所做的空間分布圖，這個地圖的主題最可能是：(A)稻作與甘蔗的分布 (B)閩粵各族群的分布 (C)瘧疾發生率的分布 (D)都市化程度的分布。(100學測)



川 沿海 三竹苗

泉 客

內陸

漳



(B) 48. 日本在臺灣殖民時期，有的糖廠會兼營水利設施。糖廠大多規定：凡使用灌溉溝渠的農民，須以甘蔗折價繳納，不收取現金或其他實物。糖廠採取徵收實物措施的目的為何？ (A) 農民缺乏現金，必須配合，收取實物 (B) 糖廠可掌握原料供應，以便控制蔗價 (C) 農民運輸不易，希望由糖廠代為銷售 (D) 糖廠為照顧蔗農，提供保證價格收購。(100學測)

日本經營糖業政策：以日本利益為首要考量，保護日資 → 指定原料採收區域  
 (B) 49. 一位民意代表主張：「今日臺灣發電條件豐富，政府應研究鐵路電氣化的可能性，其經濟效益可提高人民所得。」主管交通的官員答覆：「關於鐵路電氣化問題，美援會研究認為需再慎重，本案中央繼續研究中。」這位民意代表最可能是： (A) 1930年代，街庄協議會的議員 (B) 1960年代，臺灣省議會的議員 (C) 1980年代，立法院的立法委員 (D) 1990年代，國會中的國大代表。(101學測)

美援：1. 國共內戰於1948因情勢不利而中止，2. 韓戰時1950~1965 → 鐵路電氣化 1979完工  
 (C) 50. 一位作家呼籲：希望作家不要身處危難，卻仍然成天做著新式或舊式的鴛鴦蝴蝶夢。我們要關心現實，寫我們的現實，主要一點便是反買辦、反崇洋媚外、反分裂的地方主義。這段話反映哪個時期臺灣的文學思潮？ (A) 1950年代的反共文學 (B) 1960年代的現代文學 (C) 1970年代的鄉土文學 (D) 1980年代的浪漫文學。(101學測)

反對受西方影響的現代主義  
 (A) 51. 臺灣原本不產耕牛，主政者在南北兩路各設「牛頭司」，負責引進牛隻繁殖，以用於耕作。主政者並在各地修築水利設施，提供耕牛、農具與種籽；又大量招募「中土遺民」前來開墾。這是何時的情況？ (A) 荷蘭時期 (B) 清領初期 (C) 日治時期 (D) 戰後初期。(101學測)

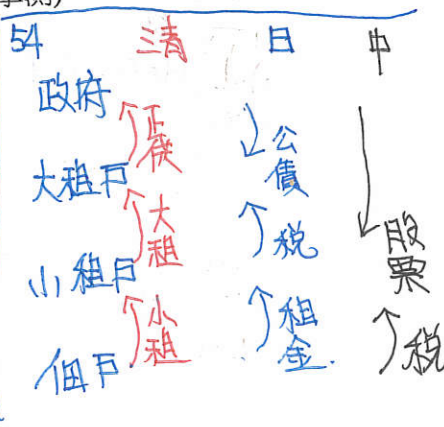
B、C、D皆未招募漢人來開墾，故極治白(渡台禁令)。C. 重心在改良品種。D. 土地分配上。  
 (A) 52. 日本軍方在一份布告書中說：「我軍所向，蕃人懾服。」但當要與清國議和之際，清國政府生出異議，未能立刻達成和議。「現在，兩國商議已決，即將接受清國請求而撤軍，並將該地人民交還清國。」這份布告書應當是： (A) 牡丹社事件後日軍的公告 (B) 日軍占領琉球之後的公告 (C) 甲午戰後日軍對臺的公告 (D) 日俄戰爭期間對東北公告。(101學測)

1874年，日軍侵台擊敗牡丹社，高士佛社。清廷派沈葆楨來台部署，與日本簽《北京專約》後，日本撤兵  
 (C) 53. 一份臺灣的考古報告記載：其居民主要住在水岸的稍高階地，已形成定居的小型聚落。他們使用石製的生產工具，如石鋤、石斧，種植根莖類的作物。這一文化分布地區廣及中國的閩南和廣東沿海。此文化遺址最可能是： (A) 長濱文化 (B) 網形文化 (C) 大坌坑文化 (D) 十三行文化。(101學測)

定居農耕 → 新石器。[舊石器時代] 廣及中國沿海 [金屬器時代]。  
 (C) 54. 近世臺灣開發以來，逐漸形成「大租戶——小租戶——佃戶」的土地所有與經營結構。某個時期，政府為了解決財政不足的問題，除了清查全臺土地，防止逃漏稅外，更以行政命令，剝奪某個層級地主的土地所有權，而以政府發行的公債以及現金作為補償。如此一來，政府得以向直接經營土地者徵稅，擴大徵稅對象，稅收也得以增加。這次土地所有權的變動最可能是指： (A) 鄭成功實施屯田制 (B) 劉銘傳行減四留六法 (C) 日本取消了大租權 (D) 國民政府三七五減租。(101學測)

A. 軍屯。B. 劉銘傳本欲將地權歸小租戶，引起反彈後，改用減四留六(施九殺事件)。D. 租金上限 37.5%  
 (C) 55. 臺灣總督在就職時指出：「本政府統治方針本於『臺灣為帝國領土之一部』的精神。我們應當啟發臺人之智能德操，使其感受朝廷一視同仁的美意，希望醇化臺人，使其與內地人融洽相處，進而使臺灣與內地無異。」這位總督最可能是：(102學測)

(A) 1895年接收臺灣，鎮壓抗日的樺山資紀 → 武力鎮壓  
 (B) 1902年肅清「臺地匪亂」的兒玉源太郎 → 特別統治  
 (C) 1919年結束軍事統治的文官總督田健治郎 → 內地延長  
 (D) 1936年推動臺灣進入戰時體制的小林躋造 → 皇民化



(C) 56. 一首讚美臺灣風情的歌謠說：「海岸線長山又高，處處港口都險要。四通八達有公路，南北是鐵道，太平洋上最前哨，臺灣稱寶島。」介紹物產時指出：「四季豐收蓬萊稻，農村多歡笑，白糖茶葉買賣好，家家戶戶吃得飽。鳳梨西瓜和香蕉，特產數不了，不管長住和初到，同聲齊誇耀。」這首歌謠創作的背景最可能是：(102學測)

(A) 1890年代，臺灣慶祝第一條鐵路通車典禮 (B) 1910年代，日本總督府完成縱貫鐵路建  
 (C) 1950年代，臺灣實施經濟改革，漸有成效 (D) 1980年代，中共統戰歌謠，爭取臺灣民心。  
 蓬萊米 1922 磯永吉改良 → AB刪去。C. 1950. 土地改革 + 進口替代。

(D) 57. 下表為1910年到1940年間臺灣人口的統計資料。表中丙、丁代表的族群分別是：

年份	甲族群 (萬)	比率 %	乙族群 (萬)	比率 %	丙族群 (萬)	比率 %	丁族群 (萬)	比率 %	總計 (萬)
1910	306	92.9	1.48	0.4	12.2	3.7	9.8	3.0	329.9
1920	343	91.4	2.48	0.7	13.0	3.5	16.6	4.4	375.7
1930	425	91.0	4.66	1.0	14.0	3.0	23.2	5.0	467.9
1940	552	90.9	4.61	0.8	15.8	2.6	34.6	5.7	607.7

(A) 丙為臺灣人、丁為原住民 (B) 丙為外國人、丁為臺灣人 (102學測)  
 (C) 丙為日本人、丁為外國人 (D) 丙為原住民、丁為日本人。  
 甲：絕對多數 → 漢人。乙：人數極少 → 外國人。丙：變化少 → 原住民。丁：逐年增加 → 日本人

(A) 58. 某一時期中，一位政治人物表示：臺灣經濟仍以農業為主，農民占人口總數60%以上，而佃農戶約占總農戶總額的68.8%。如想要社會安定，經濟發展，必須實施此項新政策。此項新政策應是： (A) 三七五減租 (B) 漲價歸公 (C) 土地國有 (D) 肥料換穀。(103學測)

A 設定地租上限，穩定農村秩序。孫文「平均地權」理想，未實施。以農業培養工業。  
 (D) 59. 一份民間刊物針對臺灣當時的政治現況提出幾點呼籲，包括：政府應依據憲法行政、總統不可擴權、總統不應連選連任；政府應保障基本人權、反對國民黨一黨專政，要求政府應當准許成立其他政黨；以及軍隊國家化。這份刊物最可能是：(103學測)

(A) 1910年代的《新青年》 (B) 1920年代的《臺灣青年》  
 (C) 1920年代的《臺灣民報》 (D) 1950年代的《自由中國》。  
 B、C. 日治時期雜誌，表達台人政治要求。 → 雷震：不滿蔣中正又連任總統

(C) 60. 某一時期中，臺灣某地曾經發生官民衝突，事件平定後，政府不僅嚴厲處分參與者，也連帶處罰其左鄰右舍，科以相當於一個工人半年工資的高額罰款。這種情形最可能發生於： (A) 荷蘭統治時期，因漢人人數較多，荷蘭人欲以連坐法威嚇 (B) 清朝統治時期，因財政短缺，欲以高額罰款彌補軍費不足 (C) 日本統治時期，為壓制臺民反抗政府，乃採行保甲連坐制 (D) 政府遷臺之後，為阻止共黨勢力蔓延，乃實施保甲連坐制。(103學測)

保甲防諜，課以刑責而非罰金。  
 (A) 61. 幾位同學考察「臺灣考古遺址分布圖」時，發現臺灣西部海岸很少有新石器時代遺址，各人紛紛推測造成這個現象的原因，下列哪個說法最合理？(103學測)

(A) 西部人口稠密，開發過速，遺址遭破壞殆盡 (B) 二次大戰時，美軍轟炸臺灣，遺址遭到破壞 (C) 西部海岸河口沙洲發達，史前人類活動困難 (D) 因斷層經過，地震頻繁，史前人類無法定居  
 與遺址形成無關。未造成此現象。



(C) 62. 瑞芳的金瓜石曾有座戰俘營，關押了一千多名來自英、美、加拿大等國的戰俘，被迫採掘銅礦。因為生活與工作條件都差，醫藥又不足，不少戰俘命喪於此。這些戰俘的來源應是：  
 (A) 1860年英法聯軍之役中被俘虜的官兵 (無美、加軍隊)  
 (B) 1914年日本與德國開戰時俘虜的戰俘 (日與英法同陣營，美尚未參戰)  
 (C) 1942年日本在東南亞戰區俘虜的戰俘 (太平洋戰爭期間，日 vs 英美)  
 (D) 1972年越戰期間臺灣收容的各國戰俘。(103學測) (自與美屬同陣營)  
 日軍於1942-1945年，於金瓜石設立「捕虜監視所」，又稱「凸鼻仔寮」。

(A) 63. 中共史家對臺灣歷史上的重要人物施琅有頗多研究。1980年以前，這些史家稱施琅為「背叛明朝，投降滿清的漢奸」；1980年以後，改稱施琅「事親至孝，接受儒家薰陶」，是一位正面人物。他們對施琅評價轉變的最合理解釋是：(103學測)  
 (A) 學者依當局政策，調整歷史解釋立場 (B) 引用西方觀點，拋棄道德史觀的框架  
 (C) 發現新史料，得以重新評估施琅功過 (D) 學術交流後，認同臺灣學者觀察角度。  
 1980之前，中共推崇，象徵「解放台灣」的戰成功。1980之後，因中美建交，改主張「和平統一」。

(B) 64. 十八世紀中，閩南移民來臺後，多聚族而居；同姓之人，常共同興建祠堂，以強化關係。這種現象足以說明清代臺灣漢人社會的哪一項特色？(103學測)  
 (A) 移墾社會重視地緣關係 (B) 傳統宗族強調血緣連結 A、D 屬地緣  
 (C) 弱勢移民強調團結合作 (D) 原鄉信仰深入移民社會。  
 移民以祭祀同姓祖先來凝聚向心力。唐山祖 → 開台祖 重血緣連結。

(A) 65. 日本統治臺灣初期，總督府認為男性留辮、女性纏足都為陋習，企圖禁止，但成效不彰。然而一段時間後，臺灣人民卻開始剪辮、放足，成為風潮。殖民官員檢討，認為這股風潮並非總督府的政策收效，而是受到其他因素影響。這位官員所指的因素最可能是：(103學測)  
 (A) 辛亥革命推翻滿清政權 (B) 威爾遜提倡的民族自決 A 1912, B 1918  
 (C) 蔣中正推動新生活運動 (D) 七七事變引發中日戰爭。 C 1934, D 1937  
 1900台北紳士提倡放足 → 1914各地成立風俗改良會 → 1915日本明令禁纏足留辮。

(A) 66. 考古發掘顯示，臺灣早期人類原本有佩帶玉製飾品的習俗，距今將近兩千年前，開始出現各式玻璃、貝類珠串，其形制與東南亞海域各地居民之用品類似。近兩千年前臺灣出現玻璃與貝類飾品的主要原因是：  
 (A) 海外貿易讓許多商品流入臺灣 (B) 玉礦枯竭，改以其他材質取代 (C) 臺灣居民征服他地所獲戰利品 (D) 新宗教傳入後，改變原有習俗。(104學測)  
 B. 未枯竭，B. 雖有部族戰爭，但未遠在東南亞。D. 仍為原始信仰。

(A) 67. 清中葉時，一位臺灣官員指出：臺灣科舉考試常有出人意料的狀況，例如政府公告考期之後，往往有福建漳、泉兩府的考生渡海來臺，報名參加考試。這些考生趕往臺灣報名應試的動機是：  
 (A) 臺灣設有保障名額，較易中舉 (B) 臺灣考官腐敗，較易賄賂舞弊 (C) 在臺灣任官，薪水較內地優渥 (D) 臺灣物價較廉，來臺花費較低。(104學測)  
 A. 設有台內特例錄取。B 考場在福建。C. 迴避本籍。D. 台內用品來自中國較貴。

(B) 68. 1620年代，荷蘭西印度公司在今紐約市曼哈頓島上建立一座城堡，以保護移民與商人。同一時期，荷蘭東印度公司亦在臺灣建立城堡，作為貿易據點。荷蘭人在曼哈頓與臺灣建立據點的動機之一，是蒐購這兩個地方都出產的一種商品，以供歐洲市場之需。這種商品是：  
 (A) 香料 (B) 獸皮 (C) 棉布 (D) 蔗糖。(104學測)  
 東南亞 白鹿皮 北美 北美 台。

(C) 69. 歐洲某國外交官員向其駐在國政府遞交一份文書，要求該國政府命令臺灣地方官員嚴辦士紳騷擾、侵害教士案件，並要求賠償禮拜堂房屋與家具損失。這份文書最可能出現於何時？  
 (A) 1830年代，英商務監督照會福建巡撫 (B) 1850年代，法國領事照會臺灣府知府  
 1860年代，英駐華公使照會總理衙門 (D) 1910年代，法駐日公使照會日本政府。(104學測)  
 1858台灣開港 [1868樟腦事件：英商必鹿其鹿走私 → 三清因禁 → 英軍相繼安平 → 清開放樟腦專賣、傳教自由]

(C) 70. 官方調查指出：近來有農民因經濟困難或希望獲取高利，乃用訂立假借據的方式，以借款抵押名義，將政府放領的土地轉售給其他地主；更有人私自將耕地改建成店面，出租牟利，這種行為大大影響政府政策的效果。官方調查所指的政策應是：  
 (A) 減四留六 (B) 三七五減租 (C) 耕者有其田 (D) 發展精緻農業。(104學測) → 與土地無關 稅制  
 1953 為避免租佃關係讓中共有機可趁，限制地主保留水田三甲，旱田六甲，餘由政府徵收。

(A) 71. 民國50年代，中華民國政府開始推動「外交下鄉，農業出洋」的國際合作計畫，邀請非洲友邦領袖來臺參訪農村，也派出農業專家與援外技術團隊到非洲。這個計畫的主要目的是  
 (A) 爭取非洲國家支持中華民國在聯合國的席位 (B) 開發當地天然資源，供應中華民國所需原料 (C) 輸出民主制度，促進非洲當地政治的現代化 (D) 推廣中華民國成功經驗，體現儒家學說價值。(105學測) B、C、D 題目僅提到農業技術。  
 → 1960(民國50)年代：非洲新興國家相繼獨立。

(D) 72. 臺灣總督府發布命令，強制收購輸出的蓬萊米，收購價格比市場價格低一、二成左右，但又高於島內主要消費米的在來米價。這道命令的主要目的是  
 (A) 維護臺灣人食用在來米的文化傳統 (B) 官方訂定價格，維護臺灣農民權益 (C) 增加稻米輸出，確保總督府的收入 (D) 管控輸往日本的稻米數量以及價格。(105學測)  
 1. 低價收購 賺取價差 2. 高於在來米 確保輸出。

(B) 73. 歷史記載：「金娘，下淡水番婦，習符咒，為人治病。大軍攻鳳山時，聘請她為軍師。臨陣作戰時，要她唸符咒，祈求神佑。」後來大軍攻破鳳山城，大家都說金娘立了大功，被封為「一品柱國夫人」。金娘後遭生擒，送往北京。金娘參與的是  
 (A) 鄭成功抗清 (B) 林爽文事件 (C) 乙未抗日軍 (D) 二二八事件。(105學測) → C、D 不會送往北京  
 下淡水 = 屏東。B. 林爽文由台中攻入鳳山。A 鄭成功僅在鳳山在臺。

(D) 74. 1920年代，一位人士在法院受審時的答辯書中指出：製糖會社極盡榨取蔗農們的膏血，以致農民赤貧如洗；會社中的勞動者，一日勞動的報酬，不能維持家計，其慘澹的生活，令時常目擊的我，感到無限傷心，為此決定加入組織奮鬥。文中這位人士所提到的問題最主要是：  
 (A) 家庭的崩潰 (B) 司法的迫害 (C) 族群的矛盾 (D) 經濟的剝削。(106學測)  
 題幹出自簡吉「台灣農民組合」遭總督府查禁後的答辯。

(B) 75. 某一時期，政府為了吸收民間存款，特別制定〈臺灣省各行庫舉辦優利儲蓄存款辦法〉，規定每次存入金額不得低於新臺幣300元，存期不得少於1個月，利率為月息7分（即每百元每月7元，年利率為84%，按複利折合年率為125.08%）。這個政策實施之後，儲蓄風氣盛行，物價上漲的速度立刻減緩。這種政策的背景是：  
 (A) 1946年，政府因國共內戰需軍費，以高利率吸收民間存款 (B) 1950年，政府積極壓抑通貨膨脹，建立民眾對新臺幣信心 (C) 1951年，政府籌募公地放領的經費，高利率吸引民間資金 (D) 1971年，政府陸續推動大型交通建設，急需民間資金挹注。(106學測)  
 A. 國共內戰：通膨嚴重。  
 B. 公地放領：釋放自有農地。  
 D. 十大建設：向外國低利貸款資金，發行公債。



(A) 76. 附表是1951年到1961年間臺灣農戶數百分比的統計表格，我們如何理解這段期間臺灣農戶資料的變化？  
 (A) 實施耕者有其田政策的成果 (B) 工業發展，使半自耕農減少 (C) 肥料價格上漲，自耕農棄耕 (D) 政府不斷鼓勵佃農放棄農業。(106學測)

時間	自耕農	半自耕農	佃農
1951	38	25	37
1953	55	24	21
1955	59	23	18
1957	60	23	17
1959	62	23	15
1961	65	21	14


減少

(A) 77. 一位淡水海關稅務官員的報告中提到：臺北盆地修築了城牆，也蓋了新的衙門，又透過丹麥電氣工程師的協助，衙門裡裝設了電燈，各主要街道也架起了電燈。判斷這份報告在1880年代的主要依據是：  
 (A) 修城牆、電燈 (B) 海關、外國顧問 (C) 新衙門、海關 (D) 外國顧問、街道。(106學測)

(B) 78. 東北亞地區發生衝突之際，一位美國官員建議其政府，應當採取具體措施援助臺灣。他指出：「保衛臺灣人民利益及維護太平洋地區和平與安全的計畫，如果僅由聯合國推動，不可能有任何效果。只能由美國提這種方案，才會符合各方期待而且有效。」此人說話的時機最可能是：  
 (A) 1947年，臺灣發生動亂，美國計畫穩定臺灣局勢 (B) 1951年韓戰爆發之後，美國決定強化其東亞政策 (C) 1971年我退出聯合國時，美國努力安定臺灣民心 (D) 1978年底中美斷交時，美國要保障其在臺灣利益(107學測)

◎照片 4 甲是臺灣某地公廨改建的「太上龍頭忠義廟」；照片 4 乙是該廟的內部。祭壇供桌上有香爐、供花、長年燈和五個包裹紅色綢布的祀壺等，兩側還有稱為向缸的大水缸。請問：

(B) 79. 「祭壇供桌上的祀壺和兩側的向缸」，和下列何者關係最密切？  
 (A) 客家移民崇祀三山國王 (B) 平埔族群信仰的阿立祖 (C) 科舉考生祭拜文昌帝君 (D) 沿海漁村供奉媽祖娘娘(107學測)



照片 4

阿立祖：西拉族對祖靈的稱呼。  
 西拉雅族分布於台灣南部，有「拜壺民族」之稱。

○明清之際，移民臺灣的漢人多來自漳州、泉州、嘉應州、潮州和惠州等地區。圖7是根據1926年《臺灣在籍漢民族鄉貫別調查》的資料，以街、庄為單位繪製的「祖籍優佔區」分布圖。祖籍優佔區係指某一祖籍人口佔該地總人口比例最高的地區。(107學測)

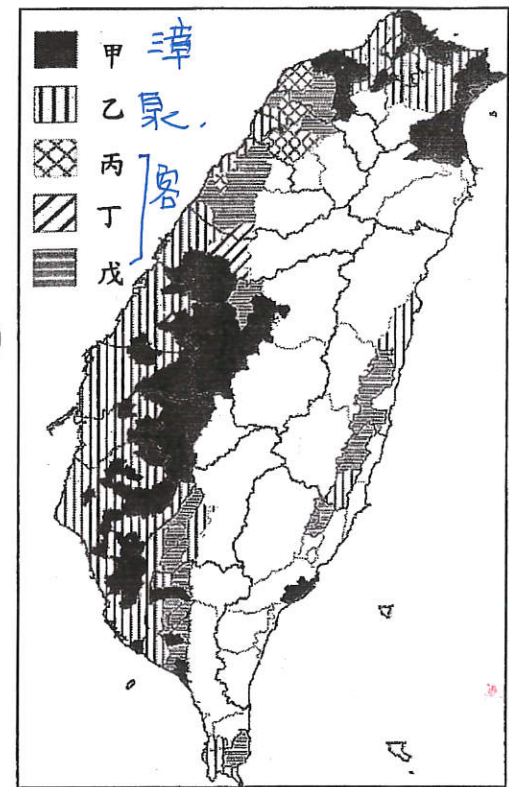


圖 7

(A) 80. 圖7 中哪個圖例，最可能代表漳州人的優佔區？  
 (A) 甲 (B) 乙 (C) 丙 (D) 丁

(B) 81. 清代某地方志對民間王爺信仰有如下記載：「各坊里社廟，以王公大人稱者甚夥...廟宇大小不一，神像俱雄而毅；...王誕之辰，設王醮二三晝夜，謂之送瘟。造木為船，糊紙像三儀仗...告牒畢，乃奉各紙像置船中...推船入水順流揚帆而去則已。」該王爺信仰在哪祖籍優佔區最為普遍？  
 (A) 甲 (B) 乙 (C) 丙 (D) 丁

王爺信仰：燒王船，象徵驅趕瘟疫。  
 → 瘟疫盛行於西部沿海濕熱地區。

(D) 82. 下表為臺灣自民國 55 年到 60 年某項資料。這項資料最可能是：  
 (A) 農業生產占全國生產總值的比例 (B) 農村地區電力照明設備的普及率 (C) 美援麵粉成為國民主食的普及率 (D) 小學畢業生進入初(國)中的比例

A. 1950年代，以農場養工農業生產↓  
 B. 1950年代，鄉村電氣化，電力普及 99.7%  
 C. 米飯仍為主食。

年代(民國)	%
55年	58.95
56年	62.29
57年	74.66
58年	76.04
59年	79.81
60年	81.39

+3.34  
 +12.37 → 民57(1968)  
 +1.38  
 +3.99  
 +1.58  
 九年國民教育實施條例

(D) 83. 一件史料記載：淡水廳某士紳因與佃農發生糾紛，乃強制將佃農耕種的田地收回，另行轉租給別的佃農耕種，以致激起民間鬥殺；該士紳還招募壯勇四出焚搶。朝廷認為該士紳為富不仁，目無法紀，下令閩浙總督將該士紳革職逮捕，押解到省城嚴行審辦。該史料記載的事件最可能是：  
 (A) 民眾發動反清復明的民變 (B) 天地會領袖發動抗清行動 (C) 客家居民組成的抗日行動 (D) 地方人士參與的分類械鬥(108學測)

A. B 民變

(C) 84. 下列哪些臺灣鄉鎮市區級地名的變遷，最能反映解嚴後政府及社會對多元族群及其文化的尊重態度？  
 (甲) 吉野→吉安；(乙) 三民→那瑪夏；(丙) 番社→東山；(丁) 吳鳳→阿里山；(戊) 紅毛→新豐。(A) 甲乙 (B) 甲丙 (C) 乙丁 (D) 丁戊(108學測)

甲：去日本化。  
 乙：原住民族認同意識。  
 丙：以東側有山，更名東山。  
 丁：對吳鳳神化的反思，「捨身教化」原住民？  
 戊：「紅毛」荷蘭人登陸地點為名。



85-86為題組


◎ 史料記載：某年1月11日，駐守臺灣的長官率領353人分乘3艘戎克船從位於臺灣南部的政治中心出征。船隻沿海岸向南航行時，兩艘船隻觸礁，損失一些食物。軍隊乃在島嶼西岸下船整補，從陸路越過山脈到島嶼東岸。在東岸某村社整補兩天後，沿海岸線北上，攻擊山區另一村社，達成出征目的後才撤軍，並再度越過山脈返回島嶼西岸。軍隊在海邊某村社露宿時，曾受當地社民以米飯、豬肉和雞肉款待。請問：(108學測)

- (A) 85. 根據題文資訊及歷史知識推論，該史料最可能描述的是：(A) 荷人至東臺灣探金與原住民引發衝突 (B) 明鄭時期屯墾時和大肚王國發生衝突 (C) 清福建水師提督到東部追擊海盜蔡牽 (D) 日本警察與阿美族衝突的七腳川事件

- (A) 86. 從史料內容可看出當時「村社」社會的哪一特徵？(A) 某些村社應已經發展出稻作農業 (B) 部分村社間已建立軍事同盟組織 (C) 不同村社間已有穩定的貿易關係 (D) 村社的土地制度屬於部落共有制

87-89為題組

◎ 臺灣各地聚落廟宇甚多，規模不一，其門柱均附有對聯，揭示廟宇地點、主祀神及價值規範等相關訊息。照片是四個不同聚落廟宇的立面照，照片下方是該廟大門兩側門柱的對聯，其中照片甲對聯中「鯤鵬」是「傳說中奇大無比的神鳥」；照片乙對聯中「鯤瀛」是「海邊的新家園」之意。請問：(108學測)

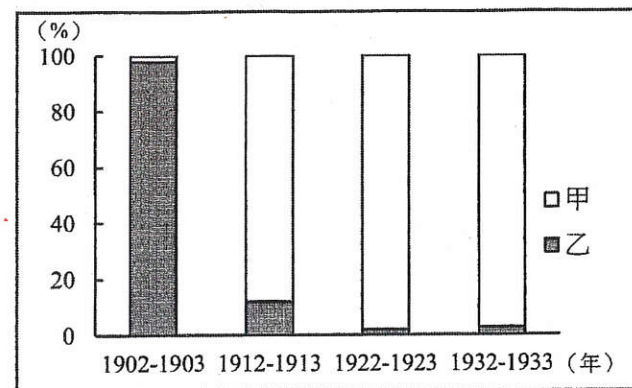


- (D) 87. 哪座廟宇的所在地，早期血緣聚落色彩最為濃厚？(A) 甲 (B) 乙 (C) 丙 (D) 丁
- (B) 88. 從廟宇的主祀神判斷，哪座廟宇所在聚落的清代漢移民，主要來自福建漳州府？(A) 甲 (B) 乙 (C) 丙 (D) 丁
- (A) 89. 歷史傳統上常常將國家概念與王權或天下連結，並強調人民對國家的義務。下列四座廟宇中，哪座廟宇的門柱對聯最能顯示此種傳統的國家與人民關係？(A) 甲 (B) 乙 (C) 丙 (D) 丁

- (A) 90. 學者評論戰後臺灣三七五減租，認為：推動減租並非只是時任臺灣省主席陳誠施政理念的落實。由於三七五減租是在中美聯合機構——中國農村復興聯合委員會的協助下展開，所以它也可視為是美國在東亞，從日本、韓國到菲律賓，推動的一連串土地改革之一環。亦即，土地改革是特定條件下推動的政策，其政治性超越經濟性。就此評論來看，這位學者所強調的三七五減租之目的最可能是：(109學測)

- (A) 防堵共產勢力擴張 (B) 創造土地最大效益 (C) 改善臺灣產業結構 (D) 避免資本主義盛行

- (A) 91. 附圖是1902~1933年間，臺灣甲、乙兩類數量的比率變化。圖中的甲、乙分別是指：(109學測)



- (A) 甲：新式糖廠；乙：舊式糖廠 (B) 甲：歐美洋行；乙：傳統行郊 (C) 甲：新式學校；乙：傳統私塾 (D) 甲：漢人街庄；乙：蕃人部落

- (D) 92. 相同的時代烙印往往造就了一個歷史世代，例如稱二次大戰結束後不久出生的人為「嬰兒潮世代」，又如稱民國五〇年代出生的人為「五年級」。學者研究1920到1930年間出生的臺灣仔，他們在成長期間接受國家提供的軍國教育，而「玉碎」（全滅）、「散華」（陣亡）、「若櫻」（年輕軍人）、「赤紙」（召集令）等詞彙更成為他們共同的詞語。根據這些共同的詞彙及其成長年代，最能貼切反映這個世代的稱呼是：(109學測)
- (A) 現代化世代 (B) 工業化世代 (C) 反傳統世代 (D) 戰爭期世代

◎ 出生在南投的詩人陳千武，在二次大戰期間曾以「志願兵」的身分參與戰事；這段經歷成為他創作〈信鴿〉一詩的靈感。此詩的最後一段寫道：

我回到了，祖國  
我才想起  
我底死，我忘記帶了回來  
埋設在南洋島嶼的那唯一的我底死啊  
我想總有一天  
一定會像信鴿那樣  
帶回一些南方的消息飛來  
根據上述內容，請問：



(D) 93. 陳千武在參與戰爭時，最可能遭遇過下列哪種經歷？(109學測)

地理

- (A) 持續橫越高山相間的縱谷，勇渡河水，無懼奔流入海的長河
- (B) 無畏不斷吹襲而來的黃沙，頂風前行，不管是綠洲還是蜃樓
- (C) 緊盯草原深處的覓食獅群，匍匐前進，緊握槍枝並眼觀四方
- (D) 穿越一片茂密的熱帶雨林，披荆斬棘，開闢出一條林間小徑

(B) 94. 關於當時臺籍「志願兵」的討論，下列何者正確？(109學測)

- (A) 在志願兵實施以前，臺灣人即有服兵役的義務 *1942 志願兵 1945 徵兵*
- (B) 志願兵是皇民化運動中，戰爭動員的一種方式
- (C) 志願兵沒有條件限制，只要願意為國犧牲即可 *有年齡(17+)限制 體格須標準*
- (D) 考量地緣及民族因素，志願兵大多被派往華北 *無前科 須具家調查*

◎十九世紀前期，張三從寧波來艋舺採購樟腦，計畫運回浙江、上海銷售，同時也運來綢緞、布帛等貨品來臺銷售。請問：(109學測)

(B) 95. 張三最可能委託下列哪個組織運送這批貨物？

- (A) 東印度公司
- (B) 北郊
- (C) 怡和洋行
- (D) 三井會社

◎資料一：屏東種植紅豆的農民，過去為避免鳥害造成農損，會利用毒餌造成小型鳥類死亡，進而導致檢食的老鷹跟著中毒。近來因維護生態環境，農夫改變耕作方式，在播種期不毒鳥、採收時不用落葉劑，以新創農業的方式建立「老鷹紅豆」品牌以及產銷履歷。雖然生產紅豆的成本上升，但有效提升消費者對產品的評價，使市場銷售價格與數量都大幅提升。老鷹紅豆的製作地區主要在屏東東港和萬丹一帶。

資料二：萬丹聚落形成於明末，曾在清代民變中扮演重要角色，朱一貴事件時，粵籍義民即在「萬丹社」的上帝廟誓師起義。「社」在清代一般是指「熟番」村落，但並非自古如此。例如，鄭氏時期，主政者推行屯田，就會用「社」作為屯墾村落之名；當時的軍備圖則分別以「番社」和「民社」來標示「番」、「漢」聚落。在清朝治臺初期的地圖中，即有「後勁社」、「左營社」等和「熟番」無關的村落名，「萬丹社」也是如此。

根據上述兩則資料，請問：

(C) 96. 我們一般認為「社」是指「熟番」村落，但萬丹「社」的出現，顯然提供了另一種看法。就題文來看，萬丹社的例子最適合從下列哪一歷史脈絡來解讀？(109學測)

- (A) 粵民開發與熟番地權的關係
- (B) 義民形象被塑造的演變過程
- (C) 鄭氏在當地開發的歷史痕跡
- (D) 民間信仰與地名命名之關聯

我們必須咬緊牙關，全力以赴去做一件事情；

否則，我們將一事無成。—A.H.



## 二、中國史(共 161 題)

(B) 1. 今人研究中國古史，多有「傳說時代」的觀念，某學者說：「從現在的歷史來看，只有到殷墟時代，才能算作進入了狹義的歷史時代。」此處所謂「狹義的歷史」是指「信史」。這位學者的意見反映了二十世紀中國歷史學家的史學方法，請問這位學者以殷墟時代為「傳說時代」與「信史」間之分野的理由何在？

- (A) 因為中國文獻中沒有關於殷墟時代以前的記載，故只有憑藉殷墟甲骨文的出土，我們才能得知商以前的歷史
- (B) 雖然中國文獻中有許多關於殷墟時代以前的記載，但學者認為必須配合地下文物的出土，才能被證明為信史
- (C) 中國的考古發現中最早文物出自殷墟，且歷史研究的唯一根據是地下出土的文物，故中國的信史始自殷墟
- (D) 中國文化淵源於殷商文化，在殷墟時代以前的歷史多非中國文化，故不是中國史的一部分。(91 學測)

(A) 2. 一位先秦思想家的著作中有〈禮論〉一篇，說明「禮」的起源是因為人各有所欲求，故彼此爭奪，結果發生亂事，於是統治者才制定「禮義」，以確立每個人應遵行的分際。請問這本著作是：

- (A) 《荀子》禮
- (B) 《墨子》兼愛
- (C) 《韓非子》法
- (D) 《莊子》逍遙

(C) 3. 某一本歷史著作有如下的敘述：「在萬曆的祖父嘉靖皇帝以前，大學士為三至六人，皇帝可能對其中一人諮詢較為頻繁，但從名義上說，他和另外的幾位大學士仍處於平等的地位。這以後的情況發生了變化，張居正名為首輔或稱元輔，其他大學士的任命則出於他的推薦，……」請問其所指的制度為何？

- (A) 漢代內外朝
- (B) 唐代三省制
- (C) 明代內閣制
- (D) 清代八旗制度。(91 學測)

(B) 4. 有一項法令規定：禁止隴西李氏、太原王氏、滎陽鄭氏、范陽盧氏、清河崔氏等當今政治上顯赫的家族之間彼此通婚。請問該法令頒布的時代可能是：

- (A) 漢代
- (B) 唐代
- (C) 元代
- (D) 清代。(91 學測)

(B) 5. 在一份與戶籍登錄有關的古文書記載：「戶主余善意，年二十二歲，……擁有二十畝永業田，二十八畝已受，七畝口分田，總計應受田一頃六十一畝，一畝居住園宅，一頃三十三畝未受……。」請問這份文書反映的制度為何？

- (A) 王莽的王田制度
- (B) 唐代的均田制
- (C) 北宋的青苗法
- (D) 明代的一條鞭法。(91 學測)

(C) 6. 張三編寫的歷史劇「十七世紀商人李生傳奇」，被學者批評其史實錯誤連連。劇中有以下幾段情節，請依據歷史知識判斷，哪一個選項依據的是正確的史實？

- (A) 李生到長安做生意，他選擇了位在長安城南，面對長安大街的住家，並改裝為店面
- (B) 接著李生來到蘇州，蘇州城內會館林立，李生在會館內認識了許多同鄉
- (C) 後來李生在廣州經營奇珍異寶的貿易，接觸的商人包括阿拉伯人，聽到許多阿拉伯軼聞
- (D) 最後，李生來到漳州，經營海外貿易，將中國的絲織品運往呂宋島銷售。(91 學測)

(A) 7. 自鴉片戰爭以後，中國知識分子多主張「師夷長技」以改革中國，而不同時代的知識分子認識的西方「長技」卻有不同。中國欲效法的西方長處，依時間先後順序排列，下列何者適當？

- (A) 器物→政治制度→西方思潮
- (B) 器物→西方思潮→政治制度
- (C) 宗教信仰→政治制度→西方思潮
- (D) 政治制度→宗教信仰→器物。(91 學測)

魏源《海國圖志》  
是書何以作？  
曰：為以夷攻夷而作，為以夷款夷而作。  
為師夷長技以制夷而作。