

(D) 93. 陳千武在參與戰爭時，最可能遭遇過下列哪種經歷？(109學測)

地理

- (A) 持續橫越高山相間的縱谷，勇渡河水，無懼奔流入海的長河
- (B) 無畏不斷吹襲而來的黃沙，頂風前行，不管是綠洲還是蜃樓
- (C) 緊盯草原深處的覓食獅群，匍匐前進，緊握槍枝並眼觀四方
- (D) 穿越一片茂密的熱帶雨林，披荆斬棘，開闢出一條林間小徑

(B) 94. 關於當時臺籍「志願兵」的討論，下列何者正確？(109學測)

- (A) 在志願兵實施以前，臺灣人即有服兵役的義務 *1942 志願兵 1945 徵兵*
- (B) 志願兵是皇民化運動中，戰爭動員的一種方式
- (C) 志願兵沒有條件限制，只要願意為國犧牲即可 *有年齡(17+)限制 體格須標準*
- (D) 考量地緣及民族因素，志願兵大多被派往華北 *無前科 須具家調查*

◎十九世紀前期，張三從寧波來艋舺採購樟腦，計畫運回浙江、上海銷售，同時也運來綢緞、布帛等貨品來臺銷售。請問：(109學測)

(B) 95. 張三最可能委託下列哪個組織運送這批貨物？

- (A) 東印度公司
- (B) 北郊
- (C) 怡和洋行
- (D) 三井會社

◎資料一：屏東種植紅豆的農民，過去為避免鳥害造成農損，會利用毒餌造成小型鳥類死亡，進而導致檢食的老鷹跟著中毒。近來因維護生態環境，農夫改變耕作方式，在播種期不毒鳥、採收時不用落葉劑，以新創農業的方式建立「老鷹紅豆」品牌以及產銷履歷。雖然生產紅豆的成本上升，但有效提升消費者對產品的評價，使市場銷售價格與數量都大幅提升。老鷹紅豆的製作地區主要在屏東東港和萬丹一帶。

資料二：萬丹聚落形成於明末，曾在清代民變中扮演重要角色，朱一貴事件時，粵籍義民即在「萬丹社」的上帝廟誓師起義。「社」在清代一般是指「熟番」村落，但並非自古如此。例如，鄭氏時期，主政者推行屯田，就會用「社」作為屯墾村落之名；當時的軍備圖則分別以「番社」和「民社」來標示「番」、「漢」聚落。在清朝治臺初期的地圖中，即有「後勁社」、「左營社」等和「熟番」無關的村落名，「萬丹社」也是如此。

根據上述兩則資料，請問：

(C) 96. 我們一般認為「社」是指「熟番」村落，但萬丹「社」的出現，顯然提供了另一種看法。就題文來看，萬丹社的例子最適合從下列哪一歷史脈絡來解讀？(109學測)

- (A) 粵民開發與熟番地權的關係
- (B) 義民形象被塑造的演變過程
- (C) 鄭氏在當地開發的歷史痕跡
- (D) 民間信仰與地名命名之關聯

我們必須咬緊牙關，全力以赴去做一件事情；

否則，我們將一事無成。—A.H.



## 二、中國史(共 161 題)

(B) 1. 今人研究中國古史，多有「傳說時代」的觀念，某學者說：「從現在的歷史來看，只有到殷墟時代，才能算作進入了狹義的歷史時代。」此處所謂「狹義的歷史」是指「信史」。這位學者的意見反映了二十世紀中國歷史學家的史學方法，請問這位學者以殷墟時代為「傳說時代」與「信史」間之分野的理由何在？(A) 因為中國文獻中沒有關於殷墟時代以前的記載，故只有憑藉殷墟甲骨文的出土，我們才能得知商以前的歷史 (B) 雖然中國文獻中有許多關於殷墟時代以前的記載，但學者認為必須配合地下文物的出土，才能被證明為信史 (C) 中國的考古發現中最早文物出自殷墟，且歷史研究的唯一根據是地下出土的文物，故中國的信史始自殷墟 (D) 中國文化淵源於殷商文化，在殷墟時代以前的歷史多非中國文化，故不是中國史的一部分。(91 學測)

(A) 2. 一位先秦思想家的著作中有〈禮論〉一篇，說明「禮」的起源是因為人各有所欲求，故彼此爭奪，結果發生亂事，於是統治者才制定「禮義」，以確立每個人應遵行的分際。請問這本著作是：(A) 《荀子》禮 (B) 《墨子》兼愛 (C) 《韓非子》法 (D) 《莊子》逍遙 (91 學測)

(C) 3. 某一本歷史著作有如下的敘述：「在萬曆的祖父嘉靖皇帝以前，大學士為三至六人，皇帝可能對其中一人諮詢較為頻繁，但從名義上說，他和另外的幾位大學士仍處於平等的地位。這以後的情況發生了變化，張居正名為首輔或稱元輔，其他大學士的任命則出於他的推薦，……」請問其所指的制度為何？(A) 漢代內外朝 (B) 唐代三省制 (C) 明代內閣制 (D) 清代八旗制度。(91 學測)

(B) 4. 有一項法令規定：禁止隴西李氏、太原王氏、滎陽鄭氏、范陽盧氏、清河崔氏等當今政治上顯赫的家族之間彼此通婚。請問該法令頒布的時代可能是：(A) 漢代 (B) 唐代 (C) 元代 (D) 清代。(91 學測)

(B) 5. 在一份與戶籍登錄有關的古文書記載：「戶主余善意，年二十二歲，……擁有二十畝永業田，二十八畝已受，七畝口分田，總計應受田一頃六十一畝，一畝居住園宅，一頃三十三畝未受……。」請問這份文書反映的制度為何？(A) 王莽的王田制度 (B) 唐代的均田制 (C) 北宋的青苗法 (D) 明代的一條鞭法。(91 學測)

(C) 6. 張三編寫的歷史劇「十七世紀商人李生傳奇」，被學者批評其史實錯誤連連。劇中有以下幾段情節，請依據歷史知識判斷，哪一個選項依據的是正確的史實？(A) 李生到長安做生意，他選擇了位在長安城南，面對長安大街的住家，並改裝為店面 (B) 接著李生來到蘇州，蘇州城內會館林立，李生在會館內認識了許多同鄉 (C) 後來李生在廣州經營奇珍異寶的貿易，接觸的商人包括阿拉伯人，聽到許多阿拉伯軼聞 (D) 最後，李生來到漳州，經營海外貿易，將中國的絲織品運往呂宋島銷售。(91 學測)

(A) 7. 自鴉片戰爭以後，中國知識分子多主張「師夷長技」以改革中國，而不同時代的知識分子認識的西方「長技」卻有不同。中國欲效法的西方長處，依時間先後順序排列，下列何者適當？(A) 器物→政治制度→西方思潮 (B) 器物→西方思潮→政治制度 (C) 宗教信仰→政治制度→西方思潮 (D) 政治制度→宗教信仰→器物。(91 學測)

(A) 8. 自鴉片戰爭以後，中國知識分子多主張「師夷長技」以改革中國，而不同時代的知識分子認識的西方「長技」卻有不同。中國欲效法的西方長處，依時間先後順序排列，下列何者適當？(A) 器物→政治制度→西方思潮 (B) 器物→西方思潮→政治制度 (C) 宗教信仰→政治制度→西方思潮 (D) 政治制度→宗教信仰→器物。(91 學測)

(A) 9. 自鴉片戰爭以後，中國知識分子多主張「師夷長技」以改革中國，而不同時代的知識分子認識的西方「長技」卻有不同。中國欲效法的西方長處，依時間先後順序排列，下列何者適當？(A) 器物→政治制度→西方思潮 (B) 器物→西方思潮→政治制度 (C) 宗教信仰→政治制度→西方思潮 (D) 政治制度→宗教信仰→器物。(91 學測)

(A) 10. 自鴉片戰爭以後，中國知識分子多主張「師夷長技」以改革中國，而不同時代的知識分子認識的西方「長技」卻有不同。中國欲效法的西方長處，依時間先後順序排列，下列何者適當？(A) 器物→政治制度→西方思潮 (B) 器物→西方思潮→政治制度 (C) 宗教信仰→政治制度→西方思潮 (D) 政治制度→宗教信仰→器物。(91 學測)

(A) 11. 自鴉片戰爭以後，中國知識分子多主張「師夷長技」以改革中國，而不同時代的知識分子認識的西方「長技」卻有不同。中國欲效法的西方長處，依時間先後順序排列，下列何者適當？(A) 器物→政治制度→西方思潮 (B) 器物→西方思潮→政治制度 (C) 宗教信仰→政治制度→西方思潮 (D) 政治制度→宗教信仰→器物。(91 學測)

(A) 12. 自鴉片戰爭以後，中國知識分子多主張「師夷長技」以改革中國，而不同時代的知識分子認識的西方「長技」卻有不同。中國欲效法的西方長處，依時間先後順序排列，下列何者適當？(A) 器物→政治制度→西方思潮 (B) 器物→西方思潮→政治制度 (C) 宗教信仰→政治制度→西方思潮 (D) 政治制度→宗教信仰→器物。(91 學測)

(A) 13. 自鴉片戰爭以後，中國知識分子多主張「師夷長技」以改革中國，而不同時代的知識分子認識的西方「長技」卻有不同。中國欲效法的西方長處，依時間先後順序排列，下列何者適當？(A) 器物→政治制度→西方思潮 (B) 器物→西方思潮→政治制度 (C) 宗教信仰→政治制度→西方思潮 (D) 政治制度→宗教信仰→器物。(91 學測)

(D) 8. 以下記載是中國正史對外族的描述：  
 《史記》：「(匈奴)逆天理，.....以盜竊為務，.....苟利所在，不知禮義。」  
 《漢書》：「夷狄之人，貪而好利，被髮左衽，人面獸心。」  
 《新唐書》：「(回紇)貪婪尤甚，以寇抄為生。」  
 關於史料中所謂「盜竊」或「寇抄」的討論，以下選項何者適當？  
 (A) 因為游牧民族生活貧困，嚮往農業民族的生活方式，常以劫掠的手段取得經濟利益，故外族入侵的確是盜賊的行為  
 (B) 外族有盜賊的天性，道德有嚴重缺陷，在這種民族性的驅使下，不斷入侵農業民族，故外族入侵的確是盜賊的行為  
 (C) 這些記載都出自中國統治階層，是農業民族對於游牧民族的刻板印象，並非實情，游牧民族根本不需要入侵農業民族  
 (D) 外族的確不斷入侵，正史的記載反映了農業民族的憤怒，只是傳統正史不考慮游牧民族的立場及游牧社會的經濟特性。(91 學測)

1644 明末清初 1912 清末民初  
 (C) 9. 從十七世紀中葉一直到二十世紀初，中國人口從 1 億 5 千萬增加到 4 億以上，最主要的原因何在？  
 (A) 沒有發生導致人口大量減少的戰亂 (B) 人民生育能力提高 (C) 農作物種類與產量增加 (D) 領土大規模擴張。(91 學測)  
 (A) 內有流寇 東北有滿州 東南有倭寇  
 (D) 明清之際領土擴張

(B) 10. 一位歷史學家在一篇研究近代中國史的論文中，描述某一事件：「最重要的就是愛國主義運動—反帝國主義運動。.....爭回我國在青島的主權；另一方面是促使青年人的自我覺醒。.....《新青年》發行以後，啟蒙的中心思想凝聚在強調青年人的重要性上.....。」請問此事件是：  
 (A) 辛亥革命 (B) 五四運動 (C) 蘆溝橋事變 (D) 文化大革命。(91 學測)  
 1898 德領租界 1915 一戰 日出兵山東 提出「二十一條」 1919 巴黎和會 山東→日 五四運動

(A) 11. 北京有一座天主教堂，在某次亂事中因為庇護信徒，遭到圍攻，死傷甚眾。事後中國政府必須出資修復。這最可能是在哪一場亂事中發生的情況？  
 (A) 義和團事件 (B) 文化大革命 (C) 七七事變 (D) 太平天國之亂。(92 學測)  
 快清滅洋 → 八國聯軍 辛丑和約 (賠款三億兩)

(A) 12. 有位史家評論戰國時期的學說：「戰國時代，諸子百家風行一時。各家中有順勢而活動的，想要因勢利導，借助權力來改造社會；也有逆勢而動的，知其不可而為，想依據理想來改造社會。」請問「逆勢而動的，知其不可而為，想依據理想來改造社會」的，最可能是哪一家的想法？  
 (A) 墨家 (B) 縱橫家 (C) 法家 (D) 農家。(92 學測)  
 勢 順勢 許行 君民並耕而食 (各親其親 各子其子) (不獨親其親 不獨子其子)

(A) 13. 如果我們檢視 1920 年青島海關的年度報告，會發現當時經由青島進入中國的貨物以哪一國的產品為主？  
 (A) 日本 (B) 德國 (C) 英國 (D) 美國。(92 學測)  
 1898 德 1915 日 1921 華盛頓會議 21922 中日

(B) 14. 一群住在冀州(河北)的人們，為了躲避戰禍，移居到了南方揚州境內。政府特別在揚州境內設置一個也名為「冀州」的地方政府，這群人的戶籍不屬於揚州地方政府管轄，而屬於這個增置的冀州地方政府。請問這種現象最可能出現在哪一個時代？  
 (A) 漢魏 (B) 南朝 (C) 隋唐 (D) 宋明(92 學測)  
 西晉永嘉之禍後 北人南遷 東晉及其後政權設「僑州」「僑郡」「僑縣」→土斷

(A) 15. 一位大臣向皇帝建議降低賦稅，指出這項稅法實施之初，一匹絹合四千錢，所以，稅額萬錢的人家只要繳納絹二匹半；現在一匹絹合八百錢，這戶人家竟要繳納十二匹絹。根據該大臣的說法，這是關於哪個稅法的討論？  
 (A) 唐代兩稅法 (B) 唐租庸調法 (C) 明一條鞭法 (D) 宋代青苗法。(92 學測)  
 農民拿米布換錢 商人壓低米布價格 → 變相加稅

土斷 黃籍 → 白籍 (正式) (臨時) 流民 西晉土斷(流民) 東晉土斷(僑姓) 西魏 → 府兵 → 日賊之亂

題目為陸贄 → 唐德宗 反對兩稅法  
 《新唐書·楊炎傳》評價：「賦不加斂而增入，版籍不益而得其虛實」

劉武：七國之亂中立下大功

(C) 16. 史書記載：漢景帝時，景帝的弟弟梁孝王入宮晉見，皇帝相當親熱，得知梁孝王有五位兒子，便賜給他們五人侯爵之位，並賞賜許多物品。梁孝王死後，景帝將梁孝王所遺之國分為五份，每位侯爵一份，又把他們的爵位通通提升為王。歷史學者讀到這段故事，最恰當的解釋是：  
 (A) 皇帝友愛兄弟，也疼愛子姪，所以要提升他們爵位 (B) 皇帝擔心外患，所以要加強位在邊境的梁國屏障功能  
 (C) 皇帝擔心梁國成為帝國心腹之患，所以實施「眾建」 (D) 皇帝推行開發邊疆政策，所以要邊境國多發展。(92 學測)  
 高祖 文帝 景帝 武帝 推恩眾建  
 郡國並行 → 實道眾建 → (晁錯)削藩 → 七國之亂 → (主父)遷

(C) 17. 某人觀察他周邊事物的變化：過去北方人習慣吃麵食，南方人則偏好米食，但近幾年來，江浙地區的城市街坊上出現不少販賣麵食的店家，農民也普遍將小麥作為主要作物，與水稻連作，以牟取利潤。這種變化最早可能發生在哪個時期？  
 (A) 東晉 (B) 中唐 (C) 南宋 (D) 明代。(92 學測)  
 1. 坊市制度破壞：北宋 2. 重心南移：永嘉之禍、安史之亂、靖康之禍

(D) 18. 有一本書表列了某地居民的職業結構，如下表：  

	自耕農·地主	佃農	工人	商人
占總人口比例	24%	36%	30%	10%

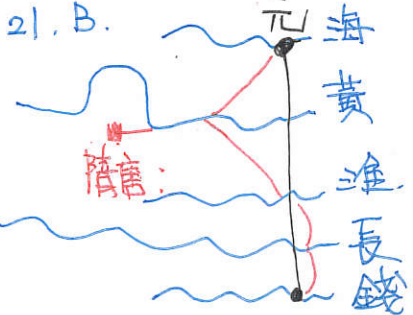
 這種職業結構最可能出現在何時何地？  
 (A) 漢代江南地區 (B) 唐代關中地區 (C) 宋代關中地區 (D) 明代江南地區。(92 學測)  
 農為主 農為主 農為主 大航海時代下，加入世界貿易體系

(D) 19. 一位政治人物說：「中國當然希望日本勝利。應當怎樣對日本進行協力，這是國民政府最苦心思慮的事情。」又說：「自從和平運動展開以來，英、美變本加厲，極盡挑撥之能事，使重慶方面執迷不悟，多方作梗。」所以主張向英、美進擊。這種言論最可能出現於何時？出於何人之口？  
 (A) 八國聯軍之時，張之洞等督撫主張聯合日本，以求自保 (B) 第一次世界大戰，孫中山主張聯合日本，對抗西方強權 (C) 抗戰初期，共產黨員主張與日本合作，共同對抗蔣中正 (D) 汪精衛建立偽政權之後，主張對日和平，共同對抗英美。(92 學測)  
 1933 年長城戰役 25 vs 92 → (王) 淞滬中日差距 1938 響應日相近衛文相 主張中止抗戰對日求和

(B) 20. 明太祖曾經想把孟子的牌位搬出孔廟。《孟子》一書中哪一句話最可能招致明太祖對孟子的不滿？  
 (A) 「王何必曰利？亦有仁義而已矣。」 (B) 「君之視臣如土芥，則臣視君如寇讎。」 (C) 「非其君不事，非其民不使；治則進，亂則退，伯夷也。」 (D) 「長君之惡，其罪小；逢君之惡，其罪大。」(92 學測)  
 孟子離婁：君之視臣如手足，則臣視君如腹心；君之視臣如犬馬，則臣視君如國人。

(C) 21. 近幾世紀以來，長江從一條溫馴的河川變成一條「暴河」，每到夏天雨季來臨，動輒洪水為患，損傷人命，毀壞財物。對於此種現象的解釋，何者較為恰當？  
 (A) 宋代在長江沿岸開發梯田，導致長江流域的水土保持遭受破壞 (B) 蒙古人修築大運河，對長江水系破壞甚鉅，導致洪水無法排除 (C) 明代中後期甘薯等新作物的引進，導致長江中游山地過度開發 (D) 明清兩代開發雲南、貴州，導致長江上游的生態環境遭受破壞。(92 學測)  
 D. 改土歸流，加速開發西南  
 玉米、番薯、馬鈴薯等美洲作物於明代中後期引入，適應性強，且不和稻爭地 → 加速開發 → 破壞生態

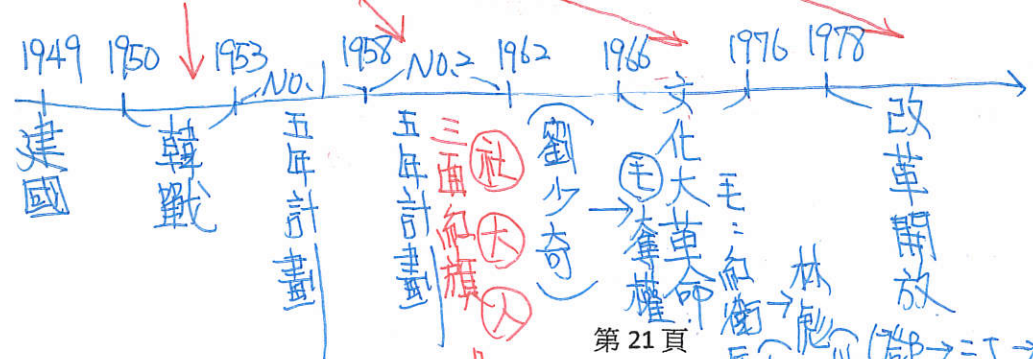
(B) 22. 近代中國雖不斷遭受帝國主義侵略，但並沒有像印度一般，全國都變成了殖民地。這與下面何者最為有關？  
 (A) 俄國主張遠東政策，積極在亞洲從事政治活動 (B) 美國主張門戶開放政策，讓所有國家公平參與 (C) 美國提出十四點和平計畫，希望廢止秘密外交 (D) 日本提倡「大東亞共榮圈」，帶領亞洲抵抗侵略。(92 學測)  
 A: 西伯利亞 → 太平洋 (蒙古、東北)  
 B: 美駐華公使被殺 → 國務卿海約翰  
 C: 威爾遜 未落實  
 D: 日本合理化侵略亞洲各國的行為



題目取材自清末民初的學者林紓〈妖夢〉

- (C) 23. 有一副對聯：「白話通神，紅樓夢、水滸，真不可思議。」古文討厭，歐陽脩、韓愈，是什麼東西。」這樣的對聯最可能出自誰的手筆？ (A) 日據時代臺北帝大的學生 (B) 清末就讀同文館學的學生 (C) 民國初年北京大學的學生 (D) 文革時期參與串聯的學生。(93 學測)
- 新文化運動 提倡白話文 「破四舊 立四新」 息文風習
- (A) 24. 清末一位學者留學日本，研習法律與政治。他主張「民主革命富於破壞，中國已有東亞病夫之名，不堪服猛劑以招危亡。英日兩國皆以君主立憲而強，可資借鏡。」以下清末民初許多言論中，何者與該學者的主張一致？ (A) 古代的周召共和實為君主政體 (B) 革命排滿是必要而非仇殺報復 (C) 天賦人權說就是主張共和體制 (D) 民國主權的基礎本於全體國民。(93 學測)
- 君主立憲 共和 A 勞乃宣〈共和正解〉支持君主立憲 B 胡漢民〈民報序文〉革命排滿 非仇殺報復 乃民族根本解決之事
- (C) 25. 港口邊的大街上，人群熙來攘往，偶爾夾雜幾位金髮碧眼的外國人。他們走進街旁的商行裡，和商行裡等待交易的茶商討論該地生產即將上市的春茶價格。對面的商家陳列著剛剛由洋船運抵的紡織品，吸引了大批逛街的民眾，爭相詢問款式與價格。這個場景最可能出現在何時何地？ (A) 1800 年，廣州 (B) 1840 年，上海 (C) 1880 年，淡水 (D) 1940 年，天津。(93 學測)
- 時空 A. 雖已開港，但交易還很公行 B. 未開港 1842 C. 1858 日開港 D. 中日 War. 日軍佔領
- (D) 26. 某地洪水為患，消息上報朝廷後，皇帝一方面交待工部儘速搶修潰決的堤防，勿使水患繼續擴大；另一方面責成戶部儘速調度糧食，運往災區，賑濟災民。幕僚根據皇帝之意，寫成詔書，經皇帝確認無誤後，直接送至工部、戶部等單位執行。這是哪個時期的制度？ (A) 秦漢 (B) 隋唐 (C) 宋元 (D) 明清。(93 學測)
- 皇帝直掌六部，無須透過宰相，可見已廢相
- (C) 27. 學者指出：中國古代的世族原本散居各地，以農村為根據地，成為當地地方政府官員的主要來源。如果有機會的話，他們也會爭取在朝廷任職。即使在中央政府任職，死後大多會歸葬家鄉的祖墳。但是，「自某個時期起」，因為制度的變遷，許多世族成員逐漸遠離家鄉，居住在首都附近，而且不再歸葬祖墳。根據你的歷史知識，這位學者所謂「自某個時期起」最可能是： (A) 秦漢 (B) 魏晉 (C) 隋唐 (D) 宋元。(93 學測)
- 兩漢 → 魏晉 → 世族 → 隋唐 → 科舉 → 不會在官
- (A) 28. 某個朝代開國數十年後，一位大臣上書皇帝，痛陳當時政府承襲前朝法令，強制百姓分家，以致社會風氣敗壞，父子間形同路人。根據你的歷史知識，這個大臣可能是哪個時代的人？ (A) 漢代 (B) 唐代 (C) 宋代 (D) 明代。(93 學測)
- 商鞅變法 取材自賈誼〈治安策〉：「商君遺禮儀，奪本恩，並心於進取，行之二載，壽俗日敗。故秦人家富子壯則出分，家貧子壯則出費。」
- (B) 29. 漢武帝獨尊儒術，可能原因之一是當時儒學的某些觀點，與漢武帝的政治意圖相契合。以下哪一種論點最可能符合漢武帝當時的政治意圖？ (A) 孟子強調民貴君輕，有助於漢武帝強化其統治的合理性 (B) 《春秋·公羊傳》強調大一統觀念，可作為削弱諸侯王的依據 (C) 天人感應說強調帝國萬世一系，符合漢帝國的統治利益 (D) 強調禮制的儒學有助於維護貴族世家之利益，鞏固政權(93 學測)
- (同16題) 漢初封國問題 ▲ 漢武帝即位時的困境 ① 龐大行遣 ② 諸侯 ③ 匈奴
- (A) 30. 中央政府認為應嚴格管制社會上到處流動的士人，以免他們違法亂紀，造成政治與社會秩序的不安；並要求地方政府應確實統計這些人的活動紀錄，在每年年底呈報給中央政府。這個現象最可能出現在哪個時期？ (A) 戰國秦漢 (B) 魏晉隋唐 (C) 宋元時期 (D) 明清時期。(93 學測)
- 游士 士族 士大夫 士紳

- (C) 31. 如果你是一位元代的學者，在思想上深信「心」是世界的本源，而要了解宇宙的真相，只須向內探索，不必向外格物窮理。請問你會特別肯定何人的學說？ (A) 張載 (B) 朱熹 (C) 陸九淵 (D) 王陽明。(94 學測)
- (北宋五子) (南宋) (明)
- 周、邵、張、程、陸、朱、熹、王、陽、明
- (B) 32. 文化的傳承有因襲，也有損益，即使歷經百世，其因襲損益仍有脈絡可循。殷商文化距今已逾三千年，但在當代華人社會中，仍可見其傳承脈絡，其中最顯著的是下列何者？ (A) 婚喪禮俗 (B) 干支紀時 (C) 甲骨占卜 (D) 宗法制度。(94 學測)
- 大量節化 嫡長子繼承
- (D) 33. 某大臣力排眾議，主張積極改革，強調：「文化輸出國不必自傲，文明輸入國也不必自卑，某一國文化為別一國所吸收，這種輸入品即為吸收者所擁有。譬如人吃豬肉，消化後變成人的血肉，誰能懷疑吃豬肉的人，他的血肉是豬的血肉而不是人的呢？」這位大臣最可能出現在哪一朝代？ (A) 唐代 (B) 宋代 (C) 明代 (D) 清代。(94 學測)
- 清代之前的改革 為開關式改革 清末 魏源：「師夷長技以制夷」
- (D) 34. 日本某古寺留存有一份珍貴文件記載：「癸丑，春三月，明州（今寧波）來船二艘。其中，祥興號滿載絲綢、陶瓷，另附銅錢七萬，《史記》、《漢書》、《三國志》各十部；《四書集注》百部；佛教經典數百部。」這一份文件最早可能出現於哪一朝代？ (A) 漢代 (B) 唐代 (C) 宋代 (D) 元代(94 學測)
- [13B(癸丑年)元仁宗恢復科舉以《四書集注》為定本] 南宋 朱熹 訂為科考定本
- (B) 35. 某一歷史古蹟的導覽手冊描述：指揮官縱容官兵搶劫擄掠之後，又下令縱火破壞，誓言留下永久的烙印以示懲罰，還得意地說：「我不以為在藝術方面，我們能從中國學到什麼東西。」但是，有良知的文明人對此暴行無不斥責。大文豪雨果（Victor Hugo）就說：「將我們各大教堂的寶物集中在一起，也抵不上東方這處龐大輝煌的博物館。……我們歐洲人是文明人，在我們眼中，中國人是野蠻人，可是你看文明人對野蠻人幹了什麼？」這份導覽手冊描述的是清末哪一場戰爭？ (A) 鴉片戰爭 (B) 英法聯軍 (C) 中法戰爭 (D) 八國聯軍。(94 學測)
- 題幹所述為 英法聯軍火燒圓明園
- (B) 36. 中國古代帝王的典型形象是：「一手捧著儒家經典，宣示教化；一手高舉法家利劍，厲行專制。」這種帝王的典型是從哪一個朝代開始的？ (A) 秦代 (B) 漢代 (C) 唐代 (D) 宋代。(94 學測)
- 漢武帝 獨尊儒術 (儒家法家化)
- (A) 37. 中國歷史上有一個時期，官員們大多安於逸樂，卻自鳴清高，甚至將「居官無官官之事，處事無事事之心」，視為一種最高的道德規範。下列哪一個時期最能反映這種「當官不處理公務，做事不用心負責」的風氣？ (A) 東晉南朝 (B) 唐末五代 (C) 南宋時期 (D) 蒙元時期。(94 學測)
- 題此處：東晉明帝女婚劉琨 盛行清談
- (B) 38. 右圖反映了中共政權在某一時期的國家發展路線，圖中的標語是：「多出鋼快出鋼，澆死美國狼。」這是哪一時期的宣傳品？ (A) 抗美援朝 (B) 大躍進 (C) 文化大革命 (D) 改革開放。(94 學測)



題組題 (第 39~40 題為題組)

資料一：其時歐戰方酣，某國實行遠交近攻政策，欲與我方修好，知國父反對參戰，故願助其組織護法政府以對抗北京。

資料二：民國六年，總理黎元洪被督軍團脅迫解散國會，國人大憤，國父在滬力圖起兵護法，但缺乏經費。適有某國醫生輾轉告知國父：「如孫公有起兵護法之決心，某國願助資百萬。」國父知悉後，甚感快慰。……未幾，遂有（海軍總長）程璧光率海軍南下及廣州召集非常國會之舉。請問：(94 學測)

(D) 39. 在資料一與資料二中，「某國」是指下列哪一個國家？ (A) 俄國 (B) 日本 (C) 英國 (D) 德國

(C) 40. 資料一與資料二敘述的歷史變化，對中國政局造成了什麼影響？ (A) 洪憲失敗 (B) 五四運動 (C) 南北分裂 (D) 中共崛起

(C) 41. 近代有人指出：「槍桿子出政權」，古代也有人說：「天子者，兵強馬壯者居之。」中國歷史上，這種情況有時會成為政權交替的常態。下列哪一個時代最可能出現這種情況？ (A) 漢朝前期 (B) 唐代中期 (C) 五代時期 (D) 明代中葉

(D) 42. 一位古董商人要出售以下文物：篆文書寫的青銅器、楷書書寫的《道德經》、甲骨文書寫的五言詩、隸書刻寫的竹簡。他最可能是何時何地的商人？ (A) 唐末的洛陽 (B) 北宋的開封 (C) 明初的南京 (D) 民初的北京

(B) 43. 學者批評某個朝代頗多失禮之事，宮廷喋血衝突不絕於書，並認為這是因為這個朝代的創建沾染夷狄之風所致。這個朝代是指： (A) 秦代 (B) 唐代 (C) 宋代 (D) 清代

(D) 44. 以下是清朝以後中國人稱呼西方人的幾個說法：(95 學測)

(甲)「中國稱『鬼子』其實是龜茲的轉音，只有通稱西方之意。」 (乙)「以後各式公文，凡有關大英國臣民者，不得書『夷』字。」 (丙)「茶葉大黃，外國所必需，中國不售，『夷人』何以為生？」

(C) 45. 這位皇帝自誇他調整國家組織的成效，使得軍、政等機關分別處理庶務，互不統屬，彼此對抗，所有大權盡歸皇帝總之，所以穩當。這位皇帝應是：(A) 秦始皇 (B) 隋文帝 (C) 明太祖 (D) 清雍正

(B) 46. 一位政治家為了鞏固政權，下令求才，強調不問道德，只要有才幹，雖不仁不孝，亦可任用。他是下列何人？ (A) 漢武帝 (B) 曹操 (C) 宋太宗 (D) 王安石

(C) 47. 從某個時期開始，中國社會逐漸出現停棺多年、久喪不葬的習俗，要找到風水寶地之後才入葬。人們認為這麼做可以帶給後世子孫功名或財富等福蔭，出人頭地。這種風俗背後反映了某種社會變動的趨勢。根據這個角度，此一習俗最早可能形成於何時？ (A) 秦漢時代 (B) 魏晉時期 (C) 唐宋之間 (D) 明清之間

(B) 48. 中國某個朝代的初期，東北以鴨綠江與朝鮮為界，北方有蒙古、靺鞨、瓦剌等部族。此時期中，朝廷對境內大部分地區都能有效統治，少數民族也多臣服，但北方的邊患一直困擾著政府。這是哪一個朝代？ (A) 宋代 (B) 元代 (C) 明代 (D) 清代

(D) 49. 某人舉出兩個政府施政不當的例子，說明他對政治及國家運作的想法：例一：有位正直的人，向地方官檢舉他的父親偷了一頭羊。地方官卻下令將他殺掉。從此以後，沒有人敢向政府報告事情。例二：一位軍士每戰必敗，問他原因。軍士說是家裡有老父要奉養。政府不但不治罪，反而予以嘉獎。這個國家的軍隊從此再也無法打勝仗。(95 學測)

(A) 50. 二十世紀初，學者在敦煌附近的遺址中，發掘出一種用「新文字」書寫的佛經。後來有人找到一本名為《番漢合珠掌中書》的字典，才逐漸了解此種新文字的原則：使用漢字偏旁以代表各種意義。書寫時有篆、草、行、楷等書體，相當複雜。這應該是哪一種文字？ (A) 西夏文 (B) 藏文 (C) 波斯文 (D) 蒙古文

(C) 51. 1937 年 12 月，上海發行的報紙報導：「南京上游 29 公里處，有英、美兩國船隻遭到某國飛機轟炸沉沒。」我們如何了解這個事件？ (A) 英、美自己炸沉船隻，嫁禍中國 (B) 德國與美國對歐洲事務有歧見，故對美國軍艦發動攻擊 (C) 日本加速在中國的侵略，開始攻擊英美在華的軍隊設備 (D) 中共在長江中游發展，受到英、美兩國掃蕩，憤而報復

(C) 52. 唐宋間庶民文化崛起，此一現象與下列何者關係最密切？ (A) 人民心態的調整 (B) 社會團體的活躍 (C) 經濟結構的變化 (D) 生活方式的改變

(A) 53. 清初某人參加一個組織，該組織的成員來自各地，為了互相幫助，彼此以兄弟相稱，要「準星辰為弟兄，指天地為父母」。成員都遵守規範，不隨意洩露組織消息。這個人最可能的身分為何？ (A) 運河線上的船伕 (B) 成都大街上的店家 (C) 山西鄉下的農民 (D) 蒙古邊市中的駝商

(B) 54. 幾位學者討論某個時期的儒學，多數認為這個時代的儒學已經失去創造力，表現出衰微的傾向。但也有人認為：「這個時代的儒學，在思想層次或許是衰落了，但在規畫政治組織與統治政策的治術方面，卻大獲全勝。」這些學者討論的是哪個時代的儒學？ (A) 秦漢 (B) 魏晉 (C) 兩宋 (D) 明清

(B) 55. 某人準備出門旅行，先到城中購買相關書籍。書肆中陳列著各種指南、地圖及日常生活有關的百科全書。這些書中不僅有交通路線，甚至有菸草、海外奇珍等的介紹。這個現象最早可能出現在下列哪個時期？ (A) 宋代 (B) 明代 (C) 清代 (D) 民初

(B) 56. 一位官員因為在父喪期間，讓婢女服侍他吃藥，被人檢舉違反禮法，因而受到清議的批評，甚至使他的仕途受阻。這位官員最可能處於何時？ (A) 兩漢 (B) 魏晉 (C) 隋唐 (D) 宋明

北元

(C) 48. 中國某個朝代的初期，東北以鴨綠江與朝鮮為界，北方有蒙古、靺鞨、瓦剌等部族。此時期中，朝廷對境內大部分地區都能有效統治，少數民族也多臣服，但北方的邊患一直困擾著政府。這是哪一個朝代？ (A) 宋代 (B) 元代 (C) 明代 (D) 清代

(D) 49. 某人舉出兩個政府施政不當的例子，說明他對政治及國家運作的想法：例一：有位正直的人，向地方官檢舉他的父親偷了一頭羊。地方官卻下令將他殺掉。從此以後，沒有人敢向政府報告事情。例二：一位軍士每戰必敗，問他原因。軍士說是家裡有老父要奉養。政府不但不治罪，反而予以嘉獎。這個國家的軍隊從此再也無法打勝仗。(95 學測)

此人最可能是誰？ (A) 孔子 (B) 荀子 (C) 老子 (D) 韓非子

(A) 50. 二十世紀初，學者在敦煌附近的遺址中，發掘出一種用「新文字」書寫的佛經。後來有人找到一本名為《番漢合珠掌中書》的字典，才逐漸了解此種新文字的原則：使用漢字偏旁以代表各種意義。書寫時有篆、草、行、楷等書體，相當複雜。這應該是哪一種文字？ (A) 西夏文 (B) 藏文 (C) 波斯文 (D) 蒙古文

(C) 51. 1937 年 12 月，上海發行的報紙報導：「南京上游 29 公里處，有英、美兩國船隻遭到某國飛機轟炸沉沒。」我們如何了解這個事件？ (A) 英、美自己炸沉船隻，嫁禍中國 (B) 德國與美國對歐洲事務有歧見，故對美國軍艦發動攻擊 (C) 日本加速在中國的侵略，開始攻擊英美在華的軍隊設備 (D) 中共在長江中游發展，受到英、美兩國掃蕩，憤而報復

(C) 52. 唐宋間庶民文化崛起，此一現象與下列何者關係最密切？ (A) 人民心態的調整 (B) 社會團體的活躍 (C) 經濟結構的變化 (D) 生活方式的改變

(A) 53. 清初某人參加一個組織，該組織的成員來自各地，為了互相幫助，彼此以兄弟相稱，要「準星辰為弟兄，指天地為父母」。成員都遵守規範，不隨意洩露組織消息。這個人最可能的身分為何？ (A) 運河線上的船伕 (B) 成都大街上的店家 (C) 山西鄉下的農民 (D) 蒙古邊市中的駝商

(B) 54. 幾位學者討論某個時期的儒學，多數認為這個時代的儒學已經失去創造力，表現出衰微的傾向。但也有人認為：「這個時代的儒學，在思想層次或許是衰落了，但在規畫政治組織與統治政策的治術方面，卻大獲全勝。」這些學者討論的是哪個時代的儒學？ (A) 秦漢 (B) 魏晉 (C) 兩宋 (D) 明清

(B) 55. 某人準備出門旅行，先到城中購買相關書籍。書肆中陳列著各種指南、地圖及日常生活有關的百科全書。這些書中不僅有交通路線，甚至有菸草、海外奇珍等的介紹。這個現象最早可能出現在下列哪個時期？ (A) 宋代 (B) 明代 (C) 清代 (D) 民初

(B) 56. 一位官員因為在父喪期間，讓婢女服侍他吃藥，被人檢舉違反禮法，因而受到清議的批評，甚至使他的仕途受阻。這位官員最可能處於何時？ (A) 兩漢 (B) 魏晉 (C) 隋唐 (D) 宋明

(B) 57. 某位官員因為在父喪期間，讓婢女服侍他吃藥，被人檢舉違反禮法，因而受到清議的批評，甚至使他的仕途受阻。這位官員最可能處於何時？ (A) 兩漢 (B) 魏晉 (C) 隋唐 (D) 宋明

(B) 58. 某位官員因為在父喪期間，讓婢女服侍他吃藥，被人檢舉違反禮法，因而受到清議的批評，甚至使他的仕途受阻。這位官員最可能處於何時？ (A) 兩漢 (B) 魏晉 (C) 隋唐 (D) 宋明

(B) 59. 某位官員因為在父喪期間，讓婢女服侍他吃藥，被人檢舉違反禮法，因而受到清議的批評，甚至使他的仕途受阻。這位官員最可能處於何時？ (A) 兩漢 (B) 魏晉 (C) 隋唐 (D) 宋明

(C) 57. 一位清代官員討論當時稅收制度，表示：「各省州縣地方收稅多以銅錢為主，但換成白銀交到中央。各省鹽商賣鹽也是收銅錢，交稅時卻須交白銀。原本銀價便宜，兌換時還有些利益，但現在銀價不斷上漲，每兩白銀值一千六百個銅錢。所以地方官必須墊賠，鹽商也視交稅為畏途。」為了因應這種情況，他提出解決的方法是：(A) 官員收取的「火耗」歸公，禁止官員中飽私囊 (B) 規定收稅或買賣禁用銅錢，改用白銀以免兌換 (C) 禁止鴉片進口，避免白銀外流，解決銀價問題 (D) 改變貨幣制度，廢除銀兩，改用新式銀元紙幣。(96 學測)

明清銀銅錢香  
A. 火耗：附加稅。 C. 白銀因鴉片而外流，進而上漲。 D. 1933 廢兩改元

(D) 58. 有一個社會階級，成員原本必須要「通達儒學，取得功名」。但後來有些靠「戰功」起家的人，厚積家財後，開始模仿這個階級的行為，也興建學塾、修撰宗譜，希望美化其家世，社會上也普遍認為他們是這個階級的成員。這些以「戰功」起家的人應當是下列哪種人？(A) 東漢初追隨光武帝建立政權的功臣 (B) 北周時參與宇文泰關隴集團的豪族 (C) 南宋初年協助官軍抵抗女真的義軍 (D) 清朝中葉協助政府平定亂事的漢人。(96 學測)

清代漢人協助平定太平天國後地位上升

A 東漢功臣 → B 關隴集團 → 地位高，無須模仿。 C 宋：重文輕武，官宦地位低

(B) 59. 一位駐守外地的官員，趁皇帝在東北前線親征的機會舉兵造反。他的手下為他擘畫了三個方案：上策是儘速進入關中，中策要攻入洛陽，下策則為南下江淮地區。皇帝聽到有大臣與兵作亂，立即率軍南返，救平叛亂。這件事應發生在何時？(A) 秦漢 (B) 隋唐 (C) 宋元 (D) 明清。(96 學測)

題幹：隋煬帝出兵朝鮮，李密為楊玄感規劃。[關中(長安)、洛陽、宋以後已非政治中心]

(C) 60. 一本書中提到：「從上海到南寧最快的方法，先要乘大輪船到香港，接著乘廣九鐵路到廣州，再轉到三水，從三水坐輪船到梧州。從梧州到南寧只有小火輪可乘，要走三天。如果能搭上單引擎飛機，只要幾個小時就可以從南寧到廣州。」這種交通條件最可能出現在何時？(A) 1870 年 (B) 1900 年 (C) 1930 年 (D) 1960 年。(96 學測)

中國航空業於十年建設期間(1928-1937)發展。 D. 中共建國後無法自由到香港

(B) 61. 考古學者在印尼發現某些沿海居民家中，至今仍使用中國明朝瓷製器皿。這些瓷器最可能的來源為何？(A) 明朝鼓勵海外貿易，瓷器銷往印尼，數代累積而來 (B) 當地民眾常能從遭海難的明朝船隻中尋獲貿易瓷器 (C) 清初中國沿海居民移到該地，隨身攜帶器皿之遺留 (D) 中共文革結束之後，商人將大批古物運到當地販售。(97 學測)

瓷器貴重屬於朝貢貿易的商品。 A 未鼓勵。 B 海禁，無法出海。 D 中共官方禁古物出口

(A) 62. 某朝代建國之初，有人建議記取前朝未能善用大亂後「勞民易為治」的有利條件，反而過度役使民力，終於導致民眾叛亂而亡國。本朝制度承襲前朝，若不能記取歷史教訓，更新制度，可能會步上前朝亡國的後塵。「某朝代」是指：(A) 西漢 (B) 西晉 (C) 宋朝 (D) 清朝。(97 學測)

題目取材自賈誼《過秦論》。秦亡主因

(B) 63. 一位反抗軍領袖在起事之初，本以宗教為號召，稍後為了要爭取民心，改採取民族大義為主要訴求。最後，他推翻異族，建立政權。這位政治領袖是：(A) 劉邦 (B) 朱元璋 (C) 洪秀全 (D) 孫中山。(97 學測)

朱元璋(降天討元北伐檄文)驅除胡虜，恢復中華，立綱陳紀，救濟斯民。

(A) 64. 史家評論道：這個朝代的帝王年壽都不長，以致皇家嫡傳世系屢次中斷，經常出現由宗藩入繼帝位，而引發太后臨朝、外戚主政的現象。這個朝代是指：(A) 東漢 (B) 唐朝 (C) 北宋 (D) 清朝。(97 學測)

東漢：皇帝早死 → 幼主即位(外戚) → 皇帝年長(宦官) → 皇帝早死。

(A) 65. 這個時期的宗族組織機能完整，族人間患難相助，經濟上相互依賴；族長代表本族，可率領族眾參加戰爭；若族人違反規範，就在宗廟前聚集族眾施以處罰。這種兼具政治、經濟與軍事共同體型態的宗族組織，可能出現在何時？(A) 西周 (B) 秦漢 (C) 唐宋 (D) 明清。(97 學測)

西周：以血緣為紐帶，依親疏分封不同等級的土地，族人須依族長命令從事耕織、游獵，甚至征戰。

開港

戰爭狀態

(C) 66. 一位西方人記錄他在中國旅行的見聞，指出：「這個城中，男女比例為 1:2，很多人新近才從外地遷來，與我先前看到的中國城市不同。此地的婦女徒步或騎馬公開地在大街上招搖過市，一點也不害怕外國人。」這應當是何時何地的情況？(A) 1750 年的北京 (B) 1810 年的上海 (C) 1860 年的南京 (D) 1900 年的廣州。(97 學測)

女子地位低。 女子地位較高 = 唐、元(蒙古女)、太平天國、現今

(B) 67. 文學家批評當時的考試制度使士人講究雕琢、堆砌的文詞，滋長浮華的士風，他們主張文學應著重表達作者從經典中獲得的理念，反對當時社會上流行的文學風格。這種文學觀念最早可能始於何時？(A) 兩漢 (B) 唐朝 (C) 宋朝 (D) 清朝。(97 學測)

古文運動(韓愈、文以載道) = 漢賦、六朝駢文、唐律賦

(A) 68. 一篇題為〈消失的城市〉的文章裡，考察古代中國曾經存在、但至清朝已經消失的城市。此文所謂「消失的城市」主要分布在哪個地區？(A) 陝西省 (B) 浙江省 (C) 湖北省 (D) 廣東省。(97 學測)

關中 唐後沒落。 山西 河北 河南 山東

(A) 69. 一份考古發掘報告說：「最令人震驚的發現是一個如真人尺寸大小的銅像，他有一張瘦削的臉，臉上有巨大的眼睛；另外還有 41 個大小不一的青銅銅像，其中有一些還戴著黃金面具。其宗教活動和商朝以及周朝初期的情況判然有別」。根據這份考古報告，學者可以做怎樣的合理推測？(A) 古代中國文明的多元性 (B) 銅像製作技術較商周高 (C) 宗教儀式始於周朝後期 (D) 證明夏朝文明曾經存在。(98 學測)

題目取材 三星堆遺址，報告中看不出 B、C、D。 = 裡頭。 程頤：鐵死事小，失節事大

(A) 70. 明初政府規定：「民間寡婦三十以前夫死守制，五十以後不改節者，旌表門閭，免除本家差役。」這項法規反映了明朝怎樣的社會情況？(A) 婦女道德規範的嚴格化 (B) 致力提升婦女社會地位 (C) 政府鼓勵敬老尊賢風氣 (D) 政府重視婦女社會福利。(98 學測)

貞節旌表制度，官方表揚喪夫守節或拒絕受辱貞女，烈婦[源於漢，宋理學助長，元明清規範]

(D) 71. 一位民國時期的文人撰文紀念友人道：「他是中國思想界的一個清道夫，他把啓蒙的水灑向那孔孟瀰漫的大道上。因此時時被那無數吃慣孔孟的老頭子們跳腳痛罵，怪他不識貨。有時候他顯得疲乏了，失望了，忽然遠遠的覷見那望不盡頭的大路那一頭，好像也有幾個人在那裡灑水清道，他的心裡又高興起來了。」上文中「灑水清道」的人是指誰？(A) 嚴復 (B) 梁啟超 (C) 康有為 (D) 陳獨秀。(98 學測)

題目取自胡適紀念吳厚(又陵)的文章〈吃人的禮教〉。 1915 <新青年> 與新文化運動

(D) 72. 一本古代算數書列了一道例題：「今有大夫、不更、簪裹、上造、公士凡五人，共獵得五鹿，欲以爵次分之，問各得幾何？」書中記載正確答案是：他們依次分別得到 1 又 2/3、1 又 1/3、1、2/3、1/3 隻鹿。請問，這題算數反映了古代中國社會的哪項特色？(A) 年齡在鹿肉分配上的重要性 (B) 古代中國人特殊的數學觀念 (C) 個人的地位由獵鹿活動決定 (D) 不同爵位者的分配權利差異。(98 學測)

題目取自《九章算術》。 A 未提及年齡。 C 是個人地位決定鹿的分配

(C) 73. 兩位士族出身的文人，回憶了時代和家族出路。甲文人雖然看到戰亂使其家族前途未卜，但他相信，如果他的子弟想要出仕為官，應該不會有什麼問題。乙文人對於士人家族的前途同樣感到渺茫，但他所處的時代，官員們幾乎不可能為其後代子孫的仕途提供庇護。請問，甲、乙兩位文人最可能分屬於哪一朝代？(A) 秦朝、唐朝 (B) 元朝、清朝 (C) 魏晉、宋朝 (D) 漢朝、唐朝。(98 學測)

甲、世族時代 - (兩漢 → 魏晉 → 隋唐)  
乙、科舉取士 - (兩宋 → 元 → 明 → 清)

(B) 74. 教科書描述某一古都：「這個城市的人口大約一百萬，外國人可能占了三分之一。城內圍隔成一百多個坊，除了皇城、中央官署外，還有東、西兩個市場。如果有機會拜訪這座城市，你會因為眾多的佛寺而感到震驚。宴會上常可看到外國女子組成的樂隊，坐在駱駝背負的平臺上表演，演奏著類似吉他的琵琶。」這最可能是哪一座都城？ (A)東漢的洛陽 (B)唐朝的長安 (C)北宋的汴京 (D)清朝的北京。(98學測)

(B) 75. 在中國某個朝代中，皇帝頒下詔書，一個官員反對這個命令，並在詔書上寫下他的看法。其他官員趕忙勸阻，認為這對皇帝不敬，但這位官員表示這是法律賦予他的職責。皇帝知道此事後，非但沒有責備，反而嘉許他能防範詔敕可能發生的錯誤。這個故事最可能發生在何時？ (A)兩漢 (B)隋唐 (C)兩宋 (D)明清。(99學測)

(B) 76. 一位年輕人曾經通過縣裡的考試，中了秀才，卻必須再前往省城師範講習所唸書，以便將來可以找個事做。回到家鄉教書時，課本已經改變，要教算數，不再教千字文。而每個縣中都設置勸學所，以便提倡新式的教學，原本設在關帝廟的學堂也改稱高等小學。這位年輕人生活在哪個時期？ (A)清朝中期 (B)清末民初 (C)抗戰期間 (D)光復初期。(99學測)

(B) 77. 某一時期中，農民開始開墾荒地，改善灌溉措施，並使用各種役畜，也用各種有機肥料，以增加農作收穫。逐漸形成定耕，並獲得土地的所有權。這種情況最可能出現在何時？ (A)西周前期 (B)戰國時期 (C)西漢末期 (D)魏晉時期。(99學測)



(C) 78. 評論家討論右圖的畫作，說畫家精研透視法，對物體的結構、光影效果十分了解，也注重物像解剖，花瓣、枝葉畫得都維妙維肖。這幅畫作應當是：(A)元代的工筆畫，受到阿拉伯人的影響(B)明代的文人畫，受到知識分子的啟發(C)清代的宮廷畫，受到西方教士的教導(D)民國的寫意畫，受西方抽象畫的影響。(99學測)

(D) 79. 兩位學者各自根據其閱讀史料，提出對漢代社會型態的看法。甲學者認為漢代社會是地緣社會，聚落內部的血緣聯繫不強；乙學者則認為漢代是血緣社會，聚落內部同姓的力量強大。我們應如何理解兩位學者意見的差異？ (A)甲學者的主張符合古代宗族瓦解後的形勢，較為合理 (B)乙學者的看法反映出古代社會的延續性，較具說服力 (C)兩位學者立場相反，正可說明歷史解釋缺少合理基礎 (D)古代地域社會間差異甚大，不應該只有一種社會型態。(99學測)

(B) 80. 學者指出：明清之際，江南出現了「婦女半邊天」的說法，顯示江南婦女的家庭地位日益重要。這種現象的發生最可能與下列何者有關？ (A)通俗文化盛行，平民識字率提高，婦女在家庭中的地位因而提高 (B)棉紡織業興起，以女性為主的手工副業成為家庭經濟的重要收入 (C)引進甘藷、玉米等新作物，改變農業生產方式，提高了婦女地位 (D)江南地區人口大量外移，性別比例失衡，女性地位因而日益重要。(99學測)

A. 明清識字率提升 → 對女性要求更多 → 「女子無才便是德」  
 B. 男耕女織 → 明清商品化經濟 → 婦女地位提升  
 C. 無關  
 D. 無人口外移

(B) 81. 某州長官希望任用張三為其僚屬，但人事官員卻以「資籍不當」為由，不同意這項任命。當州長官表示一定要任用此人，人事官員嚴肅地說：「州僚屬的任命必須經過本地人的評議，我是本地人，既然不同意，長官就不應違反這個制度。」這樣的場景最可能發生在： (A)兩漢 (B)南北朝 (C)中晚唐 (D)宋明。(99學測)

(C) 82. 北魏孝文帝與漢人大臣討論統治人才的來源時，大臣主張應該以能力作為甄選人才的標準，孝文帝卻強調人才出自門第，應以門閥地位作為人才選拔之基準。關於此事，以下敘述何者較為適當？ (A)孝文帝漢化程度甚深，因而強調門第價值 (B)漢人大臣重視軍功，因而強調能力的重要 (C)重視門第是為保障鮮卑貴族的地位 (D)為了重用南方士族，因而強調依門第取士。(100學測)

(D) 83. 清末知識分子認為：「天下積弱之本，必自婦人不學始。」他們主張「興女學」，呼籲婦女應受教育，因為幼兒教育倚賴母教，女子教育的好壞實為國家強弱的依據。這時期士人鼓吹女學的主要背景為： (A)認同國際社會以婦女識字率為國力強弱的指標，故有此主張 (B)回應法國大革命中的人權主張，積極肯定婦女受教育之權利 (C)受西方女權主義影響，也效法西方，積極鼓吹婦女接受教育 (D)主張強國必先強種，鼓勵婦女讀書識字，以培育優良的後代。(100學測)

(A) 84. 幾位同學討論某一主題時，各自發表意見如下：(甲)中國皇帝權力來自上天，不受監督與制衡 (乙)時代愈晚，相權愈輕，皇帝直接掌理朝政 (丙)中央政府設有言官，提出建言，針砭朝政 (丁)地方長官有一定任期，接受中央政府遷調。這幾位同學討論的主題最可能是： (A)傳統政治的特質 (B)言官的政治功能 (C)政統與道統衝突 (D)中央與地方權限。(100學測)

(B) 85. 16世紀以後，白銀通過菲律賓、日本進入中國，從而導致中國經濟發生相應的變化，形成「白銀—銅錢」的貨幣體系。1800~1900年間白銀兌換銅錢數量的變化趨勢應當是： (A)銀價穩定下跌 (B)銀價穩定上漲 (C)銀價先跌後漲 (D)銀價先漲後跌。(100學測)

(B) 86. 幾件獸首銅像在一場藝術品拍賣會中公開發售，供收藏家競標，引來中國政府抗議。這些獸首銅像原本來自北京圓明園，在晚清一場戰爭中遭到外人掠奪，這場戰爭之後，清廷痛定思痛，開始改革。這場戰爭是： (A)鴉片戰爭 (B)英法聯軍 (C)甲午戰爭 (D)八國聯軍。(100學測)

(C) 87. 一位學者主張：政府施政應該配合農民生產活動的季節與時序，如此才能增加生產，糧食供應不虞匱乏。這種想法最早出現於何時？ (A)新石器時代早期，農業生產開始發展時 (B)周公東征時，為解決軍食提出這種主張 (C)戰國時期，各國均鼓勵生產，擴大稅收 (D)秦始皇統一中國，以天下蒼生福祉為念。(100學測)

(D) 88. 揚州城呈現出一幅忙碌的景象：市場裡，搬運工人正將來自湖北的稻米運到倉庫裡，港口邊，工人將棉布整齊地堆疊在一起，準備運上船，銷售到全國各地。一旁的茶樓裡，交易的商人正在結算著買賣的價格。這是哪個時期的景象？ (A)南朝時期 (B)唐朝中期 (C)北宋末年 (D)明朝後期。(100學測)

A. B. C 江南地區以種稻為主。特別是北宋有「蘇常熟，天下足」之諺。  
 「湖廣熟，天下足」  
 明代：江南地區(揚州、長江下游)順應棉織業盛行，改種經濟作物沐棉，並種桑養蠶

(1917~1991)

(C) 89. 中國某一個時期中，許多人呼籲總統賦予內閣全權，召開全國和談大會，並要求：改組內閣，網羅全國和平民主人士，充實和平的內容。他們甚至計畫發動國人，一致擁護和平；更希望美、蘇、英、法等強權能諒解，支持中國希望和平的想法。這個事件的背景是：(A) 1912年辛亥革命後，革命黨人對清廷的呼籲 (B) 1937年中日戰爭爆發後，學界對政府的希望 (C) 1949年國共和談期間，政界對國民黨的建議 (D) 1950年舊金山和會召開前，新聞界所提建議。(100學測)

A. 呼籲清帝退位. B. 希望奮起抗日. C. 建議中國人不打中國人. D. 中共建國後無新聞自由.

(A) 90. 春秋晚期，鄭國的執政大夫子產將刑法鑄於銅鼎，公布法律條文使國人周知。此舉引發鄰近晉國貴族之疑慮，認為人民可有成文法律做為靠山，據此爭取自身權益，極可能威脅既有的社會穩定及政治秩序。子產的改革與晉國貴族的疑慮，可以說明當時社會的哪種現象？(A) 平民興起漸成為國家中堅力量 (B) 政府的行政權萎縮，民權增強 (C) 貴族立法鎮壓百姓以維護封建 (D) 司法解釋與裁量改由人民主導。(101學測)

A. 公布法律代表政府重視人民的行為準則. B. 君權. C. 未鎮壓. D. 非人民主導.

(B) 91. 一篇論文裡的關鍵詞有：中日關係、山東問題、胡適、巴黎和會。這篇論文討論的主題最可能是：(A) 庚子拳亂 (B) 五四運動 (C) 瀋陽事變 (D) 七七事變。(101學測)

廣義的五四 = 新文化運動

(B) 92. 學者指出：某個時期的農村市鎮主要分布在黃河中、下游和長江三角洲；黃河中、下游的市鎮數量很多，但每個市鎮的貿易額卻不大；長江三角洲的情況恰好相反，市鎮數量少，但每個市鎮的貿易額都很大。不過，政府在兩個地區所收的商業稅大致相等。這種經濟現象最可能出現於何時？(A) 唐代前期，江南地區漸次開發 (B) 北宋時期，商業繁榮市鎮興起 (C) 蒙元時期，華北經濟漸趨沒落 (D) 明代時期，江南市鎮經濟擴大。(101學測)

A. 北方為政經中心. C. D. 南方經濟中心. → 南方正在崛起，但仍與北方持平，可見隱為南北重心，轉移之際。(宋遼與陸康)

(C) 93. 一位官員指出：為紓緩市場銅錢不足問題，政府應當禁止民間鑄造銅器。經大臣討論後，向皇帝建議：除銅鏡之外，禁止民間以銅為原料，鑄造器物。此事最可能發生於：(A) 秦朝，統一六國後，為促進商業活動，鼓勵民間自鑄銅錢 (B) 西晉，因漢末大亂後，百廢待舉，政府希望擴大銅錢流通 (C) 晚唐，因商業漸繁榮，貨幣不足，必須確保銅錢供應充足 (D) 清中期，因白銀流失日趨嚴重，朝廷下令，擴大銅錢流通。(101學測)

A. B. 史前. D. 白銀外流 → 禁鴉片

(D) 94. 古董商販售一批聲稱是從河南安陽出土的甲骨文書，指出：這批書寫於牛肩胛骨的文物，主要內容為土地交易契約。幾位同學發表看法，下列何種說法最可信？(A) 這批文物從河南安陽出土，又有甲骨文書，應當是真品 (B) 刻寫在牛肩胛骨，而非書寫在龜甲，故極有可能為贗品 (C) 甲骨文直到清末才出土，無法偽造，這批文物應為真品 (D) 商代並無土地交易行為，自然不可能有契約，應為贗品。(101學測)

史前前，中國仍屬自然經濟，收稅以實物為主(租庸調) → 史前後兩稅法(錢糧)

(A) 95. 西方商人到中國貿易時，地方政府常藉各種名義收取費用，令商人不能勝其擾。在一場戰爭後，中國政府同意各國商品除繳交5%的進口關稅外，不用再繳納任何雜費。從此以後，各國貨物正式繳稅進口，到各處販賣。這場戰爭是：(A) 鴉片戰爭 (B) 英法聯軍 (C) 甲午戰爭 (D) 八國聯軍。(101學測)

「協定關稅」：鴉片戰爭後的南京條約及其附約「秉公議定稅則」。

(D) 96. 1907年，湖廣總督張之洞建議朝廷：禁止書舖販售「某類物品」，違者重罰查封；並通令各省學堂，禁止學生購閱，違者逐出校門；令外務部商請總稅務司轉飭各郵政局，查禁銷毀，不得代寄。張之洞建議禁售的「某類物品」應是：(102學測)

(A) 天演論之書籍 (B) 基督教宣傳冊 (C) 憲政體制叢書 (D) 鼓吹革命書刊。

張之洞為自強運動後期的洋務派  
主張：「中體西用」，辦漢陽鐵廠...等 → A. 支持清末改革  
八國聯軍 → 東南互保 → B. 與外國關係良好  
庚子新政後 → 支持立憲 → C. 支持體制內改革

(A) 97. 教科書往往反映當代的時局與世變。某一時期，小學課本中有一個單元名稱為「一個惡魔」，說「帝國主義是什麼？帝國主義是一個惡魔。他一隻手裡是算盤，一隻手裡是武器。他有兩副面孔，打算盤的時候，他的面孔好像很和善，但是，使用武器的時候，他的面孔就變得兇惡無比了。」還說：「他恐怕人家不如他的意，就想同人家訂不平等條約。」這應當是哪個時期的課本？(102學測)

題幹：反帝國主義侵略

(A) 新文化運動時期 (B) 對日抗戰時期 (C) 文化大革命時期 (D) 臺灣戒嚴時期。

日心十一條 > 巴黎和會的不公 與英美並肩 破四舊 立四新 反共抗俄

(B) 98. 一本書的作者批評當時的社會現象，指出：世人喜歡利用祖先彰顯自己，例如王家已經遷居本地數代，但王某詩文中卻仍標示百年前的祖籍，以證明家世顯赫。這本書最可能是：(A) 漢代《風俗通義》 (B) 唐代《史通》 (C) 南宋《夷堅志》 (D) 清代《皇朝通考》。(102學測)

世族社會 = 兩漢經學：累世公卿 → 魏晉九品官人 → 隋唐

(C) 99. 一位政治人物呼籲：全國各黨各派要放棄歧見，停止內戰及一切敵對行為；大家應當團結一致，抵禦外侮，集中力量來奮鬥救國。這種說法應是：(102學測)

(A) 曾國藩對太平天國將領的招降公告 (B) 民國初年袁世凱稱帝時的登基宣言  
(C) 九一八事變以後毛澤東的抗日聲明 (D) 抗戰勝利後蔣中正號召團結的主張。

未聯合太平軍對抗英法聯軍 → 日本加速侵略，但國府仍以剿共為優先。

(D) 100. 秦漢時期實施郡、縣二級的行政區劃，最基層的地方行政長官為縣令(長)，負責管理地方，統籌稅收。當時縣令(長)如何產生？(102學測)

(A) 根據宗法，父死子繼 (B) 皇帝分封，冊命任用  
(C) 由郡守指派下屬擔任 (D) 由中央政府直接任命。

A. B. 為封建制. C. 郡守. 冊命皆由中央任命

(D) 101. 此一時期，君權高張，對於大臣、高官並不尊重。官員如觸怒天子，可能當眾遭到責罰，甚至押到午門外杖刑，年紀大的官員往往死於杖下。這本不是當時法典規範的刑罰，皇帝卻藉此樹立威望，壓抑大臣。這場景應發生於何時？(102學測)

(A) 漢代 (B) 唐代 (C) 元代 (D) 明代。→ 皇權高張 如違背聖意，即施以廷杖。大臣有議政空間 都議政傳統 偶有廷杖

(C) 102. 蔣中正在日記中記載：最近，中共代表向美國表示，中共必須重視莫斯科的意見，美國想調解國共關係，必須先徵求俄國同意。此段記載最可能出現於何時？(102學測)

(A) 1924年國民黨實施聯俄容共之際 (B) 1937年七七盧溝橋事變爆發之後  
(C) 1946年二次大戰後中國發生內戰 (D) 1958年中共發動八二三砲戰之前。

A. B. 美未介入. C. 馬歇爾. D. 中蘇關係生變，無須徵求莫斯科意見。

(D) 103. 民國成立後，清史研究日漸盛行，對於清初「文字獄」提出了新的觀點與解釋。學者研究指出，部分民間傳聞與歷史事實之間有很大的差距。下列對此一現象的說明，何者最合理？(102學測)

雖一手史料 不容為觀

(A) 民間傳聞係來自革命黨人的醜化 (B) 學者受科學史觀影響，否定傳聞  
(C) 清代檔案偏袒皇帝，立場不客觀 (D) 宮中檔案開放，學者找到新事證。

A. B. 傳聞有部份事實且不一定與革命黨人有關。→ 故宮陸續開放軍機處奏摺

(D) 104. 某人參訪都城後，認為首都氣象萬千、地理形勢佳，唯須仰賴東南的糧食。他說：前朝雖重修大運河，但糧米主要以海路運輸；本朝重新疏通運河，以利南方米糧北運。這是何時的首都？(A) 東漢洛陽 (B) 唐代長安 (C) 宋代汴京 (D) 明代北京。(103學測)

元代重修大運河

靠海 → 15+題 雲帆可轉東吳棹

(B) 105. 某一時期，朝廷給予官員合法占田的特權，官位越大，土地越多。同時，許多大族家中動輒擁有千百名奴僕，依法均不需負擔稅役。這最可能是哪一時期的現象？(103 學測)

(A) 戰國時期，戰爭頻仍，藉以爭取大族合作 (B) 晉朝，世家大族基礎雄厚，皇帝亦需妥協 (C) 南宋，為對抗北方金人，以特權換取支持 (D) 清初，南方未統一，以優厚條件吸引歸順。

→ 西晉「占田令」 世家大族：兩漢~唐 A.C.D 時代不符

(C) 106. 西方學術傳到中國時，引起許多人的學習興趣。某位皇帝對數學非常有興趣，儘管國事紛擾，南方還有重臣叛變，他仍與幾位數學家一起研究科學，計算各種幾何問題。這位皇帝最可能是：(103 學測)

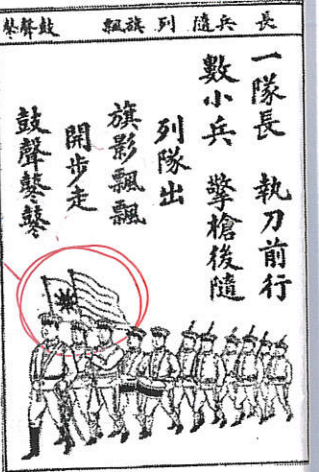
(A) 向馬可波羅學習西方科學的元朝皇帝 (B) 在宮廷討論歐基里德數學的明朝皇帝 (C) 向耶穌會傳教士學習數學的清初皇帝 (D) 在同文館學習數學、幾何的清末皇帝。

A. 馬可波羅帶來科學 B. 明無南方重臣叛變 C. 三藩之亂 D. 同文館：培養翻譯人才

(D) 107. 附圖是近代新式學堂教科書的課文及插圖，從課文的敘述與插圖的呈現，其內容最可能反映了哪一種時代思潮？(103 學測)

(A) 尊君思想，以維護皇室地位 (B) 強化團練，以防止內亂再起 (C) 排滿思潮，以推翻滿清政權 (D) 保國強種，以對抗列強侵略。

五色旗 → 中華民國已建立 A.B.C 刪 辛亥革命 18 星旗 民初 五色旗



(D) 108. 一個民族在中國建立政權後，國君諮詢學者，以了解統治中國之術。一位漢人建議：「為政應以原本法令為主，並參酌中國制度」。這種說法引起該民族的王公大臣反對，認為中國僅是帝國的一部分，不必重視，而統治者也不需採用亡國者的制度。這個統治民族是：(103 學測)

(A) 女真 (B) 鮮卑 (C) 契丹 (D) 蒙古。

漢化 漢化 設南面官 但北宋尚未之國

(C) 109. 某人回憶小時候至京城，看見城內建築十分雄偉，街道旁盡是青樓畫閣，寶馬奔馳在御路大街上。店舖裡陳列海外的奇貨珍寶，茶坊酒肆人聲鼎沸，夾雜說書聲，餐館夜間也常高朋滿座。父親說：這是百年無戰爭所創造的繁榮。這座京城應是：(104 學測)

(A) 東漢洛陽 (B) 唐代長安 (C) 北宋汴京 (D) 明初北京。

坊市制破壞 皇朝之盛 換來百年和平 → 宋之後 A.B 刪

(D) 110. 學者討論中國歷史上的某個朝代時，有人認為當時皇權專制盛行，社會停滯，思想僵化，可說是一個「黑暗時代」。但有學者不同意這種說法，主張當時商品經濟繁榮，類似今日資本主義的情況；出版事業發達，學術流通快速；知識分子還常常組織社團，發表對時事的意見。這些學者討論的是哪個朝代？(104 學測)

(A) 唐代 (B) 宋代 (C) 元代 (D) 明代。

皇權專制：明清兩代 (廢相) 商品經濟：明清兩代 (大航海)

(C) 111. 某一時期，朝廷一改前朝實施的兵農合一制，改採募兵制度。招募軍隊時，特別製定「兵樣」(體格標準)，凡體格強健、符合兵樣標準的士兵，優先編入京師軍隊，不符合者則分發到地方服役當差。這是何時的情況？(104 學測)

(A) 漢初，擴充軍隊，以保衛京師 (B) 唐代，設立標準，以揀擇府兵 (C) 宋代，強化禁軍，以強幹弱枝 (D) 明代，改革衛所，以防止逃役。

A. 漢代：徵兵制 B. 唐代：府兵制 (部分區域徵兵) C. 明代：衛所兵、世襲軍下制

兵農合一

(D) 112. 一位記者報導某次軍事衝突：在衝突爆發後，北京郊區一座車站被毀，電報線遭切斷，各國在北京人員無法對外聯絡。使節團立刻派人向外求援，緊急調集數百名官兵，進駐使館。20 多艘外國軍艦也迅速集結在天津附近，準備登陸。這個事件應當是：(104 學測)

(A) 1858 年的英法聯軍 (B) 1884 年的中法戰爭 (C) 1894 年的甲午戰爭 (D) 1900 年的八國聯軍。

A 時間不符 B 越南 C 朝鮮 東北 黃海

(B) 113. 資料一：漢初的諸侯國有自己的朝廷、軍隊，可自行任命官吏，向人民收稅，但丞相由中央派任。資料二：漢初法律文書記載，皇帝禁止不同諸侯國的人民相互通婚，士人不可以游仕諸國。綜合兩則資料，最能說明漢初哪種現象？(104 學測)

(A) 皇帝鼓勵諸侯推行地方自治 (B) 皇帝與諸侯的權力關係緊張 (C) 諸侯重視人民維持血統純正 (D) 諸侯強調人民應當安土重遷。

西漢初 採郡國並行制下 諸侯與皇帝關係緊張

(A) 114. 某網站計畫拍賣一批古物，聲稱是戰國時期的墓葬所出土之文物，包括：銅鏡、竹簡、毛筆與佛像。我們根據歷史知識可以判斷至少有一件文物必為贗品。這件文物應是：(104 學測)

(A) 佛像 (B) 毛筆 (C) 銅鏡 (D) 竹簡。

戰國 新石器 戰國 集於兩漢之間傳入中國

(C) 115. 一位西方人士觀察中國時，提到：「報紙上出現許多新名詞，『教育』就是一個使用頻率很高的新詞，用來區別過去使用的『授業』。一位名人則認為：教會學校從道德和知識兩方面著手，教育小學生，遠比傳統私塾要好。因為中國傳統私塾只是教給小學生許多難以理解，無法消化的倫理綱常大道理。」這種「新教育」的發展情況與下列哪個事件關係最為密切？(104 學測)

(A) 自強運動 (B) 義和團事變 (C) 新文化運動 (D) 文化大革命。

否定傳統教育 肯定新式教育 四書集注

(D) 116. 有位學者批評：自從政府確立「官方之學」以後，讀書人只重視官府提倡的經典注釋，反而較少研讀《論語》、《孟子》等原典。他們只知道必須按照考試要求，並熟讀範文，才能通過考試。這位學者批評的是：(104 學測)

(A) 漢武帝獨尊儒術，設立五經博士，提倡章句之學 (B) 曹魏以能力取才，不重視學術，士子無意於經典 (C) 唐宋科舉取士，士人只知讀古書，無法服務社會 (D) 明清科舉講究八股作文，士子重視練習科舉格式。

A. 太學 B. 唯提用 C. 詩賦策論 八股文

(B) 117. 一位官員上奏朝廷：「水師提督一職至關重要。賊眾已經無法在陸路造成影響，如果水師戰勝，則賊眾自然敗走臺灣。如果水師不勝，則賊眾仍將盤據廈門。若要想與賊眾決一死戰，必須倚賴水師提督。」這個奏摺的背景是：(104 學測)

(A) 明末官員要驅逐在東南沿海的倭寇 (B) 清初官員要驅逐鄭成功的殘存軍隊 (C) 清末官員希望驅逐廣東的英國商人 (D) 甲午戰爭時官員要驅趕進犯的日軍。

艦隊目前仍在廈門 可逐至台灣的軍隊

(B) 118. 一部地方志記錄某地區各縣的人口情形，內容顯示：地方官員除了登記當地居民的種族等級、宗教信仰外，也開始依職業將居民分成不同類別。方志中這種居民分類方式，最早可能反映何時的情況？(104 學測)

(A) 宋代 (B) 元代 (C) 明代 (D) 清代。

僅記錄田地男丁 戶計制 職業 丁口田宅 職業 但非最早 種族



(A) 119. 兩派人討論施政方向，有人認為：殷代的盤庚住茅屋，舜故意把黃金藏起來，漢高祖也禁止商賈當官，就是要遏止貪鄙之俗。也有人表示：各地設置運輸官員，方便運送貨品，可以賤買貴賣，平抑物價，都是便民的作法，有何不好？這兩派人討論的情況最可能是 (A) 漢代的經濟措施 (B) 宋代的商業稅收 (C) 明代的海外貿易 (D) 清代的自強新政。(105學測)

討論商 vs 便民  
 重農抑商 抑城全國市場 朝貢/海禁 輪船招商

(A) 120. 兩個鮮卑大臣議論國政時發生爭執，一人口操漢語，引用儒家理念發表議論，另一人責罵他為「漢兒」。這個現象最早可能發生在 (A) 北朝後期，實施漢化改革政策後 (B) 隋、唐前期，種族融合形成之後 (C) 五代十國，契丹南下打草穀之時 (D) 北宋初年，北亞民族南下中原時。(105學測)

→ 鮮卑大臣說漢語 → 北魏孝文帝漢化。 B.C.D 無關漢化。

(D) 121. 某一時期中，有些人擁有「特殊身分」，他們雖不能任官，卻可免除徭役，不被胥吏侵擾；他們與士人相同，可以用官禮參見官員，也可免於笞打等刑罰。因此，人們讀書不一定要求取官職，倒是希望獲得「身分」，可以保障身家。這種「身分」是指 (A) 漢代的孝廉 (B) 唐代的明經 (C) 宋代的禁軍 (D) 明代的生員。(105學測)

可在官 單職 科：通過最基本之院試者，具有「功名」之特權 (士紳)

(D) 122. 明末清初的西洋傳教士在中國傳教，往往必須借助於傳教以外的學識，才能受到朝廷的重視。如耶穌會教士南懷仁因擁有西方學問技藝而擔任許多職務，除為大家所熟知的欽天監外，他最可能還在哪個政府部門任職？(A) 吏部 (B) 戶部 (C) 禮部 (D) 工部。(105學測)

吏：人事考核 戶：財政 禮：科舉 欽天監 祭祀 外交 工：各項工程建設

(A) 123. 某一時期，朝廷重視海路互市，開放沿海地區，以便與阿拉伯半島的大食、印度半島的注釐 (Chola)、東南亞的蘇門答臘、爪哇、占城等地貿易，商人甚至遠從麥加前來。政府因此在廣州、泉州、杭州、明州、密州等港口設市舶司，發給貿易執照，征收貨物稅。請問政府設立機構管理海上貿易活動，最早始於何時？(A) 唐代 (B) 宋代 (C) 元代 (D) 明代。(105學測)

唐高宗年間 (661) 於廣州設市舶司。

(D) 124. 某國一位國會議員批評某次軍事行動，認為當初遠東軍司令部表示：只要派幾艘軍艦在海面行駛，中國就會退兵。現在我們派了這麼多軍艦前往中國，也不見中國退兵。司令部還說，如果能占領臺灣，中國必定派人求和，現在我們也攻打臺灣，還沒有聽說中國有求和的意思。這場戰爭的軍費，就讓遠東軍自行負擔，國會不應當為這次軍事行動付錢。該國會議員所提的軍事行動是 (A) 1840年鴉片戰爭 (B) 1856年英法聯軍 (C) 1874年牡丹社事件 (D) 1884年中法戰爭。(105學測)

→ 對中國用兵下 如占領台灣 中國會求和 C. 中國未派兵

(B) 125. 清朝末年，一位外交官員前往某國參觀該國閱兵，回北京後報告：這個國家改變制度，「擇(他國)長(處)為師，悉命人譯。飛砲霹靂，軍容強盛。有輕氣球，凌風千尺。」他有感而發，希望兩國能和平相處，「玉帛相見，互相輔弼」。這位外交官員參訪的國家最可能是 (A) 德國 (B) 日本 (C) 英國 (D) 土耳其。(105學測)

A.C 已是強國無須擇長為師。 題目出處：清末外交官黃遵憲  
 B. 明治維新 (西化) 躍升強國。 陸軍學校開校禮成賦  
 D. 鄂圖曼雖有改革，但效果不彰。 呈有梅川熾本親王

斯里蘭卡

(C) 126. 某次，中國政府派兵前往國外，全軍包括軍官與士兵等，共約 28000 人，並設置醫官、醫士、通譯、買辦等職官。拜訪了 30 多個國家和地區，途中曾與某國發生衝突，指揮官帶領官兵破城，生擒該國國王及家屬，送回京師。這是 (A) 漢代，張騫出使西域 (B) 宋代，富弼出使漠南 (C) 明代，鄭和出使南洋 (D) 民國，國軍前往滇緬。(105學測)

A. 張騫屢遭匈奴俘虜 B. 富弼出使遼國 未生擒國王 D. 協助英軍對抗日本

(B) 127. 某人建議：您控制的領域農業發達，天然資源豐富，土地比德、法兩國加起來還大。您跟令尊一樣深獲百姓支持，如果與中央合作，頂多是稱雄一方，不如自己創造一番事業。我國願意傾全力支持您，完成建國大業。這個對話的場景最可能是：(A) 1921年，英國首相向凱末爾建議 (B) 1928年，日本特使與張學良談判 (C) 1948年，蘇聯領袖對毛澤東指導 (D) 1949年，美國國務卿提醒蔣介石。(106學測)

其父張作霖 奉系軍閥 匪首  
 A. D 非地方領袖 C. 國共內戰下 毛未與中央合作

(A) 128. 日本史書記載：一艘我國船隻利用季風之便，抵達中國，在大運河邊的一個重要港口下錨。船員在此港中見到舟楫林立，商業繁榮，各種商品琳瑯滿目。城中有許多外國商人，購買各種貨品。沿運河北上，便可抵達首都。這個港口是：(A) 唐代的揚州 (B) 宋初的廣州 (C) 元代的泉州 (D) 清初的上海。(106學測)

B. C.D 不在運河旁 (清初海禁 不會有外國商人)

(C) 129. 某一時期，周天子因財政困難，必須派遣大臣向諸侯要求金援。齊、晉兩國也經常派遣使臣朝覲周天子，以提高自己的地位；原本與周天子關係最密切的魯國反而漸漸疏遠。這種現象最可能的原因是：(A) 周人滅商，始建國家，但基礎不穩 (B) 西周末年，外族常入侵，政局惡化 (C) 春秋時代，周王室衰微，霸主興起 (D) 戰國時期，大國崛起，戰爭頻頻。(106學測)

「尊王」 西周：犬戎入侵 平王東遷 華齊等國支援 → 春秋：齊晉藉「尊王攘夷」稱霸

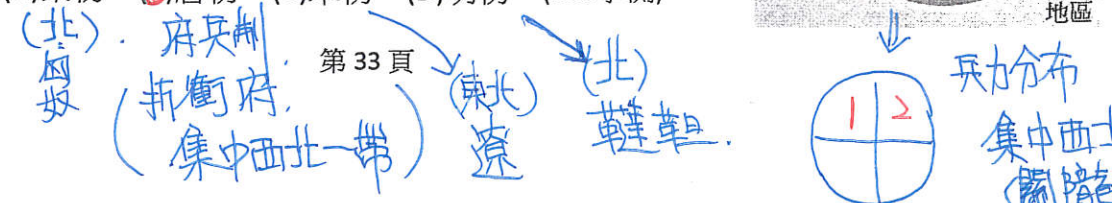
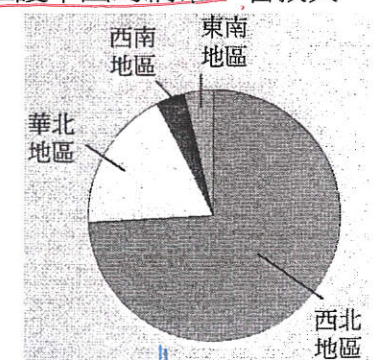
(C) 130. 一部書記載：祖宗設立某個官職，只不過是文學侍從，其職務至多止於在奏章上簽註處理的建議，呈請皇帝裁決。這個官職獲得委任的權力，和前代宰相絕不相同，以不具實權之官職，卻攬權在手，其勢必敗，歷來擔任這個官職者無美名，其故在此。此處所指的官職是指：(A) 漢代的博士官 (B) 唐代的中書令 (C) 明代的內閣大學士 (D) 清代的軍機大臣。(106學測)

果擬 擬定計劃 (伯爵皇帝批紅) (源自對西北用兵) 無權 具體權宰相 臨時組織

(C) 131. 以下三段資料為三個不同時期的中國知識分子對傳統與西方文化的看法：  
 資料甲：我們要拋棄傳統中國的四書五經、打倒那吃人的禮教，專心學習西方民主與科學。  
 資料乙：我們要拒絕污染心靈的西方文化，更要唾棄傳統中國的文化遺毒，知識青年應該下鄉向農民學習。 → 1966-1976 文化大革命  
 資料丙：我們可以仿效西方國家的科學與技術，但是，仍要堅持維護中國的綱常、名教與聖人之道。 → 自強運動 = 中體西用  
 上述資料依時序先後應是：(A) 甲乙丙 (B) 乙丙甲 (C) 丙甲乙 (D) 丙乙甲。(106學測)

甲 = 清末民初 新文化運動

(B) 132. 老師上課時，根據歷史資料繪製成附圖，以說明中國歷史上某個時期政府在全國兵力部署的比重。根據圖中訊息判斷，這應是何時的情況？(A) 秦初 (B) 唐初 (C) 宋初 (D) 明初。(106學測)



- (C) 133. 中國歷史上某地居民的職業結構如下：十分其民，而工商居其四（占四成）；十分其農，而佃戶居其六；十分其力，而傭工（雇傭勞動）居其五。上述的現象最可能發生於：(A)西漢的關中地區 (B)唐初的華北地區 (C)清初的長江地區 (D)清領前期的臺灣。(106學測)  
 → 工商占四成 → 明清. A. 重農抑商, B. 均田幾無佃戶, D. 務墾為主.
- (C) 134. 一位作者討論當時中國的社會情況，重要內容包括：論修治道路、論綏靖地方、懲戒奢侈、清除鴉片流弊、嚴禁買賣奴婢、禁溺女嬰等。這種想法最可能出現於下列何書中？(A)明代的《職方外紀》 (B)清初的《大義覺迷錄》 (C)清末的《自西徂東》 (D)抗戰時期的《中國之命運》。(106學測)  
 鴉片問題 → 清中後期 → 鴉片之母 漢督教.  
 A. 戴艾儒略介紹五大洲. B. 雍正發行的官方資料 辯駁傳聞. 對中國政治改革之論述
- (A) 135. 一份文書中，中國政府表示：「前次所有遇害難民之家，中國定給撫卹銀兩，貴國所有在該處修道、建房等件，中國願留自用，先行議定籌補銀兩。所有此事兩國一切往來公文，彼此撤回、註銷。至於該處『生番』，中國自宜設法妥為約束，以期永保航客，不能再受凶害。」這份文書應與哪一事件有關？(A)中國與日本有關牡丹社事件的討論 (B)中國因法國侵略安南，與法國交涉 (C)中德因德國企圖占領膠州灣的協議 (D)中國與各國就解決義和團事件商議。(106學測)  
 B. C. D 皆與生番無關  
 A. 在白晝界封山下的生番，殺琉球人而引來日軍侵台.
- (D) 136. 一位君主告誡大臣：前朝因為不斷加稅，造成民生困苦。不僅平時練兵要加稅，出兵遼東也要加稅，後來鎮壓民變、清剿海盜更要加稅，各項稅收超過兩千萬兩。「我朝」為民謀利，首先應當免除這些苛捐雜稅。這位君主所說的「我朝」應是：(A)唐 (B)宋 (C)明 (D)清(107學測)  
 明 倭寇. 明 滿洲
- (A) 137. 學者在東漢晚期遺址中發現許多銅鏡、畫像磚，多有「東王公」、「西王母」畫像，石印上也鑄刻「大山武帝神仙印」字樣，指出：這些器物可以反映當地的□□□□。□□□□應當是：(A)神仙方術 (B)佛教信仰 (C)儒家禮法 (D)祖先祭祀(107學測)  
 道教神祇
- (D) 138. 有人指出：雖然參加科舉可以成為官員，但道路艱辛，以蘇州府所轄八個州縣為例，總共有1,500個生員，但三年之內可以通過科舉者不足50人，成功率只有三十分之一。無法進入仕途者往往改行經商，有「士而成功也十之一，賈而成功者十之九」的說法。此人指出的現象最可能出現於哪一朝代？(A)東漢 (B)唐初 (C)宋初 (D)明末(107學測)  
 題目取自 俞英時，  
 <中國近世宗教倫理與商人精神>  
 無科舉. 明清江蘇一帶 商業發達，農為主. 屢試不中之秀才生員 → 投筆從商.
- 唐宋時期，隨著南海貿易的興盛，外國船隻停靠的貿易港也逐漸從廣州向北延伸到福建和長江流域。繼廣州之後，泉州、明州（今寧波）也發展成大商港。外國商船將香料、珊瑚、瑪瑙、寶石、象牙、藥材等商品輸往中國，並購買大量中國產品運回。請問：(107學測)
- (D) 139. 唐宋時期從南海來華貿易的外國商人，以下列何者為數最多？  
 (A)印度人 (B)馬來人 (C)義大利人 (D)阿拉伯人  
 7~12世紀 (伊斯蘭教) 阿拉伯帝國
- (D) 140. 外國商人從明州（今寧波）購買運回的主要商品為何？  
 (A)蔗糖、樟腦 (B)樟腦、苧麻 (C)蔗糖、棉布 (D)瓷器、絲綢  
 18世紀. 未受青睞. 中印 東南亞

- (D) 141. 孔子曾說：「夏禮吾能言之，杞不足徵也。殷禮吾能言之，宋不足徵也。文獻不足故也，足則吾能徵之矣。」他的遺憾，後代學者因為「新方法」而能夠逐漸填補夏、商兩代歷史的空白。這種「新方法」是：(A)唐代以後的地理學知識發達 (B)宋代的司馬光重新考證史記 (C)明清學者發展訓詁與文字學 (D)現代建立考古與甲骨文知識(107學測)  
 題幹指：孔子雖能說出夏商之禮，但無文獻可以佐証。  
 只能透過現代考古找出新遺跡或史料佐証.
- 某一朝代，因強敵入侵，皇帝從寧波乘船出逃，船隻在江南沿海躲藏以避追擊。四十天後敵軍撤退，皇帝才返回陸地。為了安全考量，皇帝決定在富庶的江南臨海地區建都，萬一強敵再侵時，才方便出海避難。請問：  
 → 無皇帝出逃之事.
- (C) 142. 該事件最可能是：(A)春秋時期的吳越相爭 (B)三國時期的孫吳政權 (C)女真壓境時宋室南渡 (D)滿清入關後南明諸王(107學測).  
 尚無皇帝之稱. 題幹指 擴充之難後. 康王趙構 (宋高宗).
- (C) 143. 學者記載他們見到一些外國經書與油畫：經書使用薄而堅好的白紙，兩面印刷，文字皆橫行。封面裱裝精美，還以「綵罽」（毛織品）、金寶裝飾，外面再以皮革包覆。油畫則是神采艷發，氣韻若生，認為「中土未曾有」。學者所見的經書最可能是：(A)漢代自印度傳入中國的佛經 (B)唐代回紇部落使用的古蘭經 (C)明末耶穌會士的基督教經書 (D)民國初年教會學校中的聖經(107學測)  
 油畫、印刷 → 文藝復興 (14~16世紀) 明代. D. 馬丁路德 主張「聖經至上」 → 聖經大流行下無須精美.
- (C) 144. 某一國際會議召開時，中華民國政府指出：會議摒除我國於會議之外，此為我國之辱。中華人民共和國當局也對該會議提出抗議，指出該會議背棄國際義務，中國不予承認。該國際會議指的是：(A)1945年雅爾達會議 (B)1946年聯合國第一次大會 (C)1951年舊金山和會 (D)1955年的第一次亞非會議(107學測)  
 1949建國. A. B 不符. 萬隆會議「第三世界」. 討論 <對日和約> 問題. 美 = 中華民國, 英 = 中共. 最後兩岸皆不出席.
- (A) 145. 學者發現許多三國時代吳國的文獻資料，包括《隱核（查核）新占民簿》、《隱核州軍吏父兄子弟簿》、《兵曹徒作部工師及妻子簿》、《郡縣吏兄弟叛走人名簿》、《生口買賣簿》等。這些簿冊的作用應是：(A)掌控各類人口，增加稅收 (B)強迫職業世襲，確保生產 (C)因應戰爭需要，強制徵兵 (D)分析人民壽命，發展醫學(107學測).  
 C. 徵兵 → 男丁. 但題目資料不限.
- (B) 146. 學者認為：國家失道，將敗之際，上天會先降下災害，以為警惕。如果人君無法領受天降災異的教訓，把政治導正，那麼天就有權力來奪取君王的權位。如果君王行為得當，五行運轉便正常。他因此主張：「天道」運行變化，主要是為了建立「人道」。這位學者最可能是：(A)主張民貴君輕的孟子 (B)主張天人感應的董仲舒 (C)主張格物致知的朱熹 (D)主張知行合一的王陽明(108學測).  
 以天道約束，限制皇權擴張.
- (C) 147. 1871年，西洋人在上海敷設了電報線；1877年，丁日昌在臺灣架設了電報設備，成為中國第一條自行架設的電報線。1879年，李鴻章也在天津與大沽及北塘之間架設電報設備。當時架設電報設備的主要動機是：(A)西洋商社在中國投資，希望中國提供電信設備 (B)中國報業為求現代化，希望引進電報通信設施 (C)清朝官員認為電報設施有助於國防，因此架設 (D)朝廷認為電報為國家現代化象徵，故極力支持(108學測)  
 中國自強運動期間. (1861~1895) 目標：富國強兵.

C. 小國大國  
D. 時局大變  
E. 權力更替

(B) 148. 許多關切教育的地方人士指出：國家建設百廢待舉，傳統知識已不敷使用，需借重歐美先進國家的政治經驗、學術思想與科學技藝等專門知識，才能提升國家建設的效率。國家先前雖曾多次派遣學生出洋念書，但人數不足。為便於學習歐美先進國家的專門知識，建設家鄉，我們也應廣派學子出國留學。呼籲主事者籌設「留學歐美預備學校」，招收學子，先在國內學習歐、美語文，以便將來出國學習。該文章反映哪種時代背景？(A)簽訂《南京條約》後，政府需培養對外交涉人才 (B)民國初年，擴大學校教育，也培育各種專門人才 (C)八年抗戰期間，同盟國資金援助，學生可赴歐美 (D)韓戰爆發以後，美援開始，故派遣學生赴美學習(108學測)

(A) 149. 白居易的〈琵琶行〉長詩寫於唐憲宗元和十一年(816年)，當時白居易貶官為江州司馬，居住在江西九江，對比長安與九江，有許多感想。下面詩句中，哪一句最足以說明白居易對兩地文化差異的看法？(A)潯陽地僻無音樂 (B)舉酒欲飲無管絃 (C)商人重利輕別離 (D)妝成每被秋娘妒(108學測)

(C) 150. 《東西洋考》記載某一時期中國的世界地理觀，東洋包括呂宋、汶萊、日本及紅毛番；西洋包括交趾、占城、暹羅、柬埔寨、麻六甲等。這本書反映出何時的世界觀？(A)唐代 (B)南宋 (C)明末 (D)清末(108學測)

151-152為題組

◎ 清朝初年，政府起用傳教士協助官員繪製《皇輿全覽圖》。康熙五十二年五月二十日(陰曆)，皇帝下令：「往河南、江南畫輿圖去的官和西洋人不必回來，就彼處往浙江舟山等處、福建臺灣等處畫去。但走海時，著伊等謹慎看好天色時節行走，不必急了。」從康熙四十九年到五十五年共完成「有度數直隸、山東等13省全省圖14張」。這些地圖都以「府」為基本量算單位，用墨色硬筆繪製，度數用阿拉伯數字記在圖的邊框，山川城鎮符號基本一致。請問：(108學測)

(A) 151. 協助清朝官員繪製地圖的傳教士最可能是：(A)法國的耶穌會教士 (B)英國的長老會教士 (C)荷蘭的喀爾文教士 (D)俄羅斯的東正教士

(D) 152. 論者認為：《皇輿全覽圖》係由傳教士執筆繪製。題文中哪項資料可支持此論點？(A)全圖使用墨色硬筆繪製 (B)山川城鎮符號基本一致(C)以府為基本的量算單位 (D)度數用阿拉伯數字標記

(C) 153. 某一時期，中國周邊民族普遍使用文字，並營建都城，反映其國家組織的強化，構成對農業中國的嚴重威脅。無論是東北、北方，甚至西南，都發生周邊民族入侵的現象，同時對中國造成重大的壓力。這種形勢出現於何時？(A)西周末年 (B)西晉末年 (C)唐宋之際 (D)清朝中葉(108學測)

[有文字]  
(西夏) (契丹)  
唐~宋  
(大理)

◎ 十八世紀，清朝一位皇帝對該朝首都地理形勢描述：「右擁太行左滄海，南襟河濟北居庸。會通帶內遼海外，雲帆可轉東吳粳(稻米)。」請問：(108學測)

(D) 154. 十九世紀下半葉，「雲帆可轉東吳粳」的情況則有大幅改變，造成此一改變的最主要原因為何？(A)美洲作物引進 (B)鐵路運輸興起 (C)捻亂破壞航路 (D)海運取代漕運

(A) 155. 漢代墓葬出土的壁畫、畫像石和畫像磚中，以「孔子見老子」作為畫像說明文字者，數量多達七十餘件。畫像主題描繪孔子向老子行禮，請教禮儀。這類畫像最可能反映出漢代的哪種思想脈絡或背景？(109學測)

(B) 156. 中共建國後，為貫徹共產主義的理想，在1950年代後期開始推動「集體化」運動，即打破小農經濟的格局，取消土地私有制，在農村推動集體農場制度，並開始將農村編組成人民公社。但這些政策並無法解決農村問題，甚至弊多於利，演變成空前的災難，農村因飢饉而引發大量人口死亡。下列哪項原因和中國這項集體化運動的失敗最有關係？(109學測)

(A)抗美援朝戰爭爆發，農民被動員上戰場 (B)取消土地私有制，使農民失去生產意願 (C)集體農場精耕細作，傳統農民無法適應 (D)推行上山下鄉運動，導致農村人力不足

(B) 157. 某一時期，中共《新華日報》〈社論〉曾讚美「美國是自由世界的核心、民主的守護神、專制者的敵人」，希望用民主與科學的紐帶結合中、美兩大民族。後來，毛澤東也強調反對一黨專政，主張建立民主的聯合政府，承諾保障人民的言論、出版、集會、結社、思想、信仰及身體等自由。發表上述言論的背景最可能是：(109學測)

(A)1920年代，中國共產黨成立時的主張 (B)1940年代，要拉攏美國，對抗國民黨 (C)1960年代，爭取美國支持文化大革命 (D)1970年代，會見季辛吉保證支持美國

(C) 158. 學者指出：北魏實行均田法的背景，第一，因戰亂的傷亡及遷徙，留下大片無主荒田；第二，許多農民為躲避戰禍，逃離農村，流落城市，成為不事生產的游民；第三，農民投靠大戶士族，「五十三十家方為一戶」，只向其宗主貢獻，不必向政府納稅。均田法的實施是結合戶籍的清查及管理，透過計口授田，使農業勞動力與耕地達到合理配合，以恢復生產，建立小農社會。根據上述，學者認為北魏均田法實施的主要目的最可能是：(109學測)

◎ 宋代立國之初，強化中央集權並提倡文人政治。時人汪洙有〈神童詩〉云：「天子重英豪，文章教爾曹；萬般皆下品，惟有讀書高；滿朝朱紫貴，盡是讀書人。」學者認為，文人政治本為配合宋初的國家政策，但因宋室後人墨守成規，以致造成重文輕武的現象，終至無法應付強鄰環伺的局面。請問：

(A) 159. 宋初採行中央集權，提倡文人政治的目的為何？(109學測)

(A)化解軍人勢力的威脅 (B)提高官僚集團的素質 (C)防止兵將帥間的猜忌 (D)節省國家軍費的支出

中唐 → 五代十國  
藩鎮割據的擴大與延長

南宋才傳入中國 → A、B、C 皆不合。

◎某一時期起，商人從外地運來棉花，農家女子在家將棉花紡成棉紗，再織成棉布。農民家庭男耕女織的運作模式日漸明顯，而商人定期收集棉布，運往城鎮染色、整平，即可上市販售。請問：

(D) 160. 題文中這種生產形態，最可能出現於何時？(109學測)

- (A) 戰國時期，男耕女織成為編戶齊民的主要生產形態
- (B) 魏晉時期，以布帛為貨幣，故紡織成為重要的產業
- (C) 宋代，為追求北方邊境和平，需不斷提供遼夏布帛 → 絹帛
- (D) 明代，商業發達，產銷棉布為主的專業化市鎮興起


◎某一時期，一艘駛向中國的外國船隻在冬天航行時，遇上暴風，漂流至中國東南沿海某地，船中乘客獲救，送往官府途中，險被民眾毆殺。這位乘客懂漢字，在與中國官員筆談後，得知該地長期以來受到外國海盜侵擾，村民誤認他是海盜，所以群情激憤。這個區域除了經常有外國海盜騷擾外，且因環境條件不佳，謀生不易，導致人口常往海外移出。請問：

(C) 161. 題文中的這位乘客最可能是下列何者？(109學測)

- (A) 日本派到長安的遣唐使者
- (B) 元代到泉州的阿拉伯商人
- (C) 明代到中國遊歷的朝鮮士人
- (D) 清初到北京考試的越南士人

冬季風向 ↙ ↓ (B、D 刪去)  
海盜 → 明清的問題 (A、C 刪去)

筆記區



「人們把我的成就歸於天才，其實我只是刻苦而已。」  
——愛因斯坦

### 三、世界史(共 147 題)

(D) 1. 近代民族主義的傳布與拿破崙征伐有密切的關係。請問下列哪一次革命與拿破崙的崛起密切相關，同時也是將「人民」(people) 轉化為「民族」(nation) 的革命運動？(A) 英國光榮革命 (B) 美國獨立革命 (C) 俄國十月革命 (D) 法國大革命。(91 學測)

(C) 2. 十八世紀一位英國學者針對「圈地運動」前後的變化，指出：「過去小土地所有者和小租地農民，靠自己耕種土地的產品和公有地上放養的羊、家禽、豬等維持自己和家庭的生活，幾乎不必向市場購買。如果土地落到少數大租地農場主手中，他們就必須為別人勞動才能維持生活，而且不得不到市場上去購買自己所需要的一切。因為將有更多尋找職業的人被趕到城市裡去，城市和手工業工廠將會擴大。」根據上述材料，應如何理解「圈地運動」及其影響？(A) 圈地運動使農民流離失所，為英國社會帶來動亂，直接導致英國王權的解體 (B) 圈地運動使英國農業支離破碎，成為後來中產階級必須克服的難題，因而延緩工業革命的發生 (C) 圈地運動迫使人們仰賴市場供應生活物資，反而提升農業生產效率，為後來工業革命打下基礎 (D) 圈地運動使農村勞力移向城市，對後來英國工業革命的發生構成不利的影響。(91 學測)

(B) 3. 一本歷史書討論某次戰爭爆發時，某國軍隊的組成狀況是：在每 100 個動員的士兵裡，約有 25 人講日耳曼語，22 人講馬札兒語，12 人講捷克語，9 人講塞爾維亞——克羅埃西亞語，8 人講波蘭語，7 人講烏克蘭語，7 人講羅馬尼亞語，5 人講斯洛伐克語，3 人講斯洛凡尼亞語，1 人講義大利語。根據此一組成方式，這支軍隊應是：(A) 1812 年遠征俄國的拿破崙大軍 (B) 1914 年參與世界大戰的奧匈帝國軍隊 (C) 1939 年入侵波蘭的納粹德軍 (D) 1968 年干預「布拉格之春」的華沙公約國軍隊。(91 學測)

(B) 4. 某生到圖書館借了一本書，其章節包括「個人的發展」、「古典的復興」、「世界和人的發現」、「社會和節慶」等。由這些章節安排看來，此書最可能是下列何者？(A) 《路易十四時代》 (B) 《義大利文藝復興的文化》 (C) 《論自由與代議政治》 (D) 《夢的解析》。(91 學測)

(B) 5. 以色列與阿拉伯國家之間的衝突，是影響當前中東地區穩定的關鍵因素。以阿衝突是從哪一場戰爭結束以後才開始的？(A) 第一次世界大戰 (B) 第二次世界大戰 (C) 六日戰爭 (D) 波斯灣戰爭。(91 學測)

(C) 6. 十九世紀後期，帝國主義發展到一個新的階段，下列有關這個階段的敘述，哪一項是不正確的？(A) 這是工業革命擴張促成的結果 (B) 帝國主義者自以為把進步文明帶給被殖民者 (C) 從事新帝國主義擴張的都是歐洲國家 (D) 社會達爾文主義為其提供侵略的理論基礎。(91 學測)

(D) 7. 1939 年 9 月 1 日德國進攻波蘭，當時德國宣傳部長如果要以最快速度告知全國人民的話，他會採取哪種方式？(A) 電視 (B) 報紙 (C) 街頭文宣隊 (D) 廣播。(92 學測)

(A) 8. 1870 年後，阿根廷能夠大量外銷乳製品及肉品到歐美國家。這與下列哪一項發展的關係最密切？(A) 冷凍技術 (B) 鐵路建設 (C) 開鑿運河 (D) 輪船通航。(92 學測)

1842 (英) 冰+鹽  
1882 偶然冰凍  
1923 克拉倫斯·伯寧  
冷凍食物  
1825 史蒂芬生父子  
No.1 蒸汽機車  
1830 No.1 鐵路  
利物浦  
曼徹斯特  
1842 巴拿馬運河  
1880 建造  
1873 No.1 蒸汽輪船  
1807 富爾頓  
輪船  
(北河號)

本題與年代無關  
運送易腐敗食品  
需冷凍技術