

南宋才傳入中國 → A、B、C 皆不合。

◎某一時期起，商人從外地運來棉花，農家女子在家將棉花紡成棉紗，再織成棉布。農民家庭男耕女織的運作模式日漸明顯，而商人定期收集棉布，運往城鎮染色、整平，即可上市販售。請問：

(D) 160. 題文中這種生產形態，最可能出現於何時？(109學測)

- (A) 戰國時期，男耕女織成為編戶齊民的主要生產形態
- (B) 魏晉時期，以布帛為貨幣，故紡織成為重要的產業
- (C) 宋代，為追求北方邊境和平，需不斷提供遼夏布帛 → 絹帛
- (D) 明代，商業發達，產銷棉布為主的專業化市鎮興起


◎某一時期，一艘駛向中國的外國船隻在冬天航行時，遇上暴風，漂流至中國東南沿海某地，船中乘客獲救，送往官府途中，險被民眾毆殺。這位乘客懂漢字，在與中國官員筆談後，得知該地長期以來受到外國海盜侵擾，村民誤認他是海盜，所以群情激憤。這個區域除了經常有外國海盜騷擾外，且因環境條件不佳，謀生不易，導致人口常往海外移出。請問：

(C) 161. 題文中的這位乘客最可能是下列何者？(109學測)

- (A) 日本派到長安的遣唐使者
- (B) 元代到泉州的阿拉伯商人
- (C) 明代到中國遊歷的朝鮮士人
- (D) 清初到北京考試的越南士人

冬季風向 ↙ ↓ (B、D 刪去)
海盜 → 明清的問題 (A、刪去)

筆記區



「人們把我的成就歸於天才，其實我只是刻苦而已。」
——愛因斯坦

三、世界史(共 147 題)

(D) 1. 近代民族主義的傳布與拿破崙征伐有密切的關係。請問下列哪一次革命與拿破崙的崛起密切相關，同時也是將「人民」(people)轉化為「民族」(nation)的革命運動？(A)英國光榮革命 (B)美國獨立革命 (C)俄國十月革命 (D)法國大革命。(91學測)

(C) 2. 十八世紀一位英國學者針對「圈地運動」前後的變化，指出：「過去小土地所有者和小租地農民，靠自己耕種土地的產品和公有地上放養的羊、家禽、豬等維持自己和家庭的生活，幾乎不必向市場購買。如果土地落到少數大租地農場主手中，他們就必須為別人勞動才能維持生活，而且不得不到市場上去購買自己所需要的一切。因為將有更多尋找職業的人被趕到城市裡去，城市和手工業工廠將會擴大。」根據上述材料，應如何理解「圈地運動」及其影響？(A)圈地運動使農民流離失所，為英國社會帶來動亂，直接導致英國王權的解體 (B)圈地運動使英國農業支離破碎，成為後來中產階級必須克服的難題，因而延緩工業革命的發生 (C)圈地運動迫使人們仰賴市場供應生活物資，反而提升農業生產效率，為後來工業革命打下基礎 (D)圈地運動使農村勞力移向城市，對後來英國工業革命的發生構成不利的影響。(91學測)

(B) 3. 一本歷史書討論某次戰爭爆發時，某國軍隊的組成狀況是：在每 100 個動員的士兵裡，約有 25 人講日耳曼語，22 人講馬札兒語，12 人講捷克語，9 人講塞爾維亞——克羅埃西亞語，8 人講波蘭語，7 人講烏克蘭語，7 人講羅馬尼亞語，5 人講斯洛伐克語，3 人講斯洛凡尼亞語，1 人講義大利語。根據此一組成方式，這支軍隊應是：(A)1812 年遠征俄國的拿破崙大軍 (B)1914 年參與世界大戰的奧匈帝國軍隊 (C)1939 年入侵波蘭的納粹德軍 (D)1968 年干預「布拉格之春」的華沙公約國軍隊。(91學測)

(B) 4. 某生到圖書館借了一本書，其章節包括「個人的發展」、「古典的復興」、「世界和人的發現」、「社會和節慶」等。由這些章節安排看來，此書最可能是下列何者？(A)《路易十四時代》 (B)《義大利文藝復興的文化》 (C)《論自由與代議政治》 (D)《夢的解析》。(91學測)

(B) 5. 以色列與阿拉伯國家之間的衝突，是影響當前中東地區穩定的關鍵因素。以阿衝突是從哪一場戰爭結束以後才開始的？(A)第一次世界大戰 (B)第二次世界大戰 (C)六日戰爭 (D)波斯灣戰爭。(91學測)

(C) 6. 十九世紀後期，帝國主義發展到一個新的階段，下列有關這個階段的敘述，哪一項是不正確的？(A)這是工業革命擴張促成的結果 (B)帝國主義者自以為把進步文明帶給被殖民者 (C)從事新帝國主義擴張的都是歐洲國家 (D)社會達爾文主義為其提供侵略的理論基礎。(91學測)

(D) 7. 1939 年 9 月 1 日德國進攻波蘭，當時德國宣傳部長如果要以最快的速度告知全國人民的話，他會採取哪種方式？(A)電視 (B)報紙 (C)街頭文宣隊 (D)廣播。(92學測)

(A) 8. 1870 年後，阿根廷能夠大量外銷乳製品及肉品到歐美國家。這與下列哪一項發展的關係最密切？(A)冷凍技術 (B)鐵路建設 (C)開鑿運河 (D)輪船通航。(92學測)

1842 (英) 冰+鹽
↓
1882 偶然冰凍
↓
1923 克拉倫斯·伯寧
冷凍食物

1825 史蒂芬生父子
No.1 蒸汽機車
↓
1830 No.1 鐵路
利物浦
曼徹斯特


巴拿馬運河
1880 建造
↓
1913 啟用

1783 No.1 蒸汽輪船
↓
1807 富爾頓
輪船
(北河號)

第 39 頁

本題與年代無關
運送易腐敗食品
需冷凍技術

- (B) 9. 下圖描繪一處刑場，請問畫中情景可能出現在哪一個時期？ (A) 宗教改革時期，羅馬教廷迫害異端的情景 (B) 法國大革命時期，恐怖統治的景象 (C) 史達林統治時期，俄共處決反革命分子的一幕 (D) 二次世界大戰期間，納粹德國屠殺猶太人的情況。(91 學測)



- A. 宗教改革, 用火刑迫害異端
 B. 法國大革命, 用路易十六改良的斷頭台
 C. 史達林
 D. 納粹] 尚採集體屠殺(槍砲毒氣)

- (A) 10. 一位傳教士描寫他在一個殖民地看到的現象：「這些魔鬼在廣大的土地上進行蹂躪、破壞、殺戮，那裡原先是一片安樂景象，有美麗的大省、寬廣的谷地、可愛的區域、很大的村莊，人口眾多、黃金豐富。他們對各個民族趕盡殺絕，不留下任何說別種語言的人，只有那些逃進山洞或地洞的人才逃脫這殘酷可憎的命運。他們採用種種奇異、極端殘忍、不公正與褻瀆宗教的手段，屠殺、毀滅了這些無辜的人民。」請問：這是指哪一個國家對哪一個殖民地的掠奪？ (A) 西班牙對南美洲 (B) 英國對阿富汗 (C) 日本對臺灣 (D) 英國對印度。(91 學測)

→ 16 世紀 舊帝國主義下的西班牙 掠奪中南美黃金 殘殺印第安人
 19 世紀的新帝國主義國家 多採資本主義的經營方式

第 11-12 題為題組(91 學測)

有一本書上說：「每一個人都是他自己經濟事務的最佳裁判者，自由競爭和致富的欲望可以導致社會整體財富的增加。儘管每個人都是自私的、而且常常不顧及共同的利益，但是他們的共同活動，卻自然地趨於全體共同經濟福祉。這種情況，就如同有一隻看不見的手在調節一切一樣。」請根據這段資料，回答下列問題：

- (A) 11. 這種理論符合下列何者的主張或政策？ (A) 亞當斯密 (Adam Smith) 的「國富論」(The Wealth of Nations) (B) 魏勃夫婦 (Sindey and Beatrice Webb) 的「費邊主義」 (C) 凱因斯 (John Keynes) 的經濟學說 (D) 美國總統羅斯福 (Franklin Roosevelt) 的「新政」(New Deal)。

A. 自由放任的市場經濟 B. 以溫和(民主投票)方式逐漸改變貧富差距 C. D. 總體經濟學

- (B) 12. 文中所謂「一隻看不見的手」，指的是什麼？ (A) 資本家的幕後操控 (B) 市場的自然運作 (C) 上帝的特別天祐 (D) 政府無所不在的影響力。

- (D) 13. 一部諷刺小說描寫一個農莊之中，牛、馬等動物因不堪人類虐待，憤而在豬的號召下，起義推翻了人類。但豬卻成了新的統治者，訓練走狗去監視其他動物，被統治者受到的痛苦，更甚於從前。這是諷刺下列哪一場革命？ (A) 英國的光榮革命，豬指的是英國國教派信徒 (B) 法國大革命，豬指的是共和政府 (C) 美國的南北戰爭，豬指的是北方的工業主 (D) 俄國的十月革命，豬指的是共產黨員(92 學測)

題目取材自喬治·歐威爾《動物農莊》：人類→沙皇 豬→共產黨 採極權統治

- (B) 14. 當代一位學者介紹南洋群島東部的一個小島嶼，指出因為這個島嶼面積小，也沒有重要物產，所以現代許多地圖根本忽略其存在。但是，在十七世紀歐洲人出版的地圖中，這個島嶼總是占著重要地位，比例被放大，島嶼被繪成比實際應有的大小還大得多。這個島嶼在十七世紀時受到重視，最可能的原因是：(A) 盛產鳥糞，是歐洲花卉肥料的主要來源 (B) 出產荳蔻，是當時歐洲貿易的重要商品 (C) 宗教聖地，是回教在南洋傳教的立足點 (D) 盛產煤礦，是當時船隻的主要動力來源。(93 學測)

歐人東來亞洲 為的是香料

第 40 頁

故題幹所指的 應為「摩鹿加群島」 又稱「香料島」

- (B) 15. 一位作家討論二十世紀的某種「主義」時，認為「沒有它，印度可能還受英國統治，印尼也可能還屬於荷蘭，但日本的軍國思想卻也因此而起。印度與巴基斯坦間的不良關係，更與此有密切關聯。」這位作家所說的「主義」最可能是指下列何者？ (A) 重商主義 (B) 民族主義 (C) 帝國主義 (D) 共產主義。(93 學測)

民族主義 → 民族情感 → 自強 → 向外侵略
 16 世紀 航海 擺脫殖民

- (D) 16. 一個首都中，有許多清真寺，有基督教教堂，也有猶太人居住。這裡經常發生宗教衝突，所以有人稱之為「第二個耶路撒冷」。這個首都最可能位於下列哪個地區？ (A) 馬來半島 (B) 印度半島 (C) 伊比利半島 (D) 巴爾幹半島。(93 學測)

天主教 君士坦丁堡 → 伊斯坦堡 [歐洲火藥庫] 伊斯蘭教 印度教為主

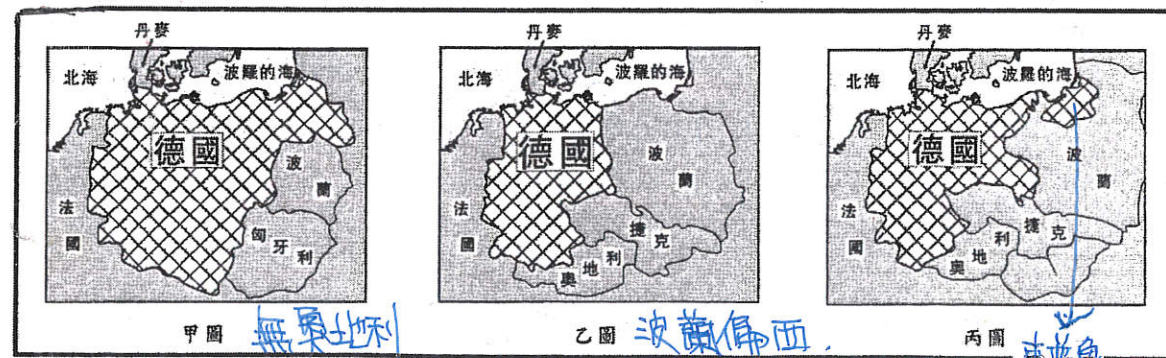
- (A) 17. 一位學者回憶自己的一生，記載著：「我出生時，宗教法庭剛廢除，小時候見到國內第一條鐵路通車，後來目睹各地工人的抗議及暴動。我曾參與過幾次戰爭，親眼見到國家統一。我從事科學研究時，結合物理與醫學，才有生理光學的著作。」這位學者應當是下列何人？ (A) 德國科學家赫姆霍茲 (1821~1894) (B) 波蘭裔法國科學家居禮夫人 (1867~1934) (C) 義大利科學家馬可尼 (1874~1937) (D) 德裔科學家愛因斯坦 (1879~1955)。(93 學測)

德國 1871 年完成統一 義大利 1870 收回羅馬 完成統一

- (D) 18. 下表是四個國家某項數據資料，從 1931 年到 1937 年的變化。幾位同學討論該表的意義，以下何人的說法較為正確？ (A) 這是各國飛彈生產量的數字，俄國因準備對抗希特勒，所以數字較高 (B) 第一次大戰之後，各國裁軍，這是以 1918 年為基準各國裁軍的百分比 (C) 這是各國發展核能發電廠的數字，俄國幅員廣闊，所以核能發電較多 (D) 這是以 1929 年為基準的各國經濟發展指數，俄國受不景氣的影響較小。(93 學測)

國別	年度	1929	1931	1934	1937	1939
英國	經濟	84	3	99	2	124
德國	納粹	72	4	83	3	116
法國	大恐慌	89	2	78	4	83
俄國	計劃經濟	161	1	238	1	424

- (D) 19. 下圖中，甲、乙、丙是德國歷史上三個不同時期的地圖，地圖中所列之國家均已翻譯成現在的名稱。這三份地圖所反映的時間先後順序為何？ (A) 甲、乙、丙 (B) 乙、丙、甲 (C) 乙、甲、丙 (D) 丙、甲、乙。(93 學測)



甲圖 無異地利
 ↓
 1939 希特勒 吞併

乙圖 波蘭併西
 ↓
 二戰後局勢

丙圖 東普魯士
 ↓
 1919 巴黎和會 處置德國

第 41 頁

(A) 20. 一部小說中有下列的情節：「海港都市中，大蒸汽船帶來許多遠洋的新奇貨物，街上有許多新式建築，而城中商家販賣許多外國商品，有一種自鳴鐘，吸引了居民的注意。一家著名的藥材店新裝了電燈，許多客人感到非常驚喜。」下列哪一個項目最足以判斷這部小說寫作的確實時間？ (A) 電燈 (B) 新式建築 (C) 大蒸汽船 (D) 自鳴鐘。(93 學測)

1756 現代混擬土 1807 富爾頓 17-18 世紀

找出時間 1879 愛迪生 最晚的那個。

第 21-22 題為題組(93 學測)

◎下表是以世界各大洲為單位的聯合國會員數目統計圖。請問：

地區	年度	1945	1955	1965
甲 美	1945	22	22	24
乙 非	1945	4	5	37
丙 亞	1945	9	21	26
丁 歐	1945	14	26	28

玻利瓦爾宣言 (1823 獨立)

非洲團結組織

(A) 21. 甲區顯示的情況最可能屬於哪一洲？ (A) 美洲 (B) 非洲 (C) 歐洲 (D) 亞洲。
(C) 22. 乙區會員數目增加的主要原因為何？ (A) 冷戰結束之後，許多共產國家紛紛加入聯合國 (B) 蘇聯為了鞏固其地位，鼓勵加盟國參與聯合國 (C) 非洲新興民族國家開始出現，並參與國際事務 (D) 亞洲共產主義退潮，東南亞出現許多新興國家。

十九世紀初，因拿破崙占領歐洲，「解放者」玻利瓦爾領導美門羅宣言。

(D) 23. 有一部小說指出：「自從蒸汽機成為世界的王后以來，貴族頭銜已成為無用之物。」據此一敘述推論，當時取代貴族的是什麼階級？ (A) 農民階級 (B) 勞工階級 (C) 教士階級 (D) 資產階級。(94 學測)

十九世紀法。現實主義司湯達。(借指工業革命 → 工業資本主義興起)

(D) 24. 某一時期，德國人宣稱「我們的未來在海上」、法國人高唱「不要忘記色當之役」、俄國人揚言「保護衛斯拉夫兄弟」。這些響亮的口號與行動，最後導致哪個戰爭？ (A) 普法戰爭 (B) 克里米亞戰爭 (C) 俄土戰爭 (D) 第一次世界大戰。(94 學測)

德 = 大海軍主義，法 = 普法戰爭之恥，俄 = 大斯拉夫主義，保護塞爾維亞

(A) 25. 有一位著名作家，經常徵引古希臘、羅馬的論述，來反思、探索人的問題，強調每個人都可以創造自己的命運。這位作家代表哪一種思潮的精神？ (A) 文藝復興 (B) 啟蒙運動 (C) 浪漫主義 (D) 存在主義。(94 學測)

20

(C) 26. 某位藝術大師，作品風格不斷變化創新，其立體派畫風與人道主義的反戰作品尤為著名。這位藝術大師的風格應是屬於哪個時期？ (A) 十九世紀前期 (B) 十九世紀後期 (C) 二十世紀前期 (D) 二十世紀後期。(94 學測)

後現代 (1884-1973) 浪漫主義 寫實印象 立體 → 達達 → 超現實 (一戰) 20 年代

[題目取材自畢卡索《格爾尼卡》西班牙內戰]

(B) 27. 十九世紀時有些社會主義者思考解決當時的社會問題，提出用選票爭取勞工階級利益、勞工階級組成政黨、培養社會改革人才等方法。這類主張屬於何種社會主義？ (A) 共產主義 (B) 費邊社 (C) 工團主義 (D) 無政府主義。(94 學測)

A, C, D 皆不相信能透過與上層協商可改善民衆生活。

社會主義 = 烏托邦(空想) → 馬克思(歷史、演化) → 費邊社(體制內) 階級鬥爭

(B) 28. 在歐洲列強控制下，亞非許多地區遲至二十世紀中後期才脫離殖民統治，但是拉丁美洲國家卻能在十九世紀初期獲得獨立，其主要原因為何？ (A) 受美國實行巨棒政策的影響 (B) 受啟蒙運動與民族主義影響 (C) 本身有軍事實力和文化基礎 (D) 本身產業發達並且經濟富裕。(94 學測)

同

2) 19 世紀初，拉丁美洲獨立之因 = 1. 拿破崙占領歐洲 2. 解放者玻利瓦爾 3. 門羅宣言 4. 啟蒙、民族主義

(D) 29. 有一種史學思想，在性別、種族、階級或信仰等方面，較能從多元文化角度去論述。這是何種史學思想？ (A) 人文主義 (B) 啟蒙主義 (C) 浪漫主義 (D) 後現代主義。(94 學測)

人 理性 感性英雄 顛覆標準否認客觀事實

(A) 30. 十七、十八世紀時，法國巴黎的上流社會盛行沙龍聚會。到了十九世紀以後，這種風氣逐漸衰微，最主要的原因為何？ (A) 被咖啡館之類的社交聚會場所取代 (B) 缺少才貌雙全博學開明的女主持人 (C) 法國政府嚴厲控制集會和言論自由 (D) 社會動盪不安影響舉辦沙龍的意願。(94 學測)

題組題 (第 31~32 題為題組) (94 學測) 法 No. 1 成男普選 除 1830 (法) 1848 (法) 1871 (法) 外 餘皆安定

沙龍 → 咖啡廳，階級互解，受教程度 ↑ 有言論自由

◎右圖是有關希特勒與史達林關係的諷刺性漫畫。請回答下列問題：



(D) 31. 圖中新郎結婚的目的為何？ (A) 化解俄國對德日反共公約的疑慮 (B) 方便德國與東南歐獨裁政權合作 (C) 壯大德國實力以嚇阻美國的干預 (D) 免除德國東顧之憂以便對付英法。(94 學測)

(孤立) 1939. 8 月 德蘇互不侵犯條約 → 閃電戰

(C) 32. 兩人「結為連理」以後，對歐洲局勢造成什麼影響？ (A) 希特勒因此廢除《凡爾賽和約》 (B) 希特勒乘機進占奧國與捷克 (C) 德俄兩國進而協議瓜分波蘭 (D) 英法對德轉而採取姑息政策。

A. 1936 年 B. 1938 年 D. 英法姑息 → 宣戰

題組題 (第 33~34 題為題組) (94 學測)

◎前南斯拉夫在歷史上曾經被多個帝國統治。二次世界大戰後，在強人狄托 (Tito) 主導下建立了由六個共和國組成的南斯拉夫聯邦，其中，五個共和國的人口組成都有單一優勢族群，只有一個例外。

(B) 33. 前南斯拉夫各共和國中，哪一個共和國沒有單一優勢的族群？ (A) 克羅埃西亞 (B) 波士尼亞 (C) 塞爾維亞 (D) 馬其頓。

天主教 伊斯蘭 東正教 東正教

(C) 34. 從 1990 年代起，前南斯拉夫多個共和國相繼宣布獨立，請問下列何者不是造成它們獨立的原因？ (A) 宗教信仰不同 (B) 中央計畫經濟日漸失靈 (C) 口說語言難以溝通 (D) 中央政權被單一族群掌控。

大多都有單一優勢族群

(D) 35. 1917 年有一則啟事說：「每個自由之子，快來吧！把話傳過去，我們就要來了。拿起你的槍，亮給德國佬看，揚起旗幟吧，我們從來不畏艱難。我們不會回頭，直到戰爭終了。」這個啟事的背景是： (A) 俄國發生大革命，共黨號召群眾革命 (B) 奧地利政局改變，號召人民抵抗德國 (C) 英國決心參戰，開始與德奧等國作戰 (D) 美國宣布參戰，要招募人民從軍入伍。(95 學測)

A 俄共主張退出戰場(和平、土地、麵包) B 未反德 C 早已參戰

(B) 36. 有位美國學者預言：「未來 50 年」中，「生活會相當方便，熱氣和冷氣都從管線中來，以調節室內溫度。汽車價格將低於馬匹，農民會有自動推車、自動犁等機械化設備，草莓也會長得像蘋果一樣大。戰爭時，巨砲的射程可達四十公里，軍隊能從氣球上使用附有照相機的望遠鏡，監視 100 公里內敵人的動靜，並立刻傳到指揮官手上。」這位學者應是在何時做這個預言？ (A) 1850 年 (B) 1900 年 (C) 1950 年 (D) 2000 年。(95 學測)

汽車於 1920 年代進入量產

文中關於戰爭的描述，一戰時大多已實現

50 年後 汽車仍未量產 預測到 1950 年代

(C) 37. 一位政治人物指出：「讓殖民地人民自由地生活、並自己管理，才是我們的最終目的。恢復越南的秩序與和平，才是達到這個理想的最重要基礎。」這種想法代表的是：(A)十九世紀後期，法國殖民主義者的想法 (B)二十世紀初期，美國對民族自決的主張 (C)二十世紀中期，法國對越南獨立的态度 (D)二十世紀末，美國主張越南開放的說法。(95學測)


題幹可知 1. 該國支持給予殖民地自治權 2. 擁有越南

A不支持, BD未擁有越南

(D) 38. 一名女子說：「我不知道我算是哪一國人，我的祖父因為信奉新教，被教區神父處罰終身苦力；我的父親被老爺打成跛子；我的丈夫從軍去了，我不知道他究竟是幫誰打仗。」有人批評這名女子的丈夫及家人愚蠢，竟然為剝削他們的國王、貴族、教士作戰。根據這段資料的內容，這名女子最可能生活在：(A)十五世紀初義大利的莊園 (B)十六世紀末日耳曼北部城市 (C)十七世紀英國的港口農村 (D)十八世紀末法國中部的小鎮。(95學測)

已宗教改革16世紀 -> A不對 當地以舊教信仰為主 -> B不對

(C) 39. 某人暑假時前往國外渡假，在遊記中說道：此地甚熱，又擔心水不潔淨，經常喝汽水等碳酸飲料。看不到熟悉的雜誌，空氣中飄來的各種香料及食物的氣味也很陌生。有一天肚子不舒服，找到一個掛有如右圖這個標記的組織，協助他解決就醫問題。他最可能是在哪裡旅遊？(A)泰國 (B)古巴 (C)巴基斯坦 (D)巴西。(95學測)



新月 - 伊斯蘭教

伊斯蘭 天主教

佛 無 天主教

(A) 40. 下列哪一國家如加入歐盟，會使歐盟與中東伊斯蘭教地區接壤，易產生地緣政治上的摩擦？(A)土耳其 (B)摩納哥 (C)塞爾維亞 (D)阿爾巴尼亞。(95學測)

近東 (法蘭西 巴拿馬 中、西)

世邊

(B) 41. 2006年亞太經濟合作會議(APEC)，於11月12日在越南河內登場，討論的焦點是自由貿易和北韓問題。APEC的成員中，以下列哪個地區的會員國為數最多？(A)東亞 (B)東南亞 (C)大洋洲 (D)北美洲。(96學測)

通貨膨脹

(C) 42. 一個人回憶：「每個月初，父親領到薪水，先付清房租及雜費。第二天一清早，全家趕赴賣場，大肆採購乳酪、火腿、馬鈴薯等，將所有的錢花費在不易腐敗的食物上。總之，我們會將一個月的存糧準備好，接著整整一個月身無分文。」這種場景最可能發生在何時何地？(A)1782年的巴黎市 (B)1814年的維也納 (C)1923年的柏林市 (D)1968年的莫斯科。(96學測)

可見物資充足

A. 法國大革命 物資不足 B. 維也納會議 秩序穩定 C. 簽凡爾賽條約後 賠款

D. 共產配給制

(A) 43. 某國政治人物在1951年時呼籲：「我國已經無法再以一己之力，承擔地中海地區的政治責任，也無法主導當地的外交事務。我們必須與他國合作，才能處理埃及或蘇彝士運河的問題。」這位說話者的身分應當是：(A)英國國會的反對黨領袖 (B)美國國家安全部門主管 (C)法國執政黨外交事務官 (D)蘇聯的國家情報局主管。(96學測)

1951. 二戰. 無法用一己之力 -> 美蘇刪去. 埃及 -> 英國殖民地

(B) 44. 十九世紀中，英國開始改革選舉制度，除先後大幅放寬選舉人的限制，也調整選區。1840年代，一位具有選舉權的倫敦市民最先可以選舉下列何者？(A)倫敦市長 (B)下院議員 (C)上院議員 (D)首相。(96學測)

多數黨魁

1832 -> 憲章運動 -> 1867 -> 1884

資本家

成男普選

共產主義

(C) 45. 有位作家回憶：「參訪這座城市時，經濟情況相當惡劣，正在執行第二個五年經濟計畫。三十歲以上的人，還懷念帝國時代的安適生活、歐洲大陸的富強繁盛；三十歲以下的人，對往日的安定、富庶感受不深，也無法接觸到國外的新事物。此外，私人財產均遭沒收，一切收歸國有。」這位作家描述的情況是：(A)1850年的巴黎市 (B)1900年的維也納 (C)1930年的莫斯科 (D)1980年的柏林市。(96學測)

A. 第一共和下的法國 1848-1852. B. 奧匈帝國. D. 東柏林為共產

(B) 46. 德國政府說：「美國對世界文明的唯一貢獻就是發明了口香糖及可口可樂。」同一時期，日本政府宣傳：「進口可口可樂就等於進口了美國社會的病毒。」這種說法應是何時出現？(A)1917年美國宣布對德作戰時 (B)1942年太平洋戰爭爆發之後 (C)1973年石油經濟危機發生時 (D)1990年全球討論關稅協定之後。(96學測)

題幹 = 德、日兩國反美 -> 太平洋戰爭. A 美日同盟營. C、D 無關

(D) 47. 一本法國小說「環遊世界八十天」描述一個商人從倫敦出發，繞地球一周，返回倫敦，一共只需要80天。這種情節與下列哪個事件最有關？(A)阿拉伯人在泉州建立商業據點 (B)哥倫布航行到美洲建立新航線 (C)葡萄牙人繞美洲完成環繞航線 (D)埃及總督授權開鑿蘇伊士運河。(97學測)

1873年出版 維也納

A. 唐宗元. B 1492 -> 歐未找到新航路 1498. C. 西班牙. D. 1869年完工

(D) 48. 歐洲的神聖羅馬帝國控制從中歐到西歐的許多土地，帝國皇帝因此身兼各種身份，包括波西米亞國王、匈牙利國王、奧地利大公，一度還是西班牙國王。16世紀中期，皇帝查理五世計畫退位，打算將領地分給弟弟及兒子。他將最好的部分交給其子繼承。這位王子最可能繼承的是：(A)波西米亞國王 (B)匈牙利國王 (C)奧地利大公 (D)西班牙國王。(97學測)

16世紀中. 已發現新大陸. 西班牙最富有. 在我的領土下. 太陽永不落下

(C) 49. 有人認為：「歐洲是一個由許多國家組成的大家庭，其關係建立在共同的文明、宗教、條約及國際法。居住於任何一個基督教國家的外國人，都受居住國法律約束。」「如果一個基督徒在一個穆斯林國家居住，則奉行另一個原則：基督徒身為外國人，不受當地法律制裁。」這種說法，最可能出現在：(A)十字軍運動時期，教宗對十字軍的提示 (B)16世紀歐洲各國建立中央政府時之主張 (C)19世紀歐洲列強在各地擴張之際的態度 (D)第一次大戰後「民族自決」理論的說法。(97學測)

1. 國際法 -> 三十年戰爭 1618-1648 2. 歐洲自我中心 -> 19世紀新帝國主義

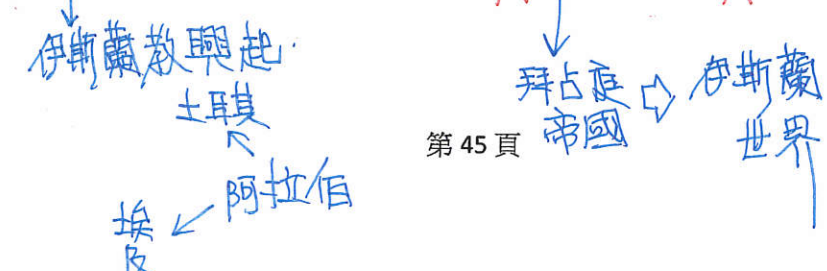
(D) 50. 16世紀後期，許多歐洲羅馬天主教的教士遠赴海外，如利瑪竇到中國、沙勿略到日本。他們除了傳教，也促進文化交流。這群教士前往海外傳教的動機為何？(A)要打擊路德教派、英國國教派及喀爾文教派的海外傳教活動 (B)為聯絡海外的羅馬天主教信徒，對抗日益擴張的伊斯蘭教勢力 (C)教宗要擴張海外貿易活動，增加教會財富以繼續與新教對抗 (D)羅馬教廷欲擴大海外教區，彌補歐洲宗教改革後信徒的流失。(97學測)

16世紀後期. 天主教徒藉由航海之便積極傳教. 新教國家則以貿易為主

(A) 51. 某地有一座「日本占領時期死難人民紀念碑」，碑文以英文、中文、馬來文及塔米爾文印度語系書寫。該紀念碑應立於何處？(A)新加坡 (B)馬尼拉 (C)雅加達 (D)墨爾本。(97學測)

二戰時. 日本占領香港 馬來亞. 關島. 新加坡 緬甸等地. 欲建立「大東亞共榮圈」

(A) 52. 食物反映一地的地理條件與文化，在近代交通發達以前，通常不易改變；但有些地區的飲食方式卻在8世紀到16世紀間，有重大的變化，如開羅、君士坦丁堡都屬此類。這些地方飲食文化的改變主要原因為何？(A)宗教信仰改變 (B)氣候條件變遷 (C)耕作技術改變 (D)海外貿易中斷。(97學測)



(D) 53. 交通規則與號誌可以反應一個地區現代化的過程，馬來西亞、印度及巴基斯坦等地的駕駛規則都是「駕駛座在右，靠左駕駛」，這種規則的形成與下列何者關係最大？ (A)多數居民信奉伊斯蘭教，尊奉左尊右卑的原則 (B)習慣從日本進口車輛，因此採用日本駕駛規則 (C)皆主張民主議會制，議會表決後採用靠左駕駛 (D)都是大英的殖民地，遵循大英的交通管理規則。(97學測)

羅馬帝國傳統：右手持武器，靠右。法大革命：拿破崙推行靠右。英：維持靠左。

(A) 54. 幾位歷史學者評論：1939年起，德國採取一連串的對外侵略行動，波蘭、捷克、挪威相繼為德國控制，1940年以後，只有一個歐洲國家能與德國抗衡。他們指的是哪一個國家？ (A)英國 (B)法國 (C)西班牙 (D)義大利。(97學測)

丘吉爾：力主抗德。

(D) 55. 歷史上，一些著名的革命運動都有一些響亮的口號，這些口號經常表露了參與革命者所要追求的理想。下列何者正確？ (A)1688年的光榮革命：沒有代表，不納稅 (B)1776年的美國革命：自由、平等、博愛 (C)1789年法國大革命：民主、法治、人權 (D)1917年的俄國革命：和平、土地、麵包。(98學測)

B：美國革命：沒代表，不納稅。C：法國大革命：自由平等博愛。

(C) 56. 一個延續千餘年的大帝國，以農業為立國基礎，其首都是歐洲地區及地中海世界最大的政治、經濟和宗教中心，控制歐洲和亞洲之間的貿易與文化往來。這個帝國是指： (A)亞述帝國 (B)阿拔斯帝國 (C)拜占庭帝國 (D)神聖羅馬帝國。(99學測)

君士坦丁堡 330-1453

維也納 962-1806

巴格達 B.C 2500-612 750-1258

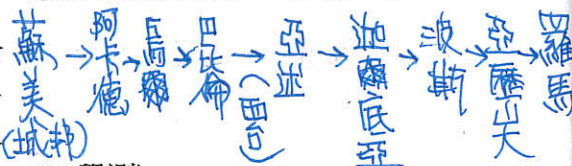
(A) 57. 旅行團安排了一次德川日本古蹟之旅，為了讓團員享受一趟超值的深度旅遊，導遊預先對團員解說德川幕府的歷史發展。以下是導遊作的一些解說，何者正確？ (A)現今日本首都東京，舊稱江戶，是德川幕府的根據地 (B)德川幕府的威勢超越天皇，但卻又受制於旗下的諸侯 (C)因為鎖國政策，德川日本的商業蕭條，貨幣經濟消失 (D)德川武士喜歡庭園，更愛養蘭花，遂發展出「蘭學」。(98學測)

C：德川幕府統一貨幣，活絡經濟。D：蘭學，荷蘭傳入的西方學術思想。

(B) 58. 「這是一個多采多姿而變化萬千的時代，和中國的戰國時代最可相比擬。在這個時期的形形色色中，有不少仍是中世的，有不少顯然已是近代的，但也有不少為這時期所特有。這個時期上承中世，下啓近代，同時也自成一個時代，充滿了強烈的政治、社會和思想的活動。」這最可能是哪個時代的特徵？ (A)希臘羅馬 (B)文藝復興 (C)啓蒙運動 (D)工業革命。(98學測)

(C) 59. 西亞的美索不達米亞平原是古文明的搖籃，自古以來許多民族進出這個舞臺，先後建立統治政權，留下了豐富的文明遺跡。下列諸民族統治此一地區的先後順序，何者正確？

(A)西臺人→阿卡德人→巴比倫人→亞述人→波斯人
(B)亞述人→巴比倫人→阿卡德人→西臺人→波斯人
(C)阿卡德人→巴比倫人→西臺人→亞述人→波斯人
(D)巴比倫人→波斯人→阿卡德人→西臺人→亞述人。(98學測)



(B) 60. 1920年代以來，印度聖雄甘地領導反抗運動，終使印度脫離英國的殖民統治；到了1960年代，美國黑人領袖馬丁·路德·金恩領導「民權運動」，也促使美國解除種族隔離政策。這兩個領袖的抗爭策略有何共同之處？ (A)遵循馬克斯主義的階級鬥爭論 (B)秉持非暴力的公民不服從精神 (C)挑起種族主義以反制種族主義 (D)使用恐怖手段迫使當權者讓步。(98學測)

(D) 61. 某個地區的經濟與貿易史，發展過程如下：在西元初年，那裡是印度航海者紛紛揚帆而往的黃金地；幾個世紀之後，對阿拉伯人和歐洲人來說，該地區成了香料、樟腦和香木之國；到了近代，那裡又成為橡膠、錫和石油的重要產地。這個地區應是： (A)非洲東岸 (B)阿拉伯半島 (C)印度半島 (D)南洋群島。(98學測)

中古西歐封建：「我的封臣的封臣，不是我的封臣。」

(B) 62. 有一種政治形式，其特色是：國家之主權如司法、財稅、軍警等，過去是由國王來執行，現在則淪入私人之手；而且這些國家主權隨著土地之轉移而轉移，或者隨著土地之分割而分割。因為土地是私人財產，所以國家主權亦成為私人財產。這一種政治形式盛行於何時何地？ (A)西元前三世紀的中國 (B)西元十世紀的法蘭西 (C)西元十六世紀的拉丁美洲 (D)西元十七世紀的新英格蘭。(98學測)

題幹：封建制度。A：秦統一中國。B：中古西歐。C：西班牙殖民地。D：英國殖民地。

(D) 63. 1816年，英王喬治三世派遣阿美士德 (Amherst) 出使中國，卻與清朝發生「禮節之爭」。清朝要求英使依「天朝定制」，謁見皇帝時行「三跪九叩頭禮」，英使以跪叩禮「有傷英國尊嚴」，堅持僅行「免冠俯首」。雙方爭持不下，最後英使遭逐出，不顧而去。此一「禮節之爭」的歷史意涵為何？ (A)新帝國主義與反殖民主義的對抗 (B)海權思想與傳統陸權觀念的對立 (C)工業資本主義與農業文化的矛盾 (D)天下秩序觀與主權國家觀的衝突。(98學測)

1618-1648 三十年戰爭

(A) 64. 佛教、耆那教與印度教都是從古印度的婆羅門傳統衍發而來。佛教與耆那教起源於對婆羅門信仰的反抗，而印度教則主要是繼承、並改革婆羅門傳統而來。這三種宗教雖然有各自不同的發展，但仍共同接受婆羅門傳統的某些理念，例如： (A)輪迴思想 (B)犧牲獻祭 (C)素食精神 (D)種姓制度。(98學測)

B、D：佛、耆反抗。印度繼承。C：耆那茹素外，其餘各派不一定。

(B) 65. 一位外交官暢談自己國家的外交傳統：「至少在過去數百年中，我們一貫的外交政策目標，就是創造一個分裂的歐洲。為了歐洲的分裂，我們幫助荷蘭人對抗西班牙人，幫助日耳曼人對抗法國人，幫助法國人和義大利人對抗日耳曼人，最後又幫助法國人對抗義大利人和日耳曼人。」這是何國的情況？ (A)美國 (B)英國 (C)瑞士 (D)俄羅斯。(98學測)

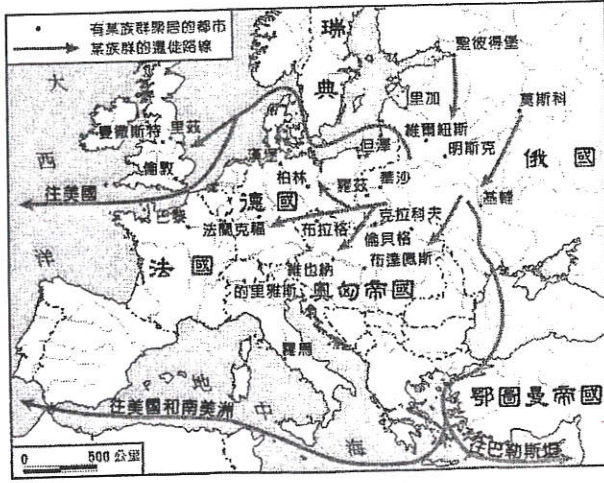
英國：光榮孤立。1. 荷蘭獨立 2. 拿破崙 3. 一戰 4. 二戰

(C) 66. 某個時期，貿易活動的特色是「商業、海盜、戰爭三位一體」。這時國家認為誰能獨占價錢最貴的商品，誰就能夠成為最富強的國家；各國為獲得珍貴商品，經常不擇手段，貿易往往淪為搶劫行為。這種行為甚至與國家的權力相連，而變成一種愛國行為。下列何者最符合此一描述的狀況？ (A)十三世紀中期，威尼斯與阿拉伯的貿易關係 (B)十五世紀前期，明朝鄭和下西洋的貿易活動 (C)十六世紀後期，英國與西班牙間的貿易競爭 (D)十九世紀中期，英國在中國沿海的貿易策略。(98學測)

C：重商主義：英、荷、葡、日、皇封海盜，瑞克為爵士，擊敗西班牙無敵艦隊。(附一也)

(D) 67. 某地自1840年代起就發展工業、礦業，1850年代修建鐵路，1860年代已有鐵路1300公里，到1870年擴增為7700公里，1890年代增至25600公里。1851年，當地開始興建紡織廠，到了1900年，共有紡織廠193所，還有茶葉公司與黃麻工廠。當地人民並未享受這些經濟發展帶來的好處，因此不斷要求自治，希望享有平等的政治權利。這個地方應當是： (A)越南 (B)加拿大 (C)日本 (D)印度。(99學測)

- (A) 68. 圖一是十九世紀末期歐洲某一族群向外移動的路線圖。這個民族原本來自外地，移入後不斷受到外來干擾，十九世紀起向外移動，前往拉丁美洲與美國。也有人提倡移往巴勒斯坦，希望建立自己的國家。這個民族是：(A)猶太人 (B)德意志人 (C)土耳其人 (D)斯拉夫人。(99學測)



- (B) 69. 一位學者認為：政府與人民間原有契約關係，政府應當保障人民的生命、自由和財產，才能獲得人民的認可，其統治才有正當性。如果政府不能善盡其義務，人民便可解除契約。我們如何理解這種理論？(A)柏拉圖的理想國理念，主張國君應當為民服務 (B)洛克提出的政府學說，主張人民可以推翻政府 (C)法國大革命時的《人權宣言》，認為世人都應平等 (D)威爾遜提出民族自決論，認為自由為基本人權。(99學測)

B「政府論」= 天賦人權

- (C) 70. 一位歐洲學者有這樣的經歷：他出生時，多數世人還認定地球是一個扁平的陸塊；到他求學時，周遭已經有許多人相信地球是圓的，各地還流傳許多有關遠方新奇事物的傳說。這位學者鮮少離開家鄉，卻能根據平時蒐集的資料，描述世界各地的新奇事物，如巨大的宮殿、雄偉的神殿、食人族等。他還將這些蒐集起來，編寫一本世界誌，出版後引起許多人的好奇與搶購。這應當是何時的情景？(A)西元前二世紀 (B)西元九世紀 (C)西元十六世紀 (D)西元十八世紀。(99學測)

1522 麥哲倫船隊繞地球一週後證實

- (D) 71. 下表是 1891~1896 年間四個國家的農業人口占總人口百分比：

	農業人口占總人口百分比
甲國	70%
乙國	42%
丙國	22%
丁國	10%

→ 最多 = 俄國農奴
→ 法國：大革命影響下，工業化慢
→ 荷屬：海上馬車夫
→ 最少 = 英國工業革命

試問表中的甲、乙、丙、丁四國分別是：(A)甲：法國 乙：英國 丙：荷蘭 丁：俄羅斯 (B)甲：英國 乙：荷蘭 丙：俄羅斯 丁：法國 (C)甲：荷蘭 乙：俄羅斯 丙：英國 丁：法國 (D)甲：俄羅斯 乙：法國 丙：荷蘭 丁：英國。(99學測)

- (D) 72. 西元前3000年以後，不同的民族先後遷入兩河流域，建立政權。有些民族使用閃族語言，有的則使用印歐語言。這些民族的語言雖然不同，但此地區的文化與貿易能夠持續成長。學者認為這種情況主要是由於一個共通的重要基礎。這位學者指的是：(A)使用鐵器 (B)宗教統一 (C)軍事技術 (D)楔形文字。(100學測)

西白 信仰不同

- (B) 73. 一位國家領袖表示：「我們必須加強海軍，以維護我國的利益。我們的海外同胞，不管是神職人員、商人或從事其他行業，都應該相信：我們的海軍會永遠保護他們。」我們如何理解這個談話？(A)拿破崙戰爭期間英國政府的主張 (B)德意志帝國在東亞擴張時的聲明 (C)日本發動珍珠港事變之前的宣傳 (D)波斯灣戰爭期間美國提出的政策。(99學測)

A. 英：海軍最強，無須再加強
B. 德：威廉二世：大海軍主義 → 世界主義
C. 日：並非為了保護僑民
D. 美：為制裁伊拉克侵略，非保護僑民

- (B) 74. 1938年8月間某國新聞報導指出：「德國已經正式承認我國，我國政府將於德國首都柏林設立公使館，辦理兩國外交事務。國務院特別任命呂宜文為公使，並以日籍的三源綱一為參事官，王替夫與日籍的伊吹幸隆為書記官。」1939年2月這些新任的官員遞交國書，正式上任。這個國家是：(A)日本 (B)滿洲國 (C)韓國 (D)中華民國。(100學測)


→ 二戰前夕，與德、日同陣營的「國家」 C. 1910-1945. 朝鮮為日殖民地

- (D) 75. 一位政治人物表示：「我們不能把菲律賓交給德國或法國，這樣不符合我們的經濟利益，我們也不能讓菲律賓人自治，因為菲律賓人沒有自治的能力。我們只能占領整個菲律賓，教育他們，讓他們文明起來，灌輸基督教的理想。」這位政治人物應當是：(A)17世紀的羅馬教宗 (B)18世紀的西班牙王 (C)19世紀的日本天皇 (D)20世紀的美國總統。(100學測)

從「德國」可看出題幹是19世紀德國統一後 C 日本非基督教國家

- (C) 76. 圖二是一幅西方人繪製的地圖，製圖者將中國分成蠻夷與震旦，又認定日本是一個大島。中國最南端的角落為荊柯(泉州)城。從泉州出海，可以遇到無數小島。這幅圖反映的是何時的地理觀念？(A)西元2世紀的希臘地理學者托勒密 (B)西元5世紀的羅馬哲學家奧古斯丁 (C)14世紀的義大利學者托斯卡內利 (D)18世紀的英國航海家詹姆士庫克。(100學測)

圖中無美洲 → D 刪去



15世紀
美洲發現的歐化教者
A. 托勒密對東方了解僅為耳聞
B. 奧古斯丁「上帝之城」基督教著作
C. 卡內利(1301-1311)

圖二

- (A) 77. 美國與日本簽訂條約，規定：「侵犯日本人之美國人，由美國領事法庭審判，如屬有罪，當按美國法律處罰。侵犯美國人之日本人，由日本官方審判，按日本法律處罰。」同時規定：「日本政府准許美國人可以在開放的港口中自由行動；也准許居住於日本的美國僑民宗教自由，並可於適當地點建築教堂。」這個條約是：(A)1854年簽訂的《神奈川通商條約》 (B)1922年限制軍備的《華盛頓條約》 (C)1951年舊金山簽訂的對日和約 (D)1960年所訂《美日安全保障條約》。(100學測)

- (B) 78. 歷史上某一時期，甲乙雙方舉行效忠儀式：甲方向乙方保證，願以自由人身分，終身服事乙方，絕不脫離乙方保護，如有違背，願以金錢賠償；乙方則保證，宣誓之後，將終身保護甲方。這個效忠儀式最可能在何時何處舉行？(A)8世紀前期君士坦丁堡的皇宮 (B)12世紀中期法國北部的莊園 (C)16世紀後期英國南部的城堡 (D)19世紀後期美國南部的棉田。(101學測)

契約基礎下的封建制度：1 中古西歐 2 日本幕府
5~15
A. 東羅馬 中央集權
C. D. 時代不符

(D) 79. 媒體報導：「波蘭國會於本月中通過加入北大西洋公約組織（簡稱北約）案，波蘭預定在3月間與捷克及匈牙利同時成為北約新會員。」這則報導出現的時代背景為何？ (A) 二戰結束時，美蘇兩國在東歐對峙，美國拉攏波、捷等國加入北約 (B) 韓戰結束後，法國欲擴大在歐洲勢力，企圖說服東歐各國加入北約 (C) 越戰爆發時，西歐欲打擊華沙公約組織，勸說波、捷等國加入北約 (D) 蘇聯解體後，東歐向西方靠攏，波、捷、匈牙利等國家欲加入北約。(101學測)

波蘭為華沙公約組織 (1955-1991) 成員，直到蘇聯解體，才可能加入北約。

(C) 80. 某個帝國，在11世紀初是歐洲最強盛的國家，14世紀以後，境內諸侯紛紛追求自身利益，互相攻伐，國勢漸衰。17世紀，又因宗教問題，造成內部分裂。19世紀初，帝國甚至遭拿破崙解散。這個帝國是指： (A) 俄羅斯帝國 (B) 拜占庭帝國 (C) 神聖羅馬帝國 (D) 鄂圖曼帝國。(101學測)

17-1917 330-1453 762-1806 1299-1923
神聖羅馬帝國 鄂圖曼帝國 奧地利帝國 普魯士
17-1917 拿破崙 17-1917 拿破崙 17-1917 拿破崙 17-1917 拿破崙

(A) 81. 16世紀起，歐亞間的海上貿易興起，許多歐洲國家紛紛前來亞洲經商。歐洲某國王室出資組成船隊，前往印度與東亞地區貿易。國王為反制抗議教派，避免其擴張，還願與教廷合作，免費將傳教士送往商船所到之處傳教。這位國王是： (A) 西班牙國王菲利普 (B) 英格蘭王伊莉莎白 (C) 俄國皇帝彼得大帝 (D) 瑞典國王古斯塔夫。(101學測)

天主教 英國國教 東正教
西班牙最強大時期 查理五世的兒子 英瑪麗女王之夫 以基利安之名 菲律賓

(C) 82. 一位統治者自述其生平事蹟：「19歲那年，國家受到奸黨蹂躪，是我招募軍隊，打敗奸黨，才重建和平。元老院選我為執政官，控制所有權力，但我拒絕獨裁，不僅恢復了許多逐漸沒落的傳統，也為後代子孫立下許多典範。」這位統治者最可能是： (A) 亞歷山大大帝 (B) 羅馬將領凱撒 (C) 羅馬皇帝屋大維 (D) 羅馬皇帝君士坦丁。(101學測)

第一公民 開始羅馬和平 羅馬帝國晚期 基督教合法 此時制度早已確立

(D) 83. 一首詩描述古埃及的農業生活，提到以下特徵：(甲) 尼羅河定期氾濫，使埃及生生不息 (乙) 河水澆灌了沙漠，養育肥美魚類 (丙) 河岸有牲畜覓食 (丁) 神廟定期舉行豐年慶典。上述哪項特徵最足以說明此詩所描述的是農業定居生活方式？ (A) 甲 (B) 乙 (C) 丙 (D) 丁。(101學測)

甲 強調生生不息 丁 農耕穩定 無需逐水草而居 定期舉行慶典

(A) 84. 19世紀中期，一位俄國學者批評政府的某項政策，認為它「改變數百年習慣的生活方式，摧毀自古以來人民與土地的連結關係。」因此他呼籲：「讓我們根據傳統的原則，重新恢復國家與人民、人民與土地之關係。」這位學者批評的政策為何？ (A) 解放農奴 (B) 組織公社 (C) 農地重劃 (D) 土地國有。(101學測)

俄國農奴制源自 11-12 世紀，確立於 15 世紀，19 世紀迫於國內外情勢 解放農奴

(C) 85. 一張老相片顯示：火車站中有數列滿載士兵的火車，其中有兩列預計開赴比利時前線，另有一列即將駛往東方邊界，車廂上的標語寫著：「向沙俄宣戰！為祖國奮鬥！」這張相片最可能是何時的情景？ (A) 1854年的克里米亞戰爭爆發後，英軍開往前線 (B) 1870年德法戰爭爆發，德意志聯軍向法國開拔 (C) 1914年，第一次世界大戰爆發，德軍準備出發 (D) 1939年歐洲大戰爆發，德軍準備進攻蘇聯之際。(101學測)

題幹：比利時為戰場，俄國為參戰國 A 戰場在巴黎 德意志聯軍 B 俄未參戰

(B) 86. 自某個時期起，藝術創作強調恢復希臘與羅馬的傳統，藝術家精研人體結構，重視透視法。他們的地位大幅提升，非以往的工匠可比，貴族與富商都願意收購藝術作品珍藏。這個時期最可能是： (A) 西元12世紀 (B) 西元15世紀 (C) 西元18世紀 (D) 西元19世紀。(101學測)

文藝復興 14-16 世紀

(B) 87. 基督教會自「某個事件」開始，經常以宗教審判和贖罪券兩種方式強化教會的領導地位。宗教審判用以處罰危害教會的異端；贖罪券則用於酬謝參與打擊異教徒者，可免除死後審判。上述所說的「某個事件」是：(102學測)

(A) 諾曼人入侵 (B) 十字軍運動 (C) 黑死病盛行 (D) 東羅馬滅亡 (東正教)

1086 征服者威廉 與奧斯威爾 對抗伊斯蘭 捍衛教會權威

(C) 88. 一本書寫道：這個國家原本絕大多數人民為農民，因社會發展不均，農民起而造反，爆發大革命，推翻既有政府，重建國家。新政府之施政目標是強化國防力量，以對抗資本主義國家，因此強調鋼鐵工業，民生工業的發展相對落後。但因該國實施計畫經濟，受到經濟恐慌的影響也較小。這最可能是描寫：(102學測)

(A) 1790年代的法國 (B) 1870年代的日本 (C) 1930年代的俄國 (D) 1970年代的印度
木推翻天皇 共產

(A) 89. 1950年代初期，歐洲某城市中，一位住在英國占領區的居民，一大早先通過檢哨站，到蘇聯占領區上班。下班後，經常要繞到美國占領區購買日常用品，然後搭電車回家。這個人最可能生活在何地？ (A) 維也納 (B) 華沙 (C) 布拉格 (D) 柏林。(102學測)

二戰後 分區占領 德奧 (1955 獨立) 波蘭 捷克

(B) 90. 一位學者擔心：國家因為民族多元，許多人受到當時流行的民族主義影響，希望獨立、建國，最終可能導致國家分崩離析。他呼籲大家珍惜共同擁有的歷史經驗，以「命運共同體」的觀念整合國家。這位學者最可能生活在：(102學測)

(A) 1860年的義大利 (B) 1910年的奧匈帝國 (C) 1930年的波蘭 (D) 1960年的美國
長期受哈布斯堡家族統治 權力集中於奧匈貴族上

(B) 91. 一位國家元首在議會中表示：統治者應當傾聽上帝的意旨，而不受制於法律。他認為自己是人民的主人與父親，可以主宰臣民的生死。他應當遵守與上帝的誓約，無須經過議會便可自行制定法律。這位元首是：(102學測)

(A) 1世紀羅馬統治者奧古斯都 (B) 17世紀的英王詹姆士一世 君權神授
(C) 19世紀初法蘭西皇帝拿破崙 (D) 19世紀末的德皇威廉二世

A 第一公民 C 自行加冕 D 議會政治高漲

(B) 92. 一位統治者推動改革，規定：所有貴族、商人、軍人與城市居民都必須穿著日耳曼式服裝，違反法令者課以罰金。當時謠傳：我們的統治者其實是一位日耳曼理髮師冒充，所以要我們穿日耳曼式服裝。這些措施引起農民暴動，認為：我們捍衛基督信仰，卻因為穿著傳統服裝，不能進入教堂。這位統治者是：(102學測)

(A) 路易十四 (B) 彼得大帝 (C) 明治天皇 (D) 凱末爾
日耳曼人 斯拉夫人 [題幹：彼得大帝西化政策]

(C) 93. 一座城市中，居民熱烈討論即將重建的大教堂建築樣式，他們對常見的哥德式建築並不滿意。因為古代建築廢墟隨處可見，他們鼓勵競標的建築師從古代建築中尋找靈感。經過幾十年的努力，一座覆以圓頂的長方形教堂，終告竣工。這座城市是：(102學測)

(A) 羅馬帝國時期的耶路撒冷 (B) 11世紀中期的聖彼得堡
(C) 文藝復興時期的佛羅倫斯 (D) 19世紀初期的墨西哥市

中古西歐 哥德式建築 → 文藝復興 羅馬式建築

94~95 為題組

◎新航路暢通之後，國際人口移動逐漸增加，許多地區成了移民的目標。18 世紀以後，出現許多移民組成的新國家。(102 學測)

(A) 94. 一個由歐洲移民主導的國家，立法者將國內人口分成「白人」與「非白人」兩類。20 世紀初年，該國政府計畫制定移民政策時，打算將所有申請移民該國的人口分成「可以」與「不可」被白人社會同化兩類。他們認定非白人屬「次等種族」，會降低該國生活品質，必須防止非白人破壞既有的美好生活。這個國家是：(A) 澳洲 (B) 美國 (C) 俄國 (D) 新加坡。

(A) 95. 這種想法應是受到何種思想影響？

(A) 社會達爾文主義 (B) 馬克思共產主義 (C) 啓蒙運動思潮 (D) 理性主義思潮。

(D) 96. 老師在課堂中介紹西歐某一時期時提到：當時君主積極發展工商業，力求增加稅收；並改革法律制度，興辦教育事業，以提高行政效率及國民素質。這堂課的主題應是：

(A) 中古時期的莊園經濟活動 (B) 十二世紀的東西文化交流 (103 學測)

(C) 十六世紀西歐的重商主義 (D) 十八世紀的開明專制理念。

(B) 97. 某地位於歐洲通往中國的航路上，早在 1819 年，英國商船便在此建立交易據點，逐漸發展成繁榮港口。二次世界大戰期間，日軍曾攻占此地，控制三年多。1945 年，日本投降，該地重歸英國管轄，但當地人民爭取自主，先脫離英國統治，進而獨立建國。這個國家是：

(A) 泰國 (B) 新加坡 (C) 越南 (D) 印度。(103 學測)

(B) 98. 1792 年，英國派遣馬戛爾尼出使中國，使團於 9 月底乘船自英國出發，1793 年 8 月 5 日才抵達天津。1878 年，中國派遣曾紀澤為駐英國、法國欽差大臣，於 11 月 22 日自上海乘船赴任，1879 年 1 月 1 日便抵達法國馬賽港。這期間，哪一項重大變化縮短了航行的時間？

(A) 美國發明航空器 (B) 蘇伊士運河通航 (同 47 題, 1869 完工)

(C) 海圖製作更精良 (D) 公海航行較安全。(103 學測)

(C) 99. 某次戰爭之後，戰勝國要求：挑起戰事者要割地、賠款。有人呼籲：如果賠償金額遠超出發動戰爭者所能承擔，一定會造成經濟困境，引發民怨，無論任何一方都難逃捲入的命運，甚至引發下一場戰爭。不幸言中，不久之後，各國又捲入衝突之中。此人最可能是：

(A) 1815 年維也納會議中的奧地利首相梅特涅

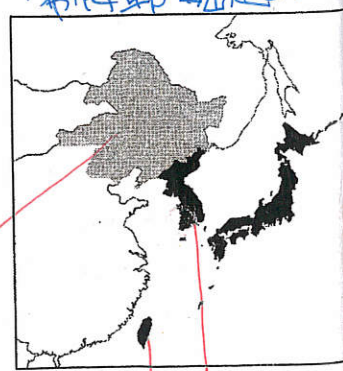
(B) 1871 年德法戰爭後德意志帝國首相俾斯麥

(C) 1919 年巴黎和會召開時的英國代表凱因斯

(D) 1945 年二次大戰結束後的美國總統杜魯門。(103 學測)

(C) 100. 老師在黑板上懸掛一幅地圖(如圖)，圖中將日本領域分別以黑色及灰色標示。這幅地圖最可能是反映哪一時期的東亞情勢？

(A) 1871 年 (B) 1905 年 (C) 1935 年 (D) 1971 年。(103 學測)



1932 滿洲國

1895 馬關 1910 日韓合併 日本殖民地

18 世紀中. 英工業革命 → 19 世紀 追求政治、教育權利
→ 形成工人階級

(C) 101. 某一時期中，英國議員知道普魯士已經實施強迫入學的政策，而英國許多兒童仍然沒有受過任何教育。於是通過法案，設置教育部，並提出「初等教育法」，撥款興學，同時要求父母督促 5 到 12 歲的兒童上學。這是何時的情況？(103 學測)

(A) 十七世紀後期 (B) 十八世紀中期 (C) 十九世紀後期 (D) 二十世紀中期。

世界上最早的義務教育：1917 普. 邦特別威廉一世推動 → 英：1807 國會改革法案中提出。

(B) 102. 某地原為希臘人活動區域，後來才有其他民族移入，包括羅馬尼亞人、土耳其人、克羅埃西亞人、波士尼亞人、斯洛維尼亞人與馬其頓人。居民分別信奉基督教與伊斯蘭教；基督教信仰又以希臘正教為主。當地曾經建立聯邦制國家，卻爆發內戰，民族紛爭至今不斷。這個地區是：(A) 伊比利半島 (B) 巴爾幹半島 (C) 克里米亞半島 (D) 安那托利亞高原。(103 學測)

(D) 103. 附表是一場戰爭之中各國人口損失的統計：(103 學測)

Table with 4 columns: 國家, 百分比(%), 國家, 百分比(%). Rows include 波蘭, 南斯拉夫, 希臘, 蘇聯, 德國, 法國, 英國.

遭德人侵 設集中營



這場戰爭是：(A) 三十年戰爭 (B) 克里米亞戰爭 (C) 第一次世界大戰 (D) 第二次世界大戰。

1917, 1922~1991

(B) 104. 16 世紀以後，英國對外貿易成長，促成毛紡織業快速發展，羊毛價格上漲，牧羊業獲利豐厚，10 英畝牧場的收益超過 20 英畝的耕地。地主為追求利益，紛紛收回農民土地，改作放牧之用，引發「圈地運動」，致使農民無地可耕。17 世紀後，圈地的範圍越來越大，農民生計大受影響，但英國並未發生食物短缺現象，經濟仍可持續發展，主要的原因為何？(A) 長期內戰使人口銳減，減少糧食消費 (B) 從北美殖民地進口，以滿足糧食需求 (C) 大批移民移往北美，英國不缺乏糧食 (D) 大量人口死於瘟疫，故糧食需求減少。(104 學測)

A. 清教徒革命未造成人口銳減. C. 移民者佔 3~4%. D. 黑死病：14 世紀.

(A) 105. 明治維新時期，日本經歷多次政治變革：1868 年，幕府將軍「大政奉還」；1869 年，地方「奉還版籍」；1871 年，實施「廢藩置縣」政策；到了 1885 年，仿效歐洲內閣制，以「總理大臣」統率行政部會，直接向天皇負責。這種變動反映日本明治時代政治發展趨勢是：

(A) 強化中央集權 (B) 避免天皇濫權 (C) 加強地方分權 (D) 走向民主共和。(104 學測)

(A) 106. 西元前第 6 世紀，印度發生宗教改革，出現一個新的宗教。他們繼承傳統的「業」與「輪迴」思想，反對殺生，主張極端苦行，反對暴力，認為即使犧牲生命，也不應訴諸暴力。這個宗教傳播的區域以印度為主，甚少傳至印度以外。這是哪個宗教？(A) 耆那教 (B) 佛教 (C) 婆羅門教 (D) 印度教。(104 學測)

(C) 107. 一幅畫作描繪某地羊毛市集的景象：各地來的商人熙來攘往，好不熱鬧，主教在廣場上為市民祝福，羊毛商人把貨品陳列攤位上，供人選購，還有幾個攤位專門提供兌換貨幣的服務。這種景象最早可能出現於 (A) 1 世紀的雅典 (B) 4 世紀的羅馬 (C) 12 世紀米蘭 (D) 16 世紀巴黎。(105 學測)

兌換貨幣的服務 → 銀行業 (源自中古後期 11-15 世紀)

如 梭織奇家族：贊助文藝

1776 <獨立宣言>的內容

(C) 108. 有人指出，國家締造者曾經承諾所有國人：可享有生存、自由和追求幸福的權利，但黑人拿到的，卻是一張空頭支票。我們決不相信正義會破產，決不相信這個國家會「存款不足」。因此，我們要求國家兌現這項承諾。我期待國家會很快實現立國的信條，也相信「人生而平等」。這種說法的背景是：(A) 1776年，美洲地區人民追求獨立 (B) 1918年，美國總統提出民族自決 (C) 1963年，民權運動主張種族平等 (D) 1990年，南非黑人反對種族隔離。(104學測)

A. B 與黑人平等權無關 馬丁路德金恩，南非未曾承諾享有權利。

(B) 109. 考古學者在某處遺址中，挖掘出刻有尖錐狀符號和浮雕裝飾的石塊(如圖)。此地因缺乏建築用石料，只有神廟和王宮可用貴重石材做成浮雕裝飾，主題多與戰爭、宣揚戰功、祭典或狩獵有關，形成特有的藝術風格。上述遺址最可能位於何處？(A) 中國西北地方的敦煌 (B) 伊拉克的古城尼尼微 (C) 義大利中部的龐貝城 (D) 埃及尼羅河岸的開羅。(104學測)



→ 浮雕 戰爭 → 亞述(好戰)

(D) 110. 右圖是一張日本在某個時期發行的明信片，顯示一群日本青少年踏在亞洲地圖上，圖上還標示從日本到亞洲許多國家主要城市的飛行時間。從內容看，這幅圖表現的主題最可能是：(A) 日俄戰爭爆發前，鼓勵青少年從軍 (B) 一次大戰爆發時，鼓吹日本人參戰 (C) 1920年代，宣導日人移居東亞城市 (D) 1930年代，向青少年宣揚軍國主義。(104學測)



A. 目標：東北亞 B. 僅出兵 遼陽州

大東亞共榮圈

(D) 111. 立法者制定某一法典時，主張根據個人主義精神與自由平等觀念，強調尊重所有權與契約自由，對過失責任也詳加規範，甚至保障原本因為宗教因素而受迫害的猶太人。這部法典最可能是(A)《漢摩拉比法典》(B)《大憲章》(C)《權利法案》(D)《拿破崙法典》。(105學測)

報復 階級之分 限制王權 確立議會政治 融入大革命精神 自由平等博愛

(D) 112. 某場戰爭結束後，歐洲大部分國家因幣制崩潰，欠缺貨幣可供使用。在德國，香菸是公認的交易媒介，一位教師的月薪等於五包香菸。匈牙利通貨膨脹嚴重，貨幣面值高達一億(圖2)，難於進行正常交易。此外，大部分的歐洲國家稅收付之闕如，無錢購買糧食，餓飽居民；也無法購買原料與機器，經濟復甦相當緩慢。這種情況最可能發生於 (A) 1815年，拿破崙戰爭後 (B) 1872年，德法戰爭之後 (C) 1919年，第一次大戰後 (D) 1946年，第二次大戰後。(105學測)

1946

一戰後 鄂圖曼 俄羅斯 德意志 奧匈帝國

→ 檢出現匈牙利 → A. B 刪去

C. 一戰後 德 雖通物幣 但仍用貨幣交易

D. 二戰破壞 德 遭分區佔領 跟美軍換來香菸 作為交易媒介



香菸貨幣特色

1. 可面額大 → 一條
2. 只有美軍有香菸 德 無法製造 (工廠已毀)
3. 數量充足 不至通膨

(D) 113. 一座教堂，原本建築在羅馬神廟的遺址上，8世紀時，改建成清真寺；13世紀時，又改為羅馬教會的主教座堂；16世紀時，重新修建。這座教堂因經歷不同的歷史發展，被聯合國列為世界遺產。這座教堂最可能位在 (A) 巴爾幹半島 (B) 猶加敦半島 (C) 阿拉伯半島 (D) 伊比利半島。(105學測)

(D) 114. 某人覺得自己犯了罪過，便依照教會要求，前往指定教堂悔罪，還要申請贖罪。一位修士則給予憑證，赦免教會對他的處罰。這位修士最可能屬於：(A) 德意志路德教會 (B) 尼德蘭改革教會 (C) 英格蘭國教會 (D) 羅馬天主教會。(106學測)

天主教教會販售贖罪券 → 馬丁路德 95 條論綱 → 宗教改革 → 才有 A. B. C

(C) 115. 閱讀以下兩段資料：資料一、當時，最普遍的工作就是家庭幫傭，幾十萬名婦女從事這種工作；也有許多婦女在紡織工廠做工，最糟糕的是許多婦女必須從事苦力活，按件計酬，沒有保障。資料二、我原本在人家中幫傭，每天從上午6點做到晚上9點，極為厭惡這種工作。後來一家軍火工廠招工，我前往應徵，負責製作彈藥引信，一天工作12個小時，薪水是原本薪水的兩倍半。這兩段資料最適當的主題是 (A) 南北戰爭期間的黑人婦女勞工 (B) 拿破崙法典實施後的婦女勞動 (C) 一次世界大戰前後的婦女就業 (D) 東歐地區社會主義與婦女問題。(105學測)

A. 無法自由就業 (主要在採收棉花 種植玉米) B. 法國工業剛起步 不可能到軍火廠上班 D. 社會主義下 所有人均無法自由就業

(B) 116. 1492年，哥倫布率領3艘帆船從西班牙帕洛斯港(37°N, 6°W)出海，經加那利群島(28°N, 16°W)向西橫渡大西洋，於10月12日登陸美洲，陸續繞經附近地區，完成首航。一行人於1493年啟程返航，此後陸續有人前往美洲，帶回許多新物種，並傳播到各地，促成「物種大交換」。請問哥倫布於出發前，表示可以帶回下列甚麼物品，才說服西班牙王室出資？(A) 美洲白銀 (B) 印度香料 (C) 玉米花生 (D) 南亞蔗糖。(105學測)

哥倫布出發前 並不知道會抵達美洲 而是希望找到一條抵達印度的新航路

(A) 117. 某一國家，宗教色彩相當濃厚，居民除80%左右信奉該國的主流宗教外，其餘20%則各有不同的信仰，宗教類別與內涵相當豐富多樣。居民使用的語言也很複雜，該國憲法除規定2種全國通用的語言外，還認可15種以上的官方語言。全國有60%左右的人口務農，將近半數的人口生活於聯合國訂定的貧窮線之下。2014年該國人類發展程度指標(HDI)只有0.609，世界排名第130。請問該國具有下列哪二項特質？(甲) 世界古文明的發源地之一；(乙) 猶太教和伊斯蘭教的發源地；(丙) 1858~1947年間曾受英國殖民統治；(丁) 葡萄牙引進黑奴在該國發展熱帶栽培業；(戊) 生產的白銀曾於明朝中葉以後大量流入中國。(A) 甲丙 (B) 甲戊 (C) 乙丁 (D) 丙戊。(105學測)

題幹所指為「印度」 主流宗教：印度教 官方語言：印地語、英語

(D) 118. 某殖民國家在殖民地推行「強迫種植制度」，農民被迫將良田種植咖啡、甘蔗、茶、菸草、胡椒等經濟作物，並規定：總耕地面積至少要有五分之一種植經濟作物。殖民政府將收穫全部運往歐洲銷售，賺取巨大財富。直到20世紀中期，這個殖民地經由武裝抗爭才取得獨立。請問這種「強迫種植制度」最可能是甚麼時候，在哪個地區的殖民地推行？(A) 16世紀北非 (B) 17世紀北美 (C) 18世紀中南美 (D) 19世紀東南亞。(105學測)

指荷蘭殖民下的印尼

→ 位於熱帶的歐洲殖民地

A. 16世紀北非 鄂圖曼帝國

B. 17世紀北美：非熱帶且18世紀獨立

C. 18世紀中南美：19世紀在玻利瓦爾領導下獨立

(C) 119. 某人回憶：長崎「現在」滿街都是洋文招牌，但當我數十年前初到此求學時，才第一次見到ABC。求學期間，我認識一位來自薩摩藩的醫生，奉其藩主之命，遠從鹿兒島前來長崎，學習荷蘭醫學。還說：當時如果想學習炮術，只能閱讀荷蘭文的書籍。此人所說的「現在」最可能是(A)1590年代，豐臣秀吉統一日本時 (B)1630年代，日本頒布鎖國令之前 (C)1860年代，美國海軍進入日本後 (D)1940年代，日本戰敗宣布投降後。(105學測)

→數十年前，日本仍處鎖國時代(1633-1854)學習蘭學→美黑船事件後開港

(B) 120. 某人評論：今日之俄如同七國時期之秦，而英則像是齊，土則是魏也。「秦人不得志於魏，則不能倚(牽制)六國，俄人不得志於土，不能倚歐洲。」英人陽(表面)護土而陰蔽歐洲。俄之不得志於歐洲，英為之也。」這位人士評論何時的情勢？(A)拿破崙戰爭 (B)克里米亞戰爭 (C)第一次世界大戰 (D)第二次世界大戰。(106學測)

A.法 vs 反法
C. D 英俄法德

(D) 121. 1776年，北美洲殖民地人民要求獨立，在某城市發表宣言，指出：「我們不是沒有顧念我們的英國弟兄。我們一再警告，但他們的立法機關仍企圖把無理的管轄權加到我們頭上。」宣言中所指的「無理的管轄權」最可能是指：(A)殖民地不得發行報紙 (B)殖民地禁止蓄養黑奴 (C)禁止設立銀行與郵局 (D)未經同意便強行徵稅。(106學測)

1776 費城
1765年後英在北美徵印花稅等→1773波士頓茶葉事件(無代表不繳稅)→獨立宣言

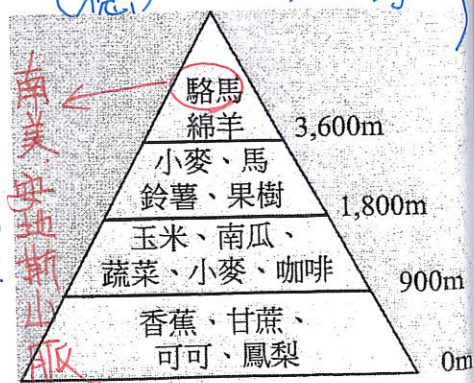
(A) 122. 附表為2013年法國、阿富汗、馬來西亞、俄羅斯四個國家的統計資料表。請問：附表中的X項統計資料的內容應當是：(A)穆斯林人口占總人口之百分比 (B)工業占全國生產總值之百分比 (C)白人移民占全國人口之百分比 (D)共產黨員數占當地人口百分比。(106學測)

國家	X	平均國民所得 (美元)	預期壽命 (歲)	HDI
甲	99.9	最低 1,904 → 阿富汗	60.9	0.468
乙	19.0	22,617 俄	68.0	0.778
丙	10.0	最高 36,629 → 法	81.8	0.884
丁	60.4	21,824 馬來	75.0	0.773

(B) 123. 左下圖為2016年某國際組織會員國分布圖，圖中深色區域為會員國的位置。請問：這個國際組織所涵蓋的區域中，在歷史上曾經出現哪個帝國？(A)神聖羅馬帝國 (B)鄂圖曼帝國 (C)蒙兀兒帝國 (D)奧匈帝國。(106學測)



印度 中歐
北非 亞
馬 跨三洲



(C) 124. 右上圖顯示某國農業土地利用隨著高度增加而變化。請問：圖中，中低海拔地區大規模專業化栽培香蕉、甘蔗、可可、鳳梨等作物的情況，最可能始於何時？(A)15-16世紀物種大交換時期 (B)18世紀中葉工業革命開始時 (C)19-20世紀帝國主義發展時 (D)20世紀晚期簽訂世貿組織時。(106學測)

(B) 125. 1154年，埃及法提馬王朝統治者在一封致比薩大主教的信中說：只要你們承諾不與法蘭克

人合作，我方同意你們的商人運送貨品來我方貿易。除了亞歷山卓城外，你們也可以在開羅建立據點，但需繳交關稅；木材、鐵、樹脂這三項貨品，我方保證以市價購買。埃及法提馬王朝統治者寫這封信的目的最可能是：(A)埃及希望與比薩形成商業同盟 (B)防止比薩大主教與十字軍合作 (C)保護埃及木材、鐵、樹脂產業 (D)歡迎比薩商人可以在埃及定居。(106學測)

且取自 No. 2 十字軍東征後，埃及藉此削弱十字軍
→埃及不希望比薩與法蘭克合作可見埃及與法蘭克為敵

(C) 126. 某一時期，許多學者寫了不同的手冊，教導年輕人舉止要合宜，吃飯有禮貌，學習文學、音樂、藝術，才能成為有趣的社交分子。這些手冊一經出版，便銷售一空，說明當時社會重視禮儀規範。這個時期最早出現於何時？(A)古典希臘時期 (B)羅馬共和時期 (C)文藝復興時期 (D)啟蒙運動時期。(106學測)

A. B. 印刷術未發達，D 非最早
從手冊可知，應始於印刷術發達的文藝復興時代，(人文教育，注重人格修養)

(D) 127. 十七世紀時，某國曾響應共同抵禦伊斯蘭教入侵的號召，出兵加入歐洲聯軍，國勢頗強。其後，強大貴族勢力開始侵凌王權，內部爭鬥不斷，國勢逐漸衰落，引起鄰國覬覦，終遭列強瓜分，消失於歐洲政治版圖，第一次世界大戰後雖得復國，第二次世界大戰期間又遭佔領，戰後才得再度建國。這個國家是：(A)義大利 (B)奧地利 (C)希臘 (D)波蘭(107學測)

→1683. 9. 11 維也納之戰 波蘭擊敗鄂圖曼
(17世紀) 二戰時遭德蘇瓜分
A. 19世紀完成統一 C. 17世紀
B. 一戰前未被瓜分 已為鄂圖曼地

○課堂上，老師向學生介紹一本西方小說，內容寫道：主角一覺醒來，發現自己處在陌生環境中，資本家、企業家全部消失，土地、工廠、工具全屬公有；每個人可依照自己的興趣工作，工時不長，工作愉快，社會上每一項商品生產的數量恰能滿足所有人之需。請問：

(C) 128. 這本小說最可能描述的是：(A)十二世紀西歐的莊園生活(B)十七世紀的自由主義理念(C)十九世紀的社會主義理想(D)二十世紀的帝國主義藍圖(107學測)

馬托邦社會主義
A. 農奴，不自由
B. 即長資本主義
D. 向外擴張利剝

○某國的礦業一直是其經濟發展的主要動力，其政局長期紛擾不斷；1990年，該國一位政治人物在演說中呼籲：「我國的未來只能是一個在不分膚色的基礎上，通過民主選舉而產生的機構來決定，也就是建立一個民主、不分膚色和統一的國家，白人壟斷政權的狀況必須結束。」該政治人物的理想逐漸成為事實，但國內經濟發展同時出現遲緩現象，直到21世紀初才逐漸復甦。請問：

(B) 129. 該政治人物最可能是：(A)歐巴馬 (Barack Obama) (B)曼德拉 (Nelson Rolihlahla Mandela) (C)甘地 (Mohandas Karamchand Gandhi) (D)馬丁路德金恩 (Martin Luther King) (107學測)

A. 美國 No. 1 非裔總統，但美於1960年代已廢除種族隔離

B. 南非 No. 1 黑人總統，1990年結束種族隔離

C. 1869-1942] 時間不符

D. 1929-1968] 時間不符

○圖10畫作的主题經常出現於某一時期的西歐與南歐，這類畫作的內容除貴族人物外，也常包括：地球儀、天體儀、四分儀、兩腳規、星盤等。圖11是根據地理位置把歐洲劃分為四區的地圖；表3是2015年四區的人類發展程度指數（HDI）。



圖 10

文藝復興的代表畫：大使們。
(14-16世紀)

→ 航海 15-16

→ 宗教改革 16

→ 透視法

請問：

- (B) 130. 根據畫作的內容，下列哪項推論最為合理？(A)這是十三世紀的情況，說明時人熱衷航行前往耶路撒冷朝聖 (B)這是十六世紀的情況，說明航海已成為貴族交際的重要話題 (C)這是十八世紀的情況，說明巴黎沙龍聚會以天文星象為主題 (D)這是十九世紀的情況，說明工業革命後資本主義發展的盛況(107 學測)

○近幾年，許多非洲難民湧入歐洲，國際移民組織（OIM）統計，2016年湧入歐洲難民有364,000人，其中約有半數從北非地區橫渡地中海偷渡入境，又以來自奈及利亞（占21.0%）、厄利垂亞（占11.7%）、幾內亞（占7.2%）和象牙海岸（占6.7%）四國者為數最多。大量難民湧入歐洲後，常面臨找不到工作、長期失業以及居住環境條件不佳的生活困境。面對此現象，歐洲某國政府官員對外發表言論，主張該國應停止收容非洲難民，否則將影響歐洲生活水準與歐洲文化。該言論一出，引發眾多輿論強烈的批評。請問：

- (D) 131. 難民由地中海偷渡湧進歐洲的起點，歷史上曾為哪些帝國的領地？甲、羅馬帝國；乙、查理曼帝國；丙、阿拉伯帝國；丁、鄂圖曼帝國；戊、神聖羅馬帝國 (A)甲乙戊 (B) 丙 丁 戊 (C)乙丙戊 (D)甲丙丁(107 學測)

乙、中西歐 戊 = 中歐(德) 題幹所指 曾佔有北非之帝國 (德=北非)

- (B) 132. 古波斯人及羅馬人對統治者表示敬意時，往往親吻其腳部或足印，稱為吻足禮。後來有人自認是使徒彼得的繼承人，也享有吻足禮特權，凡是授予大主教職位、為皇帝加冕、接待諸侯時，都應行吻足禮。他也可以廢止任何命令，乃至罷免皇帝，解除臣民對暴君的義務。這人最可能是：(A)八、九世紀時人稱大帝的法蘭克王查理 (B)十一世紀改革教會的教宗格列哥里七世 (C)十六世紀中的主張改革教會的馬丁路德 (D)十七世紀主張「朕即國家」的路易十四(107 學測)

第一任羅馬主教。
(天堂鑰匙. 彼得磐石說)
→ 教宗, 政治中心
聖彼得
利奧一世力浪阿提拉

- (C) 133. 表1為某次戰爭中，德意志地區共同組成聯軍的兵力配置表。此次作戰，德意志聯軍利用火車運輸，快速造成對手國極大損失，該國被迫簽訂條約，割地賠款，結束戰局。其政府威信大失，帝制遭到廢除，改行共和。這場戰爭最可能是：

表 1 德國尚未統一

	步兵	騎兵	大砲
北德同盟	385,600	48,000	1,284
巴伐利亞王國	50,000	5,500	192
威登堡	15,000	1,500	54
巴登	11,700	1,800	54

不選

- (A)1806年反法同盟戰爭(B)1866年的普奧戰爭 (C)1870年的德法戰爭 (D)1914年一次世界大戰 (107學測) 聯軍戰敗 奧未結束帝制 拿破崙三世戰敗

[法] No. 2 帝國 → No. 3 共和

- (C) 134. 一本地理書記載：佛郎機人抵達呂宋，願與呂宋互市。向呂宋王請求土地建屋，經營商業。後來反包圍呂宋，殺其王，逐其民，而控制呂宋，繼續與中華貿易。華人前往呂宋貿易者，實際是與佛郎機通商。這段記載中的佛郎機人應是指：(A)十三世紀的阿拉伯商人 (B)十五世紀的義大利商人 (C)十七世紀的西班牙商人 (D)十九世紀的英格蘭商人(107學測)

阿拉伯人對歐洲人的稱呼(法蘭克). 中國用以指葡、西等西方人

- (A) 135. 美國於1954年9月聯合英國、澳洲、法國、紐西蘭、巴基斯坦、泰國和菲律賓組成「東南亞公約組織」，其組織的目標與內容都與北大西洋公約組織類似，總部設於曼谷。美國原本希望我國也加入，但因各種原因而未果。美國補救的方式是：(A)另與我簽訂共同防禦條約 (B)支持我成為聯合國會員國 (C)要求各國遵守《聯合國憲章》 (D)支持我國加入東南亞國協 (108學測)

本來就是 無關
北約 東南亞公約 皆為美國防堵共產之組織

- (C) 136. 巴利（Bāzār）原為波斯文中的市場之意，多指有頂棚遮蓋的商業街道，在其中販售各種商品。現在，馬來西亞、印尼等東南亞地區及中國西北地區如新疆，也將市場稱為「巴利」。學者研究，這是某種語言借用「巴利」的名稱後，向各地推廣所致。這種語言應是：(A)英語 (B)印度語 (C)阿拉伯語 (D)西班牙語 (108學測)

通用語 多信奉伊斯蘭教

- (C) 137. 依據題文資訊，上述事件最可能發生於何時？(A)十三世紀約翰王簽署《大憲章》，重新確認國王與貴族的關係 (B)十五世紀百年戰爭後，英王放棄在法國權力轉而注重內政 (C)十六世紀宗教改革時，英王欲排除羅馬公教在英國的勢力 (D)十七世紀時英王迫害清教徒，許多清教徒流亡北美洲地區

A 英貴族限制王權

B 英王放棄在法領土，但不歸羅馬教會管轄

C 亨利八世：英國國教派

D 詹姆士一世/查理一世：支持舊教 相信君權神授

138-139為題組

◎ 某島嶼在十六至十九世紀間原是西班牙大帆船貿易航線上的重要修補站，1898年美西戰爭時，該島遭美國併吞。太平洋戰爭期間，日本曾占領該島。二次大戰後期，美軍奪回該島後，在該島建立空軍基地，作為戰時控制東南亞和東北亞空域的據點。請問：(108學測)

- (A) 138. 該島嶼最可能是：(A) 關島 (B) 琉球 (C) 硫磺島 (D) 夏威夷島

菲 日 西美日美 清→日美日 日美日 1898併入美國 未被佔領

- (C) 139. 該島控制空域的周邊國家，大多是哪兩個國際組織的成員國？(甲) OPEC (石油輸出國家組織)；(乙) APEC (亞太經濟合作會議)；(丙) OAS (美洲國家組織)；(丁) ASEAN (東南亞國家協會) (A) 甲乙 (B) 甲丙 (C) 乙丁 (D) 丙丁

◎ 某國位處溫帶海洋性氣候區，是由數個政治實體組成的君主立憲政體，但其中一個政治實體有獨立建國的分離主義運動。該國有一個少數黨，係由早期街頭暴力抗爭的公民團體轉型而來，倡議立法讓該政治實體舉行獨立公投。此少數黨的民意支持度在近年來不斷攀升，且2015年國會大選時，政黨得票率和席次均大幅提高。(108學測)

- (C) 140. 題文中該君主立憲國家由不同政治實體組成，其組成的主要依據為何？(A) 1215年的《大憲章》(The Great Charter) (B) 1648年的《西發里亞和約》(Peace of Westphalia) (C) 1535、1707、1800年的《聯合法》(Acts of Union) (D) 1919年的《凡爾賽和約》(Treaty of Versailles)


英國 = 大不列顛暨北愛爾蘭聯合王國 A. 限制王權 B. 三十年戰爭：新教合法 D. 一戰戰後和約

◎ 下圖是1848年至1849年歐洲一系列武裝革命運動的分布情形，這波革命運動雖然都以失敗告終，但對歐洲的影響卻極為深遠。請問：(108學測)

- (D) 141. 下列歷史事件中何者深受該系列武裝革命運動的影響？(A) 宗教改革的風潮向北歐轉移 (B) 工業革命漸向歐陸各國擴散 (C) 殖民擴張成為各國首要目標 (D) 德國、義大利完成國家統一

★ 革命地區位於法、德、義三國一帶

(C) 142. 右圖是某文化圈具代表性的裝飾花紋。該文明因不允許偶像崇拜，是以在藝術表現上不見神像或聖像，而是以花草、文字，以及幾何圖形的重覆運用構成畫面。此種藝術手法常見於其宗教建築或宮殿的牆面。文中所指的最可能是下列哪個宗教的文化圈？(109學測)



- (A) 印度教 (B) 希臘正教 (C) 伊斯蘭教 (D) 羅馬公教

以重複式幾何花紋 或阿拉伯文寫的古蘭經裝飾

◎ 歐洲某一時期，城市裡有些地位高貴的夫人，經常在自己的宅第邀請智識菁英、上流社會人士聚會，進行思想交流與評論，參與者多自視為文人雅士。這些高貴夫人有權挑選客人、制定規則和聚會討論主題，凸顯當時女性在這種知性聚會的核心角色。後人以為，經常舉行的這類聚會，不僅成為該時期的特殊文化現象，且對後來的歷史發展影響深遠。請問：(109學測)

- (D) 143. 上述現象最常出現於何時何地？(A) 西元前四世紀的雅典 (B) 十四世紀的佛羅倫斯 (C) 十六世紀的羅馬 (D) 十八世紀的巴黎

啟蒙運動 名媛, 沙龙, 哲士

小羅斯福新政時期

(B) 144. 1935年，美國《時代雜誌》以一位蘇聯礦工為封面（右圖）。根據報導，這位礦工發明新的採煤方式，創下高出政府訂定生產目標十幾倍的紀錄。蘇聯政府特別表揚他，以激勵國人，並凸顯蘇聯經濟體制的優越。《時代雜誌》報導這則新聞的背景最可能是：(109學測)



- (A) 為共同打擊法西斯主義，美國希望與蘇聯合作 (B) 美國國內的經濟不景氣，關切蘇聯的經濟發展 (C) 美國認為蘇聯重工業發達，欲拉攏蘇聯以制德 (D) 時代雜誌立場左傾，成為蘇聯在美國的代言人

◎ 下圖是幅流傳於歐洲某時期的諷刺畫。此圖（由左至右）將方濟會修士穆納、神學家埃姆澤、教宗利奧十世、神學家艾克，以及神學家萊普，分別繪製成貓、公羊、反基督的獅子、豬，以及狗。請問：(109學測)

- (B) 145. 依據你的歷史知識，此諷刺畫最可能出現於何時何地？(A) 十五世紀義大利 (B) 十六世紀日耳曼 (C) 十七世紀西班牙 (D) 十八世紀法蘭西

文藝復興 教宗所在 宗教改革 新教地區 天主教國家

- (B) 146. 此種諷刺文宣品的刊布與流傳，與當時哪種歷史發展的關係最為密切？(A) 方言文學流行 (B) 印刷術的盛行 (C) 大航海時代的來臨 (D) 資本主義制度興起



15世紀 古騰堡 活字印刷術


◎ 十五世紀中葉，葡萄牙人在大西洋東部海域馬德拉群島開始種植甘蔗；十六世紀中葉，葡萄牙殖民巴西以後，又在當地發展蔗糖產業。由於蔗糖屬於勞力密集產業，於是引進大量外來勞工。請問：

- (A) 147. 這些外來勞工主要為下列何者？(109學測) (A) 非洲黑人 (B) 華工 (C) 歐洲罪犯 (D) 北美印第安人

三角貿易 日銀 歐 美 日用品 非 19世紀中葉之後

「擔負責任是艱辛的，但它也是一種榮耀；擔負的責任越大，越能發揮生命的光輝。」

— 俾斯麥



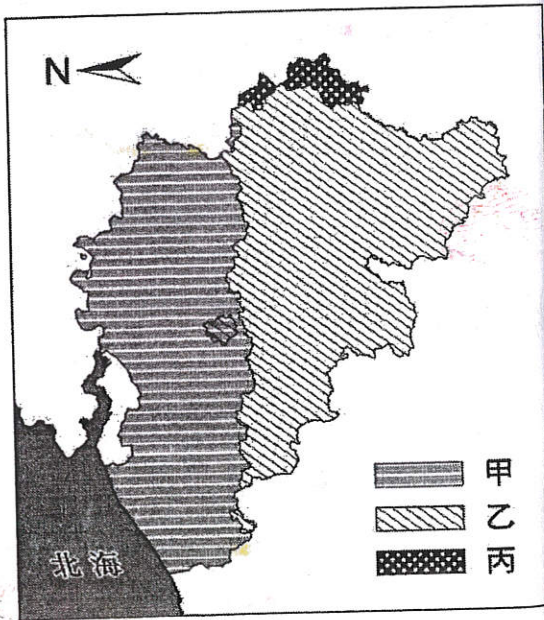
◎地圖幫助人們以空間的方式來理解世界中的事物、概念、情況、過程或事件。附圖為一幅繪製於某時期的世界地圖，蘊含著當時人對世界的觀察與理解。圖面正中間的區域，一直是東西文化交流頻繁之地，在現代也具有重要的戰略地位。2018年甲處水域的鄰近各國召開會議並簽署公約，以確保各國的政治、經濟利益。請問：(109學測)



- (C) 148 根據上圖出現的陸塊及其形狀、大小、方位等，推論這幅世界地圖最可能繪製於何時？
 (A) 八世紀，阿拉伯帝國從北非進入伊比利半島後
 (B) 十一世紀，羅馬天主教會發動十字軍運動之時
 (C) 十六世紀，哥倫布最後一次探訪美洲新大陸後
 (D) 十九世紀，歐洲的列強協議瓜分非洲大陸之時

圖中已有五大洲，可見已地理大發現 → A、B 刪去。
 非洲大獵時，地圖應更詳盡，但附圖較簡略。

◎比利時是由多語言族群組成的聯邦體制國家，包括法語、荷語和德語等語言族群，其分布區域主要與鄰國居民通用的語言有關，附圖為該國的語言分區圖。這三種語言分布彼此明顯區隔，並成為該國自治行政區劃分的重要依據之一。比利時之所以成為多語言族群的國家，與其特殊的歷史發展關係密切。比利時原與荷蘭及盧森堡組成所謂的低地國，但經過十六、十七世紀的連年戰爭，其中的十七個省分分裂，最後形成比利時以及荷蘭兩個國家。由於族群和語言因素，現今比利時沒有任何一個政黨可以橫跨不同語言區而獲得全國性的支持，甚至在 2010 年國會大選之後，比利時各政黨的組閣談判長達 541 天，最後才順利組織政府，成為全球在和平時代裡無政府時期最長的國家。請問：(109學測)



- (A) 149 依據題文資訊，低地國十七個省分分裂後，促成某些省分成立荷蘭共和國的戰爭最可能是下列何者？
 (A) 三十年戰爭 1618-1648
 (B) 英法七年戰爭 1756-1763
 (C) 拿破崙戰爭 1803-1815
 (D) 普法戰爭 1870-1871

荷蘭原屬西班牙，宗教改革後，反西班牙的統治，及西班牙對喀爾文教派派下爆發獨立戰爭，持續到三十年戰爭結束。

四、跨時空(共 48 題)

- (A) 1. 十九世紀末，有人說：「我國不可猶疑，與其坐等鄰邦之進步而與之共同復興東亞，不如脫離其行伍，而與西洋各文明國家共進退。對待鄰國之辦法，不必因其為鄰邦而稍有顧慮，只能按西洋人對待此類國家之辦法而對待之。」請問說這段話的人，他的國籍為何？ (A) 日本 (B) 朝鮮 (C) 俄國 (D) 中國。(91 學測)
 福澤諭吉《脫亞論》1885年刊登於日本報紙《時政新報》上，討論脫亞(入美?入歐) vs 興亞(大東亞共榮)
- (D) 2. 以下是 1930 年代一位領袖的演講：「我國人民必須從既無希望又無秩序的國際主義中解放出來，接受一種有意識、有步驟的狂熱民族主義的教育……。其次，應該使我國人民擺脫荒謬的議會主義，教導他們與民主的瘋狂性鬥爭，並認識到權威與領導的必要性。第三，應該使人民擺脫對外援的可憐的信心，即所謂相信民族和解、世界和平、國際聯盟與國際團結，我們將摧毀這些思想。世界上只有一種法律，也就是自身力量的法律……。」請問這是一場什麼樣的演講？ (A) 史達林號召蘇聯人民反抗帝國主義 (B) 邱吉爾呼籲英國人民反抗納粹德國的侵略 (C) 毛澤東號召人民反抗南京國民政府 (D) 希特勒鼓吹法西斯主義。(91 學測)
 A. 共產國際 B. 民主 C. 相同民族
 1. 反國際主義 主張民族主義 2. 反議會民主 主張集權 3. 反民族和解 強調自身力量
- (B) 3. 1938 年，某國出版的一本書中，敘述十九世紀末該國政府對某地進行鎮壓行動：「槍斃及斬首一千五百人，燒毀房屋一萬家，某地大半化為灰燼」。書中還主張將這種經驗應用到在中國的殖民活動。這部書最可能是以下的哪一種？ (A) 英國出版的《東印度公司發展史》 (B) 日本出版的《臺灣總督府警察沿革誌》 (C) 俄國出版的《西伯利亞鐵道開發史》 (D) 外蒙古出版的《蒙古秘史》。(92 學測)
 1938年在中國的殖民活動僅剩日本。(B)指日本鎮壓台灣各地的抗日活動
- (A) 4. 一位老人敘述自己的家族歷史時，說道：「我的祖先來自唐山，到這開墾幾年後，沒有辦法回唐山娶親，只能就地與『番婆』結婚，可是家裡仍然說唐山話，讀漢文。在英國人統治時，日子過得還好。日本人一來，財產可就受到很多損失。後來日本人走了，我們也建立了一個獨立的國家，可是我總還想回唐山去掃墓祭祖。」這位老人應當身處何地？ (A) 馬來西亞 (B) 菲律賓 (C) 臺灣 (D) 香港。(92 學測)
 曾被英日統治 1963正式獨立 西→美 1898 未獨立建國
 華人占30%
- (C) 5. 某地有一個傳說：1903 年外國人入侵時，該地人民奮勇抵抗，有幾位男人因為武器落後，無法對抗入侵軍隊，遂跳崖自殺。不久，外國軍隊撤軍返國，該地村民立碑紀念，並將地名改為「英雄堡」。這個傳說應與以下哪一個史實有關？ (A) 臺灣中部地區英勇的武裝抗日事蹟 (B) 日俄戰爭期間瀋陽地區的抗日行動 (C) 英軍入侵西藏時，藏民的抵抗活動 (D) 日軍入侵朝鮮時，朝鮮人民的抵抗。(93 學測)
 A. 日治時期 日本不算外國人 B. 日俄 War 1904-1905 D. 1910 日本入侵 併吞朝鮮
- (B) 6. 典禮進行時，兩國國君為了個人在會場位置的先後而爭執不下，負責典禮的官員表示：「凡屬於我邦的同盟，同姓在前，異姓在後，這是長久以來的禮儀規範。」因而平息了這場爭議。這個場景最可能出現在哪個時期？ (A) 羅馬帝國時期 (B) 中國西周時期 (C) 西歐中古時期 (D) 日本幕府時期 (93 學測)
 建立在血緣基礎上的封建制度
- (D) 7. 農民的生產過程裡，在尚未收成前，有時需要舉債度日。但是，民間借貸的利息偏高，常使農民陷入嚴重的債務危機。因此，有的時期政府設計了一些制度或者成立組織，以解決農民借貸的需求。以下哪個法令或組織是為了這個目的而成立的？ (A) 漢武帝實施的均輸平準法 (B) 隋唐時期採行的租庸調制度 (C) 明清時期盛行的族田制度 (D) 二次大戰後臺灣農會信用部。(93 學測)
 A. 平抑物價
 B. 稅收制度(收實物)
 C. 宗族共有的土地
 用以救助窮人 舉辦教育與祭祀
 或 王安石變法=青苗法