

# 一、台灣史

- ( D ) 1. 下表資料顯示臺灣人理解日語的人口比率。由該表可知，臺灣人口中理解日語的比率漸增。1930年起的大幅增加，是因為日本政府設立「國語講習所」，而自 1937 年起，理解日語的比率再次大幅增加。請問其最主要的原因為何？ (A) 日本政府普設學校，使臺灣人可以接受小學教育 (B) 日本政府鼓勵臺灣人接受高等教育，增加臺灣人學習日語意願 (C) 1935 年起日本在臺灣實施有限度的地方自治選舉，增加臺灣人學習日語的意願 (D) 日本政府在二次大戰期間推行「皇民化」運動。(91 學測)

| 時間     | 總人口   | 理解日語人數    | 比率 (%) |
|--------|-------|-----------|--------|
| 1930 年 | 440 萬 | 365,427   | 8.3    |
| 1933 年 | 461 萬 | 1,127,509 | 24.5   |
| 1937 年 | 510 萬 | 1,934,000 | 37.9   |
| 1940 年 | 552 萬 | 2,885,373 | 52.3   |
| 1941 年 | 568 萬 | 3,239,962 | 57.0   |

國語家庭  
改姓名  
寺廟整理  
正廳改善

- ( D ) 2. 國民政府遷臺後，臺灣政治上的反對運動是經過哪一場事件後，形成跨縣市的結合，後來更成為打破黨禁的動力？ (A) 霧社事件 (B) 二二八事件 (C) 退出聯合國 (D) 美麗島事件。(91 學測)

日三、1930 未盪白、1947 1971 1979 中美斷交

- ( C ) 3. 臺灣光復後進行的「耕者有其田」政策奠定其後經濟發展的基礎。下列敘述何者適當？ (A) 政府強制地主將土地以公告地價現值賣給實際耕作的佃農，若農民沒有足夠的資金，可向政府貸款 (B) 政府沒收地主土地，強制發放給實際耕作的佃農，且政府不補償地主的損失 (C) 政府強制徵收地主多餘的土地，發給地主公營企業的股票與實物債券作為補償 (D) 凡是欲從事農業經營之人，若無土地，可以向政府申請開發國有土地，若經營有成，該土地可轉為私有。(91 學測)

三七五 → 公地放領 → 耕者有其田

## 第 4-5 題為題組

一部小說中有以下一段情節：「太明開始對教育有了懷疑了。最少是對教育方法有所懷疑。想起來有很多不能了解的。比如小學校不用體罰，也能提高教育的效果；為什麼公學校不能那樣？小學校按照學則辦理，為什麼公學校把重點放在農業教育？」請回答以下兩個問題：(91 學測)

- ( B ) 4. 這部小說所說的是什麼時代、什麼地方的事？ (A) 滿清時代，福建 (B) 日據時代，臺灣 (C) 1945 年以後，臺灣 (D) 二十世紀初，香港。

- ( A ) 5. 在小學校與公學校接受教育的人各是誰？ (A) 小學校是日本人；公學校是臺灣人 (B) 小學校是外省人；公學校是本省人 (C) 小學校是英國人；公學校是香港人 (D) 小學校是滿人；公學校是漢人。

- ( B ) 6. 有一段資料記載：道光十年以後，因為閩、浙地區連年豐收，一年之中，好幾個月沒有廈門商船到臺灣收購稻米，「臺人苦穀有餘而乏日用」。有關此一資料的解釋何者較為適當？ (A) 臺灣需從大陸進口日用品，大陸日用品價格上漲，臺人無力負擔 (B) 臺灣與大陸的經濟分工關係，臺灣出售糧食，從大陸購入日用品 (C) 大陸引進新作物，糧食已可自給，此後不再需要由臺灣進口糧食 (D) 臺地已無餘糧可供輸出，以致引起島內物價上漲，人民生活窮困。(92 學測)

區域分工 → 國際貿易



(D) 7. 臺灣南部某鎮一座有兩百餘年歷史的廟宇，留下的捐款紀錄記載長期以來捐獻者的姓名、居地與捐獻金額。此資料自某時期開始，出現了來自「板橋、新莊」等北部地區的信眾，且此後漸以為常。關於此一現象，以下哪個選項的解釋最為合理？ (A) 清朝中期族群衝突緩和，南北交流漸趨密切 (B) 臺灣開港通商之後，南部居民轉向北部移動 (C) 日據時期為了開發南部，北部農業人口南移 (D) 二次大戰後臺灣工業化，南部居民北上就業。(93 學測)

(B) 8. 參看以下資料，回答問題：  
 資料一：「臺灣鄉間的諺語：天下第一憨，種甘蔗給會社磅（稱重量）。」  
 資料二：「1905 年 6 月臺灣總督府規定：為制止各製糖工廠間的原料爭奪，避免擾亂蔗價，各蔗作區劃定為一定範圍的區域。此區域內的甘蔗未經許可，不得運出區域之外，或供作砂糖以外成品的製作原料。」根據以上資料，下列敘述何者適當？ (A) 保障了臺灣蔗農，使蔗農有固定買主與穩定的銷路 (B) 保障了新式糖廠，使其降低收購甘蔗原料的價格 (C) 政府照顧臺人生活，引進製糖業，糖從此成為重要輸出物資 (D) 使臺灣舊糖廠在政府補助下轉型為新式糖廠，奠定工業的基礎。(92 學測)

(C) 9. 政府宣布：禁止演出布袋戲、歌仔戲，也不准進入寺廟，鼓勵人民更改姓氏，強迫改說「國語」。這種政策是在何時開始推行的？ (A) 1895 年，甲午戰後日本占領臺灣時 (B) 1919 年，第一次世界大戰結束之時 (C) 1937 年，中日爆發蘆溝橋衝突之後 (D) 1945 年，陳儀任臺灣行政長官之後。(93 學測)

(D) 10. 日治時期，臺灣海峽兩岸雖然政治分離，但文化思想的交流仍然密切。1923 年《臺灣民報》創刊，其「創刊詞」說：「我們處在今日的臺灣社會，欲望平等，要求生存，實在非趕緊創設民眾的言論機關，以助社會教育，並喚醒民生不可了。……所以這回新刊本報，專用平易的漢文，滿載民眾的知識，宗旨不外欲啟發我島文化，振起同胞的元氣，以謀臺灣的幸福。」這段話顯示，當時臺灣知識份子已接納的近代中國新文化是下列哪一項？ (A) 新教育 (B) 反傳統 (C) 反腐败 (D) 白話文。(94 學測)

(D) 11. 下表是臺灣在某一時期的對外貿易統計數字。請問造成表中數字變化的主要原因是什麼？ (A) 海禁政策的解除 (B) 技職教育的推廣 (C) 殖民體制的確立 (D) 鐵路港口的興建。(94 學測)

(單位：日圓)

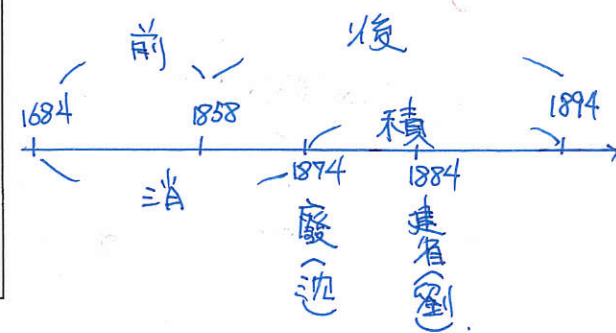
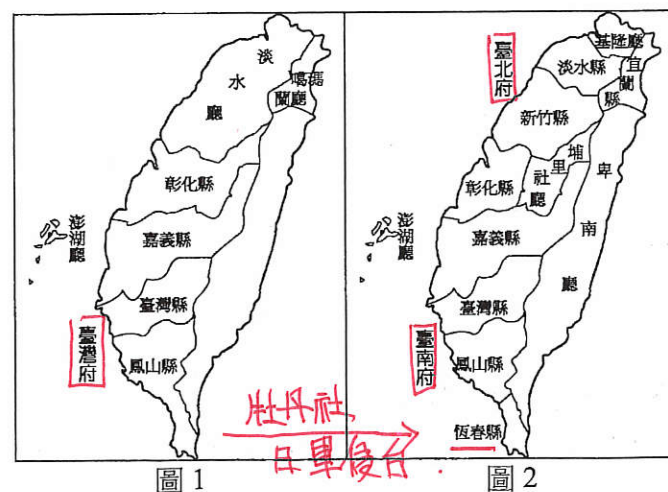
| 年代   | 輸出     | 輸入     | 合計      | 指數  |
|------|--------|--------|---------|-----|
| 1896 | 11,396 | 8,631  | 20,027  | 100 |
| 1924 | 42,567 | 46,424 | 89,000  | 444 |
| 1925 | 47,966 | 56,489 | 104,454 | 522 |
| 1926 | 49,315 | 62,008 | 111,323 | 557 |

Handwritten notes: 日治, 基礎建設, 1895, 1905, 1930, 1945, 豐收, 進口, 出口, 南洋, 鐵門, 清領前期.

(C) 12. 一位作家以充滿感性的文字寫道：「內地人徹底地擁抱本島人，而本島人喜悅地投入內地人的懷裡，這種親和性不是一時的現象，可能在永久性的意義上有著要創造一個民族的骨骼之性質吧！現在，臺灣人非打開眼睛不可。正是時候了，臺灣人不單只是日本國籍，而且從內心深處完全變成日本人。如果失去這次時機，以後我們不能再遇到這種機會了。」這位作家寫作的背景與目的是下列何者？ (A) 反對臺灣民主國的抗日運動 (B) 爭取臺灣自治權的民主運動 (C) 呼應臺灣總督府的皇民運動 (D) 渴望臺灣人出頭的民族運動。(94 學測)

題組題 (第 13~14 題為題組)

◎圖 1 及圖 2 分別是臺灣在兩個不同時期的行政區域示意圖。請問：(94 學測)



(B) 13. 臺灣的行政區劃由圖 1 演變至圖 2，是受到哪一事件衝擊的結果？ (A) 1856 年的英法聯軍 (B) 1874 年的日本侵臺 (C) 1884 年的中法戰爭 (D) 1894 年的甲午戰爭 (劉讓, 開港)

(A) 14. 臺灣的行政區劃由圖 1 演變至圖 2，顯示出臺灣歷史的哪一種發展？ (A) 漢人移墾的禁令已告廢除 (B) 建省後統治政策轉趨積極 (C) 蓬勃發展的地方自治運動 (D) 日本殖民統治的基礎穩固。

(B) 15. 一位英國商人第一次到淡水地區經商時，與當地商人發生衝突，但當地官署無法處罰他。七年後，這位商人再度來臺，企圖如法炮製，卻立刻被官署糾正、處罰。這位商人大概是在何時來臺？ (A) 1840 年臺灣開港通商前後 (B) 1895 年臺灣割讓日本前後 (C) 1915 年一次大戰爆發前後 (D) 1945 年日本戰敗投降前後。(95 學測)

(A) 16. 某人翻閱古書，看到一位任職臺灣的官員在 1820 年提出一份有關當地的報告。這份報告的主旨最可能包括下列何者？ (A) 彰化地區發生了兩派人馬的集體衝突 (B) 魚塢養殖的鰻魚豐收，外銷成果良好 (C) 當地父老聯名，請求官府改建火車站 (D) 糖廠安裝新式的蒸汽鍋爐以提高產能。(95 學測)

(B) 17. 朱一貴之亂後，康熙皇帝在上諭裡指稱：「臺灣止一海島，本地所產不敷所用，仰賴閩省錢糧養生。」關於這份上諭，以下哪一項說明較為合理？ (A) 當時臺灣生產力落後，人民生活窮困，需要福建接濟 (B) 當時國家控制下繳納賦稅的戶口不多，財政收入不足 (C) 這是清廷為了安撫鄭氏餘黨，給予大量物資作為酬庸 (D) 這是清初加強臺灣的建設，不足的經費由福建來支援。(95 學測)

(B) 18. 學者根據清代兩次戶口統計資料，計算出清代臺灣北、中、南、東四個區域人口數如表一，其中哪一個是北部地區？ (A) 甲 (B) 乙 (C) 丙 (D) 丁。(95 學測)

表一

|     | 嘉慶十六年(1811)   | 光緒十九年(1893)   |
|-----|---------------|---------------|
| 東 甲 | 無資料           | 6,000 人       |
| 乙 北 | 258,000 人 3   | 767,000 人 2   |
| 南 丙 | 1,305,000 人 1 | 1,101,000 人 1 |
| 丁 中 | 342,000 人 2   | 622,000 人 3   |

1858 開港



內地延長

(A) 19. 表二是 1926 年時臺灣的一項統計數字，這個表最適當的主題為何？(95 學測)

表二

|     |       |       |       |
|-----|-------|-------|-------|
|     | 男     | 女     | 平均    |
| 日本人 | 98.3% | 98.1% | 98.2% |
| 臺灣人 | 43.0% | 12.3% | 28.0% |

- (A) 臺灣適齡兒童就學情況統計 (B) 臺灣地區神道信徒人口統計  
(C) 臺灣地區成年人口就業統計 (D) 臺灣地區醫療照護保險統計

(A) 20. 劉銘傳擔任臺灣巡撫時，招募許多歐洲工程師來臺灣協助興建鐵路，架設電線。有位工程師覺得臺灣風土民情處處新鮮，將許多有趣之事向歐洲的親友報告，許多人也有親臨現場的感覺。他當時使用的方法最可能是：(A) 照相 (B) 錄影 (C) 繪圖 (D) 剪報。(95 學測)

(1885-1891) 數字偏但 同工不同酬

1880 美伊斯基曼 B. 1847 美墨 1853 克里米亞 日治引入白蟻

(C) 21. 有一位臺灣原住民敘述他的家族史：「祖先原來住在群山萬嶺之中，但來了一群『新的統治者』，強迫族人遷移到較低海拔的地區，集中居住。生活環境改變了，族人一直受到瘧疾、霍亂等新疾病的侵襲，部落裡的巫醫全都束手無策。」這些「新的統治者」是指：(A) 荷蘭東印度公司官員 (B) 福建省臺灣府官員 (C) 臺灣總督府民政長官 (D) 臺灣省政府民政廳。(96 學測)

土牛紅線 遷村管理

(B) 22. 某官員批評：「自從決議要開山以後，蕃亂不止，已有十多年了，剿也無功，撫也無效。提到開墾，也沒有新增任何土地可以增加政府稅收。至於防守，只是為了富紳土豪保護茶寮、田寮、腦寮，而不能禁止『兇蕃』出草，每年浪費許多軍費。」這位官員批評的是哪個事件？(A) 清朝初期，施琅禁止粵移民來臺 (B) 清朝後期，劉銘傳主張開闢山地 (C) 日據初期，日本總督要征討山地 (D) 國府遷臺，要開發山地增加糧產。(96 學測)

沈、丁、劉 < 開山撫番 >

(A) 23. 一位美國總統宣示：「臺灣依《開羅宣言》及《波茨坦宣言》，早已於日本投降後交還中國。」他並表示美國並無強占臺灣的意圖，也不想臺灣建立軍事基地，或干涉現狀；但宣示後不久，他又派艦隊進入臺海。導致這位總統政策轉變的最可能原因為何？(A) 蘇聯支持中共出兵朝鮮，破壞區域和平 (B) 中國成功進行核子試爆，引起美國疑慮 (C) 美國介入導致越戰擴大，威脅日本安全 (D) 限制核武擴散談判破裂，美蘇兩國反目。(96 學測)

杜魯門

No 7

(A) 24. 表一是 1912 年到 1921 年間有關臺灣的一項統計。這個表的主題應當為何？(96 學測)

表一 特別 內地延長

|     |      |      |      |      |       |       |       |       |       |       |
|-----|------|------|------|------|-------|-------|-------|-------|-------|-------|
| 年度  | 1912 | 1913 | 1914 | 1915 | 1916  | 1917  | 1918  | 1919  | 1920  | 1921  |
| 百分比 | 6.63 | 8.32 | 9.09 | 9.63 | 11.06 | 13.14 | 15.71 | 20.69 | 25.11 | 27.22 |

- (A) 適齡學童的就學率 (B) 家用電話的普及率 (C) 人口成長的年增率 (D) 日人占臺灣人口比

二戰後逐漸普及 0.988% ~ 0.835% 0.08% → 0.32% 5萬 → 30萬

(B) 25. 某一時期，有人指出：「臺灣物產豐富，有硫磺、蔗糖、鹿皮，原來缺少布帛，現也不虞匱乏」，建議政府善加防守。只要將內地的部分軍隊移防臺灣，便可確保臺灣及澎湖兩地，以確保東南數省之安全。這種想法的背景是：(A) 鄭成功被清軍打敗，轉移到臺灣的構想 (B) 施琅攻下臺灣之後強化臺灣防務的建議 (C) 劉銘傳於臺灣建省之後有關軍備的設計 (D) 甲午戰爭後日軍希望在臺灣殖民的想法。(97 學測)

施琅：恭陳台灣籌略疏 消極：為了防台叛亂而白白

(C) 26. 表二為臺灣某時期人口數超過 1 萬人的都市。根據表中的資料推測，我們可以得知這項調查應於何時完成？(A) 1805 年 (B) 1850 年 (C) 1905 年 (D) 1950 年 (97 學測)

表二

|     |        |        |        |        |        |        |        |        |
|-----|--------|--------|--------|--------|--------|--------|--------|--------|
| 地名  | 臺北     | 臺南     | 新竹     | 嘉義     | 鹿港     | 宜蘭     | 彰化     | 麻豆     |
| 人口數 | 50,773 | 50,000 | 17,827 | 17,281 | 17,273 | 15,104 | 13,539 | 10,027 |

1848 鹿港後才逐步崛起

1920 高雄 ? 日治建港後興起

(C) 27. 《嘉義縣採訪冊》記載了嘉義縣各地的開發過程、人口和田畝數、廟宇和風景名勝等資料，這是我們認識清朝統治時期較精確的數字資料。這本書中出現的數據與下列何者有關：(A) 施琅計畫攻打明鄭政權，調查南臺灣的地理環境 (B) 沈葆楨為了阻止日軍進攻，調查該地的軍事地形 (C) 劉銘傳為統治臺灣，改善財政，先進行相關調查 (D) 臺灣民主國唐景崧為了抵抗日本，從事國力調查。(97 學測)

林爽文事件後

日軍入侵屏東

(C) 28. 某一時期，臺灣的法律規定：「凡是向官府登記在案，並繳納稅金者，即可合法吸食鴉片。」但是具有「某種身分者」不准吸食，如供應這種人吸食工具者，皆處以死刑。這裡所謂「某種身分者」是指：(A) 原住民 (B) 荷蘭人 (C) 日本人 (D) 本島人。(97 學測)

為了維護日人健康

(D) 29. 一位在臺任職的官員向長官報告，指出：「為獲得『蕃地』的經濟利益，我們必須使用武力，沒收『蕃人』的槍枝，讓他們放棄狩獵生活，並強制將他們移居接近平地的河川地，從事農耕，以便加強控制。」這種觀點的歷史背景是：(A) 明鄭時期積極開發山地，以期對抗滿清 (B) 沈葆楨為了取得林業資源，開山「撫番」 (C) 劉銘傳為了樟腦利益，採行「撫番」政策 (D) 日本為掌握山地資源，控制「番地秩序」。(97 學測)

(同 21) 遷村管理

(D) 30. 慎終追遠是漢人社會的核心價值，臺灣人也供奉祖先牌位，按時祭祀。但在某個時期，為了避免違反統治者的命令，必須設法將祖宗牌位藏起來。這種現象最可能發生在何時：(A) 1835 年 (B) 1886 年 (C) 1912 年 (D) 1943 年。(97 學測)

皇民化 - 正廳改善 1937-1945

(B) 31. 表三是 1905~1938 年臺灣的「米、糖、甘蔗」的價格變動與比率表，表中顯示出何種意義？(97 學測)

表三

1922 蓬萊米

|              |      |       |       |       |       |      |      |       |
|--------------|------|-------|-------|-------|-------|------|------|-------|
| 年代           | 1905 | 1910  | 1915  | 1920  | 1925  | 1930 | 1935 | 1938  |
| 在來米價(圓/100斤) | 3.33 | 3.67  | 3.58  | 10.98 | 10.68 | 7.08 | 9.08 | 9.92  |
| 蓬萊米價(圓/100斤) | /    | /     | /     | /     | 14.37 | 8.81 | 9.98 | 11.35 |
| 甘蔗價格(圓/100斤) | /    | 2.779 | 4.138 | 10.59 | 7.118 | 4.50 | 4.09 | /     |
| 糖/米價格比率(倍)   | 2.11 | 1.63  | 2.35  | 2.76  | 0.81  | 0.82 | 0.80 | 0.99  |

無法看出

- (A) 米糖價格變動反映了臺灣人消費習慣的改變 (B) 米糖價格變動趨勢說明臺灣經濟的殖民地化 (C) 臺灣稻米價格上漲，須進口稻米來平抑米價 (D) 臺灣稻米的產量倍增，造成米糖價格的波動。

米糖相剋

(A) 32. 一位日本人寫一封信給在臺灣的友人，信封上標示的地址是「臺灣恒春郡海角七番地」。臺灣普遍擁有戶籍地址，和日治時期政府哪項建設事業有關？(A) 土地調查事業 (B) 蕃地調查事業 (C) 森林計畫事業 (D) 都市計畫事業。(98 學測)

電影：海角七號 2008/民 97 年上映



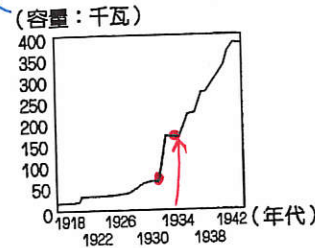
(C) 33. 一塊碑文寫道：「勘定朴仔籬處，南北計長二百八十五丈五尺，共堆土牛一十九個，每土牛長二丈，底闊一丈，高八尺，頂寬六尺；每溝長一十五丈，闊一丈二尺，深六尺。永禁民人逾越私墾。」這塊石碑最有可能是為確立何種地界而立？ (A) 荷治時期王田地界 (B) 明鄭時期屯田地界 (C) 清治時期漢番地界 (D) 日治時期蕃地地界。(98學測)

土牛紅線

(A) 34. 一名臺灣官員向朝廷報告：「臺地無源可開，但通其流，而源自裕。米穀不流通，日積日多……蓋由內地食洋米而不食臺米也。不食臺米，則臺米無去處，而無內渡之米船。無內渡之米船，則無外來之貨船。」依據你對東亞歷史的了解，文中的「洋」指何而言？「洋米」自何地輸入？ (A) 指南洋，由東南亞輸入 (B) 指東洋，係由日本輸入 (C) 指西洋，係由歐洲輸入 (D) 指印度洋，由印度輸入。(98學測)

1842年中國開港後，引進東南亞米，→ 1850 台灣道台 張宗幹反映

(C) 35. 右圖為日本統治期間臺灣發電設施之設備容量變化圖。請問，使1930年代設備容量急遽增加的設施為何？ (A) 恆春的核能發電廠 (B) 高雄的火力發電廠 (C) 日月潭水力發電廠 (D) 大甲溪水力發電廠。(98學測)



(敦蘭遊城)

(B) 36. 有本臺灣地方志提及某地的築城：「他們蓋的城很小，根本就不能算是城……但他們有好的船隻，也善用火砲，所以雖然軍隊數量不多，但各地的原住民都聽命於他們。他們又在城外設立市場，福建沿海商人頻繁前來和他們貿易。」這應是哪一次的築城活動？ (A) 西班牙人在基隆地區築城貿易 (B) 荷蘭人據臺時在安平地區築城 (C) 鄭成功復臺後修築的承天府城 (D) 英國人在淡水地區修築紅毛城。(98學測)

A. 貿易不順 C. 未與福建商人互通交流 D. 英國於開港後重整紅毛城，規模大

(C) 37. 同學撰寫報告時，前往圖書館翻閱日據時期的舊報刊，無意間發現：從某個時期起，臺灣所有報刊裡的漢文欄目都消失了。這個現象最早可能發生於何時？ (A) 1905年 (B) 1920年 (C) 1937年 (D) 1945年。(99學測)

皇民化

(C) 38. 監察御史來臺考察後，上奏建議：應在臺灣府以木為柵，保護官署，並在要衝處設置砲位，加強防守，相關工程交由臺灣縣知縣辦理。朝廷批示：實屬妥當，同意辦理，並嘉獎相關人員。這個事件的背景是： (A) 鄭成功企圖攻打臺灣，荷蘭管理當局的計畫 (B) 施琅攻下臺灣之後，為加強臺灣防務的處置 (C) 朱一貴事件平息以後，雍正皇帝的治臺措施 (D) 日軍借牡丹社事件攻臺後，福建巡撫的作為。(99學測)

康熙築柵 → 雍正柵林 → 乾隆磚造

(A) 39. 1830年左右，臺灣的官員為了因應局勢，開始推動「聯莊」政策。他們編造「閑民冊」，又結合數個村莊，加以編組，實施「清莊聯甲」之法。這個政策的目的是： (A) 防範遊民擾亂秩序 (B) 抵抗西方國家進犯 (C) 防範日本入侵臺灣 (D) 削弱本地地主勢力。(99學測)

羅漢腳

◎40~41 為題組

表一與表二是1956到1986年間臺灣四個都會區人口數與人口年成長率的資料。(99學測)

表一 (單位：千人)

|   | 1956  | 1966  | 1976  | 1986  |
|---|-------|-------|-------|-------|
| 甲 | 1,237 | 2,099 | 3,457 | 4,887 |
| 乙 | 2,608 | 2,977 | 1,546 | 1,954 |
| 丙 | 4,378 | 4,560 | 3,808 | 3,109 |
| 丁 | 3,426 | 3,599 | 4,780 | 4,972 |

北  
高  
中  
南

表二 (單位：%)

|   | 1956             | 1966             | 1976             | 1986             |
|---|------------------|------------------|------------------|------------------|
| 甲 | 6.1 <sup>2</sup> | 5.3 <sup>1</sup> | 4.4 <sup>1</sup> | 3.6 <sup>1</sup> |
| 乙 | 4.3 <sup>3</sup> | 4.3 <sup>2</sup> | 3.5 <sup>3</sup> | 1.8 <sup>4</sup> |
| 丙 | —                | 3.7 <sup>3</sup> | 3.6 <sup>2</sup> | 3.1 <sup>2</sup> |
| 丁 | 6.6 <sup>1</sup> | 3.1 <sup>4</sup> | 2.3 <sup>4</sup> | 2.3 <sup>3</sup> |

(B) 40. 表一的丙都會區最可能是： (A) 臺北 (B) 臺中 (C) 臺南 (D) 高雄。

(A) 41. 表二的甲都會區到1980年代以後人口仍維持較高成長率的主要原因為何？ (A) 經濟與社會發展，吸引大批人口移入 (B) 政府推行鼓勵生育的新人口政策生效 (C) 醫療資源發達，人口死亡率大幅降低 (D) 為發展經濟，進用國外高級科技人才。(99學測)

政. 經中心!

(D) 42. 臺灣某報刊登一則啓事，招募18歲以上，小學校或公學校畢業的青年，加入「特設勞務奉公團」，前往南洋服務，這則啓事應出現於以下哪一時期？ (A) 日本占領臺灣初期 (B) 第一次世界大戰前 (C) 文官總督治臺時期 (D) 推行皇民化運動時。(100學測)

(C) 43. 某時期，臺灣當局邀請士紳前往「內地」參訪，不僅補助旅費，還安排他們參觀現代化設施，使其認識現代文明，以利統治。我們如何理解此一作法？ (A) 清朝領臺之初，以交流化解明遺民反清的意志 (B) 劉銘傳治臺初期，讓士紳認識清廷的自強新政 (C) 日本殖民之初，欲加強臺灣人民對日本的了解 (D) 臺灣光復初期，要臺灣人民加速認識祖國文化。(100學測)

A. 無現代化與否之差別 D. 日治台灣比同時期中國進步

(A) 44. 某時期中，臺灣當局對入港船隻課徵關稅，來臺漢人除繳納田租外，還須申請執照，繳交費用後才可打獵、捕魚；年滿7歲者，均須繳交人頭稅。發布這個命令的人應是： (A) 荷屬東印度公司總督 (B) 鄭氏時期的承天知府 (C) 康熙年間的臺灣知府 (D) 日據時期的臺灣總督。(100學測)

B. 無打獵執照, C. 無復徵關稅 D. 無打獵, 捕魚, 人頭稅

(D) 45. 某地方志記載：此地製茶工房林立，茶葉產期，茶行必須僱用許多女工，多則五六十人，少則二三十人，甚至有漳、泉婦女來此短期工作，每日工資四五錢不等。這本地方志最可能是： (A) 《諸羅縣志》 (B) 《彰化縣志》 (C) 《臺東州志》 (D) 《臺北府志》。(100學測)

茶：開港後，中北部丘陵地

(C) 46. 許多人為「改革臺灣省政」召開會議，通過組織大綱，以各縣市參議會為主體成立分會，提出高度自治、廢止煙酒專賣等主張，並與政府展開交涉。這個會議與下列哪一組織最為相關？ (A) 臺灣文化協會 (B) 臺灣民眾黨 (C) 二二八事件處理委員會 (D) 美麗島雜誌社。(100學測)

A. B. 日治時代非省級單位以聲譽宣揚民主

(B) 47. 右圖是根據1907年前後臺灣某項統計資料所做的空間分布圖，這個地圖的主題最可能是： (A) 稻作與甘蔗的分布 (B) 閩粵各族群的分布 (C) 瘧疾發生率的分布 (D) 都市化程度的分布。(100學測)



沿海 中北部丘陵地 內陸  
泉 客 漳



(B) 48. 日本在臺灣殖民時期，有的糖廠會兼營水利設施。糖廠大多規定：凡使用灌溉溝渠的農民，須以甘蔗折價繳納，不收取現金或其他實物。糖廠採取徵收實物措施的目的為何？(A) 農民缺乏現金，必須配合，收取實物 (B) 糖廠可掌握原料供應，以便控制蔗價 (C) 農民運輸不易，希望由糖廠代為銷售 (D) 糖廠為照顧蔗農，提供保證價格收購。(100學測)

**新製糖法**  
**糖業改良**  
**直隸書**  
**日本經營糖業政策：以日本利益為首要考量，保護日資 → 指定原料採收區域**

(B) 49. 一位民意代表主張：「今日臺灣發電條件豐富，政府應研究鐵路電氣化的可能性，其經濟效益可提高人民所得。」主管交通的官員答覆：「關於鐵路電氣化問題，美援會研究認為需再慎重，本會中央繼續研究中。」這位民意代表最可能是：(A) 1930年代，街庄協議會的議員 (B) 1960年代，臺灣省議會的議員 (C) 1980年代，立法院的立法委員 (D) 1990年代，國會中的國大代表。(101學測)

**美援 = 1. 1948 因國共內戰情勢不利而中止. 2. 韓戰時 1950~1965 → 鐵路電氣化 1979完工**

(C) 50. 一位作家呼籲：希望作家不要身處危難，卻仍然成天做著新式或舊式的鴛鴦蝴蝶夢。我們要關心現實，寫我們的現實，主要一點便是反買辦、反崇洋媚外、反分裂的地方主義。這段話反映哪個時期臺灣的文學思潮？(A) 1950年代的反共文學 (B) 1960年代的現代文學 (C) 1970年代的鄉土文學 (D) 1980年代的浪漫文學。(101學測)

**指鄉土文學**  
**指反對受西方影響的現代主義**

(A) 51. 臺灣原本不產耕牛，主政者在南北兩路各設「牛頭司」，負責引進牛隻繁殖，以用於耕作。主政者並在各地修築水利設施，提供耕牛、農具與種籽；又大量招募「中土遺民」前來開墾。這是何時的情況？(A) 荷蘭時期 (B) 清領初期 (C) 日治時期 (D) 戰後初期。(101學測)

**除A外，餘皆未把漢人開墾 (消極治台) → 重心在改良品種 → 重心在生產的恢復及土地分配**

(A) 52. 日本軍方在一份布告書中說：「我軍所向，蕃人懾服。」但當要與清國議和之際，清國政府生出異議，未能立刻達成和議。「現在，兩國商議已決，即將接受清國請求而撤軍，並將該地人民交還清國。」這份布告書應當是：(A) 牡丹社事件後日軍的公告 (B) 日軍占領琉球之後的公告 (C) 甲午戰後日軍對臺的公告 (D) 日俄戰爭期間對東北公告。(101學測)

**B. C. 未撤兵. D. 與清廷無關**  
**1874年，日軍侵台，擊敗牡丹社及高士佛社，清廷派沈葆楨來台部署，並與日本簽〈北京專約〉，日撤兵**

(C) 53. 一份臺灣的考古報告記載：其居民主要住在水岸的稍高階地，已形成定居的小型聚落。他們使用石製的生產工具，如石鋤、石斧，種植根莖類的作物。這一文化分布地區廣及中國的閩南和廣東沿海。此文化遺址最可能是：(A) 長濱文化 (B) 網形文化 (C) 大坌坑文化 (D) 十三行文化。(101學測)

**[舊石器時代]** **[金屬器時代]**

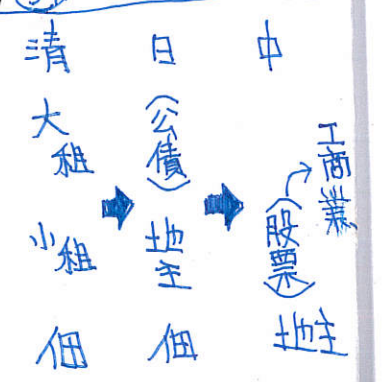
(C) 54. 近世臺灣開發以來，逐漸形成「大租戶——小租戶——佃戶」的土地所有與經營結構。某個時期，政府為了解決財政不足的問題，除了清查全臺土地，防止逃漏稅外，更以行政命令，剝奪某個層級地主的土地所有權，而以政府發行的公債以及現金作為補償。如此一來，政府得以向直接經營土地者徵稅，擴大徵稅對象，稅收也得以增加。這次土地所有權的變動最可能是指：(A) 鄭成功實施屯田制 (B) 劉銘傳行減四留六法 (C) 日本取消了大租權 (D) 國民政府三七五減租。(101學測)

**A. 軍屯. B. 劉銘傳本欲將地權給小租戶，引起反彈後，改用減四留六. D. 租金上限37.5%**

(C) 55. 臺灣總督在就職時指出：「本政府統治方針本於『臺灣為帝國領土之一部』的精神。我們應當啟發臺人之智能德操，使其感受朝廷一視同仁的美意，希望醇化臺人，使其與內地人融洽相處，進而使臺灣與內地無異。」這位總督最可能是：(102學測)

(A) 1895年接收臺灣，鎮壓抗日的樺山資紀 → 武力鎮壓  
(B) 1902年肅清「臺地匪亂」的兒玉源太郎 → 特別統治  
(C) 1919年結束軍事統治的文官總督田健治郎 → 內地延長  
(D) 1936年推動臺灣進入戰時體制的小林躋造 → 皇民化

**題幹「內地延長主義」**



(C) 56. 一首讚美臺灣風情的歌謠說：「海岸線長山又高，處處港口都險要。四通八達有公路，南北是鐵道，太平洋上最前哨，臺灣稱寶島。」介紹物產時指出：「四季豐收蓬萊米，農村多歡笑，白糖茶葉買賣好，家家戶戶吃得飽。鳳梨西瓜和香蕉，特產數不了，不管長住和初到，同聲齊誇耀。」這首歌謠創作的背景最可能是：(102學測)

(A) 1890年代，臺灣慶祝第一條鐵路通車典禮 (B) 1910年代，日本總督府完成縱貫鐵路建  
(C) 1950年代，臺灣實施經濟改革，漸有成效 (D) 1980年代，中共統戰歌謠，爭取臺灣民心。

**蓬萊米 1922 由磯永吉所培育. C. 土地改革 + 進口替代**

(D) 57. 下表為 1910 年到 1940 年間臺灣人口的統計資料。表中丙、丁代表的族群分別是：

| 年份   | 甲族群 (萬) | 比率 % | 乙族群 (萬) | 比率 % | 丙族群 (萬) | 比率 % | 丁族群 (萬) | 比率 % | 總計 (萬) |
|------|---------|------|---------|------|---------|------|---------|------|--------|
| 1910 | 306     | 92.9 | 1.48    | 0.4  | 12.2    | 3.7  | 9.8     | 3.0  | 329.9  |
| 1920 | 343     | 91.4 | 2.48    | 0.7  | 13.0    | 3.5  | 16.6    | 4.4  | 375.7  |
| 1930 | 425     | 91.0 | 4.66    | 1.0  | 14.0    | 3.0  | 23.2    | 5.0  | 467.9  |
| 1940 | 552     | 90.9 | 4.61    | 0.8  | 15.8    | 2.6  | 34.6    | 5.7  | 607.7  |

(A) 丙為臺灣人、丁為原住民 (B) 丙為外國人、丁為臺灣人 (102學測)  
(C) 丙為日本人、丁為外國人 (D) 丙為原住民、丁為日本人。

**甲族群佔絕對多數，漢人. 乙族群最少，外國人. 丙：緩慢增加，原住民. 丁：逐年增多，日本人**

(A) 58. 某一時期中，一位政治人物表示：臺灣經濟仍以農業為主，農民占人口總數 60% 以上，而佃農戶約占總農戶總額的 68.8%。如想要社會安定，經濟發展，必須實施此項新政策。此項新政策應是：(A) 三七五減租 (B) 漲價歸公 (C) 土地國有 (D) 肥料換穀。(103學測)

**A. 設定地租上限，穩定農村秩序. 孫文「平均地權」理想，未實施，以農業培養工業**

(D) 59. 一份民間刊物針對臺灣當時的政治現況提出幾點呼籲，包括：政府應依據憲法行政、總統不可擴權、總統不應連選連任；政府應保障基本人權，反對國民黨一黨專政，要求政府應當准許成立其他政黨；以及軍隊國家化。這份刊物最可能是：(103學測)

(A) 1910年代的《新青年》  
(B) 1920年代的《臺灣青年》  
(C) 1920年代的《臺灣民報》  
(D) 1950年代的《自由中國》

**雷震：不滿蔣中正連任總統. B. C. 日治時期雜誌，表達白人政治要求**

(C) 60. 某一時期中，臺灣某地曾經發生官民衝突，事件平定後，政府不僅嚴厲處分參與者，也連帶處罰其左鄰右舍，科以相當於一個工人半年工資的高額罰款。這種情形最可能發生於：(A) 荷蘭統治時期，因漢人人數較多，荷蘭人欲以連坐法威嚇 (B) 清朝統治時期，因財政短缺，欲以高額罰款彌補軍費不足 (C) 日本統治時期，為壓制臺民反抗政府，乃採行保甲連坐制 (D) 政府遷臺之後，為阻止共黨勢力蔓延，乃實施保甲連坐制。(103學測)

**未實施連坐法. 清代，聯庄制，教化游民. 搭配警察. 保甲防諜，課以刑責，非罰金**

(A) 61. 幾位同學考察「臺灣考古遺址分布圖」時，發現臺灣西部海岸很少有新石器時代遺址，各人紛紛推測造成這個現象的原因，下列哪個說法最合理？(103學測)

(A) 西部人口稠密，開發過速，遺址遭破壞殆盡 (B) 二次大戰時，美軍轟炸臺灣，遺址遭到破壞 (C) 西部海岸河口沙洲發達，史前人類活動困難 (D) 因斷層經過，地震頻繁，史前人類無法定居

**與遺跡形成無關. 未造成此現象**



- (C) 62. 瑞芳的金瓜石曾有座戰俘營，關押了一千多名來自英、美、加拿大等國的戰俘，被迫採掘銅礦。因為生活與工作條件都差，醫藥又不足，不少戰俘命喪於此。這些戰俘的來源應是：
- (A) 1860年英法聯軍之役中被俘虜的官兵 (無美、加軍隊)
  - (B) 1914年日本與德國開戰時俘虜的戰俘 (日本與英法同陣營)
  - (C) 1942年日本在東南亞戰區俘虜的戰俘 (太平洋戰爭期間：日 vs 英美)
  - (D) 1972年越戰期間臺灣收容的各國戰俘。(103學測) (台不會收北越的戰俘)
- 日軍於1942~1945年於金瓜石設立「捕虜監視所」，又稱「凸鼻仔寮」

- (A) 63. 中共史家對臺灣歷史上的重要人物施琅有頗多研究。1980年以前，這些史家稱施琅為「背叛明朝，投降滿清的漢奸」；1980年以後，改稱施琅「事親至孝，接受儒家薰陶」，是一位正面人物。他們對施琅評價轉變的最合理解釋是：(103學測)
- (A) 學者依當局政策，調整歷史解釋立場
  - (B) 引用西方觀點，拋棄道德史觀的框架
  - (C) 發現新史料，得以重新評估施琅功過
  - (D) 學術交流後，認同臺灣學者觀察角度。
- 1980之前，中共推崇，象徵「解放台灣」的戰成功。1980之後，中美建交，改主張「和平統一」

- (B) 64. 十八世紀中，閩南移民來臺後，多聚族而居；同姓之人，常共同興建祠堂，以強化關係。這種現象足以說明清代臺灣漢人社會的哪一項特色？(103學測)
- (A) 移墾社會重視地緣關係
  - (B) 傳統宗族強調血緣連結
  - (C) 弱勢移民強調團結合作
  - (D) 原鄉信仰深入移民社會。
- A、D 屬地緣關係  
C 未合作，常械鬥  
移民以祭祀同姓祖先來凝聚向心力。唐山祖 → 開台祖，重視血緣連結

- (A) 65. 日本統治臺灣初期，總督府認為男性留辮、女性纏足都為陋習，企圖禁止，但成效不彰。然而一段時間後，臺灣人民卻開始剪辮、放足，成為風潮。殖民官員檢討，認為這股風潮並非總督府的政策收效，而是受到其他因素影響。這位官員所指的因素最可能是：(103學測)
- (A) 辛亥革命推翻滿清政權
  - (B) 威爾遜提倡的民族自決
  - (C) 蔣中正推動新生活運動
  - (D) 七七事變引發中日戰爭。
- A. 1912. B. 1918  
C. 1934. D. 1937  
1900 台土紳提倡放足 ~ 1914 各地成立風俗改良會。→ 日本於1915明令禁纏足留辮

- (A) 66. 考古發掘顯示，臺灣早期人類原本有佩帶玉製飾品的習俗，距今將近兩千年前，開始出現各式玻璃、貝類珠串，其形制與東南亞海域各地居民之用品類似。近兩千年前臺灣出現玻璃與貝類飾品的主要原因是：
- (A) 海外貿易讓許多商品流入臺灣
  - (B) 玉礦枯竭，改以其他材質取代
  - (C) 臺灣居民征服他地所獲戰利品
  - (D) 新宗教傳入後，改變原有習俗。(104學測)
- B. 未枯竭. C. 部落間有戰爭，但未遠征東南亞. D. 仍為原始信仰

- (A) 67. 清中葉時，一位臺灣官員指出：臺灣科舉考試常有出人意料的狀況，例如政府公告考期之後，往往有福建漳、泉兩府的考生渡海來臺，報名參加考試。這些考生趕往臺灣報名應試的動機是：
- (A) 臺灣設有保障名額，較易中舉
  - (B) 臺灣考官腐敗，較易賄賂舞弊
  - (C) 在臺灣任官，薪水較內地優渥
  - (D) 臺灣物價較廉，來臺花費較低。(104學測)
- A 設有「台」字號，特別制度. B 考場在福建與台灣官員無關. D 台、日用品類中國(貴). C 迴避本籍.

- (B) 68. 1620年代，荷蘭西印度公司在今紐約市曼哈頓島上建立一座城堡，以保護移民與商人。同一時期，荷蘭東印度公司亦在臺灣建立城堡，作為貿易據點。荷蘭人在曼哈頓與臺灣建立據點的動機之一，是蒐購這兩個地方都出產的一種商品，以供歐洲市場之需。這種商品是：
- (A) 香料
  - (B) 獸皮
  - (C) 棉布
  - (D) 蔗糖。(104學測)
- ↓ 東南亞. 北美. 台灣. 北美. 台灣.  
獸皮: 北美、台灣  
毛皮: 北美、台灣

- (C) 69. 歐洲某國外交官員向其駐在國政府遞交一份文書，要求該國政府命令臺灣地方官員嚴辦士紳騷擾、侵害教士案件，並要求賠償禮拜堂房屋與家具損失。這份文書最可能出現於何時？
- (A) 1830年代，英商務監督照會福建巡撫
  - (B) 1850年代，法國領事照會臺灣府知府
  - (C) 1860年代，英駐華公使照會總理衙門
  - (D) 1910年代，法駐日公使照會日本政府。(104學測)
- 侵奪教士案件 → 1858 台灣開港後. 題幹為 1868 樟腦事件. 清 → 英商以麒麟. → 英軍砲轟安平. 清開放樟腦買賣. 傳教自由

- (C) 70. 官方調查指出：近來有農民因經濟困難或希望獲取高利，乃用訂立假借據的方式，以借款抵押名義，將政府放領的土地轉售給其他地主；更有人私自將耕地改建成店面，出租牟利，這種行為大大影響政府政策的效果。官方調查所指的政策應是：
- (A) 減四留六
  - (B) 三七五減租
  - (C) 耕者有其田
  - (D) 發展精緻農業。(104學測)
- 與土地無關. 劉銘傳. 訂租金上限  
C. 1953 為避免租佃關係. 讓共產有機可趁. 限制地主保留水田三甲. 旱田六甲. 餘由政府徵收. 再放領給佃農. 減少壓榨. 穩定農村

- (A) 71. 民國50年代，中華民國政府開始推動「外交下鄉，農業出洋」的國際合作計畫，邀請非洲友邦領袖來臺參訪農村，也派出農業專家與援外技術團隊到非洲。這個計畫的主要目的是：
- (A) 爭取非洲國家支持中華民國在聯合國的席位
  - (B) 開發當地天然資源，供應中華民國所需原料
  - (C) 輸出民主制度，促進非洲當地政治的現代化
  - (D) 推廣中華民國成功經驗，體現儒家學說價值。(105學測)
- B、C → 題幹僅提到農業. D 交流僅限技術層面.  
→ 1960 (民國50) 年代. 非洲新興國家建立期.

- (D) 72. 臺灣總督府發布命令，強制收購輸出的蓬萊米，收購價格比市場價格低一、二成左右，但又高於島內主要消費米的在來米價。這道命令的主要目的是：
- (A) 維護臺灣人食用在來米的文化傳統
  - (B) 官方訂定價格，維護臺灣農民權益
  - (C) 增加稻米輸出，確保總督府的收入
  - (D) 管控輸往日本的稻米數量以及價格。(105學測)
- 1. 低價收購：賺取價差. 2. 高於在來米：確保輸出. 戰時體制

- (B) 73. 歷史記載：「金娘，下淡水番婦，習符咒，為人治病。大軍攻鳳山時，聘請她為軍師。臨陣作戰時，要她唸符咒，祈求神佑。」後來大軍攻破鳳山城，大家都說金娘立了大功，被封為「一品柱國夫人」。金娘後遭生擒，送往北京。金娘參與的是：
- (A) 鄭成功抗清
  - (B) 林爽文事件
  - (C) 乙未抗日軍
  - (D) 二二八事件。(105學測)
- 下淡水 = 屏東. B. 林爽文. 由白牛攻入鳳山. A. 鄭成功僅在鳳山屯墾. C、D 不會送往北京.

- (D) 74. 1920年代，一位人士在法院受審時的答辯書中指出：製糖會社極盡榨取蔗農們的膏血，以致農民赤貧如洗；會社中的勞動者，一日勞動的報酬，不能維持家計，其慘澹的生活，令時常目擊的我，感到無限傷心，為此決定加入組織奮鬥。文中這位人士所提到的問題最主要是：
- (A) 家庭的崩潰
  - (B) 司法的迫害
  - (C) 族群的矛盾
  - (D) 經濟的剝削。(106學測)
- 題幹出自簡吉「台灣農民組合」遭總督府查禁後的答辯

- (B) 75. 某一時期，政府為了吸收民間存款，特別制定〈臺灣省各行庫舉辦優利儲蓄存款辦法〉，規定每次存入金額不得低於新臺幣300元，存期不得少於1個月，利率為月息7分（即每百元每月7元，年利率為84%，按複利折合年率為125.08%）。這個政策實施之後，儲蓄風氣盛行，物價上漲的速度立刻減緩。這種政策的背景是：
- (A) 1946年，政府因國共內戰需軍費，以高利率吸收民間存款
  - (B) 1950年，政府積極壓抑通貨膨脹，建立民眾對新臺幣信心
  - (C) 1951年，政府籌募公地放領的經費，高利率吸引民間資金
  - (D) 1971年，政府陸續推動大型交通建設，急需民間資金挹注。(106學測)
- A. 國共內戰. 通膨嚴重.  
C. 公地放領：釋放自有農地.  
D. 十大建設：向外國低利貸款資金. 發行公債.



(A) 76. 附表是1951年到1961年間臺灣農戶數百分比的統計表格，我們如何理解這段期間臺灣農戶資料的變化？  
 (A) 實施耕者有其田政策的成果 (B) 工業發展，使半自耕農減少 (C) 肥料價格上漲，自耕農棄耕 (D) 政府不斷鼓勵佃農放棄農業。(106學測)

| 時間   | 自耕農 | 半自耕農 | 佃農 |
|------|-----|------|----|
| 1951 | 38  | 25   | 37 |
| 1953 | 55  | 24   | 21 |
| 1955 | 59  | 23   | 18 |
| 1957 | 60  | 23   | 17 |
| 1959 | 62  | 23   | 15 |
| 1961 | 65  | 21   | 14 |

1953年耕者有其田  
 B. 工業發展 → 農業人口減少  
 C. 肥料換穀 → 沒取農村利潤  
 D. 非政府政策

(A) 77. 一位淡水海關稅務官員的報告中提到：臺北盆地修築了城牆，也蓋了新的衙門，又透過丹麥電氣工程師的協助，衙門裡裝設了電燈，各主要街道也架起了電燈。判斷這份報告在1880年代的主要依據是：  
 (A) 修城牆、電燈 (B) 海關、外國顧問 (C) 新衙門、海關 (D) 外國顧問、街道。(106學測)


1882 台北修城牆 (原日1875牡丹社事件後設台北府) 1884 台北城完工 裝設電燈  
 (新衙門)

(B) 78. 東北亞地區發生衝突之際，一位美國官員建議其政府，應當採取具體措施援助臺灣。他指出：「保衛臺灣人民利益及維護太平洋地區和平與安全的計畫，如果僅由聯合國推動，不可能有任何效果。只能由美國提這種方案，才會符合各方期待而且有效。」此人說話的時機最可能是：  
 (A) 1947年，臺灣發生動亂，美國計畫穩定臺灣局勢 (B) 1951年韓戰爆發之後，美國決定強化其東亞政策 (C) 1971年我退出聯合國時，美國努力安定臺灣民心 (D) 1978年底中美斷交時，美國要保障其在臺灣利益(107學測)

1950.6月韓戰爆發 美派第七艦隊協防台灣  
 1954 簽中美共同防禦條約 維持台海中文化原則

◎照片 4 甲是臺灣某地公廨改建的「太上龍頭忠義廟」；照片 4 乙是該廟的內部。祭壇供桌上有香爐、供花、長年燈和五個包裹紅色綢布的祀壺等，兩側還有稱為向缸的大水缸。請問：

(B) 79. 「祭壇供桌上的祀壺和兩側的向缸」，和下列何者關係最密切？  
 (A) 客家移民崇祀三山國王 (B) 平埔族群信仰的阿立祖 (C) 科舉考生祭拜文昌帝君 (D) 沿海漁村供奉媽祖娘娘(107學測)



阿立祖：西拉雅族對祖靈的稱呼  
 西拉雅族分布於台灣南部，有「拜壺民族」之稱

○明清之際，移民臺灣的漢人多來自漳州、泉州、嘉應州、潮州和惠州等地區。圖7是根據1926年《臺灣在籍漢民族鄉貫別調查》的資料，以街、庄為單位繪製的「祖籍優佔區」分布圖。祖籍優佔區係指某一祖籍人口佔該地總人口比例最高的地區。(107學測)

甲：內部平原，漳州人  
 乙：沿海平原，泉州人  
 丙、丁、戊：丘陵 → 客家人

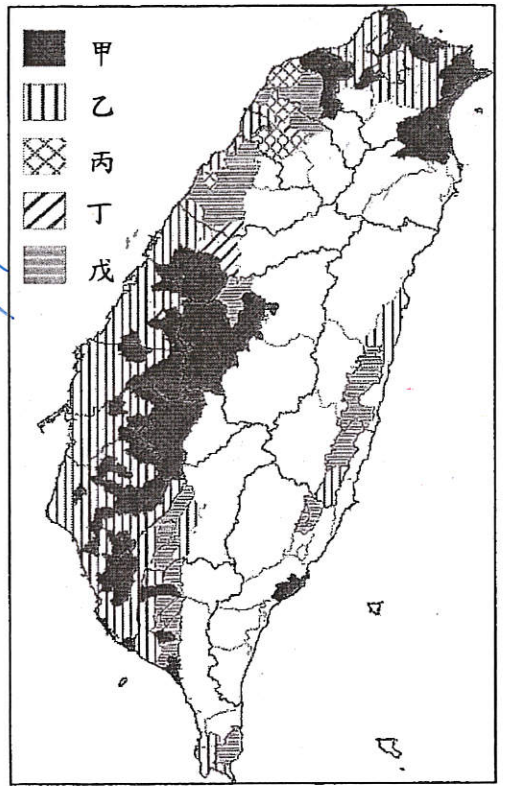


圖 7

(A) 80. 圖7中哪個圖例，最可能代表漳州的優佔區？  
 (A) 甲 (B) 乙 (C) 丙 (D) 丁

(B) 81. 清代某地方志對民間王爺信仰有如下記載：「各坊里社廟，以王公大人稱者甚夥...廟宇大小不一，神像俱雄而毅；...王誕之辰，設王醮二三晝夜，謂之送瘟。造木為船，糊紙像三儀仗...告牒畢，乃奉各紙像置船中...推船入水順流揚帆而去則已。」該王爺信仰在哪祖籍優佔區最為普遍？  
 (A) 甲 (B) 乙 (C) 丙 (D) 丁

王爺信仰：燒王船，象徵驅趕瘟疫

→ 瘟疫盛行於西部沿海濕熱地區

(D) 82. 下表為臺灣自民國 55 年到 60 年某項資料。這項資料最可能是：  
 (A) 農業生產占全國生產總值的比例 (B) 農村地區電力照明設備的普及率 (C) 美援麵粉成為國民主食的普及率 (D) 小學畢業生進入初(國)中的比例

A. 1950年代，以農業培養工業  
 農業生產總值應下降

B. 1950年代，推行鄉鎮電氣化下，電力普及達99.7%

| 年代(民國) | %     |
|--------|-------|
| 55年    | 58.95 |
| 56年    | 62.29 |
| 57年    | 74.66 |
| 58年    | 76.04 |
| 59年    | 79.81 |
| 60年    | 81.39 |

+3.34  
 +12.37  
 +1.38  
 +3.77  
 +1.58

C. 米飯仍為台灣人主食

D. 1968.(民57) 通過九年國民教育實施條例

(D) 83. 一件史料記載：淡水廳某士紳因與佃農發生糾紛，乃強制將佃農耕種的田地收回，另行轉租給別的佃農耕種，以致激起民間鬥殺；該士紳還招募壯勇四出焚搶。朝廷認為該士紳為富不仁，目無法紀，下令閩浙總督將該士紳革職逮捕，押解到省城嚴行審辦。該史料記載的事件最可能是：  
 (A) 民眾發動反清復明的民變 (B) 天地會領袖發動抗清行動 (C) 客家居民組成的抗日行動 (D) 地方人士參與的分類械鬥(108學測)

題幹敘述為械鬥，A、B屬民變，C抗日

(C) 84. 下列哪些臺灣鄉鎮市區級地名的變遷，最能反映解嚴後政府及社會對多元族群及其文化的尊重態度？  
 (甲) 吉野 → 吉安；(乙) 三民 → 那瑪夏；(丙) 番社 → 東山；(丁) 吳鳳 → 阿里山；(戊) 紅毛 → 新豐。  
 (A) 甲乙 (B) 甲丙 (C) 乙丁 (D) 丁戊(108學測)

甲：去日本化

乙：原住民族認同意識

丙：以東側有山，更名為東山

丁：對吳鳳神化的反思

吳鳳神化：捨身教化，為住民

戊：紅毛為荷蘭人於此處登陸為名



85-86為題組

◎ 史料記載：某年1月11日，駐守臺灣的長官率領353人分乘3艘戎克船從位於臺灣南部的政治中心出征。船隻沿海岸向南航行時，兩艘船隻觸礁，損失一些食物。軍隊乃在島嶼西岸下船整補，從陸路越過山脈到島嶼東岸。在東岸某村社整補兩天後，沿海岸線北上，攻擊山區另一村社，達成出征目的後才撤軍，並再度越過山脈返回島嶼西岸。軍隊在海邊某村社露宿時，曾受當地社民以米飯、豬肉和雞肉款待。請問：(108學測)

- (A) 85. 根據題文資訊及歷史知識推論，該史料最可能描述的是：(A)荷人至東臺灣探金與原住民引發衝突 (B)明鄭時期屯墾時和大肚王國發生衝突(C)清福建水師提督到東部追擊海盜蔡牽 (D)日本警察與阿美族衝突的七腳川事件


B.C 方向不對. 大肚王國在白南以北, 追擊蔡牽一樣是向北再向東. D. 日治已為輪

- (A) 86. 從史料內容可看出當時「村社」社會的哪一特徵？(A)某些村社應已經發展出稻作農業 (B)部分村社間已建立軍事同盟組織 (C)不同村社間已有穩定的貿易關係 (D)村社的土地制度屬於部落共有制

B.C.D 皆無法從史料中看出

87-89為題組

◎ 臺灣各地聚落廟宇甚多，規模不一，其門柱均附有對聯，揭示廟宇地點、主祀神及價值規範等相關訊息。照片是四個不同聚落廟宇的立面照，照片下方是該廟大門兩側門柱的對聯，其中照片甲對聯中「鯤鵬」是「傳說中奇大無比的神鳥」；照片乙對聯中「鯤瀛」是「海邊的新家園」之意。請問：(108學測)



庄瀛

單漳聖王

- (D) 87. 哪座廟宇的所在地，早期血緣聚落色彩最為濃厚？(A)甲(B)乙(C)丙(D)丁
- (B) 88. 從廟宇的主祀神判斷，哪座廟宇所在聚落的清代漢移民，主要來自福建漳州府？(A)甲(B)乙(C)丙(D)丁
- (A) 89. 歷史傳統上常常將國家概念與王權或天下連結，並強調人民對國家的義務。下列四座廟宇中，哪座廟宇的門柱對聯最能顯示此種傳統的國家與人民關係？(A)甲(B)乙(C)丙(D)丁

二、中國史

(B) 1. 今人研究中國古史，多有「傳說時代」的觀念，某學者說：「從現在的歷史來看，只有到殷墟時代，才能算作進入了狹義的歷史時代。」此處所謂「狹義的歷史」是指「信史」。這位學者的意見反映了二十世紀中國歷史學家的史學方法，請問這位學者以殷墟時代為「傳說時代」與「信史」間之分野的理由何在？(A)因為中國文獻中沒有關於殷墟時代以前的記載，故只有憑藉殷墟甲骨文的出土，我們才能得知商以前的歷史 (B)雖然中國文獻中有許多關於殷墟時代以前的記載，但學者認為必須配合地下文物的出土，才能被證明為信史 (C)中國的考古發現中最早文物出自殷墟，且歷史研究的唯一根據是地下出土的文物，故中國的信史始自殷墟 (D)中國文化淵源於殷商文化，在殷墟時代以前的歷史多非中國文化，故不是中國史的一部分。(91 學測)

1. 殷墟之前有二里頭文化. 2. 王國維. 二重證據法. 地上文獻 + 地下遺蹟.

(A) 2. 一位先秦思想家的著作中有〈禮論〉一篇，說明「禮」的起源是因為人各有所欲求，故彼此爭奪，結果發生亂事，於是統治者才制定「禮義」，以確立每個人應遵行的分際。請問這本著作是：(A)《荀子》禮 (B)《墨子》兼愛 (C)《韓非子》法 (D)《莊子》逍遙 (91 學測)

(C) 3. 某一本歷史著作有如下的敘述：「在萬曆的祖父嘉靖皇帝以前，大學士為三至六人，皇帝可能對其中一人諮詢較為頻繁，但從名義上說，他和另外的幾位大學士仍處於平等的地位。這以後的情況發生了變化，張居正名為首輔或稱元輔，其他大學士的任命則出於他的推薦，……」請問其所指的制度為何？(A)漢代內外朝 (B)唐代三省制 (C)明代內閣制 (D)清代八旗制度。(91 學測)

出處：黃仁宇《萬曆十五年》內外朝 書門尚書 大學生：票擬 兵制 司禮監：批紅

(B) 4. 有一項法令規定：禁止隴西李氏、太原王氏、滎陽鄭氏、范陽盧氏、清河崔氏等當今政治上顯赫的家族之間彼此通婚。請問該法令頒布的時代可能是：(A)漢代 (B)唐代 (C)元代 (D)清代。(91 學測)

世族源自漢代. 經魏晉加強下. 唐代達鼎盛. 唐太宗編《氏族志》重訂世族地位. 唐高宗禁止世族間通婚.

(B) 5. 在一份與戶籍登錄有關的古文書記載：「戶主余善意，年二十二歲，……擁有二十畝永業田，二十八畝已受，七畝口分田，總計應受田一頃六十一畝，一畝居住園宅，一頃三十三畝未受……。」請問這份文書反映的制度為何？(A)王莽的王田制度 (B)唐代的均田制 (C)北宋的青苗法 (D)明代的一條鞭法。(91 學測)

土地國有 源自北魏孝文帝 桑田(永業田) 露田(口分田) 張居正：簡化稅制 唐朝 王安石：借貸

(C) 6. 張三編寫的歷史劇「七世紀商人李生傳奇」，被學者批評其史實錯誤連連。劇中有以下幾段情節，請依據歷史知識判斷，哪一個選項依據的是正確的史實？(A)李生到長安做生意，他選擇了位在長安城南，面對長安大街的住家，並改裝為店面 (B)接著李生來到蘇州，蘇州城內會館林立，李生在會館內認識了許多同鄉 (C)後來李生在廣州經營奇珍異寶的貿易，接觸的商人包括阿拉伯人，聽到許多阿拉伯軼聞 (D)最後，李生來到漳州，經營海外貿易，將中國的絲織品運往呂宋島銷售。(91 學測)

A. 唐為坊市分離. D. 明代. 西班牙人占呂宋. B. 明清才有會館 (商幫). 以日銀換取漳州絲

(A) 7. 自鴉片戰爭以後，中國知識分子多主張「師夷長技」以改革中國，而不同時代的知識分子認識的西方「長技」卻有不同。中國欲效法的西方長處，依時間先後順序排列，下列何者適當？(A)器物→政治制度→西方思潮 (B)器物→西方思潮→政治制度 (C)宗教信仰→政治制度→西方思潮 (D)政治制度→宗教信仰→器物。(91 學測)

1861 → 1898 → 1915  
自強 戊戌 新文化運動  
器物 制度 思想