

85-86為題組

◎ 史料記載：某年1月11日，駐守臺灣的長官率領353人分乘3艘戎克船從位於臺灣南部的政治中心出征。船隻沿海岸向南航行時，兩艘船隻觸礁，損失一些食物。軍隊乃在島嶼西岸下船整補，從陸路越過山脈到島嶼東岸。在東岸某村社整補兩天後，沿海岸線北上，攻擊山區另一村社，達成出征目的後才撤軍，並再度越過山脈返回島嶼西岸。軍隊在海邊某村社露宿時，曾受當地社民以米飯、豬肉和雞肉款待。請問：(108學測)


(A) 85. 根據題文資訊及歷史知識推論，該史料最可能描述的是：(A)荷人至東臺灣探金與原住民引發衝突 (B)明鄭時期屯墾時和大肚王國發生衝突(C)清福建水師提督到東部追擊海盜蔡牽 (D)日本警察與阿美族衝突的七腳川事件

B.C 方向不對. 大肚王國在台南以北, 追擊蔡牽一樣是向北再向東. D. 日治已為輪

(A) 86. 從史料內容可看出當時「村社」社會的哪一特徵？(A)某些村社應已經發展出稻作農業 (B)部分村社間已建立軍事同盟組織 (C)不同村社間已有穩定的貿易關係 (D)村社的土地制度屬於部落共有制 B.C.D 皆無法從史料中看出

87-89為題組

◎ 臺灣各地聚落廟宇甚多，規模不一，其門柱均附有對聯，揭示廟宇地點、主祀神及價值規範等相關訊息。照片是四個不同聚落廟宇的立面照，照片下方是該廟大門兩側門柱的對聯，其中照片甲對聯中「鯤鵬」是「傳說中奇大無比的神鳥」；照片乙對聯中「鯤瀛」是「海邊的新家園」之意。請問：(108學測)



庄瀛

開漳聖王

(D) 87. 哪座廟宇的所在地，早期血緣聚落色彩最為濃厚？(A)甲(B)乙(C)丙(D)丁
(B) 88. 從廟宇的主祀神判斷，哪座廟宇所在聚落的清代漢移民，主要來自福建漳州府？(A)甲(B)乙(C)丙(D)丁
(A) 89. 歷史傳統上常常將國家概念與王權或天下連結，並強調人民對國家的義務。下列四座廟宇中，哪座廟宇的門柱對聯最能顯示此種傳統的國家與人民關係？(A)甲(B)乙(C)丙(D)丁

二、中國史

(B) 1. 今人研究中國古史，多有「傳說時代」的觀念，某學者說：「從現在的歷史來看，只有到殷墟時代，才能算作進入了狹義的歷史時代。」此處所謂「狹義的歷史」是指「信史」。這位學者的意見反映了二十世紀中國歷史學家的史學方法，請問這位學者以殷墟時代為「傳說時代」與「信史」間之分野的理由何在？(A)因為中國文獻中沒有關於殷墟時代以前的記載，故只有憑藉殷墟甲骨文的出土，我們才能得知商以前的歷史 (B)雖然中國文獻中有許多關於殷墟時代以前的記載，但學者認為必須配合地下文物的出土，才能被證明為信史 (C)中國的考古發現中最早文物出自殷墟，且歷史研究的唯一根據是地下出土的文物，故中國的信史始自殷墟 (D)中國文化淵源於殷商文化，在殷墟時代以前的歷史多非中國文化，故不是中國史的一部分。(91 學測)

1. 殷墟之前有二里頭文化. 2. 王國維. 二重證據法. 地上文獻 + 地下遺蹟

(A) 2. 一位先秦思想家的著作中有〈禮論〉一篇，說明「禮」的起源是因為人各有所欲求，故彼此爭奪，結果發生亂事，於是統治者才制定「禮義」，以確立每個人應遵行的分際。請問這本著作是：(A)《荀子》禮 (B)《墨子》兼愛 (C)《韓非子》法 (D)《莊子》逍遙 (91 學測)
禮起於有也，曰：人生而有欲，欲而不得，則不能無求，求而無度量分界，則不能不爭。

(C) 3. 某一本歷史著作有如下的敘述：「在萬曆的祖父嘉靖皇帝以前，大學士為三至六人，皇帝可能對其中一人諮詢較為頻繁，但從名義上說，他和另外的幾位大學士仍處於平等的地位。這以後的情況發生了變化，張居正名為首輔或稱元輔，其他大學士的任命則出於他的推薦，……」請問其所指的制度為何？(A)漢代內外朝 (B)唐代三省制 (C)明代內閣制 (D)清代八旗制度。(91 學測)

出處：黃仁宇《萬曆十五年》內 外 相 書 門 尚 書 下 書 < 大學士：票擬 司禮監：批紅 兵制

(B) 4. 有一項法令規定：禁止隴西李氏、太原王氏、滎陽鄭氏、范陽盧氏、清河崔氏等當今政治上顯赫的家族之間彼此通婚。請問該法令頒布的時代可能是：(A)漢代 (B)唐代 (C)元代 (D)清代。(91 學測)
世族源自漢代，經魏晉加強下，唐代達鼎盛。唐太宗編《氏族志》，重訂世族地位，唐高宗，禁止世族間通婚。

(B) 5. 在一份與戶籍登錄有關的古文書記載：「戶主余善意，年二十二歲，……擁有二十畝永業田，二十八畝已受，七畝口分田，總計應受田一頃六十一畝，一畝居住園宅，一頃三十三畝未受……。」請問這份文書反映的制度為何？(A)王莽的王田制度 (B)唐代的均田制 (C)北宋的青苗法 (D)明代的一條鞭法。(91 學測)
土地國有 源自北魏孝文帝 桑田(永業田) 露田(口分田) 張居正：簡化稅制 唐朝 王安石：借貸

(C) 6. 張三編寫的歷史劇「七世紀商人李生傳奇」，被學者批評其史實錯誤連連。劇中有以下幾段情節，請依據歷史知識判斷，哪一個選項依據的是正確的史實？(A)李生到長安做生意，他選擇了位在長安城南，面對長安大街的住家，並改裝為店面 (B)接著李生來到蘇州，蘇州城內會館林立，李生在會館內認識了許多同鄉 (C)後來李生在廣州經營奇珍異寶的貿易，接觸的商人包括阿拉伯人，聽到許多阿拉伯軼聞 (D)最後，李生來到漳州，經營海外貿易，將中國的絲織品運往呂宋島銷售。(91 學測)
A. 唐為坊市分離. D. 明代，西班牙人占呂宋 B. 明清才有會館 (商幫) 以日銀換取漳州絲

(A) 7. 自鴉片戰爭以後，中國知識分子多主張「師夷長技」以改革中國，而不同時代的知識分子認識的西方「長技」卻有不同。中國欲效法的西方長處，依時間先後順序排列，下列何者適當？(A)器物→政治制度→西方思潮 (B)器物→西方思潮→政治制度 (C)宗教信仰→政治制度→西方思潮 (D)政治制度→宗教信仰→器物。(91 學測)

1861 → 1898 → 1915
自強 戊戌 新文化運動
器物 制度 思想

(D) 8. 以下記載是中國正史對外族的描述：

<衛子將單于傳>《史記》：「(匈奴)逆天理，.....以盜竊為務，.....苟利所在，不知禮義。」
<匈奴傳>《漢書》：「夷狄之人，貪而好利，被髮左衽，人面獸心。」
<回紇傳>《新唐書》：「(回紇)貪婪尤甚，以寇抄為生。」 → 其實是《新唐書》

關於史料中所謂「盜竊」或「寇抄」的討論，以下選項何者適當？ (A)因為游牧民族生活貧困，嚮往農業民族的生活方式，常以劫掠的手段取得經濟利益，故外族入侵的確是盜賊的行為 (B)外族有盜賊的天性，道德有嚴重缺陷，在這種民族性的驅使下，不斷入侵農業民族，故外族入侵的確是盜賊的行為 (C)這些記載都出自中國統治階層，是農業民族對於游牧民族的刻板印象，並非實情，游牧民族根本不需要入侵農業民族 (D)外族的不斷入侵，正史的記載反映了農業民族的憤怒，只是傳統正史不考慮游牧民族的立場及游牧社會的經濟特性。(91 學測)

明亡清興之際

(C) 9. 從十七世紀中葉一直到二十世紀初，中國人口從 1 億 5 千萬增加到 4 億以上，最主要的原因何在？ (A)沒有發生導致人口大量減少的戰亂 (B)人民生育能力提高 (C)農作物種類與產量增加 (D)領土大規模擴張。(91 學測)

(A) 內有流寇 外有女真 戰亂多 (B) 未出現 (D) 明 → 清 領土無大規模擴張

(B) 10. 一位歷史學家在一篇研究近代中國史的論文中，描述某一事件：「最重要的就是愛國主義運動一反帝國主義運動。.....爭回我國在青島的主權；另一方面是促使青年人的自我覺醒。.....《新青年》發行以後，啓蒙的中心思想凝聚在強調青年人的重要性上.....」請問此事件是： (A)辛亥革命 (B)五四運動 (C)蘆溝橋事變 (D)文化大革命。(91 學測)

1898 德強租膠州灣 建立民國
1915 一戰 日出兵山東 提出《二十一條》
1919 巴黎和會 山東予日 → 五四運動

(A) 11. 北京有一座天主教堂，在某次亂事中因為庇護信徒，遭到圍攻，死傷甚眾。事後中國政府必須出資修復。這最可能是在哪一場亂事中發生的情況？ (A)義和團事件 (B)文化大革命 (C)七七事變 (D)太平天國之亂。(92 學測)

拜上帝會 未攻擊教堂 [西什庫天主堂 吃麵不擱醬 炮打交民巷]
扶清滅洋 1966 毛奪權 抗日之始

(A) 12. 有位史家評論戰國時期的學說：「戰國時代，諸子百家風行一時。各家中有順勢而活動的，想要因法勢利導，借助權力來改造社會；也有逆勢而動的，知其不可而為，想依據理想來改造社會。」請問「逆勢而動的，知其不可而為，想依據理想來改造社會」的，最可能是哪一家的想法？ (A)墨家 (B)縱橫家 (C)法家 (D)農家。(92 學測)

小廉偉墨大同 不獨親其親 不獨子其子
各親其親 各子其子

(A) 13. 如果我們檢視 1920 年青島海關的年度報告，會發現當時經由青島進入中國的貨物以哪一國的產品為主？ (A)日本 (B)德國 (C)英國 (D)美國。(92 學測)

(如第 10 題) 1898 德 1915 日 1921 華盛頓會議

(B) 14. 一群住在冀州(河北)的人們，為了躲避戰禍，移居到了南方揚州境內。政府特別在揚州境內設置一個也名為「冀州」的地方政府，這群人的戶籍不屬於揚州地方政府管轄，而屬於這個增置的冀州地方政府。請問這種現象最可能出現在哪一個時代？(A)漢魏 (B)南朝 (C)隋唐 (D)宋明(92 學測)

永嘉之禍後 北人南遷 設「僑郡」「僑縣」 → 東晉 土斷

(A) 15. 一位大臣向皇帝建議降低賦稅，指出這項稅法實施之初，一匹絹合四千錢，所以，稅額萬錢的人家只要繳納絹二匹半；現在一匹絹合八百錢，這戶人家竟要繳納十二匹絹。根據該大臣的說法，這是關於哪個稅法的討論？(A)唐代兩稅法 (B)唐租庸調法 (C)明一條鞭法 (D)宋代青苗法。(92 學測)

陸贄 → 唐德宗 反對兩稅法 農民拿米布換錢 商人壓低米布價 → 變相加稅

楊炎兩稅法 與不加斂而增人 與不加斂而增其賦

(C) 16. 史書記載：漢景帝時，景帝的弟弟梁孝王入宮晉見，皇帝相當親熱，得知梁孝王有五位兒子，便賜給他們五人侯爵之位，並賞賜許多物品。梁孝王死後，景帝將梁孝王所遺之國分為五份，每位侯爵一份，又把他們的爵位通通提升為王。歷史學者讀到這段故事，最恰當的解釋是： (A)皇帝友愛兄弟，也疼愛子姪，所以要提升他們爵位 (B)皇帝擔心外患，所以要加強位在邊境的梁國屏障功能 (C)皇帝擔心梁國成為帝國心腹之患，所以實施「眾建」 (D)皇帝推行開發邊疆政策，所以要邊境國梁國多發展。(92 學測)

高祖 → 文帝 → 景帝 → 武帝 → 推恩眾建
郡國並行 (實績) 眾建 (景帝) 削藩 (武帝)

(C) 17. 某人觀察他周邊事物的變化：過去北方人習慣吃麵食，南方人則偏好米食，但近幾年來，江浙地區的城市街坊上出現不少販賣麵食的店家，農民也普遍將小麥作為主要作物，與水稻連作，以牟取利潤。這種變化最早可能發生在哪個時期？ (A)東晉 (B)中唐 (C)南宋 (D)明代。(92 學測)

坊市制度破壞：宋 重心南移：永嘉之禍 安史之亂 靖康之難

(D) 18. 有一本書表列了某地居民的職業結構，如下表：

	自耕農·地主	佃農	工人	商人
占總人口比例	24%	36%	30%	10%

工商業發達

這種職業結構最可能出現在何時何地？ (A)漢代江南地區 (B)唐代關中地區 (C)宋代關中地區 (D)明代江南地區。(92 學測)

農為主 農為主 農為主
大航海時代下 加入世界貿易體系

(D) 19. 一位政治人物說：「中國當然希望日本勝利。應當怎樣對日本進行協力，這是國民政府最苦心思慮的事情。」又說：「自從和平運動展開以來，英、美變本加厲，極盡挑撥之能事，使重慶方面執迷不悟，多方作梗。」所以主張向英、美進擊。這種言論最可能出現於何時？出於何人之口？ (A)八國聯軍之時，張之洞等督撫主張聯合日本，以求自保 (B)第一次世界大戰，孫中山主張聯合日本，對抗西方強權 (C)抗戰初期，共產黨員主張與日本合作，共同對抗蔣中正 (D)汪精衛建立偽政權之後，主張對日和平，共同對抗英美。(92 學測)

1933 年 長城戰役 25 vs 92 汪 深感中日差距 1938 響應 日相近衛文磨 主張中止抗戰 對日求和 和未以大敗 和未以大亂

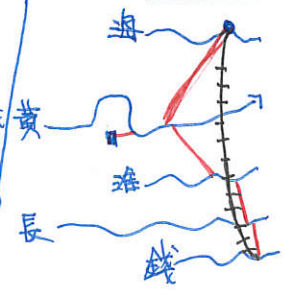
(B) 20. 明太祖曾經想把孟子的牌位搬出孔廟。《孟子》一書中哪一句話最可能招致明太祖對孟子的不滿？ (A)「王何必曰利？亦有仁義而已矣。」 (B)「君之視臣如土芥，則臣視君如寇讎。」 (C)「非其君不事，非其民不使；治則進，亂則退，伯夷也。」 (D)「長君之惡，其罪小；逢君之惡，其罪大。」(92 學測)

(C, D) 21. 近幾世紀以來，長江從一條溫馴的河川變成一條「暴河」，每到夏天雨季來臨，動輒洪水為患，損傷人命，毀壞財物。對於此種現象的解釋，何者較為恰當？ (A)宋代在長江沿岸開發梯田，導致長江流域的水土保持遭受破壞 (B)蒙古人修築大運河，對長江水系破壞甚鉅，導致洪水無法排除 (C)明代中後期甘薯等新作物的引進，導致長江中游山地過度開發 (D)明清兩代開發雲南、貴州，導致長江上游的生態環境遭受破壞。(92 學測)

玉米 番薯 馬鈴薯 美洲作物於明代中後期引入 適應性強 且不和稻爭地 → 加速開發 → 破壞生態

(B) 22. 近代中國雖不斷遭受帝國主義侵略，但並沒有像印度一般，全國都變成了殖民地。這與下面何者最為有關？ (A)俄國主張遠東政策，積極在亞洲從事政治活動 (B)美國主張門戶開放政策，讓所有國家公平參與 (C)美國提出十四點和平計畫，希望廢止秘密外交 (D)日本提倡「大東亞共榮圈」，帶領亞洲抵抗侵略。(92 學測)

A. 西伯利亞 → 太平洋 (蒙古 東北)
B. 美 駐華公使 柔克義 → 國務卿 海約翰 (英支持) 1921 華盛頓會議 九國公約 (收回山東)
C. 威爾遜 未落實
D. 日本 合理化 二戰時的侵略亞洲各國行為



(C) 23. 有一副對聯：「白話通神，紅樓夢、水滸，真不可思議。」古文討厭，歐陽脩、韓愈，是什麼東西。」這樣的對聯最可能出自誰的手筆？ (A)日據時代臺北帝大的學生 (B)清末就讀同文館學的學生 (C)民國初年北京大學的學生 (D)文革時期參與串聯的學生。(93 學測)

新文化運動
提倡白話文

取材自 清末民初學者林紘《妖夢》
「破四舊，立四新」

(A) 24. 清末一位學者留學日本，研習法律與政治。他主張「民主革命富於破壞，中國已有東亞病夫之名，不堪服猛劑以招危亡。英日兩國皆以君主立憲而強，可資借鏡。」以下清末民初許多言論中，何者與該學者的主張一致？ (A)古代的周召共和實為君主政體 (B)革命排滿是必要而非仇殺報復 (C)天賦人權說就是主張共和體制 (D)民國主權的基礎本於全體國民。(93 學測)

懸幹
君主立憲
革命排滿

(A) 勞乃宜《共和正解》：支持君主立憲，
B 胡漢民《民報·序文》：革命排滿，非仇殺報復，乃民族根本解決之舉

(C) 25. 港口邊的大街上，人群熙來攘往，偶爾夾雜幾位金髮碧眼的外國人。他們走進街旁的商行裡，和商行裡等待交易的茶商討論該地生產即將上市的春茶價格。對面的商家陳列著剛剛由洋船運抵的紡織品，吸引了大批逛街的民眾，爭相詢問款式與價格。這個場景最可能出現在何時何地？ (A)1800年，廣州 (B)1840年，上海 (C)1880年，淡水 (D)1940年，天津。(93 學測)

跨時空

A 雖已開港，但交易透過公行。 B 未開港。1842 C. 已開港 1858. D. 戰爭，日軍佔領

(D) 26. 某地洪水為患，消息上報朝廷後，皇帝一方面交待工部儘速搶修潰決的堤防，勿使水患繼續擴大；另一方面責成戶部儘速調度糧食，運往災區，賑濟災民。幕僚根據皇帝之意，寫成詔書，經皇帝確認無誤後，直接送至工部、戶部等單位執行。這是哪個時期的制度？ (A)秦漢 (B)隋唐 (C)宋元 (D)明清。(93 學測)

皇帝直掌六部，無須透過宰相，可見已廢相。

(C) 27. 學者指出：中國古代的世族原本散居各地，以農村為根據地，成為當地地方政府官員的主要來源。如果有機會的話，他們也會爭取在朝廷任職。即使在中央政府任職，死後大多會歸葬家鄉的祖墳。但是，「自某個時期起」，因為制度的變遷，許多世族成員逐漸遠離家鄉，居住在首都附近，而且不再歸葬祖墳。根據你的歷史知識，這位學者所謂「自某個時期起」最可能是： (A)秦漢 (B)魏晉 (C)隋唐 (D)宋元。(93 學測)

兩漢察舉 → 魏晉九品中正制 = 世家大族 → 隋唐科舉 → 不在官

(A) 28. 某個朝代開國數十年後，一位大臣上書皇帝，痛陳當時政府承襲前朝法令，強制百姓分家，以致社會風氣敗壞，父子間形同路人。根據你的歷史知識，這個大臣可能是哪個時代的人？ (A)漢代 (B)唐代 (C)宋代 (D)明代。(93 學測)

商君遺禮義，棄仁恩，并心於進取，行之二歲，秦俗日敗。故秦人家富子壯則出，家貧子壯則出贅。

(B) 29. 漢武帝獨尊儒術，可能原因之一是當時儒學的某些觀點，與漢武帝的政治意圖相契合。以下哪一種論點最可能符合漢武帝當時的政治意圖？ (A)孟子強調民貴君輕，有助於漢武帝強化其統治的合理性 (B)《春秋·公羊傳》強調大一統觀念，可作為削弱諸侯王的依據 (C)天人感應說強調帝國萬世一系，符合漢帝國的統治利益 (D)強調禮制的儒學有助於維護貴族世家之利益，鞏固政權(93 學測)

漢武帝即位困境：1 貴族大臣 2 諸侯 3 匈奴

(A) 30. 中央政府認為應嚴格管制社會上到處流動的士人，以免他們違法亂紀，造成政治與社會秩序的不安；並要求地方政府應確實統計這些人的活動紀錄，在每年年底呈報給中央政府。這個現象最可能出現在哪個時期？ (A)戰國秦漢 (B)魏晉隋唐 (C)宋元時期 (D)明清時期。(93 學測)

游士 士族 士大夫 士紳

(C) 31. 如果你是一位元代的學者，在思想上深信「心」是世界的本源，而要了解宇宙的真相，只須向內探索，不必向外格物窮理。請問你會特別肯定何人的學說？ (A)張載 (B)朱熹 (C)陸九淵 (D)王陽明。(94 學測)

北宋五子：周、邵、張、程、呂
南宋：程、陸、朱、王
明：王守仁(陽明)

(B) 32. 文化的傳承有因襲，也有損益，即使歷經百世，其因襲損益仍有脈絡可循。殷商文化距今已逾三千年，但在當代華人社會中，仍可見其傳承脈絡，其中最顯著的是下列何者？ (A)婚喪禮俗 (B)干支紀時 (C)甲骨占卜 (D)宗法制度。(94 學測)

嫡長子繼承制

(D) 33. 某大臣力排眾議，主張積極改革，強調：「文化輸出國不必自傲，文明輸入國也不必自卑，某一國文化為別一國所吸收，這種輸入品即為吸收者所擁有。譬如人吃豬肉，消化後變成人的血肉，誰能懷疑吃豬肉的人，他的血肉是豬的血肉而不是人的呢？」這位大臣最可能出現在哪一朝代？ (A)唐代 (B)宋代 (C)明代 (D)清代。(94 學測)

清末之前的改革，為閉關式的改革，清末魏源提出「師夷長技以制夷」

(D) 34. 日本某古寺留存有一份珍貴文件記載：「癸丑，春三月，明州（今寧波）來船二艘。其中，祥興號滿載絲綢、陶瓷，另附銅錢七萬，《史記》、《漢書》、《三國志》各十部；《四書集注》百部；佛教經典數百部。」這一份文件最早可能出現於哪一朝代？ (A)漢代 (B)唐代 (C)宋代 (D)元代(94 學測)

[1313年(癸丑)元仁宗恢復科舉，以《四書集注》為定本 南宋朱熹訂為科考定本]

(B) 35. 某一歷史古蹟的導覽手冊描述：指揮官縱容官兵搶劫擄掠之後，又下令縱火破壞，誓言留下永久的烙印以示懲罰，還得意地說：「我不以為在藝術方面，我們能從中國學到什麼東西。」但是，有良知的文明人對此暴行無不斥責。大文豪雨果（Victor Hugo）就說：「將我們各大教堂的寶物集中在一起，也抵不上東方這處龐大輝煌的博物館。……我們歐洲人是文明人，在我們眼中，中國人是野蠻人，可是你看文明人對野蠻人幹了什麼？」這份導覽手冊描述的是清末哪一場戰爭？ (A)鴉片戰爭 (B)英法聯軍 (C)中法戰爭 (D)八國聯軍。(94 學測)

懸幹所述為：英法聯軍火燒圓明園

(B) 36. 中國古代帝王的典型形象是：「一手捧著儒家經典，宣示教化；一手高舉法家利劍，厲行專制。」這種帝王的典型是從哪一個朝代開始的？ (A)秦代 (B)漢代 (C)唐代 (D)宋代。(94 學測)

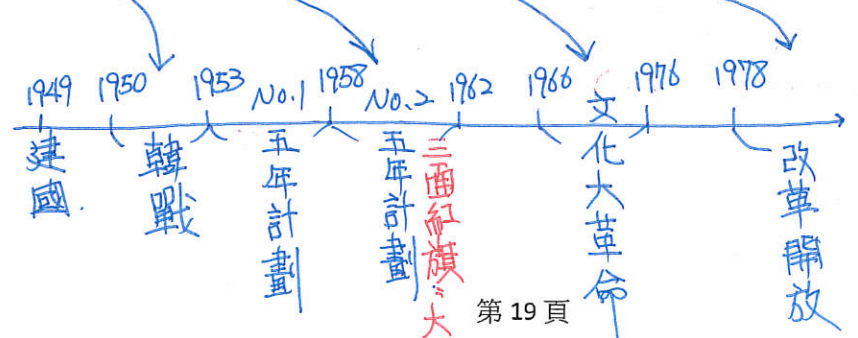
漢武帝獨尊儒術(儒家法家化)

(A) 37. 中國歷史上有一個時期，官員們大多安於逸樂，卻自鳴清高，甚至將「居官無官官之事，處事無事之心」，視為一種最高的道德規範。下列哪一個時期最能反映這種「當官不處理公務，做事不用心負責」的風氣？ (A)東晉南朝 (B)唐末五代 (C)南宋時期 (D)蒙元時期。(94 學測)

出處：東晉明帝的女婿劉尹：東晉南朝盛行清談(何晏、王弼)

(B) 38. 右圖反映了中共政權在某一時期的國家發展路線，圖中的標語是：「多出鋼快出鋼，澆死美國狼。」這是哪一時期的宣傳品？ (A)抗美援朝 (B)大躍進 (C)文化大革命 (D)改革開放。(94 學測)

大煉鋼



題組題 (第 39~40 題為題組)

資料一：其時歐戰方酣，某國實行遠交近攻政策，欲與我方修好，知國父反對參戰，故願助其組織護法政府以對抗北京。

資料二：民國六年，總理黎元洪被督軍團脅迫解散國會，國人大憤，國父在滬力圖起兵護法，但缺乏經費。適有某國醫生轉告知國父：「如孫公有起兵護法之決心，某國願助資百萬。」國父知悉後，甚感快慰。……未幾，遂有（海軍總長）程璧光率海軍南下及廣州召集非常國會之舉。請問：(94 學測)

(D) 39. 在資料一與資料二中，「某國」是指下列哪一個國家？ (A)俄國 (B)日本 (C)英國 (D)德國。

(C) 40. 資料一與資料二敘述的歷史變化，對中國政局造成了什麼影響？ (A)洪憲失敗 (B)五四運動 (C)南北分裂 (D)中共崛起。

(C) 41. 近代有人指出：「槍桿子出政權」，古代也有人說：「天子者，兵強馬壯者居之。」中國歷史上，這種情況有時會成為政權交替的常態。下列哪一個時代最可能出現這種情況？ (A)漢朝前期 (B)唐代中期 (C)五代時期 (D)明代中葉。

(D) 42. 一位古董商人要出售以下文物：篆文書寫的青銅器、楷書書寫的《道德經》、甲骨文書寫的五言詩、隸書刻寫的竹簡。他最可能是何時何地的商人？ (A)唐末的洛陽 (B)北宋的開封 (C)明初的南京 (D)民初的北京。

(B) 43. 學者批評某個朝代頗多失禮之事，宮廷喋血衝突不絕於書，並認為這是因為這個朝代的創建沾染夷狄之風所致。這個朝代是指： (A)秦代 (B)唐代 (C)宋代 (D)清代。

(D) 44. 以下是清朝以後中國人稱呼西方人的幾個說法：(95 學測) (甲)「中國稱『鬼子』其實是龜茲的轉音，只有通稱西方之意。」 (乙)「以後各式公文，凡有關大英國臣民者，不得書『夷』字。」 (丙)「茶葉大黃，外國所必需，中國不售，『夷人』何以為生？」

(C) 45. 這位皇帝自誇他調整國家組織的成效，使得軍、政等機關分別處理庶務，互不統屬，彼此對抗，所

(B) 46. 一位政治家為了鞏固政權，下令求才，強調不問道德，只要有才幹，雖不仁不孝，亦可任用。他是下列何人？ (A)漢武帝 (B)曹操 (C)宋太宗 (D)王安石。

(C) 47. 從某個時期開始，中國社會逐漸出現停棺多年、久喪不葬的習俗，要找到風水寶地之後才入葬。人們認為這麼做可以帶給後世子孫功名或財富等福蔭，出人頭地。這種風俗背後反映了某種社會變動的趨勢。根據這個角度，此一習俗最早可能形成於何時？ (A)秦漢時代，因布衣卿相之局，庶民有機會出頭 (B)魏晉時期，因道教盛行，庶民才流行風水觀念 (C)唐宋之間，反映工商業與科舉制擴大社會流動 (D)明清之間，反映商業繁榮，人民希望追逐財富。

A. 先秦布衣卿相靠自己爭取。
B. 魏晉，世家大族。

(C) 48. 中國某個朝代的前期，東北以鴨綠江與朝鮮為界，北方有蒙古韃靼、瓦剌等部族。此時期中，朝廷對境內大部分地區都能有效統治，少數民族也多臣服，但北方的邊患一直困擾著政府。這是哪一個朝代？ (A)宋代 (B)元代 (C)明代 (D)清代。

(D) 49. 某人舉出兩個政府施政不當的例子，說明他對政治及國家運作的想法：例一：有位正直的人，向地方官檢舉他的父親偷了一頭羊。地方官卻下令將他殺掉。從此以後，沒有人敢向政府報告事情。例二：一位軍士每戰必敗，問他原因。軍士說是家裡有老父要奉養。政府不但不治罪，反而予以嘉獎。這個國家的軍隊從此再也無法打勝仗。

(A) 50. 二十世紀初，學者在敦煌附近的遺址中，發掘出一種用「新文字」書寫的佛經。後來有人找到一本名為《番漢合珠掌中書》的字典，才逐漸了解此種新文字的原則：使用漢字偏旁以代表各種意義。書寫時有篆、草、行、楷等書體，相當複雜。這應該是哪一種文字？ (A)西夏文 (B)藏文 (C)波斯文 (D)蒙古文。

(C) 51. 1937 年 12 月，上海發行的報紙報導：「南京上游 29 公里處，有英、美兩國船隻遭到某國飛機轟炸沉沒。」我們如何了解這個事件？ (A)英、美自己炸沉船隻，嫁禍中國，企圖擴大在中國利益 (B)德國與美國對歐洲事務有歧見，故對美國軍艦發動攻擊 (C)日本加速在中國的侵略，開始攻擊英美在華的軍隊設備 (D)中共在長江中游發展，受到英、美兩國掃蕩，憤而報復。

(C) 52. 唐宋間庶民文化崛起，此一現象與下列何者關係最密切？ (A)人民心態的調整 (B)社會團體的活躍 (C)經濟結構的變化 (D)生活方式的改變。

(A) 53. 清初某人參加一個組織，該組織的成員來自各地，為了互相幫助，彼此以兄弟相稱，要「準星辰為弟兄，指天地為父母」。成員都遵守規範，不隨意洩露組織消息。這個人最可能的身分為何？ (A)運河線上的船伕 (B)成都大街上的店家 (C)山西鄉下的農民 (D)蒙古邊市中的駝商。

(B) 54. 幾位學者討論某個時期的儒學，多數認為這個時代的儒學已經失去創造力，表現出衰微的傾向。但也有人認為：「這個時代的儒學，在思想層次或許是衰落了，但在規畫政治組織與統治政策的治術方面，卻大獲全勝。」這些學者討論的是哪個時代的儒學？ (A)秦漢 (B)魏晉 (C)兩宋 (D)明清。

(B) 55. 某人準備出門旅行，先到城中購買相關書籍。書肆中陳列著各種指南、地圖及日常生活有關的百科全書。這些書中不僅有交通路線，甚至有菸草、海外奇珍等的介紹。這個現象最早可能出現在下列哪個時期？ (A)宋代 (B)明代 (C)清代 (D)民初。

(B) 56. 一位官員因為在父喪期間，讓婢女服侍他吃藥，被人檢舉違反禮法，因而受到清議的批評，甚至使他的仕途受阻。這位官員最可能處於何時？ (A)兩漢 (B)魏晉 (C)隋唐 (D)宋明。

(晉)陳壽，遭父喪，有疾，使婢女藥。客在見之，鄉黨以為貶議。

(C) 57. 一位清代官員討論當時稅收制度，表示：「各省州縣地方收稅多以銅錢為主，但換成白銀交到中央。各省鹽商賣鹽也是收銅錢，交稅時卻須交白銀。原本銀價便宜，兌換時還有些利益，但現在銀價不斷上漲，每兩白銀值一千六百個銅錢。所以地方官必須墊賠，鹽商也視交稅為畏途。」為了因應這種情況，他提出解決的方法是：(A)官員收取的「火耗」歸公，禁止官員中飽私囊 (B)規定收稅或買賣禁用銅錢，改用白銀以免兌換 (C)禁止鴉片進口，避免白銀外流，解決銀價問題 (D)改變貨幣制度，廢除銀兩，改用新式銀元紙幣。(96 學測)

銀銅錢本位制

A. 火耗：附加稅 B. 民國22(1933)廢兩改元 C. 銀外流而上漲

(D) 58. 有一個社會階級，成員原本必須要「通達儒學，取得功名」。但後來有些靠「戰功」起家的人，厚積家財後，開始模仿這個階級的行為，也興建學塾、修撰宗譜，希望美化其家世，社會上也普遍認為他們是這個階級的成員。這些以「戰功」起家的人應當是下列哪種人？(A)東漢初追隨光武帝建立政權的功臣 (B)北周時參與宇文泰關隴集團的豪族 (C)南宋初年協助官軍抵抗女真的義軍 (D)清初中葉協助政府平定亂事的漢人。(96 學測)

A. B. 未模仿 C. 南宋主和未重用義軍 D. 平定太平天國的團練軍人

(B) 59. 一位駐守外地的官員，趁皇帝在東北前線親征的機會舉兵造反。他的手下為他擊畫了三個方案：上策是儘速進入關中，中策要攻入洛陽，下策則為南下江淮地區。皇帝聽到有大臣興兵作亂，立即率軍南返，收平叛亂。這件事應發生在何時？(A)秦漢 (B)隋唐 (C)宋元 (D)明清。(96 學測)

題幹：隋煬帝出兵朝鮮，李密趁楊玄感叛亂的規劃 [關中(長安)洛陽 宋代後已非政治中心]

(C) 60. 一本書中提到：「從上海到南寧最快的方法，先要乘大輪船到香港，接著乘廣九鐵路到廣州，再轉到三水，從三水坐輪船到梧州。從梧州到南寧只有小火輪可乘，要走三天。如果能搭上單引擎飛機，只要幾個小時就可以從南寧到廣州。」這種交通條件最可能出現在何時？(A)1870年 (B)1900年 (C)1930年 (D)1960年。(96 學測)

A. B 無民航機(源自十年建設1928-1937) D. 航空業進步可直飛南寧

(B) 61. 考古學者在印尼發現某些沿海居民家中，至今仍使用中國明朝瓷製器皿。這些瓷器最可能的來源為何？(A)明朝鼓勵海外貿易，瓷器銷往印尼，數代累積而來 (B)當地民眾常能從遭海難的明朝船隻中尋獲貿易瓷器 (C)清初中國沿海居民移到該地，隨身攜帶器皿之遺留 (D)中共文革結束之後，商人將大批古物運到當地販售。(97 學測)

瓷器貴重 屬朝貢貿易的商品 AC可刪去 D文革會將代表舊文化的文物摧毀

(A) 62. 某朝代建國之初，有人建議記取前朝未能善用大亂後「勞民易為治」的有利條件，反而過度役使民力，終於導致民眾叛亂而亡國。本朝制度承襲前朝，若不能記取歷史教訓，更新制度，可能會步上前朝亡國後塵。「某朝代」是指：(A)西漢 (B)西晉 (C)宋朝 (D)清朝。(97 學測)

題目取材自賈誼《過秦論》 秦亡原因

(B) 63. 一位反抗軍領袖在起事之初，本以宗教為號召，稍後為了要爭取民心，改採取民族大義為主要訴求。最後，他推翻異族，建立政權。這位政治領袖是：(A)劉邦 (B)朱元璋 (C)洪秀全 (D)孫中山。(97 學測)

朱元璋《奉天討元北伐檄文》：驅除胡虜，恢復中華，立綱陳紀，救濟斯民。

(A) 64. 史家評論道：這個朝代的帝王年壽都不長，以致皇家嫡傳世系屢次中斷，經常出現由宗藩入繼帝位，而引發太后臨朝、外戚主政的現象。這個朝代是指：(A)東漢 (B)唐朝 (C)北宋 (D)清朝。(97 學測)

東漢：皇帝早死 → 幼主即位(外戚) → 皇帝年長(外戚) → 皇帝早死

(A) 65. 這個時期的宗族組織機能完整，族人間患難相助，經濟上相互依賴；族長代表本族，可率領族眾參加戰爭；若族人違反規範，就在宗廟前聚集族眾施以處罰。這種兼具政治、經濟與軍事共同體型態的宗族組織，可能出現在何時？(A)西周 (B)秦漢 (C)唐宋 (D)明清。(97 學測)

以血緣為紐帶 第22頁 依賴疏分封不同等級之土地 族人須依族長命令從事耕織、游獵，甚至在戰

(C) 66. 一位西方人記錄他在中國旅行的見聞，指出：「這個城中，男女比例為1:2，很多人新近才從外地遷來，與我先前看到的中國城市不同。此地的婦女徒步或騎馬公開地在大街上招搖過市，一點也不害怕外國人。」這應當是何時何地的情況？(A)1750年的北京 (B)1810年的上海 (C)1860年的南京 (D)1900年的廣州。(97 學測)

好地位低 好地位較高 = 唐、元(蒙古女)、太平天國、Now

(B) 67. 文學家批評當時的考試制度使士人講究雕琢、堆砌的文詞，滋長浮華的士風，他們主張文學應著重表達作者從經典中獲得的理念，反對當時社會上流行的文學風格。這種文學觀念最早可能始於何時？(A)兩漢 (B)唐朝 (C)宋朝 (D)清朝。(97 學測)

古文運動(韓愈、文以載道) → 漢賦、六朝駢文、唐律賦

(A) 68. 一篇題為〈消失的城市〉的文章裡，考察古代中國曾經存在、但至清朝已經消失的城市。此文所謂「消失的城市」主要分布在哪个地區？(A)陝西省(B)浙江省(C)湖北省(D)廣東省。(97 學測)

關中、宋後逐漸沒落 陝西、山西、河南

(A) 69. 一份考古發掘報告說：「最令人震驚的發現是一個如真人尺寸大小的銅像，他有一張瘦削的臉，臉上有巨大的眼睛；另外還有41個大小不一的青銅銅像，其中有一些還戴著黃金面具。其宗教活動和商朝以及周朝初期的情況判然有別」。根據這份考古報告，學者可以做怎樣的合理推測？(A)古代中國文明的多元性 (B)銅像製作技術較商周高 (C)宗教儀式始於周朝後期 (D)證明夏朝文明曾經存在。(98 學測)

三星堆遺址

B, C, D 無法得知 二里頭

程頤：箴於事小，失節事大

(A) 70. 明初政府規定：「民間寡婦三十以前夫死守制，五十以後不改節者，旌表門閭，免除本家差役。」這項法規反映了明朝怎樣的社會情況？(A)婦女道德規範的嚴格化 (B)致力提升婦女社會地位 (C)政府鼓勵敬老尊賢風氣 (D)政府重視婦女社會福利。(98 學測)

貞節旌表，制度：官方表揚喪夫守節或拒絕受辱且盡之節女、烈婦 源於漢 宋理學助長

(D) 71. 一位民國時期的文人撰文紀念友人道：「他是中國思想界的一個清道夫，他把啓蒙的水灑向那孔孟瀰漫的大道上。因此時時被那無數吃慣孔孟的老頭子們跳腳痛罵，怪他不識貨。有時候他顯得疲乏了，失望了，忽然遠遠的觀見那望不盡頭的大路那一頭，好像也有幾個人在那裡灑水清道，他的心裡又高興起來了。」上文中「灑水清道」的人是指誰？(A)嚴復 (B)梁啟超 (C)康有為 (D)陳獨秀。(98 學測)

題目取自胡適紀念吳虞(又陵)《吃人的禮教》 1915《新青年》新文化運動

(D) 72. 一本古代算數書列了一道例題：「今有大夫、不更、簪裹、上造、公士凡五人。共獵得五鹿，欲以爵次分之，問各得幾何？」書中記載正確答案是：他們依次分別得到1又2/3、1又1/3、1、2/3、1/3 隻鹿。請問，這題算數反映了古代中國社會的哪項特色？(A)年齡在鹿肉分配上的重要性 (B)古代中國人特殊的數學觀念 (C)個人的地位由獵鹿活動決定 (D)不同爵位者的分配權利差異。(98 學測)

題目取自《九章算術》 A. 未提及年齡 C. 是個人地位決定鹿的分配

(C) 73. 兩位士族出身的文人，回憶了時代和家族出路。甲文人雖然看到戰亂使其家族前途未卜，但他相信，如果他的子弟想要出仕為官，應該不會有什麼問題。乙文人對於士人家族的前途同樣感到渺茫，但他所處的時代，官員們幾乎不可能為其後代子孫的仕途提供庇護。請問，甲、乙兩位文人最可能分屬於哪一朝代？(A)秦朝、唐朝 (B)元朝、清朝 (C)魏晉、宋朝 (D)漢朝、唐朝。(98 學測)

甲：世族時代(兩漢 → 魏晉 → 隋唐) 乙：兩宋 → 元 → 明 → 清(科舉完備後，取才較公平)

(B) 74. 教科書描述某一古都：「這個城市的人口大約一百萬，外國人可能占了三分之一。城內圍隔成一百多個坊，除了皇城、中央官署外，還有東、西兩個市場。如果有機會拜訪這座城市，你會因為眾多的佛寺而感到震驚。宴會上常可看到外國女子組成的樂隊，坐在駱駝背負的平臺上表演，演奏著類似吉他的琵琶。」這最可能是哪一座都城？ (A) 東漢的洛陽 (B) 唐朝的長安 (C) 北宋的汴京 (D) 清朝的北京。(98學測)

同時代大城市：巴格達、君士坦丁堡、開羅、坊市制已破壞。

(B) 75. 在中國某個朝代中，皇帝頒下詔書，一個官員反對這個命令，並在詔書上寫下他的看法。其他官員趕忙勸阻，認為這對皇帝不敬，但這位官員表示這是法律賦予他的職責。皇帝知道此事後，非但沒有責備，反而嘉許他能防範詔敕可能發生的錯誤。這個故事最可能發生在何時？ (A) 兩漢 (B) 隋唐 (C) 兩宋 (D) 明清。(99學測)

B. 三省：中書(擬) → 門下(審) → 尚書(行) 內外朝 三省
C. 多相：丞相(行)、三司(財)、樞密(軍)

(B) 76. 一位年輕人曾經通過縣裡的考試，中了秀才，卻必須再前往省城師範講習所唸書，以便將來可以找個事做。回到家鄉教書時，課本已經改變，要教算數，不再教千字文。而每個縣中都設置勸學所，以便提倡新式的教學，原本設在關帝廟的學堂也改稱高等小學。這位年輕人生活在哪個時期？ (A) 清朝中期 (B) 清末民初 (C) 抗戰期間 (D) 光復初期。(99學測)

1901引進新式教育 1902廢八股文 1906廢科舉

(B) 77. 某一時期中，農民開始開墾荒地，改善灌溉措施，並使用各種役畜，也用各種有機肥料，以增加農作收穫。逐漸形成定耕，並獲得土地的所有權。這種情況最可能出現在何時？ (A) 西周前期 (B) 戰國時期 (C) 西漢末期 (D) 魏晉時期。(99學測)

井田制 → 土地私有 地主壟斷 世家大族 僅有使用權



(C) 78. 評論家討論右圖的畫作，說畫家精研透視法，對物體的結構、光影效果十分了解，也注重物像解剖，花瓣、枝葉畫得都維妙維肖。這幅畫作應當是：(A) 元代的工筆畫，受到阿拉伯人的影響 (B) 明代的人文畫，受到知識分子的啟發 (C) 清代的宮廷畫，受到西方教士的教導 (D) 民國的寫意畫，受西方抽象畫的影響。(99學測)

透視法源自文藝復興 14-16世紀 (A) 不架

(D) 79. 兩位學者各自根據其閱讀史料，提出對漢代社會型態的看法。甲學者認為漢代社會是地緣社會，聚落內部的血緣聯繫不強；乙學者則認為漢代是血緣社會，聚落內部同姓的力量強大。我們應如何理解兩位學者意見的差異？ (A) 甲學者的主張符合古代宗族瓦解後的形勢，較為合理 (B) 乙學者的看法反映出古代社會的延續性，較具說服力 (C) 兩位學者立場相反，正可說明歷史解釋缺少合理基礎 (D) 古代地域社會間差異甚大，不應該只有一種社會型態。(99學測)

甲：郡縣 乙：傭家、以倫分際

(B) 80. 學者指出：明清之際，江南出現了「婦女半邊天」的說法，顯示江南婦女的家庭地位日益重要。這種現象的發生最可能與下列何者有關？ (A) 通俗文化盛行，平民識字率提高，婦女在家庭中的地位因而提高 (B) 棉紡織業興起，以女性為主的手工副業成為家庭經濟的重要收入 (C) 引進甘藷、玉米等新作物，改變農業生產方式，提高了婦女地位 (D) 江南地區人口大量外移，性別比例失衡，女性地位因而日益重要。(99學測)

A. 明清識字率提升下，對女性要求更多。「女子無才便是德」。
B. 男耕女織 → 明清商品化 → 婦女地位重要。
C. 無關
D. 無人口外移。

(B) 81. 某州長官希望任用張三為其僚屬，但人事官員卻以「資籍不當」為由，不同意這項任命。當州長官表示一定要任用此人，人事官員嚴肅地說：「州僚屬的任命必須經過本地人的評議，我是本地人，既然不同意，長官就不應違反這個制度。」這樣的場景最可能發生在：(A) 兩漢 (B) 南北朝 (C) 中晚唐 (D) 宋明。(99學測)

A. 察舉：推薦任用同一人。 C、D 改用科舉
B. 官人法：將人才推薦任用的權責分開，並設一個出身於本地，評議人才的小中正官

(C) 82. 北魏孝文帝與漢人大臣討論統治人才的來源時，大臣主張應該以能力作為甄選人才的標準，孝文帝卻強調人才出自門第，應以門閥地位作為人才選拔之基準。關於此事，以下敘述何者較為適當？ (A) 孝文帝漢化程度甚深，因而強調門第價值 (B) 漢人大臣重視軍功，因而強調能力的重要 (C) 重視門第是為了保障鮮卑貴族的政治地位 (D) 為了重用南方士族，因而強調依門第取士。(100學測)

北魏孝文帝。漢化：與北方漢人世族合作。採門閥制：保障鮮卑貴族政治地位

(D) 83. 清末知識分子認為：「天下積弱之本，必自婦人不學始。」他們主張「興女學」，呼籲婦女應受教育，因為幼兒教育倚賴母教，女子教育的好壞實為國家強弱的依據。這時期士人鼓吹女學的主要背景為：(A) 認同國際社會以婦女識字率為國力強弱的指標，故有此主張 (B) 回應法國大革命中的人權主張，積極肯定婦女受教育之權利 (C) 受西方女權主義影響，也效法西方，積極鼓吹婦女接受教育 (D) 主張強國必先強種，鼓勵婦女讀書識字，以培育優良的後代。(100學測)

取教材自梁啟超之言。 A. 未提及識字率。 B. 大革命主張自由財產權。 C. 西方女權主義。 → 二戰時。

(A) 84. 幾位同學討論某一主題時，各自發表意見如下：(甲) 中國皇帝權力來自上天，不受監督與制衡 (乙) 時代愈晚，相權愈輕，皇帝直接掌理朝政 (丙) 中央政府設有言官，提出建言，針砭朝政 (丁) 地方長官有一定任期，接受中央政府遷調。這幾位同學討論的主題最可能是：(A) 傳統政治的特質 (B) 言官的政治功能 (C) 政統與道統衝突 (D) 中央與地方權限。(100學測)

B. 僅丙提及。 C. 甲乙丙丁未提到道統。 D. 僅丁提及。

(B) 85. 16世紀以後，白銀通過菲律賓、日本進入中國，從而導致中國經濟發生相應的變化，形成「白銀—銅錢」的貨幣體系。1800~1900年間白銀兌換銅錢數量的變化趨勢應當是：(A) 銀價穩定下跌 (B) 銀價穩定上漲 (C) 銀價先跌後漲 (D) 銀價先漲後跌。(100學測)

1840. 鴉片戰爭。爆發原因：巨銀因鴉片大量外流 → 銀價上漲。且無可以禦敵之兵。元朝之銀。

(B) 86. 幾件獸首銅像在一場藝術品拍賣會中公開發售，供收藏家競標，引來中國政府抗議。這些獸首銅像原本來自北京圓明園，在晚清一場戰爭中遭到外人掠奪，這場戰爭之後，清廷痛定思痛，開始改革。這場戰爭是：(A) 鴉片戰爭 (B) 英法聯軍 (C) 甲午戰爭 (D) 八國聯軍。(100學測)

外人未攻入北京。 自強運動。 外人未攻入北京。 庚子新政。

(C) 87. 一位學者主張：政府施政應該配合農民生產活動的季節與時序，如此才能增加生產，糧食供應不虞匱乏。這種想法最早出現於何時？ (A) 新石器時代早期，農業生產開始發展時 (B) 周公東征時，為解決軍食提出這種主張 (C) 戰國時期，各國均鼓勵生產，擴大稅收 (D) 秦始皇統一中國，以天下蒼生福祉為念。(100學測)

取教材自孟子「不違農時，穀不可勝食也。」
戰國時代。各國追求富國強兵。加上陰陽五行之說 → 施政須配合農時。順應民意。

(D) 88. 揚州城呈現出一幅忙碌的景象：市場裡，搬運工人正將來自湖北的稻米運到倉庫裡，港口邊，工人將棉布整齊地堆疊在一起，準備運上船，銷售到全國各地。一旁的茶樓裡，交易的商人正在結算著買賣的價格。這是哪個時期的景象？(A) 南朝時期 (B) 唐朝中期 (C) 北宋末年 (D) 明朝後期。(100學測)

A. B. C. 江南地區以種稻為主。 特別是北宋更有「蘇常熟，天下足」之稱。

湖廣熟，天下足
明代：江南地區 (揚州、長江下游) 順應棉織業盛行。改種經濟作物木棉。並種桑養蠶。

成立於1917年

(C) 89. 中國某一個時期中，許多人呼籲總統賦予內閣全權，召開全國和談大會，並要求：改組內閣，網羅全國和平民主人士，充實和平的內容。他們甚至計畫發動國人，一致擁護和平；更希望美、蘇、英、法等強權能諒解，支持中國希望和平的想法。這個事件的背景是：(A) 1912年辛亥革命後，革命黨人對清廷的呼籲 (B) 1937年中日戰爭爆發後，學界對政府的希望 (C) 1949年國共和談期間，政界對國民黨的建議 (D) 1950年舊金山和會召開前，新聞界所提建議。(100學測)

A. 呼籲清帝退位. B. 希望奮起抗日. C. 建議中國人不打中國人. D. 中共已建國 新聞界無法提

(A) 90. 春秋晚期，鄭國的執政大夫子產將刑法鑄於銅鼎，公布法律條文使國人周知。此舉引發鄰近晉國貴族之疑慮，認為人民可有成文法律做為靠山，據此爭取自身權益，極可能威脅既有的社會穩定及政治秩序。子產的改革與晉國貴族的疑慮，可以說明當時社會的哪種現象？(A) 平民興起漸成為國家中堅力量 (B) 政府的行政權萎縮，民權增強 (C) 貴族立法鎮壓百姓以維護封建 (D) 司法解釋與裁量改由人民主導。(101學測)

A. 公布法律，代表政府重視人民的行為準則. B. 應為君權提升. D. 人民無法主導

(B) 91. 一篇論文裡的關鍵詞有：中日關係、山東問題、胡適、巴黎和會。這篇論文討論的主題最可能是：(A) 庚子拳亂 (B) 五四運動 (C) 瀋陽事變 (D) 七七事變。(101學測)

廣義的五四，即為新文化運動

(B) 92. 學者指出：某個時期的農村市鎮主要分布在黃河中、下游和長江三角洲；黃河中、下游的市鎮數量很多，但每個市鎮的貿易額卻不大；長江三角洲的情況恰好相反，市鎮數量少，但每個市鎮的貿易額都很大。不過，政府在兩個地區所收的商業稅大致相等。這種經濟現象最可能出現於何時？(A) 唐代前期，江南地區漸次開發 (B) 北宋時期，商業繁榮市鎮興起 (C) 蒙元時期，華北經濟漸趨沒落 (D) 明代時期，江南市鎮經濟擴大。(101學測)

A. 北方為政經中心. C. D. 南方為政經中心

(C) 93. 一位官員指出：為紓緩市場銅錢不足問題，政府應當禁止民間鑄造銅器。經大臣討論後，向皇帝建議：除銅鏡之外，禁止民間以銅為原料，鑄造器物。此事最可能發生於：(A) 秦朝，統一六國後，為促進商業活動，鼓勵民間自鑄銅錢 (B) 西晉，因漢末大亂後，百廢待舉，政府希望擴大銅錢流通 (C) 晚唐，因商業漸繁榮，貨幣不足，必須確保銅錢供應充足 (D) 清中期，因白銀流失日趨嚴重，朝廷下令，擴大銅錢流通。(101學測)

A. B. 安史前. D. 白銀流失 → 禁鴉片

(D) 94. 古董商販售一批聲稱是從河南安陽出土的甲骨文書，指出：這批書寫於牛肩胛骨的文物，主要內容為土地交易契約。幾位同學發表看法，下列何種說法最可信？(A) 這批文物從河南安陽出土，又有甲骨文書，應當是真品 (B) 刻寫在牛肩胛骨，而非書寫在龜甲，故極有可能為贗品 (C) 甲骨文直到清末才出土，無法偽造，這批文物應為真品 (D) 商代並無土地交易行為，自然不可能有契約，應為贗品。(101學測)

甲骨文為商代王室用龜甲獸骨占卜後的解讀文字，且商代土地非個人所有，無法交易

(A) 95. 西方商人到中國貿易時，地方政府常藉各種名義收取費用，令商人不勝其擾。在一場戰爭後，中國政府同意各國商品除繳交5%的進口關稅外，不用再繳納任何雜費。從此以後，各國貨物正式繳稅進口，到各處販賣。這場戰爭是：(A) 鴉片戰爭 (B) 英法聯軍 (C) 甲午戰爭 (D) 八國聯軍。(101學測)

題幹所指為「協定關稅」，源自鴉片戰後的南京條約及其附約「秉公議定稅則」

(D) 96. 1907年，湖廣總督張之洞建議朝廷：禁止書舖販售「某類物品」，違者重罰查封；並通令各省學堂，禁止學生購閱，違者逐出校門；令外務部商請總稅務司轉飭各郵政局，查禁銷毀，不得代寄。張之洞建議禁售的「某類物品」應是：(102學測)

(A) 天演論之書籍 (B) 基督教宣傳冊 (C) 憲政體制叢書 (D) 鼓吹革命書刊。

張之洞為自強運動晚期的洋務派，主張「中體西用」辦漢陽鐵廠等。八國聯軍 → 東南互保。庚子新政後 → 立憲法。

A. 支持清末改革. B. 與外國關係良好. C. 支持體制內改革.

(A) 97. 教科書往往反映當代的時局與世變。某一時期，小學課本中有一個單元名稱為「一個惡魔」，說「帝國主義是什麼？帝國主義是一個惡魔。他一隻手裡是算盤，一隻手裡是武器。他有兩副面孔，打算盤的時候，他的面孔好像很和善，但是，使用武器的時候，他的面孔就變得兇惡無比了。」還說：「他恐怕人家不如他的意，就想同人家訂不平等條約。」這應當是哪個時期的課本？(102學測)

題幹：反帝國主義侵略

(A) 新文化運動時期 (B) 對日抗戰時期 (C) 文化大革命時期 (D) 臺灣戒嚴時期。

(B) 98. 一本書的作者批評當時的社會現象，指出：世人喜歡利用祖先彰顯自己，例如王家已經遷居本地數代，但王某詩文集中卻仍標示百年前的祖籍，以證明家世顯赫。這本書最可能是：(A) 漢代《風俗通義》 (B) 唐代《史通》 (C) 南宋《夷堅志》 (D) 清代《皇朝通考》。(102學測)

應助、辨風正俗 劉知幾史學理論 夫漢志怪說 張廷玉-典章制度

(C) 99. 一位政治人物呼籲：全國各黨各派要放棄歧見，停止內戰及一切敵對行為；大家應當團結一致，抵禦外侮，集中力量來奮鬥救國。這種說法應是：(102學測)

(A) 曾國藩對太平天國將領的招降公告 (B) 民國初年袁世凱稱帝時的登基宣言 (C) 九一八事變以後毛澤東的抗日聲明 (D) 抗戰勝利後蔣中正號召團結的主張。

題幹指九一八後，日本加速侵略，但國民政府仍主剿共優先。A. 曾國藩不會與太平軍合作對抗英法聯軍

(D) 100. 秦漢時期實施郡、縣二級的行政區劃，最基層的地方行政長官為縣令(長)，負責管理地方，統籌稅收。當時縣令(長)如何產生？(102學測)

(A) 根據宗法，父死子繼 (B) 皇帝分封，冊命任用 (C) 由郡守指派下屬擔任 (D) 由中央政府直接任命。

A. B 屬封建制. C. 郡守縣令皆由中央任命。

(D) 101. 此一時期，君權高張，對於大臣、高官並不尊重。官員如觸怒天子，可能當眾遭到責罰，甚至押到午門外杖刑，年紀大的官員往往死於杖下。這本不是當時法典規範的刑罰，皇帝卻藉此樹立威望，壓抑大臣。這場景應發生於何時？(102學測)

(A) 漢代 (B) 唐代 (C) 元代 (D) 明代。→ 皇權高張每違背「聖意」即施以廷杖。

(C) 102. 蔣中正正在日記中記載：最近，中共代表向美國表示，中共必須重視莫斯科的意見，美國想調解國共關係，必須先徵求俄國同意。此段記載最可能出現於何時？(102學測)

(A) 1924年國民黨實施聯俄容共之際 (B) 1937年七七盧溝橋事變爆發之後 (C) 1946年二次大戰後中國發生內戰 (D) 1958年中共發動八二三砲戰之前。

→ 1946美派馬歇爾調停國共內戰 A. B. 美未介入. D. 中蘇關係佳，無須徵求莫斯科

(D) 103. 民國成立後，清史研究日漸盛行，對於清初「文字獄」提出了新的觀點與解釋。學者研究指出，部分民間傳聞與歷史事實之間有很大的差距。下列對此一現象的說明，何者最合理？(102學測)

(A) 民間傳聞係來自革命黨人的醜化 (B) 學者受科學史觀影響，否定傳聞 (C) 清代檔案偏袒皇帝，立場不客觀 (D) 宮中檔案開放，學者找到新事證。

A. B. 民間傳聞仍有部分事實，且不是與革命黨人有關. C. 雖不客觀，仍是一手史料

(D) 104. 某人參訪都城後，認為首都氣象萬千、地理形勢佳，唯須仰賴東南的糧食。他說：前朝雖重修大運河，但糧米主要以海路運輸；本朝重新疏通運河，以利南方米糧北運。這是何時的首都？(A) 東漢洛陽 (B) 唐代長安 (C) 宋代汴京 (D) 明代北京。(103學測)

元代重修大運河 此城市應靠近大海


(B) 105. 某一時期，朝廷給予官員合法占田的特權，官位越大，土地越多。同時，許多大族家中動輒擁有千百名奴僕，依法均不需負擔稅役。這最可能是哪一時期的現象？(103 學測)
 (A) 戰國時期，戰爭頻仍，藉以爭取大族合作 (B) 晉朝，世家大族基礎雄厚，皇帝亦需妥協
 (C) 南宋，為對抗北方金人，以特權換取支持 (D) 清初，南方未統一，以優厚條件吸引歸順。

題幹所指為西晉占田令。A. 大族源自兩漢。B. 大族於唐末沒落。D. 未實施。

(C) 106. 西方學術傳到中國時，引起許多人的學習興趣。某位皇帝對數學非常有興趣，儘管國事紛擾，南方還有重臣叛變，他仍與幾位數學家一起研究科學，計算各種幾何問題。這位皇帝最可能是：(103 學測)
 (A) 向馬可波羅學習西方科學的元朝皇帝 (B) 在宮廷討論歐基里德數學的明朝皇帝
 (C) 向耶穌會傳教士學習數學的清初皇帝 (D) 在同文館學習數學、幾何的清末皇帝。

A. 馬可波羅未帶來科學。B. 南方無重臣叛變。C. 三藩之亂。D. 應為洋務運動培養的學生。

(D) 107. 附圖是近代新式學堂教科書的課文及插圖，從課文的敘述與插圖的呈現，其內容最可能反映了哪一種時代思潮？(103 學測)
 (A) 尊君思想，以維護皇室地位 (B) 強化團練，以防止內亂再起
 (C) 排滿思潮，以推翻滿清政權 (D) 保國強種，以對抗列強侵略。



辛亥革命 18 國旗 迎旗

(D) 108. 一個民族在中國建立政權後，國君諮詢學者，以了解統治中國之術。一位漢人建議：「為政應以原本法令為主，並參酌中國制度」。這種說法引起該民族的王公大臣反對，認為中國僅是帝國的一部分，不必重視，而統治者也不需採用亡國者的制度。這個統治民族是：(103 學測)
 (A) 女真 (B) 鮮卑 (C) 契丹 (D) 蒙古。

漢化。漢化。設南面官。但北宋未亡。

(C) 109. 某人回憶小時候至京城，看見城內建築十分雄偉，街道旁盡是青樓畫閣，寶馬奔馳在御路大街上。店舖裡陳列海外的奇貨珍寶，茶坊酒肆人聲鼎沸，夾雜說書聲，餐館夜間也常高朋滿座。父親說：這是百年無戰爭所創造的繁榮。這座京城應是：(104 學測)
 (A) 東漢洛陽 (B) 唐代長安 (C) 北宋汴京 (D) 明初北京。

題幹指坊市制已破壞。宋之後。瀛州之盟。A. B. 不選。

(D) 110. 學者討論中國歷史上的某個朝代時，有人認為當時皇權專制盛行，社會停滯，思想僵化，可說是一個「黑暗時代」。但有學者不同意這種說法，主張當時商品經濟繁榮，類似今日資本主義的情況；出版事業發達，學術流通快速；知識分子還常常組織社團，發表對時事的意見。這些學者討論的是哪個朝代？(104 學測)
 (A) 唐代 (B) 宋代 (C) 元代 (D) 明代。

皇權專制。指明清兩代。廢相之後。

(C) 111. 某一時期，朝廷一改前朝實施的兵農合一制，改採募兵制度。招募軍隊時，特別製定「兵樣」(體格標準)，凡體格強健、符合兵樣標準的士兵，優先編入京師軍隊，不符合者則分發到地方服役當差。這是何時的情況？(A) 漢初，擴充軍隊，以保衛京師 (B) 唐代，設立標準，以揀擇府兵 (C) 宋代，強化禁軍，以強幹弱枝 (D) 明代，改革衛所，以防止逃役。(104 學測)

A. 漢代：徵兵制。B. 唐代：府兵(部分區域徵兵)。D. 明代：衛所兵：世襲軍戶制。兵農合一。

(D) 112. 一位記者報導某次軍事衝突：在衝突爆發後，北京郊區一座車站被毀，電報線遭切斷，各國在北京人員無法對外聯絡。使節團立刻派人向外求援，緊急調集數百名官兵，進駐使館。20 多艘外國軍艦也迅速集結在天津附近，準備登陸。這個事件應當是：(A) 1858 年的英法聯軍 (B) 1884 年的中法戰爭 (C) 1894 年的甲午戰爭 (D) 1900 年的八國聯軍。(104 學測)

A 時間在自強運動之前。B 戰場：越南。C 戰場：朝鮮、東北、黃海。

英法聯軍後

(B) 113. 資料一：漢初的諸侯國有自己的朝廷、軍隊，可自行任命官吏，向人民收稅，但丞相由中央派任。資料二：漢初法律文書記載，皇帝禁止不同諸侯國的人民相互通婚，士人不可以游仕諸國。綜合兩則資料，最能說明漢初哪種現象？(A) 皇帝鼓勵諸侯推行地方自治 (B) 皇帝與諸侯的權力關係緊張 (C) 諸侯重視人民維持血統純正 (D) 諸侯強調人民應當安土重遷。(104 學測)

西漢初年採郡國並行制下。從題幹可知諸侯雖有一定權力。但處處受皇帝打壓與限制。故選 B. 權力關係緊張。

(A) 114. 某網站計畫拍賣一批古物，聲稱是戰國時期的墓葬所出土之文物，包括：銅鏡、竹簡、毛筆與佛像。我們根據歷史知識可以判斷至少有一件文物必為贗品。這件文物應是：(A) 佛像 (B) 毛筆 (C) 銅鏡 (D) 竹簡。(104 學測)

戰國新石器。戰國

A. 佛教於兩漢之間。才傳入中國。

(C) 115. 一位西方人士觀察中國時，提到：「報紙上出現許多新名詞，『教育』就是一個使用頻率很高的新詞，用來區別過去使用的『授業』。一位名人則認為：教會學校從道德和知識兩方面著手，教育小學生，遠比傳統私塾要好。因為中國傳統私塾只是教給小學生許多難以理解，無法消化的倫理綱常大道理。」這種「新教育」的發展情況與下列哪個事件關係最為密切？(A) 自強運動 (B) 義和團事變 (C) 新文化運動 (D) 文化大革命。(104 學測)

題幹：否認傳統教育。肯定新式教育。

毛澤東的權力鬥爭思想。批判。

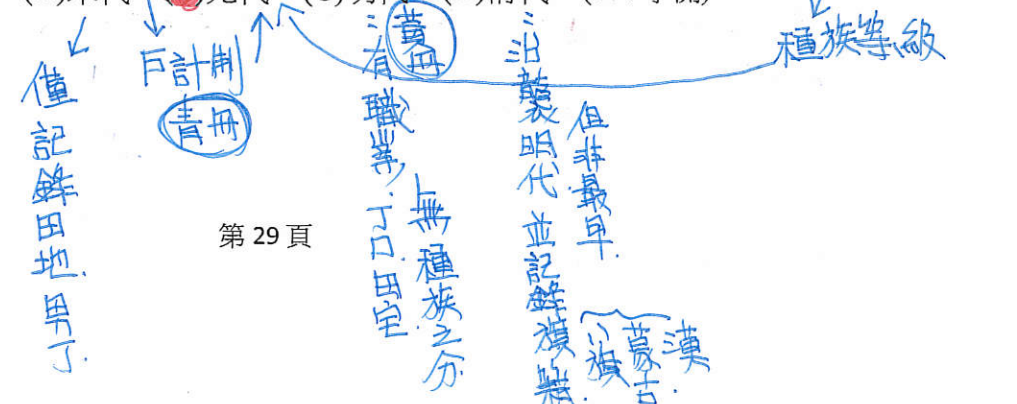
(D) 116. 有位學者批評：自從政府確立「官方之學」以後，讀書人只重視官府提倡的經典注釋，反而較少研讀《論語》、《孟子》等原典。他們只知道必須按照考試要求，並熟讀範文，才能通過考試。這位學者批評的是：(A) 漢武帝獨尊儒術，設立五經博士，提倡章句之學 (B) 曹魏以能力取才，不重視學術，士子無意於經典 (C) 唐宋科舉取士，士人只知讀古書，無法服務社會 (D) 明清科舉講究八股作文，士子重視練習科舉格式。(104 學測)

A. B. C 均無官方注釋及考試範本。D. 四書集注。八股取士。C. 詩經。策論。

(B) 117. 一位官員上奏朝廷：「水師提督一職至關重要。賊眾已經無法在陸路造成影響，如果水師戰勝，則賊眾自然敗走臺灣。如果水師不勝，則賊眾仍將盤據廈門。若要想與賊眾決一死戰，必須倚賴水師提督。」這個奏摺的背景是：(A) 明末官員要驅逐在東南沿海的倭寇 (B) 清初官員要驅逐鄭成功的殘存軍隊 (C) 清末官員希望驅逐廣東的英國商人 (D) 甲午戰爭時官員要驅趕進犯的日軍。(104 學測)

題幹指賊眾原在陸地作戰。目前則退廈門。有可能被趕到台灣。A. 水師提督。清代官職。倭寇不一定退守台灣。C. D. 清軍處方勢。

(B) 118. 一部地方志記錄某地區各縣的人口情形，內容顯示：地方官員除了登記當地居民的種族等級、宗教信仰外，也開始依職業將居民分成不同類別。方志中這種居民分類方式最早可能反映何時的情況？(A) 宋代 (B) 元代 (C) 明代 (D) 清代。(104 學測)



(A) 119. 兩派人討論施政方向，有人認為：殷代的盤庚住茅屋，舜故意把黃金藏起來，漢高祖也禁止商賈當官，就是要遏止貪鄙之俗。也有人表示：各地設置運輸官員，方便運送貨品，可以賤買貴賣，平抑物價，都是便民的作法，有何不好？這兩派人討論的情況最可能是 (A) 漢代的經濟措施 (B) 宋代的商業稅收 (C) 明代的海外貿易 (D) 清代的自強新政。(105學測)

題幹：討論「抑商」vs「便民」→漢：重農抑商 B. 宋代已形成全國市場 C. 明朝重貿易，不便民 D. 與商無關

(A) 120. 兩個鮮卑大臣議論國政時發生爭執，一人口操漢語，引用儒家理念發表議論，另一人責罵他為「漢兒」。這個現象最早可能發生在 (A) 北朝後期，實施漢化改革政策後 (B) 隋、唐前期，種族融合形成之後 (C) 五代十國，契丹南下打草穀之時 (D) 北宋初年，北亞民族南下中原時。(105學測)

題幹所述鮮卑大臣說漢語→北魏孝文帝漢化 B.C.D. 無關漢化，亦無鮮卑大臣

(D) 121. 某一時期中，有些人擁有「特殊身分」，他們雖不能任官，卻可免除徭役，不被胥吏侵擾；他們與士人相同，可以用官禮參見官員，也可免於笞打等刑罰。因此，人們讀書不一定要求取官職，倒是希望獲得「身分」，可以保障身家。這種「身分」是指 (A) 漢代的孝廉 (B) 唐代的明經 (C) 宋代的禁軍 (D) 明代的生員。(105學測)

在官 軍職 秀才：通過最基本之院試者具有功名之特權

(D) 122. 明末清初的西洋傳教士在中國傳教，往往必須借助於傳教以外的學識，才能受到朝廷的重視。如耶穌會教士南懷仁因擁有西方學問技藝而擔任許多職務，除為大家所熟知的欽天監外，他最可能還在哪个政府部門任職？(A) 吏部 (B) 戶部 (C) 禮部 (D) 工部。(105學測)

吏：人事考核，戶：財政，禮：科舉學校祭祀，工：各項工程建設

(A) 123. 某一時期，朝廷重視海路互市，開放沿海地區，以便與阿拉伯半島的大食、印度半島的注釐 (Chola)、東南亞的蘇門答臘、爪哇、占城等地貿易，商人甚至遠從麥加前來。政府因此在廣州、泉州、杭州、明州、密州等港口設市舶司，發給貿易執照，征收貨物稅。請問政府設立機構管理海上貿易活動，最早始於何時？(A) 唐代 (B) 宋代 (C) 元代 (D) 明代。(105學測)

唐高宗年間(661)於廣州設市舶司 皆如題幹敘述，但A最早

(D) 124. 某國一位國會議員批評某次軍事行動，認為當初遠東軍司令部表示：只要派幾艘軍艦在海面行駛，中國就會退兵。現在我們派了這麼多軍艦前往中國，也不見中國退兵。司令部還說，如果能占領臺灣，中國必定派人求和，現在我們也攻打臺灣，還沒有聽說中國有求和的意思。這場戰爭的軍費，就讓遠東軍自行負擔，國會不應當為這次軍事行動付錢。該國會議員所提的軍事行動是 (A) 1840年鴉片戰爭 (B) 1856年英法聯軍 (C) 1874年牡丹社事件 (D) 1884年中法戰爭。(105學測)

題幹：對中國用兵，認為占領台灣，中國會求和。 B. 未波及台灣， D. 法占基隆

(B) 125. 清朝末年，一位外交官員前往某國參觀該國閱兵，回北京後報告：「擇(他國)長(處)為師，悉命人譯。飛砲霹靂，軍容強盛。有輕氣球，凌風千尺。」他有感而發，希望兩國能和平相處，「玉帛相見，互相輔弼」。這位外交官員參訪的國家最可能是 (A) 德國 (B) 日本 (C) 英國 (D) 土耳其。(105學測)

A.C 已是強國無須擇長為師 B. 明治維新，躍升強國 D. 鄂圖曼雖有改革，但效果不彰 題目出處：清末外交官黃遵憲，陸軍自學校開校禮成賦，呈有緬川城在親王

(C) 126. 某次，中國政府派兵前往國外，全軍包括軍官與士兵等，共約28000人，並設置醫官、醫士、通譯、買辦等職官。拜訪了30多個國家和地區，途中曾與某國發生衝突，指揮官帶領官兵破城，生擒該國國王及家屬，送回京師。這是 (A) 漢代，張騫出使西域 (B) 宋代，富弼出使漠南 (C) 明代，鄭和出使南洋 (D) 民國，國軍前往滇緬。(105學測)

A. 張騫一行，屢遭匈奴俘虜 B. 北宋富弼出使遼國，未生擒國王 D. 協助英軍對抗日本

(B) 127. 某人建議：您控制的領域農業發達，天然資源豐富，土地比德、法兩國加起來還大。您跟令尊一樣深獲百姓支持，如果與中央合作，頂多是稱雄一方，不如自己創造一番事業。我國願意傾全力支持您，完成建國大業。這個對話的場景最可能是：(A) 1921年，英國首相向凱末爾建議 (B) 1928年，日本特使與張學良談判 (C) 1948年，蘇聯領袖對毛澤東指導 (D) 1949年，美國國務卿提醒蔣介石。(106學測)

指奉系軍閥張學良(少帥)與其父張作霖 C. 毛不會與中央合作

(A) 128. 日本史書記載：一艘我國船隻利用季風之便，抵達中國，在大運河邊的一個重要港口下錨。船員在此港中見到舟楫林立，商業繁榮，各種商品琳瑯滿目。城中有許多外國商人，購買各種貨品。沿運河北上，便可抵達首都。這個港口是：(A) 唐代的揚州 (B) 宋初的廣州 (C) 元代的泉州 (D) 清初的上海。(106學測)

B.C.D 不在運河旁，且清初海禁，不會有外國商人

(C) 129. 某一時期，周天子因財政困難，必須派遣大臣向諸侯要求金援。齊、晉兩國也經常派遣使臣朝覲周天子，以提高自己的地位；原本與周天子關係最密切的魯國反而漸漸疏遠。這種現象最可能的原因是：(A) 周人滅商，始建國家，但基礎不穩 (B) 西周末年，外族常入侵，政局惡化 (C) 春秋時代，周王室衰微，霸主興起 (D) 戰國時期，大國崛起，戰爭頻頻。(106學測)

犬戎入侵，平王東遷，靠鄭晉等國支援→春秋時代，齊晉藉「尊王攘夷」稱霸

(C) 130. 一部書記載：祖宗設立某個官職，只不過是文學侍從，其職務至多止於在奏章上簽註處理的建議，呈請皇帝裁決。這個官職獲得委任的權力，和前任宰相絕不相同，以不具實權之官職，卻攬權在手，其勢必敗，歷來擔任這個官職者無美名，其故在此。此處所指的官職是指：(A) 漢代的博士官 (B) 唐代的中書令 (C) 明代的內閣大學士 (D) 清代的軍機大臣。(106學測)

題幹：不具宰相之名，但能攬權 (通曉經書的學者無權，具實權宰相) (票擬) (源自對西北用兵，非文學侍從)

(C) 131. 以下三段資料為三個不同時期的中國知識分子對傳統與西方文化的看法：資料甲：我們要拋棄傳統中國的四書五經、打倒那吃人的禮教，專心學習西方民主與科學。資料乙：我們要拒絕污染心靈的西方文化，更要唾棄傳統中國的文化遺毒，知識青年應該下鄉向農民學習。資料丙：我們可以仿效西方國家的科學與技術，但是，仍要堅持維護中國的綱常、名教與聖人之道。

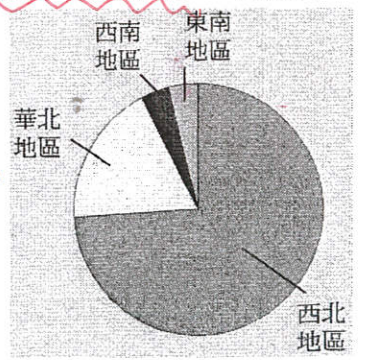
上述資料依時序先後應是：(A) 甲乙丙 (B) 乙丙甲 (C) 丙甲乙 (D) 丙乙甲。(106學測)

甲：清末民初新文化運動，乙：1916年文章，丙：自強運動，中體西用

(B) 132. 老師上課時，根據歷史資料繪製成附圖，以說明中國歷史上某個時期政府在全國兵力部署的比重。根據圖中訊息判斷，這應是何時的情況？(A) 秦初 (B) 唐初 (C) 宋初 (D) 明初。(106學測)

外：北魏 府兵 總：北 北 軍建朝 (折衝府)

題幹知佈 1 2 主要在西北(關隴地區)



(C) 133. 中國歷史上某地居民的職業結構如下：十分其民，而工商居其四（占四成）；十分其農，而佃戶居其六；十分其力，而傭工（雇傭勞動）居其五。上述的現象最可能發生於：(A)西漢的關中地區 (B)唐初的華北地區 (C)清初的長江地區 (D)清領前期的臺灣。(106學測)

工商業占了四成，應為明、清兩代。A. 重農抑商 B. 均田制 C. 佃農少 D. 移墾為主

(C) 134. 一位作者討論當時中國的社會情況，重要內容包括：論修治道路、論綏靖地方、懲戒奢侈、清除鴉片流弊、嚴禁買賣奴婢、禁溺女嬰等。這種想法最可能出現於下列何書中？(A)明代的《職方外紀》 (B)清初的《大義覺迷錄》 (C)清末的《自西徂東》 (D)抗戰時期的《中國之命運》。(106學測)

鴉片問題 → 清中後期 → 鴉片問題 → 中國政治改革之論述
A. 義、艾傳略，介紹五大洲 B. 雍正發行的官方資料 辯駁傳聞

(A) 135. 一份文書中，中國政府表示：「前次所有遇害難民之家，中國定給撫卹銀兩，貴國所有在該處修道、建房等件，中國願留自用，先行議定籌補銀兩。所有此事兩國一切往來公文，彼此撤回、註銷。至於該處『生番』，中國自宜設法妥為約束，以期永保航客，不能再受凶害。」這份文書應與哪一事件有關？(A)中國與日本有關牡丹社事件的討論 (B)中國因法國侵略安南，與法國交涉 (C)中德因德國企圖占領膠州灣的協議 (D)中國與各國就解決義和團事件商議。(106學測)

A. 劃界封山外的生番 B. 藩屬 C. D. 領地，皆不會以生番稱之

(D) 136. 一位君主告誡大臣：前朝因為不斷加稅，造成民生困苦。不僅平時練兵要加稅，出兵遼東也要加稅，後來鎮壓民變、清剿海盜更要加稅，各項稅收超過兩千萬兩。「我朝」為民謀利，首先應當免除這些苛捐雜稅。這位君主所說的「我朝」應是：(A)唐 (B)宋 (C)明 (D)清(107學測)

A. 前朝：隋 B. 前朝：五代後周 → 無海盜問題 C. 前朝：元 → 無出兵東北及海盜
D. 前朝：明 稅：女真、民變、流寇、海盜、倭寇

(A) 137. 學者在東漢晚期遺址中發現許多銅鏡、畫像磚，多有「東王公」、「西王母」畫像，石印上也鐫刻「大山武帝神仙印」字樣，指出：這些器物可以反映當地的□□□□。□□□□應是：(A)神仙方術 (B)佛教信仰 (C)儒家禮法 (D)祖先祭祀(107學測)

道教信仰 追溯自神仙方術，自然崇拜
D. 前朝：明 農家為主
D. 138. 有人指出：雖然參加科舉可以成為官員，但道路艱辛，以蘇州府所轄八個州縣為例，總共有1,500個生員，但三年之內可以通過科舉者不足50人，成功率只有三十分之一。無法進入仕途者往往改行經商，有「士而成功也十之一，賈而成功者十之九」的說法。此人指出的現象最可能出現於哪一朝代？(A)東漢 (B)唐初 (C)宋初 (D)明末(107學測)

題目取自余英時 <中國近世宗教倫理與商人精神>
D. 前朝：明 農家為主
D. 138. 有人指出：雖然參加科舉可以成為官員，但道路艱辛，以蘇州府所轄八個州縣為例，總共有1,500個生員，但三年之內可以通過科舉者不足50人，成功率只有三十分之一。無法進入仕途者往往改行經商，有「士而成功也十之一，賈而成功者十之九」的說法。此人指出的現象最可能出現於哪一朝代？(A)東漢 (B)唐初 (C)宋初 (D)明末(107學測)

○唐宋時期，隨著南海貿易的興盛，外國船隻停靠的貿易港也逐漸從廣州向北延伸到福建和長江流域。繼廣州之後，泉州、明州（今寧波）也發展成大商港。外國商船將香料、珊瑚、瑪瑙、寶石、象牙、藥材等商品輸往中國，並購買大量中國產品運回。請問：(107學測)

(D) 139. 唐宋時期從南海來華貿易的外國商人，以下列何者為數最多？(A)印度人 (B)馬來人 (C)義大利人 (D)阿拉伯人

7~12世紀：伊斯蘭教興盛期

(D) 140. 外國商人從明州（今寧波）購買運回的主要商品為何？(A)蔗糖、樟腦 (B)樟腦、苧麻 (C)蔗糖、棉布 (D)瓷器、絲綢

中、印、東南亞皆有

未受青睞

第32頁

盛產且非國貨

(D) 141. 孔子曾說：「夏禮吾能言之，杞不足徵也。殷禮吾能言之，宋不足徵也。文獻不足故也，足則吾能徵之矣。」他的遺憾，後代學者因為「新方法」而能夠逐漸填補夏、商兩代歷史的空白。這種「新方法」是：(A)唐代以後的地理學知識發達 (B)宋代的司馬光重新考證史記 (C)明清學者發展訓詁與文字學 (D)現代建立考古與甲骨文知識(107學測)

題幹指孔子雖能說出夏、商之禮，但無文獻可以佐証，故只能藉現代考古找出新遺跡佐証

○某一朝代，因強敵入侵，皇帝從寧波乘船出逃，船隻在江南沿海躲藏以避追擊。四十天後敵軍撤退，皇帝才返回陸地。為了安全考量，皇帝決定在富庶的江南臨海地區建都，萬一強敵再侵時，才方便出海避難。請問：

未有皇帝之稱

未發生皇帝出逃

(C) 142. 該事件最可能是：(A)春秋時期的吳越相爭 (B)三國時期的孫吳政權 (C)女真壓境時宋室南渡 (D)滿清入關後南明諸王(107學測)

題幹指靖康之難後，康王趙構(宋高宗)躲避金人追殺下，最終於臨安(杭州)建都。D. 南明諸王，定都地點不一，以閩粵地區為主

(C) 143. 學者記載他們見到一些外國經書與油畫：經書使用薄而堅好的白紙，兩面印刷，文字皆橫行。封面裱裝精美，還以「綵麗」（毛織品）、金寶裝飾，外面再以皮革包覆。油畫則是神采艷發，氣韻若生，認為「中土未曾有」。學者所見的經書最可能是：(A)漢代自印度傳入中國的佛經 (B)唐代回紇部落使用的古蘭經 (C)明末耶穌會士的基督教經書 (D)民國初年教會學校中的聖經(107學測)

題幹之油畫、印刷 → 文藝復興時期，A、B時代不符。D. 在馬丁路德(16世紀)聖經至上，聖經因此普遍流行，不用如此精緻

(C) 144. 某一國際會議召開時，中華民國政府指出：會議摒除我國於會議之外，此為我國之辱。中華人民共和國當局也對該會議提出抗議，指出該會議背棄國際義務，中國不予承認。該國際會議指的是：(A)1945年雅爾達會議 (B)1946年聯合國第一次大會 (C)1951年舊金山和會 (D)1955年的第一次亞非會議(107學測)

萬隆會議：出現第三世界(中共有參加)

討論對日和約問題 美 → 中華民國 英 → 中共 最終決議 兩岸皆不出席

(A) 145. 學者發現許多三國時代吳國的文獻資料，包括《隱核(查核)新占民簿》、《隱核州軍吏父兄子弟簿》、《兵曹徒作部工師及妻子簿》、《郡縣吏兄弟叛走人名簿》、《生口買賣簿》等。這些簿冊的作用應是：(A)掌控各類人口，增加稅收 (B)強迫職業世襲，確保生產 (C)因應戰爭需要，強制徵兵 (D)分析人民壽命，發展醫學(107學測)

(B) 146. 學者認為：國家失道，將敗之際，上天會先降下災害，以為警惕。如果人君無法領受天降災異的教訓，把政治導正，那麼天就有權力來奪取君王的權位。如果君王行為得當，五行運轉便正常。他因此主張：「天道」運行變化，主要是為了建立「人道」。這位學者最可能是：(A)主張民貴君輕的孟子 (B)主張天人感應的董仲舒 (C)主張格物致知的朱熹 (D)主張知行合一的王陽明(108學測)

以天道約束，限制皇權擴張

(C) 147. 1871年，西洋人在上海敷設了電報線；1877年，丁日昌在臺灣架設了電報設備，成為中國第一條自行架設的電報線。1879年，李鴻章也在天津與大沽及北塘之間架設電報設備。當時架設電報設備的主要動機是：(A)西洋商社在中國投資，希望中國提供電信設備 (B)中國報業為求現代化，希望引進電報通信設施 (C)清朝官員認為電報設施有助於國防，因此架設 (D)朝廷認為電報為國家現代化象徵，故極力支持(108學測)

1870年代 中國自強運動期間(1861-1895)

第33頁

目標：富國強兵

國防要地 (清大沽口守軍 曾與英法聯軍交戰於此)

- (B) 148. 許多關切教育的地方人士指出：國家建設百廢待舉，傳統知識已不敷使用，需借重歐美先進國家的政治經驗、學術思想與科學技藝等專門知識，才能提升國家建設的效率。國家先進國家的政治經驗、學術思想與科學技藝等專門知識，才能提升國家建設的效率。國家先進前雖曾多次派選學生出洋念書，但人數不足。為便於學習歐美先進國家的專門知識，建設家鄉，我們也應廣派學子出國留學。呼籲主事者籌設「留學歐美預備學校」，招收學子，先在國內學習歐、美語文，以便將來出國學習。該文章反映哪種時代背景？(A)簽訂《南京條約》後，政府需培養對外交涉人才 (B)民國初年，擴大學校教育，也培育各種專門人才 (C)八年抗戰期間，同盟國資金援助，學生可赴歐美 (D)韓戰爆發以後，美援開始，故派遣學生赴美學習(108學測)
- (A) 149. 白居易的《琵琶行》長詩寫於唐憲宗元和十一年(816年)，當時白居易貶官為江州司馬，居住在江西九江，對比長安與九江，有許多感想。下面詩句中，哪一句最足以說明白居易對兩地文化差異的看法？(A)潯陽地僻無音樂 (B)舉酒欲飲無管絃 (C)商人重利輕別離 (D)妝成每被秋娘妒(108學測)
- (C) 150. 《東西洋考》記載某一時期中國的世界地理觀，東洋包括呂宋、汶萊、日本及紅毛番；西洋包括交趾、占城、暹羅、柬埔寨、麻六甲等。這本書反映出何時的世界觀？(A)唐代 (B)南宋 (C)明末 (D)清末(108學測)

151-152為題組

- (C) 151. 協助清朝官員繪製地圖的傳教士最可能是：(A)法蘭西的耶穌會教士 (B)英國的長老會教士 (C)荷蘭的喀爾文教士 (D)俄羅斯的東正教士
- (D) 152. 論者認為：《皇輿全覽圖》係由傳教士執筆繪製。題文中哪項資料可支持此論點？(A)全圖使用墨色硬筆繪製 (B)山川城鎮符號基本一致 (C)以府為基本的量算單位 (D)度數用阿拉伯數字標記
- (C) 153. 某一時期，中國周邊民族普遍使用文字，並營建都城，反映其國家組織的強化，構成對農業中國的嚴重威脅。無論是東北、北方，甚至西南，都發生周邊民族入侵的現象，同時對中國造成重大的壓力。這種形勢出現於何時？(A)西周末年 (B)西晉末年 (C)唐宋之際 (D)清朝中葉(108學測)

作者：明張燮

在種種條約下，已稱歐洲國家

有記的(遠) 契丹 蒙古

唐-宋 藏 清

西晉 西周

大戎 (好(華))

(無文字) 匈奴 鮮卑

光項 (西夏)

未入中國

C. 二戰時，盟軍無力援助

D. 1950 已流行新式教育


乾隆《帝載篇》

- ◎ 十八世紀，清朝一位皇帝對該朝首都地理形勢描述：「右擁太行左滄海，南襟河濟北居庸。會通帶內遼海外，雲帆可轉東吳粳(稻米)。」請問：(108學測)
- (D) 154. 十九世紀下半葉，「雲帆可轉東吳粳」的情況則有大幅改變，造成此一改變的最主要原因為何？(A)美洲作物引進 (B)鐵路運輸興起 (C)捻亂破壞航路 (D)海運取代漕運

筆記區

20世紀初

元明清的政治中心在北方。須仰賴南方經濟中心(的糧食) 馬藉由運河運糧，在運河淤積下，改用海運。



「人們把我的成就歸於天才，其實我只是刻苦而已。」
—愛因斯坦