

91-108 年度 歷史科歷屆試題

「最偉大的將軍就是犯錯最少的那一個。」

——拿破崙



班級：高三____班

姓名：_____

一、台灣史

- (D) 1.下表資料顯示臺灣人理解日語的人口比率。由該表可知，臺灣人口中理解日語的比率漸增。1930年起的大幅增加，是因為日本政府設立「國語講習所」，而自 1937 年起，理解日語的比率再次大幅增加。請問其最主要的原因為何？ (A)日本政府普設學校，使臺灣人可以接受小學教育 (B)日本政府鼓勵臺灣人接受高等教育，增加臺灣人學習日語意願 (C)1935 年起日本在臺灣實施有限度的地方自治選舉，增加臺灣人學習日語的意願 (D)日本政府在二次大戰期間推行「皇民化」運動。(91 學測)

時間	總人口	理解日語人數	比率(%)
1930 年	440 萬	365,427	8.3
1933 年	461 萬	1,127,509	24.5
1937 年	510 萬	1,934,000	37.9
1940 年	552 萬	2,885,373	52.3
1941 年	568 萬	3,239,962	57.0

- (D) 2.國民政府遷臺後，臺灣政治上的反對運動是經過哪一場事件後，形成跨縣市的結合，後來更成為打破黨禁的動力？ (A)霧社事件 (B)二二八事件 (C)退出聯合國 (D)美麗島事件。(91 學測)
- (C) 3.臺灣光復後進行的「耕者有其田」政策奠定其後經濟發展的基礎。下列敘述何者適當？ (A)政府強制地主將土地以公告地價現值賣給實際耕作的佃農，若農民沒有足夠的資金，可向政府貸款 (B)政府沒收地主土地，強制發放給實際耕作的佃農，且政府不補償地主的損失 (C)政府強制徵收地主多餘的土地，發給地主公營企業的股票與實物債券作為補償 (D)凡是欲從事農業經營之人，若無土地，可以向政府申請開發國有土地，若經營有成，該土地可轉為私有。(91 學測)

第 4-5 題為題組

一部小說中有以下一段情節：「太明開始對教育有了懷疑了。最少是對教育方法有所懷疑。想起來有很多不能了解的。比如小學校不用體罰，也能提高教育的效果；為什麼公學校不能那樣？小學校按照學則辦理，為什麼公學校把重點放在農業教育？」請回答以下兩個問題：(91 學測)

- (B) 4.這部小說所說的是什麼時代、什麼地方的事？ (A)滿清時代，福建 (B)日據時代，臺灣 (C)1945 年以後，臺灣 (D)二十世紀初，香港。
- (A) 5.在小學校與公學校接受教育的人各是誰？ (A)小學校是日本人；公學校是臺灣人 (B)小學校是外省人；公學校是本省人 (C)小學校是英國人；公學校是香港人 (D)小學校是滿人；公學校是漢人。
- (B) 6.有一段資料記載：道光十年以後，因為閩、浙地區連年豐收，一年之中，好幾個月沒有廈門商船到臺灣收購稻米，「臺人苦穀有餘而乏日用」。有關此一資料的解釋何者較為適當？ (A)臺灣需從大陸進口日用品，大陸日用品價格上漲，臺人無力負擔 (B)臺灣與大陸的經濟分工關係，臺灣出售糧食，從大陸購入日用品 (C)大陸引進新作物，糧食已可自給，此後不再需要由臺灣進口糧食 (D)臺地已無餘糧可供輸出，以致引起島內物價上漲，人民生活窮困。(92 學測)

(D) 7.臺灣南部某鎮一座有兩百餘年歷史的廟宇，留下的捐款紀錄記載長期以來捐獻者的姓名、居地與捐獻金額。此資料自某時期開始，出現了來自「板橋、新莊」等北部地區的信眾，且此後漸以為常。關於此一現象，以下哪個選項的解釋最為合理？ (A)清朝中期族群衝突緩和，南北交流漸趨密切 (B)臺灣開港通商之後，南部居民轉向北部移動 (C)日據時期為了開發南部，北部農業人口南移 (D)二次大戰後臺灣工業化，南部居民北上就業。(93 學測)

(B) 8.參看以下資料，回答問題：

資料一：「臺灣鄉間的諺語：天下第一憨，種甘蔗給會社磅（稱重量）。」

資料二：「1905 年 6 月臺灣總督府規定：為制止各製糖工廠間的原料爭奪，避免擾亂蔗價，各蔗作區劃定為一定範圍的區域。此區域內的甘蔗未經許可，不得運出區域之外，或供作砂糖以外成品的製作原料。」根據以上資料，下列敘述何者適當？ (A)保障了臺灣蔗農，使蔗農有固定買主與穩定的銷路 (B)保障了新式糖廠，使其降低收購甘蔗原料的價格 (C)政府照顧臺人生活，引進製糖業，糖從此成為重要輸出物資 (D)使臺灣舊糖廠在政府補助下轉型為新式糖廠，奠定工業的基礎。(92 學測)

(C) 9.政府宣布：禁止演出布袋戲、歌仔戲，也不准進入寺廟，鼓勵人民更改姓氏，強迫改說「國語」。這種政策是在何時開始推行的？(A)1895 年，甲午戰後日本占領臺灣時(B)1919 年，第一次世界大戰結束之時(C)1937 年，中日爆發蘆溝橋衝突之後(D)1945 年，陳儀任臺灣行政長官之後。(93 學測)

(D) 10.日治時期，臺灣海峽兩岸雖然政治分離，但文化思想的交流仍然密切。1923 年《臺灣民報》創刊，其「創刊詞」說：「我們處在今日的臺灣社會，欲望平等，要求生存，實在非趕緊創設民眾的言論機關，以助社會教育，並喚醒民生不可了。……所以這回新刊本報，專用平易的漢文，滿載民眾的知識，宗旨不外欲啟發我島文化，振起同胞的元氣，以謀臺灣的幸福。」這段話顯示，當時臺灣知識份子已接納的近代中國新文化是下列哪一項？ (A)新教育 (B)反傳統 (C)反腐敗 (D)白話文。(94 學測)

(D) 11.下表是臺灣在某一時期的對外貿易統計數字。請問造成表中數字變化的主要原因是什麼？ (A)海禁政策的解除 (B)技職教育的推廣 (C)殖民體制的確立 (D)鐵路港口的興建。(94 學測)

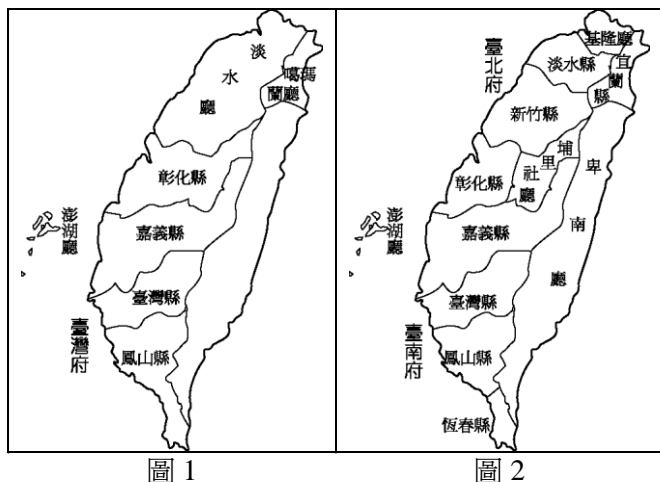
(單位：日圓)

年代	輸出	輸入	合計	指數
1896	11,396	8,631	20,027	100
1924	42,567	46,424	89,000	444
1925	47,966	56,489	104,454	522
1926	49,315	62,008	111,323	557

(C) 12.一位作家以充滿感性的文字寫道：「內地人徹底地擁抱本島人，而本島人喜悅地投入內地人的懷裡，這種親和性不是一時的現象，可能在永久性的意義上有著要創造一個民族的骨骼之性質吧！現在，臺灣人非打開眼睛不可。正是時候了，臺灣人不單只是日本國籍，而且從內心深處完全變成日本人。如果失去這次時機，以後我們不能再遇到這種機會了。」這位作家寫作的背景與目的是下列何者？ (A)反對臺灣民主國的抗日運動 (B)爭取臺灣自治權的民主運動 (C)呼應臺灣總督府的皇民運動 (D)渴望臺灣人出頭的民族運動。(94 學測)

題組題（第 13~14 題為題組）

◎圖 1 及圖 2 分別是臺灣在兩個不同時期的行政區域示意圖。請問：(94 學測)



- (B) 13.臺灣的行政區劃由圖 1 演變至圖 2，是受到哪一事件衝擊的結果？ (A)1856 年的英法聯軍 (B)1874 年的日本侵臺 (C)1884 年的中法戰爭 (D)1894 年的甲午戰爭。
- (A) 14.臺灣的行政區劃由圖 1 演變至圖 2，顯示出臺灣歷史的哪一種發展？ (A)漢人移墾的禁令已告廢除 (B)建省後統治政策轉趨積極 (C)蓬勃發展的地方自治運動 (D)日本殖民統治的基礎穩固。
- (B) 15.一位英國商人第一次到淡水地區經商時，與當地商人發生衝突，但當地官署無法處罰他。七年後，這位商人再度來臺，企圖如法炮製，卻立刻被官署糾正、處罰。這位商人大概是在何時來臺？ (A)1840 年臺灣開港通商前後 (B)1895 年臺灣割讓日本前後 (C)1915 年一次大戰爆發前後 (D)1945 年日本戰敗投降前後。(95 學測)
- (A) 16.某人翻閱古書，看到一位任職臺灣的官員在 1820 年提出一份有關當地的報告。這份報告的主旨最可能包括下列何者？(A)彰化地區發生了兩派人馬的集體衝突(B)魚塢養殖的鰻魚豐收，外銷成果良好 (C)當地父老聯名，請求官府改建火車站 (D)糖廠安裝新式的蒸汽鍋爐以提高產能。(95 學測)
- (B) 17.朱一貴之亂後，康熙皇帝在上諭裡指稱：「臺灣止一海島，本地所產不敷所用，仰賴閩省錢糧養生。」關於這份上諭，以下哪一項說明較為合理？ (A)當時臺灣生產力落後，人民生活窮困，需要福建接濟 (B)當時國家控制下繳納賦稅的戶口不多，財政收入不足 (C)這是清廷爲了安撫鄭氏餘黨，給予大量物資作爲酬庸 (D)這是清初加強臺灣的建設，不足的經費由福建來支援。(95 學測)
- (B) 18.學者根據清代兩次戶口統計資料，計算出清代臺灣北、中、南、東四個區域人口數如表一，其中哪一個是北部地區？(A)甲 (B)乙 (C)丙 (D)丁。(95 學測)

表一

	嘉慶十六年(1811)	光緒十九年(1893)
甲	無資料	6,000 人
乙	258,000 人	767,000 人
丙	1,305,000 人	1,101,000 人
丁	342,000 人	622,000 人

- (A)19.表二是 1926 年時臺灣的一項統計數字，這個表最適當的主題為何？(95 學測)

表二

	男	女	平均
日本人	98.3%	98.1%	98.2%
臺灣人	43.0%	12.3%	28.0%

- (A)臺灣適齡兒童就學情況統計 (B)臺灣地區神道信徒人口統計
(C)臺灣地區成年人口就業統計 (D)臺灣地區醫療照護保險統計。
- (A)20.劉銘傳擔任臺灣巡撫時，招募許多歐洲工程師來臺灣協助興建鐵路，架設電線。有位工程師覺得臺灣風土民情處處新鮮，將許多有趣之事向歐洲的親友報告，許多人也有親臨現場的感覺。他當時使用的方法最可能是： (A)照相 (B)錄影 (C)繪圖 (D)剪報。(95學測)
- (C)21.有一位臺灣原住民敘述他的家族史：「祖先原來住在群山萬嶺之中，但來了一群『新的統治者』，強迫族人遷移到較低海拔的地區，集中居住。生活環境改變了，族人一直受到瘧疾、霍亂等新疾病的侵襲，部落裡的巫醫全都束手無策。」這些「新的統治者」是指： (A)荷蘭東印度公司官員 (B)福建省臺灣府官員 (C)臺灣總督府民政長官 (D)臺灣省政府民政廳。(96 學測)
- (B)22.某官員批評：「自從決議要開山以後，蕃亂不止，已有十多年了，剿也無功，撫也無效。提到開墾，也沒有新增任何土地可以增加政府稅收。至於防守，只是爲了富紳土豪保護茶寮、田寮、腦寮，而不能禁止『兇蕃』出草，每年浪費許多軍費。」這位官員批評的是哪個事件？ (A)清朝初期，施琅禁止粵移民來臺 (B)清朝後期，劉銘傳主張開闢山地 (C)日據初期，日本總督要征討山地 (D)國府遷臺，要開發山地增加糧產。(96 學測)
- (A)23.一位美國總統宣示：「臺灣依《開羅宣言》及《波茨坦宣言》，早已於日本投降後交還中國。」他並表示美國並無強占臺灣的意圖，也不想臺灣建立軍事基地，或干涉現狀；但宣示後不久，他又派艦隊進入臺海。導致這位總統政策轉變的最可能原因爲何？ (A)蘇聯支持中共出兵朝鮮，破壞區域和平 (B)中國成功進行核子試爆，引起美國疑慮 (C)美國介入導致越戰擴大，威脅日本安全 (D)限制核武擴散談判破裂，美蘇兩國反目。(96 學測)
- (A)24.表一是 1912 年到 1921 年間有關臺灣的一項統計。這個表的主題應當爲何？(96 學測)

表一

年度	1912	1913	1914	1915	1916	1917	1918	1919	1920	1921
百分比	6.63	8.32	9.09	9.63	11.06	13.14	15.71	20.69	25.11	27.22

- (A)適齡學童的就學率 (B)家用電話的普及率 (C)人口成長的年增率 (D)日人占臺灣人口比。
- (B)25.某一時期，有人指出：「臺灣物產豐富，有硫磺、蔗糖、鹿皮，原來缺少布帛，現也不虞匱乏」，建議政府善加防守。只要將內地的部分軍隊移防臺灣，便可確保臺灣及澎湖兩地，以確保東南數省之安全。這種想法的背景是： (A)鄭成功被清軍打敗，轉移到臺灣的構想 (B)施琅攻下臺灣之後強化臺灣防務的建議 (C)劉銘傳於臺灣建省之後有關軍備的設計 (D)甲午戰爭後日軍希望在臺灣殖民的想法。(97學測)

- (C)26.表二為臺灣某時期人口數超過1萬人的都市。根據表中的資料推測，我們可以得知這項調查應於何時完成？(A)1805年 (B)1850年 (C)1905年 (D)1950年 (97學測)

表二

地名	臺北	臺南	新竹	嘉義	鹿港	宜蘭	彰化	麻豆
人口數	50,773	50,000	17,827	17,281	17,273	15,104	13,539	10,027

- (C)27.《嘉義縣採訪冊》記載了嘉義縣各地的開發過程、人口和田畝數、廟宇和風景名勝等資料，這是我們認識清朝統治時期較精確的數字資料。這本書中出現的數據與下列何者有關：(A)施琅計畫攻打明鄭政權，調查南臺灣的地理環境 (B)沈葆楨為了阻止日軍進攻，調查該地的軍事地形 (C)劉銘傳為統治臺灣，改善財政，先進行相關調查 (D)臺灣民主國唐景崧為了抵抗日本，從事國力調查。(97學測)
- (C)28.某一時期，臺灣的法律規定：「凡是向官府登記在案，並繳納稅金者，即可合法吸食鴉片。」但是具有「某種身分者」不准吸食，如供應這種人吸食工具者，皆處以死刑。這裡所謂「某種身分者」是指：(A)原住民 (B)荷蘭人 (C)日本人 (D)本島人。(97學測)
- (D)29.一位在臺任職的官員向長官報告，指出：「為獲得『蕃地』的經濟利益，我們必須使用武力，沒收『蕃人』的槍枝，讓他們放棄狩獵生活，並強制將他們移居接近平地的河川地，從事農耕，以便加強控制。」這種觀點的歷史背景是：(A)明鄭時期積極開發山地，以期對抗滿清 (B)沈葆楨為了取得林業資源，開山「撫番」 (C)劉銘傳為了樟腦利益，採行「撫番」政策 (D)日本為掌握山地資源，控制「番地秩序」。(97學測)
- (D)30.慎終追遠是漢人社會的核心價值，臺灣人也供奉祖先牌位，按時祭祀。但在某個時期，為了避免違反統治者的命令，必須設法將祖宗牌位藏起來。這種現象最可能發生在何時：(A)1835年 (B)1886年 (C)1912年 (D)1943年。(97學測)

- (B)31.表三是1905~1938年臺灣的「米、糖、甘蔗」的價格變動與比率表，表中顯示出何種意義？(97學測)

表三

年 代	1905	1910	1915	1920	1925	1930	1935	1938
在來米價(圓/100斤)	3.33	3.67	3.58	10.98	10.68	7.08	9.08	9.92
蓬萊米價(圓/100斤)	/	/	/	/	14.37	8.81	9.98	11.35
甘蔗價格(圓/100斤)	/	2.779	4.138	10.59	7.118	4.50	4.09	/
糖/米價格比率(倍)	2.11	1.63	2.35	2.76	0.81	0.82	0.80	0.99

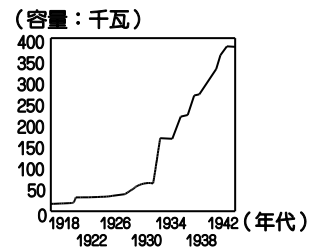
- (A)米糖價格變動反映了臺灣人消費習慣的改變 (B)米糖價格變動趨勢說明臺灣經濟的殖民地化
(C)臺灣稻米價格上漲，須進口稻米來平抑米價 (D)臺灣稻米的產量倍增，造成米糖價格的波動。

- (A)32.一位日本人寫一封信給在臺灣的友人，信封上標示的地址是「臺灣恒春郡海角七番地」。臺灣普遍擁有戶籍地址，和日治時期政府哪項建設事業有關？(A)土地調查事業 (B)蕃地調查事業 (C)森林計畫事業 (D)都市計畫事業。(98學測)

(C)33.一塊碑文寫道：「勘定朴仔籬處，南北計長二百八十五丈五尺，共堆土牛一十九個，每土牛長二丈，底闊一丈，高八尺，頂寬六尺；每溝長一十五丈，闊一丈二尺，深六尺。永禁民人逾越私墾。」這塊石碑最有可能是為確立何種地界而立？ (A)荷治時期王田地界 (B)明鄭時期屯田地界 (C)清治時期漢番地界 (D)日治時期蕃地地界。(98學測)

(A)34.一名臺灣官員向朝廷報告：「臺地無源可開，但通其流，而源自裕。米穀不流通，日積日多……蓋由內地食洋米而不食臺米也。不食臺米，則臺米無去處，而無內渡之米船。無內渡之米船，則無外來之貨船。」依據你對東亞歷史的了解，文中的「洋」指何而言？「洋米」自何地輸入？ (A)指南洋，由東南亞輸入 (B)指東洋，係由日本輸入 (C)指西洋，係由歐洲輸入 (D)指印度洋，由印度輸入。(98學測)

(C)35.右圖為日本統治期間臺灣發電設施之設備容量變化圖。請問，使1930年代設備容量急遽增加的設施為何？ (A)恆春的核能發電廠 (B)高雄的火力發電廠 (C)日月潭水力發電廠 (D)大甲溪水力發電廠。(98學測)



(B)36.有本臺灣地方志提及某地的築城：「他們蓋的城很小，根本就不能算是城……但他們有好的船隻，也善用火砲，所以雖然軍隊數量不多，但各地的原住民都聽命於他們。他們又在城外設立市場，福建沿海商人頻繁前來和他們貿易。」這應是哪一次的築城活動？ (A)西班牙人在基隆地區築城貿易 (B)荷蘭人據臺時在安平地區築城 (C)鄭成功復臺後修築的承天府城 (D)英國人在淡水地區修築紅毛城。(98學測)

(C)37.同學撰寫報告時，前往圖書館翻閱日據時期的舊報刊，無意間發現：從某個時期起，臺灣所有報刊裡的漢文欄目都消失了。這個現象最早可能發生於何時？ (A)1905年 (B)1920年 (C)1937年 (D)1945年。(99學測)

(C)38.監察御史來臺考察後，上奏建議：應在臺灣府以木為柵，保護官署，並在要衝處設置砲位，加強防守，相關工程交由臺灣縣知縣辦理。朝廷批示：實屬妥當，同意辦理，並嘉獎相關人員。這個事件的背景是： (A)鄭成功企圖攻打臺灣，荷蘭管理當局的計畫 (B)施琅攻下臺灣之後，為加強臺灣防務的處置 (C)朱一貴事件平息以後，雍正皇帝的治臺措施 (D)日軍借牡丹社事件攻臺後，福建巡撫的作為。(99學測)

(A)39.1830 年左右，臺灣的官員為了因應局勢，開始推動「聯莊」政策。他們編造「閑民冊」，又結合數個村莊，加以編組，實施「清莊聯甲」之法。這個政策的目的是： (A)防範遊民擾亂秩序 (B)抵抗西方國家進犯 (C)防範日本入侵臺灣 (D)削弱本地地主勢力。(99學測)

◎40~41 為題組

表一與表二是 1956 到 1986 年間臺灣四個都會區人口數與人口年成長率的資料。(99 學測)

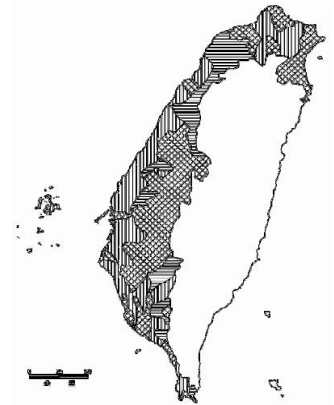
表一 (單位：千人)

	1956	1966	1976	1986
甲	1,237	2,099	3,457	4,887
乙	608	977	1,546	1,954
丙	378	560	808	1,109
丁	426	599	780	972

表二 (單位：%)

	1956	1966	1976	1986
甲	6.1	5.3	4.4	3.6
乙	4.3	4.3	3.5	1.8
丙	—	3.7	3.6	3.1
丁	6.6	3.1	2.3	2.3

- (B)40. 表一的丙都會區最可能是： (A)臺北 (B)臺中 (C)臺南 (D)高雄。
- (A)41. 表二的甲都會區到 1980 年代以後人口仍維持較高成長率的主要原因為何？ (A)經濟與社會發展，吸引大批人口移入 (B)政府推行鼓勵生育的新人口政策生效 (C)醫療資源發達，人口死亡率大幅降低 (D)為發展經濟，進用國外高級科技人才。
- (D)42. 臺灣某報刊登一則啓事，招募18歲以上，小學校或公學校畢業的青年，加入「特設勞務奉公團」，前往南洋服務，這則啓事應出現於以下哪一時期？ (A)日本占領臺灣初期 (B)第一次世界大戰前 (C)文官總督治臺時期 (D)推行皇民化運動時。(100學測)
- (C)43. 某時期，臺灣當局邀請士紳前往「內地」參訪，不僅補助旅費，還安排他們參觀現代化設施，使其認識現代文明，以利統治。我們如何理解此一作法？ (A)清朝領臺之初，以交流化解明遺民反清的意志 (B)劉銘傳治臺初期，讓士紳認識清廷的自強新政 (C)日本殖民之初，欲加強臺灣人民對日本的了解 (D)臺灣光復初期，要臺灣人民加速認識祖國文化。(100學測)
- (A)44. 某時期中，臺灣當局對入港船隻課徵關稅，來臺漢人除繳納田租外，還須申請執照，繳交費用後才可打獵、捕魚；年滿7歲者，均須繳交人頭稅。發布這個命令的人應是： (A)荷屬東印度公司總督 (B)鄭氏時期的承天知府 (C)康熙年間的臺灣知府 (D)日據時期的臺灣總督。(100學測)
- (D)45. 某地方志記載：此地製茶工房林立，茶葉產期，茶行必須僱用許多女工，多則五六十人，少則二三十人，甚至有漳、泉婦女來此短期工作，每日工資四五錢不等。這本地方志最可能是： (A)《諸羅縣志》 (B)《彰化縣志》 (C)《臺東州志》 (D)《臺北府志》。(100學測)
- (C)46. 許多人為「改革臺灣省政」召開會議，通過組織大綱，以各縣市參議會為主體成立分會，提出高度自治、廢止煙酒專賣等主張，並與政府展開交涉。這個會議與下列哪一組織最為相關？ (A)臺灣文化協會 (B)臺灣民眾黨 (C)二二八事件處理委員會 (D)美麗島雜誌社。(100學測)
- (B)47. 右圖是根據1907年前後臺灣某項統計資料所做的空間分布圖，這個地圖的主題最可能是： (A)稻作與甘蔗的分布 (B)閩粵各族群的分布 (C)瘧疾發生率的分布 (D)都市化程度的分布。(100學測)



- (B) 48.日本在臺灣殖民時期，有的糖廠會兼營水利設施。糖廠大多規定：凡使用灌溉溝渠的農民，須以甘蔗折價繳納，不收取現金或其他實物。糖廠採取徵收實物措施的目的為何？ (A)農民缺乏現金，必須配合，收取實物 (B)糖廠可掌握原料供應，以便控制蔗價 (C)農民運輸不易，希望由糖廠代為銷售 (D)糖廠為照顧蔗農，提供保證價格收購。(100學測)
- (B) 49.一位民意代表主張：「今日臺灣發電條件豐富，政府應研究鐵路電氣化的可能性，其經濟效益可提高人民所得。」主管交通的官員答覆：「關於鐵路電氣化問題，美援會研究認為需再慎重，本案中央繼續研究中。」這位民意代表最可能是： (A)1930年代，街庄協議會的議員 (B)1960年代，臺灣省議會的議員 (C)1980年代，立法院的立法委員 (D)1990年代，國會中的國大代表。(101學測)
- (C) 50.一位作家呼籲：希望作家不要身處危難，卻仍然成天做著新式或舊式的鴛鴦蝴蝶夢。我們要關心現實，寫我們的現實，主要一點便是反買辦、反崇洋媚外、反分裂的地方主義。這段話反映哪個時期臺灣的文學思潮？ (A)1950年代的反共文學 (B)1960年代的現代文學 (C)1970年代的鄉土文學 (D)1980年代的浪漫文學。(101學測)
- (A) 51.臺灣原本不產耕牛，主政者在南北兩路各設「牛頭司」，負責引進牛隻繁殖，以用於耕作。主政者並在各地修築水利設施，提供耕牛、農具與種籽；又大量招募「中土遺民」前來開墾。這是何時的情況？ (A)荷蘭時期 (B)清領初期 (C)日治時期 (D)戰後初期。(101學測)
- (A) 52.日本軍方在一份布告書中說：「我軍所向，蕃人懾服。」但當要與清國議和之際，清國政府生出異議，未能立刻達成和議。「現在，兩國商議已決，即將接受清國請求而撤軍，並將該地人民交還清國。」這份布告書應當是： (A)牡丹社事件後日軍的公告 (B)日軍占領琉球之後的公告 (C)甲午戰後日軍對臺的公告 (D)日俄戰爭期間對東北公告。(101學測)
- (C) 53.一份臺灣的考古報告記載：其居民主要住在水岸的稍高階地，已形成定居的小型聚落。他們使用石製的生產工具，如石鋤、石斧，種植根莖類的作物。這一文化分布地區廣及中國的閩南和廣東沿海。此文化遺址最可能是： (A)長濱文化 (B)網形文化 (C)大坌坑文化 (D)十三行文化。(101學測)
- (C) 54.近世臺灣開發以來，逐漸形成「大租戶——小租戶——佃戶」的土地所有與經營結構。某個時期，政府為了解決財政不足的問題，除了清查全臺土地，防止逃漏稅外，更以行政命令，剝奪某個層級地主的土地所有權，而以政府發行的公債以及現金作為補償。如此一來，政府得以向直接經營土地者徵稅，擴大徵稅對象，稅收也得以增加。這次土地所有權的變動最可能是指： (A)鄭成功實施屯田制 (B)劉銘傳行減四留六法 (C)日本取消了大租權 (D)國民政府三七五減租。(101學測)
- (C) 55.臺灣總督在就職時指出：「本政府統治方針本於『臺灣為帝國領土之一部』的精神。我們應當啟發臺人之智能德操，使其感受朝廷一視同仁的美意，希望醇化臺人，使其與內地人融洽相處，進而使臺灣與內地無異。」這位總督最可能是：(102學測)
- (A) 1895年接收臺灣，鎮壓抗日的樺山資紀
(B) 1902年肅清「臺地匪亂」的兒玉源太郎
(C) 1919年結束軍事統治的文官總督田健治郎
(D) 1936年推動臺灣進入戰時體制的小林躋造。

- (C)56.一首讚美臺灣風情的歌謠說：「海岸線長山又高，處處港口都險要。四通八達有公路，南北是鐵道，太平洋上最前哨，臺灣稱寶島。」介紹物產時指出：「四季豐收蓬萊稻，農村多歡笑，白糖茶葉買賣好，家家戶戶吃得飽。鳳梨西瓜和香蕉，特產數不了，不管長住和初到，同聲齊誇耀。」這首歌謠創作的背景最可能是：(102 學測)
- (A) 1890 年代，臺灣慶祝第一條鐵路通車典禮 (B) 1910 年代，日本總督府完成縱貫鐵路建
(C) 1950 年代，臺灣實施經濟改革，漸有成效 (D) 1980 年代，中共統戰歌謠，爭取臺灣民心。

- (D)57.下表為 1910 年到 1940 年間臺灣人口的統計資料。表中丙、丁代表的族群分別是：

年份	甲族群 (萬)	比率 %	乙族群 (萬)	比率 %	丙族群 (萬)	比率 %	丁族群 (萬)	比率 %	總計 (萬)
1910	306	92.9	1.48	0.4	12.2	3.7	9.8	3.0	329.9
1920	343	91.4	2.48	0.7	13.0	3.5	16.6	4.4	375.7
1930	425	91.0	4.66	1.0	14.0	3.0	23.2	5.0	467.9
1940	552	90.9	4.61	0.8	15.8	2.6	34.6	5.7	607.7

- (A)丙為臺灣人、丁為原住民 (B)丙為外國人、丁為臺灣人 (102 學測)
(C)丙為日本人、丁為外國人 (D)丙為原住民、丁為日本人。

- (A)58.某一時期中，一位政治人物表示：臺灣經濟仍以農業為主，農民占人口總數 60%以上，而佃農戶約占總農戶總額的 68.8%。如想要社會安定，經濟發展，必須實施此項新政策。此項新政策應是：(A)三七五減租 (B)漲價歸公 (C)土地國有 (D)肥料換穀。(103 學測)

- (D)59.一份民間刊物針對臺灣當時的政治現況提出幾點呼籲，包括：政府應依據憲法行政、總統不可擴權、總統不應連選連任；政府應保障基本人權，反對國民黨一黨專政，要求政府應當准許成立其他政黨；以及軍隊國家化。這份刊物最可能是：(103 學測)
- (A) 1910 年代的《新青年》 (B) 1920 年代的《臺灣青年》
(C) 1920 年代的《臺灣民報》 (D) 1950 年代的《自由中國》。

- (C)60.某一時期中，臺灣某地曾經發生官民衝突，事件平定後，政府不僅嚴厲處分參與者，也連帶處罰其左鄰右舍，科以相當於一個工人半年工資的高額罰款。這種情形最可能發生於：
- (A)荷蘭統治時期，因漢人人數較多，荷蘭人欲以連坐法威嚇
(B)清朝統治時期，因財政短缺，欲以高額罰款彌補軍費不足
(C)日本統治時期，為壓制臺民反抗政府，乃採行保甲連坐制
(D)政府遷臺之後，為阻止共黨勢力蔓延，乃實施保甲連坐制。(103 學測)

- (A)61.幾位同學考察「臺灣考古遺址分布圖」時，發現臺灣西部海岸很少有新石器時代遺址，各人紛紛推測造成這個現象的原因，下列哪個說法最合理？(103 學測)
- (A)西部人口稠密，開發過速，遺址遭破壞殆盡 (B)二次大戰時，美軍轟炸臺灣，遺址遭到破壞
(C)西部海岸河口沙洲發達，史前人類活動困難 (D)因斷層經過，地震頻繁，史前人類無法定居

- (C) 62.瑞芳的金瓜石曾有座戰俘營，關押了一千多名來自英、美、加拿大等國的戰俘，被迫採掘銅礦。因為生活與工作條件都差，醫藥又不足，不少戰俘命喪於此。這些戰俘的來源應是：
(A) 1860 年英法聯軍之役中被俘虜的官兵
(B) 1914 年日本與德國開戰時俘虜的戰俘
(C) 1942 年日本在東南亞戰區俘虜的戰俘
(D) 1972 年越戰期間臺灣收容的各國戰俘。(103 學測)
- (A) 63.中共史家對臺灣歷史上的重要人物施琅有頗多研究。1980 年以前，這些史家稱施琅為「背叛明朝，投降滿清的漢奸」；1980 年以後，改稱施琅「事親至孝，接受儒家薰陶」，是一位正面人物。他們對施琅評價轉變的最合理解釋是：(103 學測)
(A)學者依當局政策，調整歷史解釋立場 (B)引用西方觀點，拋棄道德史觀的框架
(C)發現新史料，得以重新評估施琅功過 (D)學術交流後，認同臺灣學者觀察角度。
- (B) 64.十八世紀中，閩南移民來臺後，多聚族而居；同姓之人，常共同興建祠堂，以強化關係。這種現象足以說明清代臺灣漢人社會的哪一項特色？ (103 學測)
(A)移墾社會重視地緣關係 (B)傳統宗族強調血緣連結
(C)弱勢移民強調團結合作 (D)原鄉信仰深入移民社會。
- (A) 65.日本統治臺灣初期，總督府認為男性留辮、女性纏足都為陋習，企圖禁止，但成效不彰。然而一段時間後，臺灣人民卻開始剪辮、放足，成為風潮。殖民官員檢討，認為這股風潮並非總督府的政策收效，而是受到其他因素影響。這位官員所指的因素最可能是：(103 學測)
(A)辛亥革命推翻滿清政權 (B)威爾遜提倡的民族自決
(C)蔣中正推動新生活運動 (D)七七事變引發中日戰爭。
- (A) 66.考古發掘顯示，臺灣早期人類原本有佩帶玉製飾品的習俗，距今將近兩千年前，開始出現各式玻璃、貝類珠串，其形制與東南亞海域各地居民之用品類似。近兩千年前臺灣出現玻璃與貝類飾品的主要原因是： (A)海外貿易讓許多商品流入臺灣 (B)玉礦枯竭，改以其他材質取代 (C)臺灣居民征服他地所獲戰利品 (D)新宗教傳入後，改變原有習俗。(104 學測)
- (A) 67.清中葉時，一位臺灣官員指出：臺灣科舉考試常有出人意料的狀況，例如政府公告考期之後，往往有福建漳、泉兩府的考生渡海來臺，報名參加考試。這些考生趕往臺灣報名應試的動機是： (A)臺灣設有保障名額，較易中舉 (B)臺灣考官腐敗，較易賄賂舞弊 (C)在臺灣任官，薪水較內地優渥 (D)臺灣物價較廉，來臺花費較低。(104 學測)
- (B) 68.1620 年代，荷蘭西印度公司在今紐約市曼哈頓島上建立一座城堡，以保護移民與商人。同一時期，荷蘭東印度公司亦在臺灣建立城堡，作為貿易據點。荷蘭人在曼哈頓與臺灣建立據點的動機之一，是蒐購這兩個地方都出產的一種商品，以供歐洲市場之需。這種商品是：(A)香料 (B)獸皮 (C)棉布 (D)蔗糖。(104 學測)

- (C)69.歐洲某國外交官員向其駐在國政府遞交一份文書，要求該國政府命令臺灣地方官員嚴辦士紳騷擾、侵害教士案件，並要求賠償禮拜堂房屋與家具損失。這份文書最可能出現於何時？
(A) 1830 年代，英商務監督照會福建巡撫 (B) 1850 年代，法國領事照會臺灣府知府 (C) 1860 年代，英駐華公使照會總理衙門 (D) 1910 年代，法駐日公使照會日本政府。(104 學測)
- (C)70.官方調查指出：近來有農民因經濟困難或希望獲取高利，乃用訂立假借據的方式，以借款抵押名義，將政府放領的土地轉售給其他地主；更有人私自將耕地改建成店面，出租牟利，這種行爲大大影響政府政策的效果。官方調查所指的政策應是： (A)減四留六 (B)三七五減租 (C)耕者有其田 (D)發展精緻農業。(104 學測)
- (A)71.民國50年代，中華民國政府開始推動「外交下鄉，農業出洋」的國際合作計畫，邀請非洲友邦領袖來臺參訪農村，也派出農業專家與援外技術團隊到非洲。這個計畫的主要目的是 (A)爭取非洲國家支持中華民國在聯合國的席位 (B)開發當地天然資源，供應中華民國所需原料 (C)輸出民主制度，促進非洲當地政治的現代化 (D)推廣中華民國成功經驗，體現儒家學說價值。(105學測)
- (D)72.臺灣總督府發布命令，強制收購輸出的蓬萊米，收購價格比市場價格低一、二成左右，但又高於島內主要消費米的在來米價。這道命令的主要目的是 (A)維護臺灣人食用在來米的文化傳統 (B)官方訂定價格，維護臺灣農民權益 (C)增加稻米輸出，確保總督府的收入 (D)管控輸往日本的稻米數量以及價格。(105學測)
- (B)73.歷史記載：「金娘，下淡水番婦，習符咒，爲人治病。大軍攻鳳山時，聘請她爲軍師。臨陣作戰時，要她唸符咒，祈求神佑。」後來大軍攻破鳳山城，大家都說金娘立了大功，被封爲「一品柱國夫人」。金娘後遭生擒，送往北京。金娘參與的是 (A)鄭成功抗清 (B)林爽文事件 (C)乙未抗日軍 (D)二二八事件。(105學測)
- (D)74.1920年代，一位人士在法院受審時的答辯書中指出：製糖會社極盡榨取蔗農們的膏血，以致農民赤貧如洗；會社中的勞動者，一日勞動的報酬，不能維持家計，其慘澹的生活，令時常目擊的我，感到無限傷心，爲此決定加入組織奮鬥。文中這位人士所提到的問題最主要是： (A)家庭的崩潰 (B)司法的迫害 (C)族群的矛盾 (D)經濟的剝削。(106學測)
- (B)75.某一時期，政府爲了吸收民間存款，特別制定〈臺灣省各行庫舉辦優利儲蓄存款辦法〉，規定每次存入金額不得低於新臺幣300元，存期不得少於1個月，利率爲月息7分（即每百元每月7元，年利率爲84%，按複利折合年率爲125.08%）。這個政策實施之後，儲蓄風氣盛行，物價上漲的速度立刻減緩。這種政策的背景是： (A) 1946年，政府因國共內戰需軍費，以高利率吸收民間存款 (B) 1950年，政府積極壓抑通貨膨脹，建立民眾對新臺幣信心 (C) 1951年，政府籌募公地放領的經費，高利率吸引民間資金 (D) 1971年，政府陸續推動大型交通建設，急需民間資金挹注。(106學測)


- (A)76.附表是1951年到1961年間臺灣農戶數百分比的統計表格，我們如何理解這段期間臺灣農戶資料的變化？ (A) 實施耕者有其田政策的成果 (B)工業發展，使半自耕農減少 (C)肥料價格上漲，自耕農棄耕 (D)政府不斷鼓勵佃農放棄農業。(106學測)

時間	自耕農	半自耕農	佃農
1951	38	25	37
1953	55	24	21
1955	59	23	18
1957	60	23	17
1959	62	23	15
1961	65	21	14

- (A)77.一位淡水海關稅務官員的報告中提到：臺北盆地修築了城牆，也蓋了新的衙門，又透過丹麥電氣工程師的協助，衙門裡裝設了電燈，各主要街道也架起了電燈。判斷這份報告在1880年代的主要依據是： (A)修城牆、電燈 (B)海關、外國顧問 (C)新衙門、海關 (D)外國顧問、街道。(106學測)
- (B)78.東北亞地區發生衝突之際，一位美國官員建議其政府，應當採取具體措施援助臺灣。他指出：「保衛臺灣人民利益及維護太平洋地區和平與安全的計畫，如果僅由聯合國推動，不可能有任何效果。只能由美國提這種方案，才會符合各方期待而且有效。」此人說話的時機最可能是：(A)1947年，臺灣發生動亂，美國計畫穩定臺灣局勢(B)1951年韓戰爆發之後，美國決定強化其東亞政策(C)1971年我退出聯合國時，美國努力安定臺灣民心(D)1978年底中美斷交時，美國要保障其在臺灣利益(107學測)

◎照片 4 甲是臺灣某地公廨改建的「太上龍頭忠義廟」；照片 4 乙是該廟的內部。祭壇供桌上有香爐、供花、長年燈和五個包裹紅色綢布的祀壺等，兩側還有稱為向缸的大水缸。請問：

- (B)79.「祭壇供桌上的祀壺和兩側的向缸」，和下列何者關係最密切？(A)客家移民崇祀三山國王 (B)平埔族群信仰的阿立祖 (C)科舉考生祭拜文昌帝君 (D)沿海漁村供奉媽祖娘娘(107 學測)



照片 4

○明清之際，移民臺灣的漢人多來自漳州、泉州、嘉應州、潮州和惠州等地區。圖7是根據1926年《臺灣在籍漢民族鄉貫別調查》的資料，以街、庄為單位繪製的「祖籍優佔區」分布圖。祖籍優佔區係指某一祖籍人口佔該地總人口比例最高的地區。：(107學測)

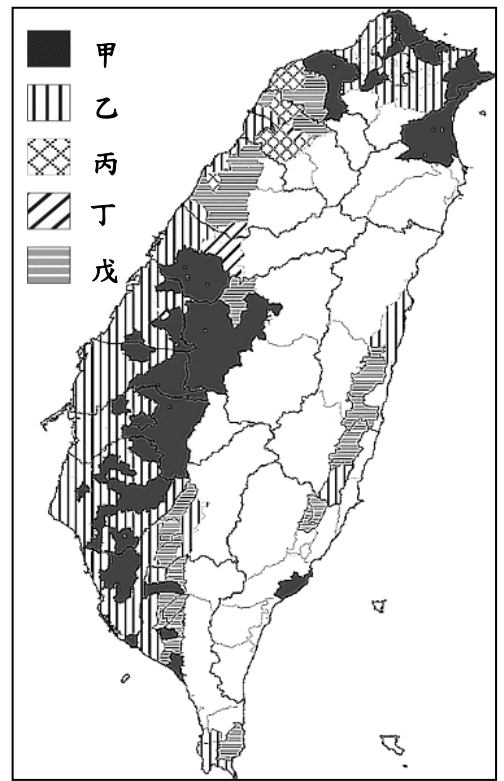


圖 7

(A)80.圖7 中哪個圖例，最可能代表漳州人的優佔區？(A)甲 (B)乙(C)丙(D)丁

(B)81.清代某地方志對民間王爺信仰有如下記載：「各坊里社廟，以王公大人稱者甚夥…廟宇大小不一，神像俱雄而毅；…王誕之辰，設王醮二三晝夜，謂之送瘟。造木為船，糊紙像三儀仗…告牒畢，乃奉各紙像置船中…推船入水順流揚帆而去則已。」該王爺信仰在哪祖籍優佔區最為普遍？(A)甲(B)乙(C)丙(D)丁

(D)82.下表為臺灣自民國 55 年到 60 年某項資料。這項資料最可能是：(108 學測)(A)農業生產占全國生產總值的比例 (B)農村地區電力照明設備的普及率(C)美援麵粉成為國民主食的普及率 (D)小學畢業生進入初（國）中的比例

年代（民國）	%
55 年	58.95
56 年	62.29
57 年	74.66
58 年	76.04
59 年	79.81
60 年	81.39

(D)83.一件史料記載：淡水廳某士紳因與佃農發生糾紛，乃強制將佃農耕種的田地收回，另行轉租給別的佃農耕種，以致激起民間鬥殺；該士紳還招募壯勇四出焚搶。朝廷認為該士紳為富不仁，目無法紀，下令閩浙總督將該士紳革職逮捕，押解到省城嚴行審辦。該史料記載的事件最可能是：(A)民眾發動反清復明的民變 (B)天地會領袖發動抗清行動(C)客家居民組成的抗日行動 (D)地方人士參與的分類械鬥 (108學測)

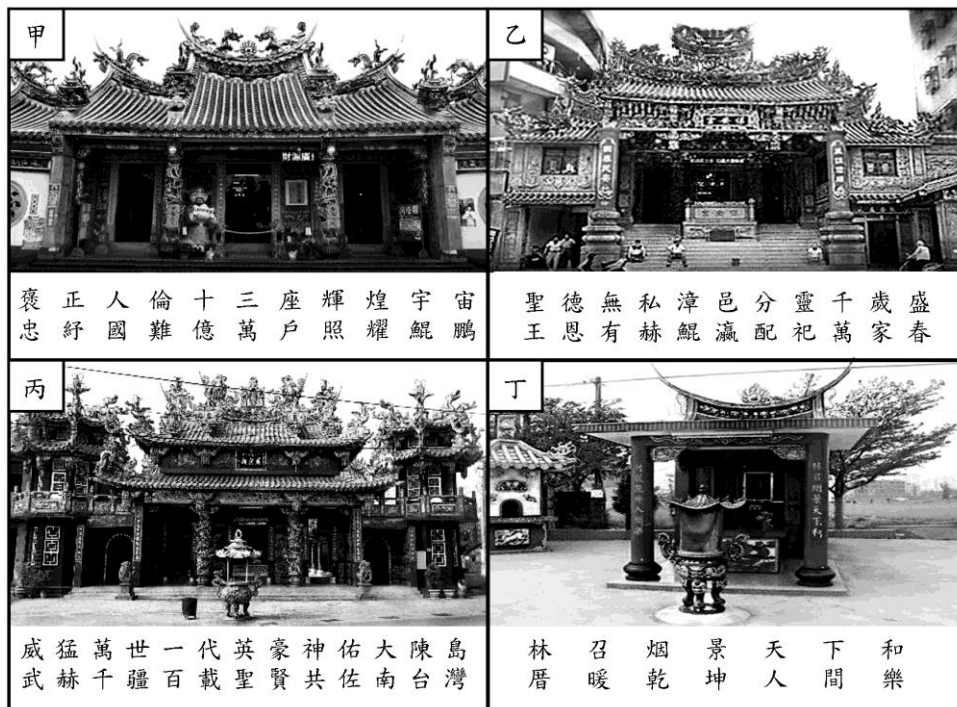
(C)84.下列哪些臺灣鄉鎮市區級地名的變遷，最能反映解嚴後政府及社會對多元族群及其文化的尊重態度？(甲)吉野→吉安；(乙)三民→那瑪夏；(丙)番社→東山；(丁)吳鳳→阿里山；(戊)紅毛→新豐。(A)甲乙 (B)甲丙 (C)乙丁 (D)丁戊(108學測)

85-86為題組

- ◎ 史料記載：某年1月11日，駐守臺灣的長官率領353人分乘3艘戎克船從位於臺灣南部的政治中心出征。船隻沿海岸向南航行時，兩艘船隻觸礁，損失一些食物。軍隊乃在島嶼西岸下船整補，從陸路越過山脈到島嶼東岸。在東岸某村社整補兩天後，沿海岸線北上，攻擊山區另一村社，達成出征目的後才撤軍，並再度越過山脈返回島嶼西岸。軍隊在海邊某村社露宿時，曾受當地社民以米飯、豬肉和雞肉款待。請問：(108學測)
- (A)85.根據題文資訊及歷史知識推論，該史料最可能描述的是：(A)荷人至東臺灣探金與原住民引發衝突 (B)明鄭時期屯墾時和大肚王國發生衝突(C)清福建水師提督到東部追擊海盜蔡牽 (D)日本警察與阿美族衝突的七腳川事件
- (A)86.從史料內容可看出當時「村社」社會的哪一特徵？(A)某些村社應已經發展出稻作農業 (B)部分村社間已建立軍事同盟組織 (C)不同村社間已有穩定的貿易關係 (D)村社的土地制度屬於部落共有制

87-89為題組

- ◎ 臺灣各地聚落廟宇甚多，規模不一，其門柱均附有對聯，揭示廟宇地點、主祀神及價值規範等相關訊息。照片是四個不同聚落廟宇的立面照，照片下方是該廟大門兩側門柱的對聯，其中照片甲對聯中「鯤鵬」是「傳說中奇大無比的神鳥」；照片乙對聯中「鯤瀛」是「海邊的新家園」之意。請問：(108學測)



- (D)87.哪座廟宇的所在地，早期血緣聚落色彩最為濃厚？(A)甲(B)乙(C)丙(D)丁
- (B)88.從廟宇的主祀神判斷，哪座廟宇所在聚落的清代漢移民，主要來自福建漳州府？(A)甲(B)乙(C)丙(D)丁
- (A)89.歷史傳統上常常將國家概念與王權或天下連結，並強調人民對國家的義務。下列四座廟宇中，哪座廟宇的門柱對聯最能顯示此種傳統的國家與人民關係？(A)甲(B)乙(C)丙(D)丁

二、中國史

- (B) 1.今人研究中國古史，多有「傳說時代」的觀念，某學者說：「從現在的歷史來看，只有到殷墟時代，才能算作進入了狹義的歷史時代。」此處所謂「狹義的歷史」是指「信史」。這位學者的意見反映了二十世紀中國歷史學家的史學方法，請問這位學者以殷墟時代為「傳說時代」與「信史」間之分野的理由何在？ (A)因為中國文獻中沒有關於殷墟時代以前的記載，故只有憑藉殷墟甲骨文的出土，我們才能得知商以前的歷史 (B)雖然中國文獻中有許多關於殷墟時代以前的記載，但學者認為必須配合地下文物的出土，才能被證明為信史 (C)中國的考古發現中最早文物出自殷墟，且歷史研究的唯一根據是地下出土的文物，故中國的信史始自殷墟 (D)中國文化淵源於殷商文化，在殷墟時代以前的歷史多非中國文化，故不是中國史的一部分。(91 學測)
- (A) 2.一位先秦思想家的著作中有〈禮論〉一篇，說明「禮」的起源是因為人各有所欲求，故彼此爭奪，結果發生亂事，於是統治者才制定「禮義」，以確立每個人應遵行的分際。請問這本著作是： (A)《荀子》 (B)《墨子》 (C)《韓非子》 (D)《莊子》。(91 學測)
- (C) 3.某一本歷史著作有如下的敘述：「在萬曆的祖父嘉靖皇帝以前，大學士為三至六人，皇帝可能對其中一人諮詢較為頻繁，但從名義上說，他和另外的幾位大學士仍處於平等的地位。這以後的情況發生了變化，張居正名為首輔或稱元輔，其他大學士的任命則出於他的推薦，……」請問其所指的制度為何？ (A)漢代內外朝 (B)唐代三省制 (C)明代內閣制 (D)清代八旗制度。(91 學測)
- (B) 4.有一項法令規定：禁止隴西李氏、太原王氏、滎陽鄭氏、范陽盧氏、清河崔氏等當今政治上顯赫的家族之間彼此通婚。請問該法令頒布的時代可能是： (A)漢代 (B)唐代 (C)元代 (D)清代。(91 學測)
- (B) 5.在一份與戶籍登錄有關的古文書記載：「戶主余善意，年二十二歲，……擁有二十畝永業田，二十八畝已受，七畝口分田，總計應受田一頃六十一畝，一畝居住園宅，一頃三十三畝未受……。」請問這份文書反映的制度為何？ (A)王莽的王田制度(B)唐代的均田制 (C)北宋的青苗法 (D)明代的一條鞭法。(91 學測)
- (C) 6.張三編寫的歷史劇「七世紀商人李生傳奇」，被學者批評其史實錯誤連連。劇中有以下幾段情節，請依據歷史知識判斷，哪一個選項依據的是正確的史實？ (A)李生到長安做生意，他選擇了位在長安城南，面對長安大街的住家，並改裝為店面 (B)接著李生來到蘇州，蘇州城內會館林立，李生在會館內認識了許多同鄉 (C)後來李生在廣州經營奇珍異寶的貿易，接觸的商人包括阿拉伯人，聽到許多阿拉伯軼聞 (D)最後，李生來到漳州，經營海外貿易，將中國的絲織品運往呂宋島銷售。(91 學測)
- (A) 7.自鴉片戰爭以後，中國知識分子多主張「師夷長技」以改革中國，而不同時代的知識分子認識的西方「長技」卻有不同。中國欲效法的西方長處，依時間先後順序排列，下列何者適當？ (A)器物→政治制度→西方思潮 (B)器物→西方思潮→政治制度 (C)宗教信仰→政治制度→西方思潮 (D)政治制度→宗教信仰→器物。(91 學測)

(D)8.以下記載是中國正史對外族的描述：

《史記》：「(匈奴)逆天理，.....以盜竊為務，.....苟利所在，不知禮義。」

《漢書》：「夷狄之人，貪而好利，被髮左衽，人面獸心。」

《新唐書》：「(回紇)貪婪尤甚，以寇抄為生。」

關於史料中所謂「盜竊」或「寇抄」的討論，以下選項何者適當？ (A)因為游牧民族生活貧困，嚮往農業民族的生活方式，常以劫掠的手段取得經濟利益，故外族入侵的確是盜賊的行為 (B)外族有盜賊的天性，道德有嚴重缺陷，在這種民族性的驅使下，不斷入侵農業民族，故外族入侵的確是盜賊的行為 (C)這些記載都出自中國統治階層，是農業民族對於游牧民族的刻板印象，並非實情，游牧民族根本不需要入侵農業民族 (D)外族的確不斷入侵，正史的記載反映了農業民族的憤怒，只是傳統正史不考慮游牧民族的立場及游牧社會的經濟特性。(91 學測)

(C)9.從十七世紀中葉一直到二十世紀初，中國人口從 1 億 5 千萬增加到 4 億以上，最主要的原因何在？

(A)沒有發生導致人口大量減少的戰亂 (B)人民生育能力提高 (C)農作物種類與產量增加 (D)領土大規模擴張。(91 學測)

(B)10.一位歷史學家在一篇研究近代中國史的論文中，描述某一事件：「最重要的就是愛國主義運動—反帝國主義運動。.....爭回我國在青島的主權；另一方面是促使青年人的自我覺醒。……《新青年》發行以後，啓蒙的中心思想凝聚在強調青年人的重要性上……。」請問此事件是： (A)辛亥革命 (B)五四運動 (C)蘆溝橋事變 (D)文化大革命。(91 學測)

(A)11.北京有一座天主教堂，在某次亂事中因為庇護信徒，遭到圍攻，死傷甚眾。事後中國政府必須出資修復。這最可能是在哪一場亂事中發生的情況？ (A)義和團事件 (B)文化大革命 (C)七七事變 (D)太平天國之亂。(92 學測)

(A)12.有位史家評論戰國時期的學說：「戰國時代，諸子百家風行一時。各家中有順勢而活動的，想要因勢利導，借助權力來改造社會；也有逆勢而動的，知其不可而為，想依據理想來改造社會。」請問「逆勢而動的，知其不可而為，想依據理想來改造社會」的，最可能是哪一家的想法？ (A)墨家 (B)縱橫家 (C)法家 (D)農家。(92 學測)

(A)13.如果我們檢視 1920 年青島海關的年度報告，會發現當時經由青島進入中國的貨物以哪一國的產品為主？ (A)日本 (B)德國 (C)英國 (D)美國。(92 學測)

(B)14.一群住在冀州（河北）的人們，為了躲避戰禍，移居到了南方揚州境內。政府特別在揚州境內設置一個也名為「冀州」的地方政府，這群人的戶籍不屬於揚州地方政府管轄，而屬於這個增置的冀州地方政府。請問這種現象最可能出現在哪一個時代？(A)漢魏 (B)南朝 (C)隋唐 (D)宋明(92 學測)

(A)15.一位大臣向皇帝建議降低賦稅，指出這項稅法實施之初，一匹絹合四千錢，所以，稅額萬錢的人家只要繳納絹二匹半；現在一匹絹合八百錢，這戶人家竟要繳納十二匹絹。根據該大臣的說法，這是關於哪個稅法的討論？(A)唐代兩稅法 (B)唐租庸調法 (C)明一條鞭法 (D)宋代青苗法。(92 學測)

- (C)16.史書記載：漢景帝時，景帝的弟弟梁孝王入宮晉見，皇帝相當親熱，得知梁孝王有五位兒子，便賜給他們五人侯爵之位，並賞賜許多物品。梁孝王死後，景帝將梁孝王所遺之國分為五份，每位侯爵一份，又把他們的爵位通通提升為王。歷史學者讀到這段故事，最恰當的解釋是： (A)皇帝友愛兄弟，也疼愛子姪，所以要提升他們爵位 (B)皇帝擔心外患，所以要加強位在邊境的梁國屏障功能 (C)皇帝擔心梁國成為帝國心腹之患，所以實施「眾建」 (D)皇帝推行開發邊疆政策，所以要邊境國梁國多發展。(92 學測)

- (C)17.某人觀察他周邊事物的變化：過去北方人習慣吃麵食，南方人則偏好米食，但近幾年來，江浙地區的城市街坊上出現不少販賣麵食的店家，農民也普遍將小麥作為主要作物，與水稻連作，以牟取利潤。這種變化最早可能發生在哪個時期？ (A)東晉 (B)中唐 (C)南宋 (D)明代。(92 學測)

- (D)18.有一本書表列了某地居民的職業結構，如下表：

	自耕農·地主	佃農	工人	商人
占總人口比例	24%	36%	30%	10%

這種職業結構最可能出現在何時何地？ (A)漢代江南地區 (B)唐代關中地區 (C)宋代關中地區 (D)明代江南地區。(92 學測)

- (D)19.一位政治人物說：「中國當然希望日本勝利。應當怎樣對日本進行協力，這是國民政府最苦心思慮的事情。」又說：「自從和平運動展開以來，英、美變本加厲，極盡挑撥之能事，使重慶方面執迷不悟，多方作梗。」所以主張向英、美進擊。這種言論最可能出現於何時？出於何人之口？ (A)八國聯軍之時，張之洞等督撫主張聯合日本，以求自保 (B)第一次世界大戰，孫中山主張聯合日本，對抗西方強權 (C)抗戰初期，共產黨員主張與日本合作，共同對抗蔣中正 (D)汪精衛建立偽政權之後，主張對日和平，共同對抗英美。(92 學測)

- (B)20.明太祖曾經想把孟子的牌位搬出孔廟。《孟子》一書中哪一句話最可能招致明太祖對孟子的不滿？ (A)「王何必曰利？亦有仁義而已矣。」 (B)「君之視臣如土芥，則臣視君如寇讎。」 (C)「非其君不事，非其民不使；治則進，亂則退，伯夷也。」 (D)「長君之惡，其罪小；逢君之惡，其罪大。」(92 學測)

- (C,D)21.近幾世紀以來，長江從一條溫馴的河川變成一條「暴河」，每到夏天雨季來臨，動輒洪水為患，損傷人命，毀壞財物。對於此種現象的解釋，何者較為恰當？ (A)宋代在長江沿岸開發梯田，導致長江流域的水土保持遭受破壞 (B)蒙古人修築大運河，對長江水系破壞甚鉅，導致洪水無法排除 (C)明代中後期甘薯等新作物的引進，導致長江中游山地過度開發 (D)明清兩代開發雲南、貴州，導致長江上游的生態環境遭受破壞。(92 學測)

- (B)22.近代中國雖不斷遭受帝國主義侵略，但並沒有像印度一般，全國都變成了殖民地。這與下面何者最為有關？ (A)俄國主張遠東政策，積極在亞洲從事政治活動 (B)美國主張門戶開放政策，讓所有國家公平參與 (C)美國提出十四點和平計畫，希望廢止祕密外交 (D)日本提倡「大東亞共榮圈」，帶領亞洲抵抗侵略。(92 學測)

- (C)23.有一副對聯：「白話通神，紅樓夢、水滸，真不可思議。古文討厭，歐陽脩、韓愈，是什麼東西。」這樣的對聯最可能出自誰的手筆？ (A)日據時代臺北帝大的學生 (B)清末就讀同文館學的學生 (C)民國初年北京大學的學生 (D)文革時期參與串聯的學生。(93 學測)
- (A)24.清末一位學者留學日本，研習法律與政治。他主張「民主革命富於破壞，中國已有東亞病夫之名，不堪服猛劑以招危亡。英日兩國皆以君主立憲而強，可資借鏡。」以下清末民初許多言論中，何者與該學者的主張一致？ (A)古代的周召共和實為君主政體 (B)革命排滿是必要而非仇殺報復 (C)天賦人權說就是主張共和體制 (D)民國主權的基礎本於全體國民。(93 學測)
- (C)25.港口邊的大街上，人群熙來攘往，偶爾夾雜幾位金髮碧眼的外國人。他們走進街旁的商行裡，和商行裡等待交易的茶商討論該地生產即將上市的春茶價格。對面的商家陳列著剛剛由洋船運抵的紡織品，吸引了大批逛街的民眾，爭相詢問款式與價格。這個場景最可能出現在何時何地？ (A)1800年，廣州 (B)1840年，上海 (C)1880年，淡水 (D)1940年，天津。(93 學測)
- (D)26.某地洪水為患，消息上報朝廷後，皇帝一方面交待工部儘速搶修潰決的堤防，勿使水患繼續擴大；另一方面責成戶部儘速調度糧食，運往災區，賑濟災民。幕僚根據皇帝之意，寫成詔書，經皇帝確認無誤後，直接送至工部、戶部等單位執行。這是哪個時期的制度？ (A)秦漢 (B)隋唐 (C)宋元 (D)明清。(93 學測)
- (C)27.學者指出：中國古代的世族原本散居各地，以農村為根據地，成為當地地方政府官員的主要來源。如果有機會的話，他們也會爭取在朝廷任職。即使在中央政府任職，死後大多會歸葬家鄉的祖墳。但是，「自某個時期起」，因為制度的變遷，許多世族成員逐漸遠離家鄉，居住在首都附近，而且不再歸葬祖墳。根據你的歷史知識，這位學者所謂「自某個時期起」最可能是： (A)秦漢 (B)魏晉 (C)隋唐 (D)宋元。(93 學測)
- (A)28.某個朝代開國數十年後，一位大臣上書皇帝，痛陳當時政府承襲前朝法令，強制百姓分家，以致社會風氣敗壞，父子間形同路人。根據你的歷史知識，這個大臣可能是哪個時代的人？ (A)漢代 (B)唐代 (C)宋代 (D)明代。(93 學測)
- (B)29.漢武帝獨尊儒術，可能原因之一是當時儒學的某些觀點，與漢武帝的政治意圖相契合。以下哪一種論點最可能符合漢武帝當時的政治意圖？(A)孟子強調民貴君輕，有助於漢武帝強化其統治的合理性 (B)《春秋·公羊傳》強調大一統觀念，可作為削弱諸侯王的依據 (C)天人感應說強調帝國萬世一系，符合漢帝國的統治利益 (D)強調禮制的儒學有助於維護貴族世家之利益，鞏固政權(93 學測)
- (A)30.中央政府認為應嚴格管制社會上到處流動的士人，以免他們違法亂紀，造成政治與社會秩序的不安；並要求地方政府應確實統計這些人的活動紀錄，在每年年底呈報給中央政府。這個現象最可能出現在哪個時期？ (A)戰國秦漢 (B)魏晉隋唐 (C)宋元時期 (D)明清時期。(93 學測)

- (C) 31.如果你是一位元代的學者，在思想上深信「心」是世界的本源，而要了解宇宙的真相，只須向內探索，不必向外格物窮理。請問你會特別肯定何人的學說？ (A)張載 (B)朱熹 (C)陸九淵 (D)王陽明。(94 學測)
- (B) 32.文化的傳承有因襲，也有損益，即使歷經百世，其因襲損益仍有脈絡可循。殷商文化距今已逾三千年，但在當代華人社會中，仍可見其傳承脈絡，其中最顯著的是下列何者？ (A)婚喪禮俗 (B)干支紀時 (C)甲骨占卜 (D)宗法制度。(94 學測)
- (D) 33.某大臣力排眾議，主張積極改革，強調：「文化輸出國不必自傲，文明輸入國也不必自卑，某一國文化為別一國所吸收，這種輸入品即為吸收者所擁有。譬如人吃豬肉，消化後變成人的血肉，誰能懷疑吃豬肉的人，他的血肉是豬的血肉而不是人的呢？」這位大臣最可能出現在哪一朝代？ (A)唐代 (B)宋代 (C)明代 (D)清代。(94 學測)
- (D) 34.日本某古寺留存有一份珍貴文件記載：「癸丑，春三月，明州（今寧波）來船二艘。其中，祥興號滿載絲綢、陶瓷，另附銅錢七萬，《史記》、《漢書》、《三國志》各十部；《四書集注》百部；佛教經典數百部。」這一份文件最早可能出現於哪一朝代？(A)漢代 (B)唐代 (C)宋代(D)元代(94 學測)
- (B) 35.某一歷史古蹟的導覽手冊描述：指揮官縱容官兵搶劫擄掠之後，又下令縱火破壞，誓言留下永久的烙印以示懲罰，還得意地說：「我不以為在藝術方面，我們能從中國學到什麼東西。」但是，有良知的文明人對此暴行無不斥責。大文豪雨果（Victor Hugo）就說：「將我們各大教堂的寶物集中在一起，也抵不上東方這處龐大輝煌的博物館。……我們歐洲人是文明人，在我們眼中，中國人是野蠻人，可是你看文明人對野蠻人幹了什麼？」這份導覽手冊描述的是清末哪一場戰爭？ (A)鴉片戰爭 (B)英法聯軍 (C)中法戰爭 (D)八國聯軍。(94 學測)
- (B) 36.中國古代帝王的典型形象是：「一手捧著儒家經典，宣示教化；一手高舉法家利劍，厲行專制。」這種帝王的典型是從哪一個朝代開始的？ (A)秦代 (B)漢代 (C)唐代 (D)宋代。(94 學測)
- (A) 37.中國歷史上有一個時期，官員們大多安於逸樂，卻自鳴清高，甚至將「居官無官官之事，處事無事事之心」，視為一種最高的道德規範。下列哪一個時期最能反映這種「當官不處理公務，做事不用心負責」的風氣？ (A)東晉南朝 (B)唐末五代 (C)南宋時期 (D)蒙元時期。(94 學測)
- (B) 38.右圖反映了中共政權在某一時期的國家發展路線，圖中的標語是：「多出鋼快出鋼，澆死美國狼。」這是哪一時期的宣傳品？
(A)抗美援朝 (B)大躍進 (C)文化大革命 (D)改革開放。(94 學測)



題組題（第 39~40 題為題組）

資料一：其時歐戰方酣，某國實行遠交近攻政策，欲與我方修好，知國父反對參戰，故願助其組織護法政府以對抗北京。

資料二：民國六年，總理黎元洪被督軍團脅迫解散國會，國人大憤，國父在滬力圖起兵護法，但缺乏經費。適有某國醫生輾轉告知國父：「如孫公有起兵護法之決心，某國願助資百萬。」國父知悉後，甚感快慰。……未幾，遂有（海軍總長）程璧光率海軍南下及廣州召集非常國會之舉。請問：(94 學測)

- (D) 39.在資料一與資料二中，「某國」是指下列哪一個國家？ (A)俄國 (B)日本 (C)英國 (D)德國。
- (C) 40.資料一與資料二敘述的歷史變化，對中國政局造成了什麼影響？ (A)洪憲失敗 (B)五四運動 (C)南北分裂 (D)中共崛起。
- (C) 41.近代有人指出：「槍桿子出政權」，古代也有人說：「天子者，兵強馬壯者居之。」中國歷史上，這種情況有時會成為政權交替的常態。下列哪一個時代最可能出現這種情況？ (A)漢朝前期 (B)唐代中期 (C)五代時期 (D)明代中葉。(95 學測)
- (D) 42.一位古董商人要出售以下文物：篆文書寫的青銅器、楷書書寫的《道德經》、甲骨文書寫的五言詩、隸書刻寫的竹簡。他最可能是何時何地的商人？ (A)唐末的洛陽 (B)北宋的開封 (C)明初的南京 (D)民初的北京。(95 學測)
- (B) 43.學者批評某個朝代頗多失禮之事，宮廷喋血衝突不絕於書，並認為這是因為這個朝代的創建沾染夷狄之風所致。這個朝代是指： (A)秦代 (B)唐代 (C)宋代 (D)清代。(95 學測)
- (D) 44.以下是清朝以後中國人稱呼西方人的幾個說法：(95 學測)
(甲)「中國稱『鬼子』其實是龜茲的轉音，只有通稱西方之意。」
(乙)「以後各式公文，凡有關大英國臣民者，不得書『夷』字。」
(丙)「茶葉大黃，外國所必需，中國不售，『夷人』何以爲生？」
它們出現的先後次序應是： (A)甲、乙、丙 (B)乙、丙、甲 (C)乙、甲、丙 (D)丙、乙、甲。
- (C) 45.這位皇帝自誇他調整國家組織的成效，使得軍、政等機關分別處理庶務，互不統屬，彼此對抗，所有大權盡歸皇帝總之，所以穩當。這位皇帝應是：(A)秦始皇(B)隋文帝(C)明太祖(D)清雍正(95 學測)
- (B) 46.一位政治家爲了鞏固政權，下令求才，強調不問道德，只要有才幹，雖不仁不孝，亦可任用。他是下列何人？ (A)漢武帝 (B)曹操 (C)宋太宗 (D)王安石。(95 學測)
- (C) 47.從某個時期開始，中國社會逐漸出現停棺多年、久喪不葬的習俗，要找到風水寶地之後才入葬。人們認爲這麼做可以帶給後世子孫功名或財富等福蔭，出人頭地。這種風俗背後反映了某種社會變動的趨勢。根據這個角度，此一習俗最早可能形成於何時？ (A)秦漢時代，因布衣卿相之局，庶民有機會出頭 (B)魏晉時期，因道教盛行，庶民才流行風水觀念 (C)唐宋之間，反映工商業與科學制擴大社會流動 (D)明清之間，反映商業繁榮，人民希望追逐財富。(95 學測)

- (C)48.中國某個朝代的前期，東北以鴨綠江與朝鮮為界，北方有蒙古韃靼、瓦剌等部族。此時期中，朝廷對境內大部分地區都能有效統治，少數民族也多臣服，但北方的邊患一直困擾著政府。這是哪一個朝代？ (A)宋代 (B)元代 (C)明代 (D)清代。(95 學測)
- (D)49.某人舉出兩個政府施政不當的例子，說明他對政治及國家運作的想法：
例一：有位正直的人，向地方官檢舉他的父親偷了一頭羊。地方官卻下令將他殺掉。從此以後，沒有人敢向政府報告事情。
例二：一位軍士每戰必敗，問他原因。軍士說是家裡有老父要奉養。政府不但不治罪，反而予以嘉獎。這個國家的軍隊從此再也無法打勝仗。(95 學測)
此人最可能是誰？ (A)孔子 (B)荀子 (C)老子 (D)韓非子。
- (A)50.二十世紀初，學者在敦煌附近的遺址中，發掘出一種用「新文字」書寫的佛經。後來有人找到一本名為《番漢合珠掌中書》的字典，才逐漸了解此種新文字的原則：使用漢字偏旁以代表各種意義。書寫時有篆、草、行、楷等書體，相當複雜。這應該是哪一種文字？ (A)西夏文 (B)藏文 (C)波斯文 (D)蒙古文。(95 學測)
- (C)51.1937 年 12 月，上海發行的報紙報導：「南京上游 29 公里處，有英、美兩國船隻遭到某國飛機轟炸沉沒。」我們如何了解這個事件？ (A)英、美自己炸沉船隻，嫁禍中國，企圖擴大在中國利益 (B)德國與美國對歐洲事務有歧見，故對美國軍艦發動攻擊 (C)日本加速在中國的侵略，開始攻擊英美在華的軍隊設備 (D)中共在長江中游發展，受到英、美兩國掃蕩，憤而報復。(95 學測)
- (C)52.唐宋間庶民文化崛起，此一現象與下列何者關係最密切？ (A)人民心態的調整 (B)社會團體的活躍 (C)經濟結構的變化 (D)生活方式的改變。(96 學測)
- (A)53.清初某人參加一個組織，該組織的成員來自各地，為了互相幫助，彼此以兄弟相稱，要「準星辰為弟兄，指天地為父母」。成員都遵守規範，不隨意洩露組織消息。這個人最可能的身分為何？ (A)運河線上的船伕 (B)成都大街上的店家 (C)山西鄉下的農民 (D)蒙古邊市中的駝商。(96 學測)
- (B)54.幾位學者討論某個時期的儒學，多數認為這個時代的儒學已經失去創造力，表現出衰微的傾向。但也有人認為：「這個時代的儒學，在思想層次或許是衰落了，但在規畫政治組織與統治政策的治術方面，卻大獲全勝。」這些學者討論的是哪個時代的儒學？ (A)秦漢 (B)魏晉 (C)兩宋 (D)明清。(96 學測)
- (B)55.某人準備出門旅行，先到城中購買相關書籍。書肆中陳列著各種指南、地圖及日常生活有關的百科全書。這些書中不僅有交通路線，甚至有菸草、海外奇珍等的介紹。這個現象最早可能出現在下列哪個時期？ (A)宋代 (B)明代 (C)清代 (D)民初。(96 學測)
- (B)56.一位官員因為在父喪期間，讓婢女服侍他吃藥，被人檢舉違反禮法，因而受到清議的批評，甚至使他的仕途受阻。這位官員最可能處於何時？ (A)兩漢 (B)魏晉 (C)隋唐 (D)宋明。(96 學測)

- (C)57.一位清代官員討論當時稅收制度，表示：「各省州縣地方收稅多以銅錢為主，但換成白銀交到中央。各省鹽商賣鹽也是收銅錢，交稅時卻須交白銀。原本銀價便宜，兌換時還有些利益，但現在銀價不斷上漲，每兩白銀值一千六百個銅錢。所以地方官必須墊賠，鹽商也視交稅為畏途。」爲了因應這種情況，他提出解決的方法是： (A)官員收取的「火耗」歸公，禁止官員中飽私囊 (B)規定收稅或買賣禁用銅錢，改用白銀以免兌換 (C)禁止鴉片進口，避免白銀外流，解決銀價問題 (D)改變貨幣制度，廢除銀兩，改用新式銀元紙幣。(96 學測)
- (D)58.有一個社會階級，成員原本必須要「通達儒學，取得功名」。但後來有些靠「戰功」起家的人，厚積家財後，開始模仿這個階級的行爲，也興建學塾、修撰宗譜，希望美化其家世，社會上也普遍認爲他們是這個階級的成員。這些以「戰功」起家的人應當是下列哪種人？ (A)東漢初追隨光武帝建立政權的功臣 (B)北周時參與宇文泰關隴集團的豪族 (C)南宋初年協助官軍抵抗女真的義軍 (D)清朝中葉協助政府平定亂事的漢人。(96 學測)
- (B)59.一位駐守外地的官員，趁皇帝在東北前線親征的機會舉兵造反。他的手下爲他擘畫了三個方案：上策是儘速進入關中，中策要攻入洛陽，下策則爲南下江淮地區。皇帝聽到有大臣興兵作亂，立即率軍南返，收平叛亂。這件事應發生在何時？ (A)秦漢 (B)隋唐 (C)宋元 (D)明清。(96 學測)
- (C)60.一本書中提到：「從上海到南寧最快的方法，先要乘大輪船到香港，接著乘廣九鐵路到廣州，再轉到三水，從三水坐輪船到梧州。從梧州到南寧只有小火輪可乘，要走三天。如果能搭上單引擎飛機，只要幾個小時就可以從南寧到廣州。」這種交通條件最可能出現在何時？ (A)1870 年 (B)1900 年 (C)1930 年 (D)1960 年。(96 學測)
- (B)61.考古學者在印尼發現某些沿海居民家中，至今仍使用中國明朝瓷製器皿。這些瓷器最可能的來源爲何？ (A)明朝鼓勵海外貿易，瓷器銷往印尼，數代累積而來 (B)當地民眾常能從遭海難的明朝船隻中尋獲貿易瓷器 (C)清初中國沿海居民移到該地，隨身攜帶器皿之遺留 (D)中共文革結束之後，商人將大批古物運到當地販售。(97學測)
- (A)62.某朝代建國之初，有人建議記取前朝未能善用大亂後「勞民易爲治」的有利條件，反而過度役使民力，終於導致民眾叛亂而亡國。本朝制度承襲前朝，若不能記取歷史教訓，更新制度，可能會步上前朝亡國の後塵。「某朝代」是指： (A)西漢 (B)西晉 (C)宋朝 (D)清朝。(97學測)
- (B)63.一位反抗軍領袖在起事之初，本以宗教爲號召，稍後爲了要爭取民心，改採取民族大義爲主要訴求。最後，他推翻異族，建立政權。這位政治領袖是：(A)劉邦(B)朱元璋(C)洪秀全(D)孫中山。(97學測)
- (A)64.史家評論道：這個朝代的帝王年壽都不長，以致皇家嫡傳世系屢次中斷，經常出現由宗藩入繼帝位，而引發太后臨朝、外戚主政的現象。這個朝代是指：(A)東漢 (B)唐朝 (C)北宋 (D)清朝。(97學測)
- (A)65.這個時期的宗族組織機能完整，族人間患難相助，經濟上相互依賴；族長代表本族，可率領族眾參加戰爭；若族人違反規範，就在宗廟前聚集族眾施以處罰。這種兼具政治、經濟與軍事共同體型態的宗族組織，可能出現在何時？ (A)西周 (B)秦漢 (C)唐宋 (D)明清。(97學測)

- (C) 66. 一位西方人記錄他在中國旅行的見聞，指出：「這個城中，男女比例為1：2，很多人新近才從外地遷來，與我先前看到的中國城市不同。此地的婦女徒步或騎馬公開地在大街上招搖過市，一點也不害怕外國人。」這應當是何時何地的情況？ (A)1750年的北京 (B)1810年的上海 (C)1860年的南京 (D)1900年的廣州。(97學測)
- (B) 67. 文學家批評當時的考試制度使士人講究雕琢、堆砌的文詞，滋長浮華的士風，他們主張文學應著重表達作者從經典中獲得的理念，反對當時社會上流行的文學風格。這種文學觀念最早可能始於何時：(A)兩漢 (B)唐朝 (C)宋朝 (D)清朝。(97學測)
- (A) 68. 一篇題為〈消失的城市〉的文章裡，考察古代中國曾經存在、但至清朝已經消失的城市。此文所謂「消失的城市」主要分布在哪個地區？ (A)陝西省(B)浙江省(C)湖北省(D)廣東省。(97學測)
- (A) 69. 一份考古發掘報告說：「最令人震驚的發現是一個如真人尺寸大小的銅像，他有一張瘦削的臉，臉上有巨大的眼睛；另外還有41個大小不一的青銅銅像，其中有一些還戴著黃金面具。其宗教活動和商朝以及周朝初期的情況判然有別」。根據這份考古報告，學者可以做怎樣的合理推測？ (A)古代中國文明的多元性 (B)銅像製作技術較商周高 (C)宗教儀式始於周朝後期 (D)證明夏朝文明曾經存在。(98學測)
- (A) 70. 明初政府規定：「民間寡婦三十以前夫死守制，五十以後不改節者，旌表門閭，免除本家差役。」這項法規反映了明朝怎樣的社會情況？ (A)婦女道德規範的嚴格化 (B)致力提升婦女社會地位 (C)政府鼓勵敬老尊賢風氣 (D)政府重視婦女社會福利。(98學測)
- (D) 71. 一位民國時期的文人撰文紀念友人道：「他是中國思想界的一個清道夫，他把啓蒙的水灑向那孔孟瀰漫的大道上。因此時時被那無數吃慣孔孟的老頭子們跳腳痛罵，怪他不識貨。有時候他顯得疲乏了，失望了，忽然遠遠的覩見那望不盡頭的大路那一頭，好像也有幾個人在那裡灑水清道，他的心裡又高興起來了。」上文中「灑水清道」的人是指誰？ (A)嚴復 (B)梁啟超 (C)康有為 (D)陳獨秀。(98學測)
- (D) 72. 一本古代算數書列了一道例題：「今有大夫、不更、簪裹、上造、公士凡五人。共獵得五鹿，欲以爵次分之，問各得幾何？」書中記載正確答案是：他們依次分別得到 $1\frac{2}{3}$ 、 $1\frac{1}{3}$ 、 1 、 $\frac{2}{3}$ 、 $\frac{1}{3}$ 隻鹿。請問，這題算數反映了古代中國社會的哪項特色？ (A)年齡在鹿肉分配上的重要性 (B)古代中國人特殊的數學觀念 (C)個人的地位由獵鹿活動決定 (D)不同爵位者的分配權利差異。(98學測)
- (C) 73. 兩位士族出身的文人，回憶了時代和家族出路。甲文人雖然看到戰亂使其家族前途未卜，但他相信，如果他的子弟想要出仕為官，應該不會有什麼問題。乙文人對於士人家族的前途同樣感到渺茫，但他所處的時代，官員們幾乎不可能為其後代子孫的仕途提供庇護。請問，甲、乙兩位文人最可能分屬於哪一朝代？ (A)秦朝、唐朝 (B)元朝、清朝 (C)魏晉、宋朝 (D)漢朝、唐朝。(98學測)

- (B)74.教科書描述某一古都：「這個城市的人口大約一百萬，外國人可能占了三分之一。城內圍隔成一百多個坊，除了皇城、中央官署外，還有東、西兩個市場。如果有機會拜訪這座城市，你會因為眾多的佛寺而感到震驚。宴會上常可看到外國女子組成的樂隊，坐在駱駝背負的平臺上表演，演奏著類似吉他的琵琶。」這最可能是哪一座都城？ (A)東漢的洛陽 (B)唐朝的長安 (C)北宋的汴京 (D)清朝的北京。(98學測)
- (B)75.在中國某個朝代中，皇帝頒下詔書，一個官員反對這個命令，並在詔書上寫下他的看法。其他官員趕忙勸阻，認為這對皇帝不敬，但這位官員表示這是法律賦予他的職責。皇帝知道此事後，非但沒有責備，反而嘉許他能防範詔敕可能發生的錯誤。這個故事最可能發生在何時？ (A)兩漢 (B)隋唐 (C)兩宋 (D)明清。(99學測)
- (B)76.一位年輕人曾經通過縣裡的考試，中了秀才，卻必須再前往省城師範講習所唸書，以便將來可以找個事做。回到家鄉教書時，課本已經改變，要教算數，不再教千字文。而每個縣中都設置勸學所，以便提倡新式的教學，原本設在關帝廟的學堂也改稱高等小學。這位年輕人生活在哪個時期？ (A)清朝中期 (B)清末民初 (C)抗戰期間 (D)光復初期。(99學測)
- (B)77.某一時期中，農民開始開墾荒地，改善灌溉措施，並使用各種役畜，也用各種有機肥料，以增加農作收穫。逐漸形成定耕，並獲得土地的所有權。這種情況最可能出現在何時？ (A)西周前期 (B)戰國時期 (C)西漢末期 (D)魏晉時期。(99學測)
- (C)78.評論家討論右圖的畫作，說畫家精研透視法，對物體的結構、光影效果十分了解，也注重物像解剖，花瓣、枝葉畫得都維妙維肖。這幅畫作應當是：(A)元代的工筆畫，受到阿拉伯人的影響(B)明代的文人畫，受到知識分子的啟發(C)清代的宮廷畫，受到西方教士的教導(D)民國的寫意畫，受西方抽象畫的影響。(99學測)
- (D)79.兩位學者各自根據其閱讀史料，提出對漢代社會型態的看法。甲學者認為漢代社會是地緣社會，聚落內部的血緣聯繫不強；乙學者則認為漢代是血緣社會，聚落內部同姓的力量強大。我們應如何理解兩位學者意見的差異？ (A)甲學者的主張符合古代宗族瓦解後的形勢，較為合理 (B)乙學者的看法反映出古代社會的延續性，較具說服力 (C)兩位學者立場相反，正可說明歷史解釋缺少合理基礎 (D)古代地域社會間差異甚大，不應該只有一種社會型態。(99學測)
- (B)80.學者指出：明清之際，江南出現了「婦女半邊天」的說法，顯示江南婦女的家庭地位日益重要。這種現象的發生最可能與下列何者有關？ (A)通俗文化盛行，平民識字率提高，婦女在家庭中的地位因而提高 (B)棉紡織業興起，以女性為主的手工副業成為家庭經濟的重要收入 (C)引進甘藷、玉米等新作物，改變農業生產方式，提高了婦女地位 (D)江南地區人口大量外移，性別比例失衡，女性地位因而日益重要。(99學測)



- (B)81. 某州長官希望任用張三為其僚屬，但人事官員卻以「資籍不當」為由，不同意這項任命。當州長官表示一定要任用此人，人事官員嚴肅地說：「州僚屬的任命必須經過本地人的評議，我是本地人，既然不同意，長官就不應違反這個制度。」這樣的場景最可能發生在： (A)兩漢 (B)南北朝 (C)中晚唐 (D)宋明。(99 學測)
- (C)82. 北魏孝文帝與漢人大臣討論統治人才的來源時，大臣主張應該以能力作為甄選人才的標準，孝文帝卻強調人才出自門第，應以門閥地位作為人才選拔之基準。關於此事，以下敘述何者較為適當？ (A)孝文帝漢化程度甚深，因而強調門第價值 (B)漢人大臣重視軍功，因而強調能力的重要 (C)重視門第是為保障鮮卑貴族的政治地位 (D)為了重用南方士族，因而強調依門第取士。(100學測)
- (D)83. 清末知識分子認為：「天下積弱之本，必自婦人不學始。」他們主張「興女學」，呼籲婦女應受教育，因為幼兒教育倚賴母教，女子教育的好壞實為國家強弱的依據。這時期士人鼓吹女學的主要背景為： (A)認同國際社會以婦女識字率為國力強弱的指標，故有此主張 (B)回應法國大革命中的人權主張，積極肯定婦女受教育之權利 (C)受西方女權主義影響，也效法西方，積極鼓吹婦女接受教育 (D)主張強國必先強種，鼓勵婦女讀書識字，以培育優良的後代。(100學測)
- (A)84. 幾位同學討論某一主題時，各自發表意見如下： (甲)中國皇帝權力來自上天，不受監督與制衡 (乙)時代愈晚，相權愈輕，皇帝直接掌理朝政 (丙)中央政府設有言官，提出建言，針砭朝政 (丁)地方長官有一定任期，接受中央政府遷調。這幾位同學討論的主題最可能是： (A)傳統政治的特質 (B)言官的政治功能 (C)政統與道統衝突 (D)中央與地方權限。(100學測)
- (B)85. 16世紀以後，白銀通過菲律賓、日本進入中國，從而導致中國經濟發生相應的變化，形成「白銀—銅錢」的貨幣體系。1800~1900年間白銀兌換銅錢數量的變化趨勢應當是： (A)銀價穩定下跌 (B)銀價穩定上漲 (C)銀價先跌後漲 (D)銀價先漲後跌。(100學測)
- (B)86. 幾件獸首銅像在一場藝術品拍賣會中公開，供收藏家競標，引來中國政府抗議。這些獸首銅像原本來自北京圓明園，在晚清一場戰爭中遭到外人掠奪，這場戰爭之後，清廷痛定思痛，開始改革。這場戰爭是： (A)鴉片戰爭 (B)英法聯軍 (C)甲午戰爭 (D)八國聯軍。(100學測)
- (C)87. 一位學者主張：政府施政應該配合農民生產活動的季節與時序，如此才能增加生產，糧食供應不虞匱乏。這種想法最早出現於何時？ (A)新石器時代早期，農業生產開始發展時 (B)周公東征時，為解決軍食提出這種主張 (C)戰國時期，各國均鼓勵生產，擴大稅收 (D)秦始皇統一中國，以天下蒼生福祉為念。(100學測)
- (D)88. 揚州城呈現出一幅忙碌的景象：市場裡，搬運工人正將來自湖北的稻米運到倉庫裡，港口邊，工人將棉布整齊地堆疊在一起，準備運上船，銷售到全國各地。一旁的茶樓裡，交易的商人正在結算著買賣的價格。這是哪個時期的景象？ (A)南朝時期 (B)唐朝中期 (C)北宋末年 (D)明朝後期。(100學測)

- (C)89.中國某一個時期中，許多人呼籲總統賦予內閣全權，召開全國和談大會，並要求：改組內閣，網羅全國和平民主人士，充實和平的內容。他們甚至計畫發動國人，一致擁護和平；更希望美、蘇、英、法等強權能諒解，支持中國希望和平的想法。這個事件的背景是： (A)1912年辛亥革命後，革命黨人對清廷的呼籲 (B)1937年中日戰爭爆發後，學界對政府的希望 (C)1949年國共和談期間，政界對國民黨的建議 (D)1950年舊金山和會召開前，新聞界所提建議。(100學測)
- (A)90.春秋晚期，鄭國的執政大夫子產將刑法鑄於銅鼎，公布法律條文使國人周知。此舉引發鄰近晉國貴族之疑慮，認為人民可有成文法律做為靠山，據此爭取自身權益，極可能威脅既有的社會穩定及政治秩序。子產的改革與晉國貴族的疑慮，可以說明當時社會的哪種現象？ (A)平民興起漸成為國家中堅力量 (B)政府的行政權萎縮，民權增強 (C)貴族立法鎮壓百姓以維護封建 (D)司法解釋與裁量改由人民主導。(101學測)
- (B)91.一篇論文裡的關鍵詞有：中日關係、山東問題、胡適、巴黎和會。這篇論文討論的主題最可能是： (A)庚子拳亂 (B)五四運動 (C)瀋陽事變 (D)七七事變。(101學測)
- (B)92.學者指出：某個時期的農村市鎮主要分布在黃河中、下游和長江三角洲；黃河中、下游的市鎮數量很多，但每個市鎮的貿易額卻不大；長江三角洲的情況恰好相反，市鎮數量少，但每個市鎮的貿易額都很大。不過，政府在兩個地區所收的商業稅大致相等。這種經濟現象最可能出現於何時？ (A)唐代前期，江南地區漸次開發 (B)北宋時期，商業繁榮市鎮興起 (C)蒙元時期，華北經濟漸趨沒落 (D)明代時期，江南市鎮經濟擴大。(101學測)
- (C)93.一位官員指出：為紓緩市場銅錢不足問題，政府應當禁止民間鑄造銅器。經大臣討論後，向皇帝建議：除銅鏡之外，禁止民間以銅為原料，鑄造器物。此事最可能發生於： (A)秦朝，統一六國後，為促進商業活動，鼓勵民間自鑄銅錢 (B)西晉，因漢末大亂後，百廢待舉，政府希望擴大銅錢流通 (C)晚唐，因商業漸繁榮，貨幣不足，必須確保銅錢供應充足 (D)清中期，因白銀流失日趨嚴重，朝廷下令，擴大銅錢流通。(101學測)
- (D)94.古董商販售一批聲稱是從河南安陽出土的甲骨文書，指出：這批書寫於牛肩胛骨的文物，主要內容為土地交易契約。幾位同學發表看法，下列何種說法最可信？ (A)這批文物從河南安陽出土，又有甲骨文書，應當是真品 (B)刻寫在牛肩胛骨，而非書寫在龜甲，故極有可能為贗品 (C)甲骨文直到清末才出土，無法偽造，這批文物應為真品 (D)商代並無土地交易行為，自然不可能有契約，應為贗品。(101學測)
- (A)95.西方商人到中國貿易時，地方政府常藉各種名義收取費用，令商人不勝其擾。在一場戰爭後，中國政府同意各國商品除繳交5%的進口關稅外，不用再繳納任何雜費。從此以後，各國貨物正式繳稅進口，到各處販賣。這場戰爭是： (A)鴉片戰爭 (B)英法聯軍 (C)甲午戰爭 (D)八國聯軍。(101學測)
- (D)96.1907年，湖廣總督張之洞建議朝廷：禁止書舖販售「某類物品」，違者重罰查封；並通令各省學堂，禁止學生購閱，違者逐出校門；令外務部商請總稅務司轉飭各郵政局，查禁銷毀，不得代寄。張之洞建議禁售的「某類物品」應是：(102學測)
(A)天演論之書籍 (B)基督教宣傳冊 (C)憲政體制叢書 (D)鼓吹革命書刊。

- (A) 97.教科書往往反映當代的時局與世變。某一時期，小學課本中有一個單元名稱爲「一個惡魔」，說「帝國主義是什麼？帝國主義是一個惡魔。他一隻手裡是算盤，一隻手裡是武器。他有兩副面孔，打算盤的時候，他的面孔好像很和善，但是，使用武器的時候，他的面孔就變得兇惡無比了。」還說：「他恐怕人家不如他的意，就想同人家訂不平等條約。」這應當是哪個時期的課本？(102 學測)
- (A)新文化運動時期 (B)對日抗戰時期 (C)文化大革命時期 (D)臺灣戒嚴時期。
- (B) 98.一本書的作者批評當時的社會現象，指出：世人喜歡利用祖先彰顯自己，例如王家已經遷居本地數代，但王某詩文集中卻仍標示百年前的祖籍，以證明家世顯赫。這本書最可能是：
- (A)漢代《風俗通義》(B)唐代《史通》(C)南宋《夷堅志》(D)清代《皇朝通考》。(102 學測)
- (C) 99.一位政治人物呼籲：全國各黨各派要放棄歧見，停止內戰及一切敵對行爲；大家應當團結一致，抵禦外侮，集中力量來奮鬥救國。這種說法應是：(102 學測)
- (A)曾國藩對太平天國將領的招降公告 (B)民國初年袁世凱稱帝時的登基宣言
(C)九一八事變以後毛澤東的抗日聲明 (D)抗戰勝利後蔣中正號召團結的主張。
- (D) 100.秦漢時期實施郡、縣二級的行政區劃，最基層的地方行政長官爲縣令（長），負責管理地方，統籌稅收。當時縣令（長）如何產生？(102 學測)
- (A)根據宗法，父死子繼 (B)皇帝分封，冊命任用
(C)由郡守指派下屬擔任 (D)由中央政府直接任命。
- (D) 101.此一時期，君權高張，對於大臣、高官並不尊重。官員如觸怒天子，可能當眾遭到責罰，甚至押到午門外杖刑，年紀大的官員往往死於杖下。這本不是當時法典規範的刑罰，皇帝卻藉此樹立威望，壓抑大臣。這場景應發生於何時？(102 學測)
- (A)漢代 (B)唐代 (C)元代 (D)明代。
- (C) 102.蔣中正在日記中記載：最近，中共代表向美國表示，中共必須重視莫斯科的意見，美國想調解國共關係，必須先徵求俄國同意。此段記載最可能出現於何時？(102 學測)
- (A) 1924 年國民黨實施聯俄容共之際 (B) 1937 年七七盧溝橋事變爆發之後
(C) 1946 年二次大戰後中國發生內戰 (D) 1958 年中共發動八二三砲戰之前。
- (D) 103.民國成立後，清史研究日漸盛行，對於清初「文字獄」提出了新的觀點與解釋。學者研究指出，部分民間傳聞與歷史事實之間有很大的差距。下列對此一現象的說明，何者最合理？(102 學測)
- (A)民間傳聞係來自革命黨人的醜化 (B)學者受科學史觀影響，否定傳聞
(C)清代檔案偏袒皇帝，立場不客觀 (D)宮中檔案開放，學者找到新事證。
- (D) 104.某人參訪都城後，認爲首都氣象萬千、地理形勢佳，唯須仰賴東南的糧食。他說：前朝雖重修大運河，但糧米主要以海路運輸；本朝重新疏通運河，以利南方米糧北運。這是何時的首都？(A)東漢洛陽 (B)唐代長安 (C)宋代汴京 (D)明代北京。(103 學測)

(B)105.某一時期，朝廷給予官員合法占田的特權，官位越大，土地越多。同時，許多大族家中動輒擁有千百名奴僕，依法均不需負擔稅役。這最可能是哪一時期的現象？(103 學測)
(A)戰國時期，戰爭頻仍，藉以爭取大族合作 (B)晉朝，世家大族基礎雄厚，皇帝亦需妥協
(C)南宋，為對抗北方金人，以特權換取支持 (D)清初，南方未統一，以優厚條件吸引歸順。

(C)106.西方學術傳到中國時，引起許多人的學習興趣。某位皇帝對數學非常有興趣，儘管國事紛擾，南方還有重臣叛變，他仍與幾位數學家一起研究科學，計算各種幾何問題。這位皇帝最可能是：(103 學測)
(A)向馬可波羅學習西方科學的元朝皇帝 (B)在宮廷討論歐基里德數學的明朝皇帝
(C)向耶穌會傳教士學習數學的清初皇帝 (D)在同文館學習數學、幾何的清末皇帝。

(D)107.附圖是近代新式學堂教科書的課文及插圖，從課文的敘述與插圖的呈現，其內容最可能反映了哪一種時代思潮？ (103 學測)
(A)尊君思想，以維護皇室地位 (B)強化團練，以防止內亂再起
(C)排滿思潮，以推翻滿清政權 (D)保國強種，以對抗列強侵略。

(D)108.一個民族在中國建立政權後，國君諮詢學者，以了解統治中國之術。一位漢人建議：「為政應以原本法令為主，並參酌中國制度」。這種說法引起該民族的王公大臣反對，認為中國僅是帝國的一部分，不必重視，而統治者也不需採用亡國者的制度。這個統治民族是：(103 學測)
(A)女真 (B)鮮卑 (C)契丹 (D)蒙古。



(C)109.某人回憶小時候至京城，看見城內建築十分雄偉，街道旁盡是青樓畫閣，寶馬奔馳在御路大街上。店舖裡陳列海外的奇貨珍寶，茶坊酒肆人聲鼎沸，夾雜說書聲，餐館夜間也常高朋滿座。父親說：這是百年無戰爭所創造的繁榮。這座京城應是： (A)東漢洛陽 (B)唐代長安 (C)北宋汴京 (D)明初北京。(104 學測)

(D)110.學者討論中國歷史上的某個朝代時，有人認為當時皇權專制盛行，社會停滯，思想僵化，可說是一個「黑暗時代」。但有學者不同意這種說法，主張當時商品經濟繁榮，類似今日資本主義的情況；出版事業發達，學術流通快速；知識分子還常常組織社團，發表對時事的意見。這些學者討論的是哪個朝代？ (A)唐代 (B)宋代 (C)元代 (D)明代。(104 學測)

(C)111.某一時期，朝廷一改前朝實施的兵農合一制，改採募兵制度。招募軍隊時，特別製定「兵樣」(體格標準)，凡體格強健、符合兵樣標準的士兵，優先編入京師軍隊，不符合者則分發到地方服役當差。這是何時的情況？(A)漢初，擴充軍隊，以保衛京師(B)唐代，設立標準，以揀擇府兵(C)宋代，強化禁軍，以強幹弱枝(D)明代，改革衛所，以防止逃役。(104 學測)

- (D)112.一位記者報導某次軍事衝突：在衝突爆發後，北京郊區一座車站被毀，電報線遭切斷，各國在北京人員無法對外聯絡。使節團立刻派人向外求援，緊急調集數百名官兵，進駐使館。20多艘外國軍艦也迅速集結在天津附近，準備登陸。這個事件應當是：(A) 1858年的英法聯軍(B) 1884年的中法戰爭(C) 1894年的甲午戰爭(D) 1900年的八國聯軍。(104 學測)
- (B)113.資料一：漢初的諸侯國有自己的朝廷、軍隊，可自行任命官吏，向人民收稅，但丞相由中央派任。資料二：漢初法律文書記載，皇帝禁止不同諸侯國的人民相互通婚，士人不可以游仕諸國。綜合兩則資料，最能說明漢初哪種現象？ (A)皇帝鼓勵諸侯推行地方自治 (B)皇帝與諸侯的權力關係緊張 (C)諸侯重視人民維持血統純正 (D)諸侯強調人民應當安土重遷。(104 學測)
- (A)114.某網站計畫拍賣一批古物，聲稱是戰國時期的墓葬所出土之文物，包括：銅鏡、竹簡、毛筆與佛像。我們根據歷史知識可以判斷至少有一件文物必為贗品。這件文物應是： (A)佛像 (B)毛筆 (C)銅鏡 (D)竹簡。(104 學測)
- (C)115.一位西方人士觀察中國時，提到：「報紙上出現許多新名詞，『教育』就是一個使用頻率很高的新詞，用來區別過去使用的『授業』。一位名人則認為：教會學校從道德和知識兩方面著手，教育小學生，遠比傳統私塾要好。因為中國傳統私塾只是教給小學生許多難以理解，無法消化的倫理綱常大道理。」這種「新教育」的發展情況與下列哪個事件關係最為密切？(A)自強運動 (B)義和團事變 (C)新文化運動 (D)文化大革命。(104 學測)
- (D)116.有位學者批評：自從政府確立「官方之學」以後，讀書人只重視官府提倡的經典注釋，反而較少研讀《論語》、《孟子》等原典。他們只知道必須按照考試要求，並熟讀範文，才能通過考試。這位學者批評的是： (A)漢武帝獨尊儒術，設立五經博士，提倡章句之學 (B)曹魏以能力取才，不重視學術，士子無意於經典 (C)唐宋科舉取士，士人只知讀古書，無法服務社會 (D)明清科舉講究八股作文，士子重視練習科舉格式。(104 學測)
- (B)117.一位官員上奏朝廷：「水師提督一職至關重要。賊眾已經無法在陸路造成影響，如果水師戰勝，則賊眾自然敗走臺灣。如果水師不勝，則賊眾仍將盤據廈門。若要想與賊眾決一死戰，必須倚賴水師提督。」這個奏摺的背景是： (A)明末官員要驅逐在東南沿海的倭寇 (B)清初官員要驅逐鄭成功的殘存軍隊 (C)清末官員希望驅逐廣東的英國商人 (D)甲午戰爭時官員要驅趕進犯的日軍。(104 學測)
- (B)118.一部地方志記錄某地區各縣的人口情形，內容顯示：地方官員除了登記當地居民的種族等級、宗教信仰外，也開始依職業將居民分成不同類別。方志中這種居民分類方式，最早可能反映何時的情況？ (A)宋代 (B)元代 (C)明代 (D)清代。(104 學測)

- (A)119.兩派人討論施政方向，有人認為：殷代的盤庚住茅屋，舜故意把黃金藏起來，漢高祖也禁止商賈當官，就是要遏止貪鄙之俗。也有人表示：各地設置運輸官員，方便運送貨品，可以賤買貴賣，平抑物價，都是便民的作法，有何不好？這兩派人討論的情況最可能是 (A) 漢代的經濟措施(B)宋代的商業稅收(C)明代的海外貿易(D)清代的自強新政。(105學測)
- (A)120.兩個鮮卑大臣議論國政時發生爭執，一人口操漢語，引用儒家理念發表議論，另一人責罵他為「漢兒」。這個現象最早可能發生在 (A)北朝後期，實施漢化改革政策後 (B)隋、唐前期，種族融合形成之後 (C)五代十國，契丹南下打草穀之時 (D)北宋初年，北亞民族南下中原時。(105學測)
- (D)121.某一時期中，有些人擁有「特殊身分」，他們雖不能任官，卻可免除徭役，不被胥吏侵擾；他們與士人相同，可以用官禮參見官員，也可免於笞打等刑罰。因此，人們讀書不一定要求取官職，倒是希望獲得「身分」，可以保障身家。這種「身分」是指 (A)漢代的孝廉 (B)唐代的明經 (C)宋代的禁軍 (D)明代的生員。(105學測)
- (D)122.明末清初的西洋傳教士在中國傳教，往往必須借助於傳教以外的學識，才能受到朝廷的重視。如耶穌會教士南懷仁因擁有西方學問技藝而擔任許多職務，除為大家所熟知的欽天監外，他最可能還在哪個政府部門任職？(A)吏部(B)戶部(C)禮部(D)工部。(105學測)
- (A)123.某一時期，朝廷重視海路互市，開放沿海地區，以便與阿拉伯半島的大食、印度半島的注輦 (Chola)、東南亞的蘇門答臘、爪哇、占城等地貿易，商人甚至遠從麥加前來。政府因此在廣州、泉州、杭州、明州、密州等港口設市舶司，發給貿易執照，征收貨物稅。請問政府設立機構管理海上貿易活動，最早始於何時？ (A)唐代 (B)宋代 (C)元代 (D)明代。(105學測)
- (D)124.某國一位國會議員批評某次軍事行動，認為當初遠東軍司令部表示：只要派幾艘軍艦在海面行駛，中國就會退兵。現在我們派了這麼多軍艦前往中國，也不見中國退兵。司令部還說，如果能占領臺灣，中國必定派人求和，現在我們也攻打臺灣，還沒有聽說中國有求和的意思。這場戰爭的軍費，就讓遠東軍自行負擔，國會不應當為這次軍事行動付錢。該國會議員所提的軍事行動是 (A)1840年鴉片戰爭 (B)1856年英法聯軍 (C)1874年牡丹社事件 (D)1884年中法戰爭。(105學測)
- (B)125. 清朝末年，一位外交官員前往某國參觀該國閱兵，回北京後報告：這個國家改變制度，「擇（他國）長（處）為師，悉命人譯。飛砲霹靂，軍容強盛。有輕氣球，凌風千尺。」他有感而發，希望兩國能和平相處，「玉帛相見，互相輔弼」。這位外交官員參訪的國家最可能是 (A)德國 (B)日本 (C)英國 (D)土耳其。(105學測)
- (C)126.某次，中國政府派兵前往國外，全軍包括軍官與士兵等，共約28000人，並設置醫官、醫士、通譯、買辦等職官。拜訪了30多個國家和地區，途中曾與某國發生衝突，指揮官帶領

官兵破城，生擒該國國王及家屬，送回京師。這是 (A)漢代，張騫出使西域 (B)宋代，富弼出使漠南 (C)明代，鄭和出使南洋 (D)民國，國軍前往滇緬。(105學測)

(B)127.某人建議：您控制的領域農業發達，天然資源豐富，土地比德、法兩國加起來還大。您跟令尊一樣深獲百姓支持，如果與中央合作，頂多是稱雄一方，不如自己創造一番事業。我國願意傾全力支持您，完成建國大業。這個對話的場景最可能是： (A) 1921年，英國首相向凱末爾建議 (B) 1928年，日本特使與張學良談判 (C) 1948年，蘇聯領袖對毛澤東指導 (D) 1949年，美國國務卿提醒蔣介石。(106學測)

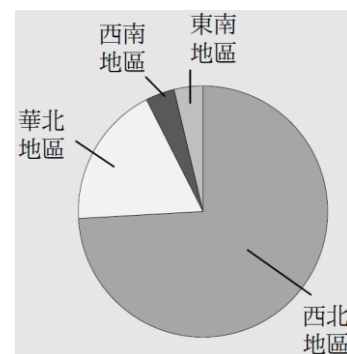
(A)128.日本史書記載：一艘我國船隻利用季風之便，抵達中國，在大運河邊的一個重要港口下錨。船員在此港中見到舟楫林立，商業繁榮，各種商品琳琅滿目。城中有許多外國商人，購買各種貨品。沿運河北上，便可抵達首都。這個港口是： (A)唐代的揚州 (B)宋初的廣州 (C)元代的泉州 (D)清初的上海。(106學測)

(C)129.某一時期，周天子因財政困難，必須派遣大臣向諸侯要求金援。齊、晉兩國也經常派遣使臣朝覲周天子，以提高自己的地位；原本與周天子關係最密切的魯國反而漸漸疏遠。這種現象最可能的原因是： (A)周人滅商，始建國家，但基礎不穩 (B)西周末年，外族常入侵，政局惡化 (C)春秋時代，周王室衰微，霸主興起 (D)戰國時期，大國崛起，戰爭頻繁。(106學測)

(C)130.一部書記載：祖宗設立某個官職，只不過是文學侍從，其職務至多止於在奏章上簽註處理的建議，呈請皇帝裁決。這個官職獲得委任的權力，和前代宰相絕不相同，以不具實權之官職，卻攬權在手，其勢必敗，歷來擔任這個官職者無美名，其故在此。此處所指的官職是指： (A)漢代的博士官 (B)唐代的中書令 (C)明代的內閣大學士 (D)清代的軍機大臣。(106學測)

(C)131.以下三段資料為三個不同時期的中國知識分子對傳統與西方文化的看法：
資料甲：我們要拋棄傳統中國的四書五經、打倒那吃人的禮教，專心學習西方民主與科學。
資料乙：我們要拒絕污染心靈的西方文化，更要唾棄傳統中國的文化遺毒，知識青年應該下鄉向農民學習。
資料丙：我們可以仿效西方國家的科學與技術，但是，仍要堅持維護中國的綱常、名教與聖人之道。
上述資料依時序先後應是： (A)甲乙丙 (B)乙丙甲 (C)丙甲乙 (D)丙乙甲。(106學測)

(B)132.老師上課時，根據歷史資料繪製成附圖，以說明中國歷史上某個時期政府在全國兵力部署的比重。根據圖中訊息判斷，這應是何時的情況？ (A)秦初 (B)唐初 (C)宋初 (D)明初。(106學測)



- (C) 133.中國歷史上某地居民的職業結構如下：十分其民，而工商居其四（占四成）；十分其農，而佃戶居其六；十分其力，而傭工（雇傭勞動）居其五。上述的現象最可能發生於：(A)西漢的關中地區 (B)唐初的華北地區(C)清初的長江地區(D)清領前期的臺灣。(106學測)
- (C) 134.一位作者討論當時中國的社會情況，重要內容包括：論修治道路、論綏靖地方、懲戒奢侈、清除鴉片流弊、嚴禁買賣奴婢、禁溺女嬰等。這種想法最可能出現於下列何書中？ (A)明代的《職方外紀》 (B)清初的《大義覺迷錄》 (C)清末的《自西徂東》 (D)抗戰時期的《中國之命運》。(106學測)
- (A) 135.一份文書中，中國政府表示：「前次所有遇害難民之家，中國定給撫卹銀兩，貴國所有在該處修道、建房等件，中國願留自用，先行議定籌補銀兩。所有此事兩國一切往來公文，彼此撤回、註銷。至於該處『生番』，中國自宜設法妥為約束，以期永保航客，不能再受凶害。」這份文書應與哪一事件有關？ (A)中國與日本有關牡丹社事件的討論 (B)中國因法國侵略安南，與法國交涉 (C)中德因德國企圖占領膠州灣的協議 (D)中國與各國就解決義和團事件商議。(106學測)
- (D) 136.一位君主告誡大臣：前朝因為不斷加稅，造成民生困苦。不僅平時練兵要加稅，出兵遼東也要加稅，後來鎮壓民變、清剿海盜更要加稅，各項稅收超過兩千萬兩。「我朝」為民謀利，首先應當免除這些苛捐雜稅。這位君主所說的「我朝」應是：(A)唐 (B)宋 (C)明 (D)清(107學測)
- (A) 137.學者在東漢晚期遺址中發現許多銅鏡、畫像磚，多有「東王公」、「西王母」畫像，石印上也鑄刻「大山武帝神仙印」字樣，指出：這些器物可以反映當地的□□□□。□□□□應當是：(A)神仙方術 (B)佛教信仰 (C)儒家禮法 (D)祖先祭祀(107學測)
- (D) 138.有人指出：雖然參加科舉可以成為官員，但道路艱辛，以蘇州府所轄八個州縣為例，總共有1,500個生員，但三年之內可以通過科舉者不足50人，成功率只有三十分之一。無法進入仕途者往往改行經商，有「士而成功也十之一，賈而成功者十之九」的說法。此人指出的現象最可能出現於哪一朝代？(A)東漢 (B)唐初 (C)宋初 (D)明末(107學測)
- 唐宋時期，隨著南海貿易的興盛，外國船隻停靠的貿易港也逐漸從廣州向北延伸到福建和長江流域。繼廣州之後，泉州、明州（今寧波）也發展成大商港。外國商船將香料、珊瑚、瑪瑙、寶石、象牙、藥材等商品輸往中國，並購買大量中國產品運回。請問：(107學測)
- (D) 139.唐宋時期從南海來華貿易的外國商人，以下列何者為數最多？
(A)印度人 (B)馬來人 (C)義大利人 (D)阿拉伯人
- (D) 140.外國商人從明州（今寧波）購買運回的主要商品為何？
(A)蔗糖、樟腦 (B)樟腦、苧麻(C)蔗糖、棉布 (D)瓷器、絲綢

- (D)141.孔子曾說：「夏禮吾能言之，杞不足徵也。殷禮吾能言之，宋不足徵也。文獻不足故也，足則吾能徵之矣。」他的遺憾，後代學者因為「新方法」而能夠逐漸填補夏、商兩代歷史的空白。這種「新方法」是：(A)唐代以後的地理學知識發達 (B)宋代的司馬光重新考證史記 (C)明清學者發展訓詁與文字學 (D)現代建立考古與甲骨文知識(107學測)

○某一朝代，因強敵入侵，皇帝從寧波乘船出逃，船隻在江南沿海躲藏以避追擊。四十天後敵軍撤退，皇帝才返回陸地。為了安全考量，皇帝決定在富庶的江南臨海地區建都，萬一強敵再侵時，才方便出海避難。請問：

- (C)142.該事件最可能是：(A)春秋時期的吳越相爭 (B)三國時期的孫吳政權 (C)女真壓境時宋室南渡 (D)滿清入關後南明諸王(107 學測)

- (C)143.學者記載他們見到一些外國經書與油畫：經書使用薄而堅好的白紙，兩面印刷，文字皆橫行。封面裱裝精美，還以「綵屬」(毛織品)、金寶裝飾，外面再以皮革包覆。油畫則是神采艷發，氣韻若生，認為「中土未曾有」。學者所見的經書最可能是：(A)漢代自印度傳入中國的佛經 (B)唐代回紇部落使用的古蘭經 (C)明末耶穌會士的基督教經書 (D)民國初年教會學校中的聖經(107學測)

- (C)144.某一國際會議召開時，中華民國政府指出：會議摒除我國於會議之外，此為我國之辱。中華人民共和國當局也對該會議提出抗議，指出該會議背棄國際義務，中國不予承認。該國際會議指的是：(A)1945年雅爾達會議 (B)1946年聯合國第一次大會 (C)1951年舊金山和會 (D)1955年的第一次亞非會議(107學測)

- (A)145.學者發現許多三國時代吳國的文獻資料，包括《隱核(查核)新占民簿》、《隱核州軍吏父兄子弟簿》、《兵曹徒作部工師及妻子簿》、《郡縣吏兄弟叛走人名簿》、《生口買賣簿》等。這些簿冊的作用應是：(A)掌控各類人口，增加稅收 (B)強迫職業世襲，確保生產 (C)因應戰爭需要，強制徵兵 (D)分析人民壽命，發展醫學(107學測)

- (B)146.學者認為：國家失道，將敗之際，上天會先降下災害，以為警惕。如果人君無法領受天降災異的教訓，把政治導正，那麼天就有權力來奪取君王的權位。如果君王行為得當，五行運轉便正常。他因此主張：「天道」運行變化，主要是為了建立「人道」。這位學者最可能是：(A)主張民貴君輕的孟子 (B)主張天人感應的董仲舒 (C)主張格物致知的朱熹 (D)主張知行合一的王陽明(108學測)

- (C)147.1871年，西洋人在上海敷設了電報線；1877年，丁日昌在臺灣架設了電報設備，成為中國第一條自行架設的電報線。1879年，李鴻章也在天津與大沽及北塘之間架設電報設備。當時架設電報設備的主要動機是：(A)西洋商社在中國投資，希望中國提供電信設備 (B)中國報業為求現代化，希望引進電報通信設施 (C)清朝官員認為電報設施有助於國防，因此架設 (D)朝廷認為電報為國家現代化象徵，故極力支持(108學測)

- (B)148.許多關切教育的地方人士指出：國家建設百廢待舉，傳統知識已不敷使用，需借重歐美先進國家的政治經驗、學術思想與科學技藝等專門知識，才能提升國家建設的效率。國家先前雖曾多次派選學生出洋念書，但人數不足。為便於學習歐美先進國家的專門知識，建設家鄉，我們也應廣派學子出國留學。呼籲主事者籌設「留學歐美預備學校」，招收學子，先在國內學習歐、美語文，以便將來出國學習。該文章反映哪種時代背景？(A)簽訂《南京條約》後，政府需培養對外交涉人才 (B)民國初年，擴大學校教育，也培育各種專門人才 (C)八年抗戰期間，同盟國資金援助，學生可赴歐美 (D)韓戰爆發以後，美援開始，故派遣學生赴美學習(108學測)
- (A)149.白居易的〈琵琶行〉長詩寫於唐憲宗元和十一年（816年），當時白居易貶官為江州司馬，居住在江西九江，對比長安與九江，有許多感想。下面詩句中，哪一句最足以說明白居易對兩地文化差異的看法？(A)潯陽地僻無音樂 (B)舉酒欲飲無管絃 (C)商人重利輕別離 (D)妝成每被秋娘妒(108學測)
- (C)150.《東西洋考》記載某一時期中國的世界地理觀，東洋包括呂宋、汶萊、日本及紅毛番；西洋包括交趾、占城、暹羅、柬埔寨、麻六甲等。這本書反映出何時的世界觀？(A)唐代 (B)南宋 (C)明末 (D)清末(108學測)


151-152為題組

- ◎ 清朝初年，政府起用傳教士協助官員繪製《皇輿全覽圖》。康熙五十二年五月二十日（陰曆），皇帝下令：「往河南、江南畫輿圖去的官和西洋人不必回來，就彼處往浙江舟山等處、福建臺灣等處畫去。但走海時，著伊等謹慎看好天色時節行走，不必急了。」從康熙四十九年到五十五年共完成「有度數直隸、山東等13省全省圖14張」。這些地圖都以「府」為基本量算單位，用墨色硬筆繪製，度數用阿拉伯數字記在圖的邊框，山川城鎮符號基本一致。請問：(108學測)
- (A)151.協助清朝官員繪製地圖的傳教士最可能是：(A)法國的耶穌會教士 (B)英國的長老會教士(C)荷蘭的喀爾文教士 (D)俄羅斯的東正教士
- (D)152.論者認為：《皇輿全覽圖》係由傳教士執筆繪製。題文中哪項資料可支持此論點？(A)全圖使用墨色硬筆繪製 (B)山川城鎮符號基本一致(C)以府為基本的量算單位 (D)度數用阿拉伯數字標記
- (C)153.某一時期，中國周邊民族普遍使用文字，並營建都城，反映其國家組織的強化，構成對農業中國的嚴重威脅。無論是東北、北方，甚至西南，都發生周邊民族入侵的現象，同時對中國造成重大的壓力。這種形勢出現於何時？(A)西周末年 (B)西晉末年 (C)唐宋之際 (D)清朝中葉(108學測)

◎ 十八世紀，清朝一位皇帝對該朝首都地理形勢描述：「右擁太行左滄海，南襟河濟北居庸。會通帶內遼海外，雲帆可轉東吳粳（稻米）。」請問：(108學測)

(D)154.十九世紀下半葉，「雲帆可轉東吳粳」的情況則有大幅改變，造成此一改變的最主要原因為何？(A)美洲作物引進 (B)鐵路運輸興起 (C)捻亂破壞航路 (D)海運取代漕運

筆記區




「人們把我的成就歸於天才，其實我只是刻苦而已。」
——愛因斯坦

三、世界史

- (D) 1.近代民族主義的傳布與拿破崙征伐有密切的關係。請問下列哪一次革命與拿破崙的崛起密切相關，同時也是將「人民」(people)轉化為「民族」(nation)的革命運動？ (A)英國光榮革命 (B)美國獨立革命 (C)俄國十月革命 (D)法國大革命。(91 學測)
- (C) 2.十八世紀一位英國學者針對「圈地運動」前後的變化，指出：「過去小土地所有者和小租地農民，靠自己耕種土地的產品和公有地上放養的羊、家禽、豬等維持自己和家庭的生活，幾乎不必向市場購買。如果土地落到少數大租地農場主手中，他們就必須為別人勞動才能維持生活，而且不得不到市場上去購買自己所需要的一切。因為將有更多尋找職業的人被趕到城市裡去，城市和手工業工廠將會擴大。」根據上述材料，應如何理解「圈地運動」及其影響？ (A)圈地運動使農民流離失所，為英國社會帶來動亂，直接導致英國王權的解體 (B)圈地運動使英國農業支離破碎，成為後來中產階級必須克服的難題，因而延緩工業革命的發生 (C)圈地運動迫使人們仰賴市場供應生活物資，反而提升農業生產效率，為後來工業革命打下基礎 (D)圈地運動使農村勞力移向城市，對後來英國工業革命的發生構成不利的影響。(91 學測)
- (B) 3.一本歷史書討論某次戰爭爆發時，某國軍隊的組成狀況是：在每 100 個動員的士兵裡，約有 25 人講日耳曼語，22 人講馬札兒語，12 人講捷克語，9 人講塞爾維亞——克羅埃西亞語，8 人講波蘭語，7 人講烏克蘭語，7 人講羅馬尼亞語，5 人講斯洛伐克語，3 人講斯洛凡尼亞語，1 人講義大利語。根據此一組成方式，這支軍隊應是： (A)1812 年遠征俄國的拿破崙大軍 (B)1914 年參與世界大戰的奧匈帝國軍隊 (C)1939 年入侵波蘭的納粹德軍 (D)1968 年干預「布拉格之春」的華沙公約國軍隊。(91 學測)
- (B) 4.某生到圖書館借了一本書，其章節包括「個人的發展」、「古典的復興」、「世界和人的發現」、「社會和節慶」等。由這些章節安排看來，此書最可能是下列何者？ (A)《路易十四時代》 (B)《義大利文藝復興的文化》 (C)《論自由與代議政治》 (D)《夢的解析》。(91 學測)
- (B) 5.以色列與阿拉伯國家之間的衝突，是影響當前中東地區穩定的關鍵因素。以阿衝突是從哪一場戰爭結束以後才開始的？(A)第一次世界大戰(B)第二次世界大戰 (C)六日戰爭 (D)波斯灣戰爭。(91 學測)
- (C) 6.十九世紀後期，帝國主義發展到一個新的階段，下列有關這個階段的敘述，哪一項是不正確的？ (A)這是工業革命擴張促成的結果 (B)帝國主義者自以為把進步文明帶給被殖民者 (C)從事新帝國主義擴張的都是歐洲國家 (D)社會達爾文主義為其提供侵略的理論基礎。(91 學測)
- (D) 7.1939 年 9 月 1 日德國進攻波蘭，當時德國宣傳部長如果要以最快速度告知全國人民的話，他會採取哪種方式？ (A)電視 (B)報紙 (C)街頭文宣隊 (D)廣播。(92 學測)
- (A) 8.1870 年後，阿根廷能夠大量外銷乳製品及肉品到歐美國家。這與下列哪一項發展的關係最密切？ (A)冷凍技術 (B)鐵路建設 (C)開鑿運河 (D)輪船通航。(92 學測)

- (B) 9.下圖描繪一處刑場，請問畫中情景可能出現在哪一個時期？ (A)宗教改革時期，羅馬教廷迫害異端的情景 (B)法國大革命時期，恐怖統治的景象 (C)史達林統治時期，俄共處決反革命分子的一幕 (D)二次世界大戰期間，納粹德國屠殺猶太人的情況。(91 學測)



- (A) 10.一位傳教士描寫他在一個殖民地看到的現象：「這些魔鬼在廣大的土地上進行蹂躪、破壞、殺戮，那裡原先是一片安樂景象，有美麗的大省、寬廣的谷地、可愛的區域、很大的村莊，人口眾多、黃金豐富。他們對各個民族趕盡殺絕，不留下任何說別種語言的人，只有那些逃進山洞或地洞的人才逃脫這殘酷可憎的命運。他們採用種種奇異、極端殘忍、不公正與褻瀆宗教的手段，屠殺、毀滅了這些無辜的人民。」請問：這是指哪一個國家對哪一個殖民地的掠奪？ (A)西班牙對南美洲 (B)英國對阿富汗 (C)日本對臺灣 (D)英國對印度。(91 學測)

第 11—12 題為題組(91 學測)

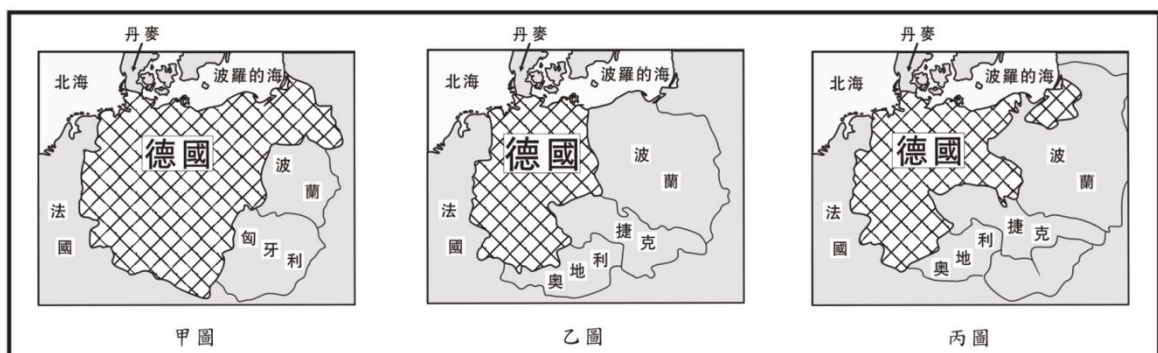
有一本書上說：「每一個人都是他自己經濟事務的最佳裁判者，自由競爭和致富的欲望可以導致社會整體財富的增加。儘管每個人都是自私的、而且常常不顧及共同的利益，但是他們的共同活動，卻自然地趨於全體的共同經濟福祉。這種情況，就如同有一隻看不見的手在調節一切一樣。」請根據這段資料，回答下列問題：

- (A) 11.這種理論符合下列何者的主張或政策？ (A)亞當斯密 (Adam Smith) 的「國富論」(The Wealth of Nations) (B)魏勃夫婦 (Sindey and Beatrice Webb) 的「費邊主義」 (C)凱因斯 (John Keynes) 的經濟學說 (D)美國總統羅斯福 (Franklin Roosevelt) 的「新政」(New Deal)。
- (B) 12.文中所謂「一隻看不見的手」，指的是什麼？ (A)資本家的幕後操控 (B)市場的自然運作 (C)上帝的特別天祐 (D)政府無所不在的影響力。
- (D) 13.一部諷刺小說描寫一個農莊之中，牛、馬等動物因不堪人類虐待，憤而在豬的號召下，起義推翻了人類。但豬卻成了新的統治者，訓練走狗去監視其他動物，被統治者受到的痛苦，更甚於從前。這是諷刺下列哪一場革命？(A)英國的光榮革命，豬指的是英國國教派信徒(B)法國大革命，豬指的是共和政府(C)美國的南北戰爭，豬指的是北方的工業主(D)俄國的十月革命，豬指的是共產黨員(92 學測)
- (B) 14.當代一位學者介紹南洋群島東部的一個小島嶼，指出因為這個島嶼面積小，也沒有重要物產，所以現代許多地圖根本忽略其存在。但是，在十七世紀歐洲人出版的地圖中，這個島嶼總是占著重要地位，比例被放大，島嶼被繪成比實際應有的大小還大得多。這個島嶼在十七世紀時受到重視，最可能的原因是：(A)盛產鳥糞，是歐洲花卉肥料的主要來源 (B)出產荳蔻，是當時歐洲貿易的重要商品 (C)宗教聖地，是回教在南洋傳教的立足點 (D)盛產煤礦，是當時船隻的主要動力來源。(93 學測)

- (B) 15.一位作家討論二十世紀的某種「主義」時，認為「沒有它，印度可能還受英國統治，印尼也可能還屬於荷蘭，但日本的軍國思想卻也因此而起。印度與巴基斯坦間的不良關係，更與此有密切關聯。」這位作家所說的「主義」最可能是指下列何者？ (A)重商主義 (B)民族主義 (C)帝國主義 (D)共產主義。(93 學測)
- (D) 16.一個首都中，有許多清真寺，有基督教教堂，也有猶太人居住。這裡經常發生宗教衝突，所以有人稱之為「第二個耶路撒冷」。這個首都最可能位於下列哪個地區？ (A)馬來半島 (B)印度半島 (C)伊比利半島 (D)巴爾幹半島。(93 學測)
- (A) 17.一位學者回憶自己的一生，記載著：「我出生時，宗教法庭剛廢除，小時候見到國內第一條鐵路通車，後來目睹各地工人的抗議及暴動。我曾參與過幾次戰爭，親眼見到國家統一。我從事科學研究時，結合物理與醫學，才會有生理光學的著作。」這位學者應當是下列何人？ (A)德國科學家赫姆霍茲（1821~1894） (B)波蘭裔法國科學家居禮夫人（1867~1934） (C)義大利科學家馬可尼（1874~1937） (D)德裔科學家愛因斯坦（1879~1955）。(93 學測)
- (D) 18.下表是四個國家某項數據資料，從 1931 年到 1937 年的變化。幾位同學討論該表的意義，以下何人的說法較為正確？ (A)這是各國飛彈生產量的數字，俄國因準備對抗希特勒，所以數字較高 (B)第一次大戰之後，各國裁軍，這是以 1918 年為基準各國裁軍的百分比 (C)這是各國發展核能發電廠的數字，俄國幅員廣闊，所以核能發電較多 (D)這是以 1929 年為基準的各國經濟發展指數，俄國受不景氣的影響較小。(93 學測)

國 別 \ 年 度	1931	1934	1937
英 國	84	99	124
德 國	72	83	116
法 國	89	78	83
俄 國	161	238	424

- (D) 19.下圖中，甲、乙、丙是德國歷史上三個不同時期的地圖，地圖中所列之國家均已翻譯成現在的名稱。這三份地圖所反映的時間先後順序為何？ (A)甲、乙、丙 (B)乙、丙、甲 (C)乙、甲、丙 (D)丙、甲、乙。(93 學測)



- (A)20.一部小說中有下列的情節：「海港都市中，大蒸汽船帶來許多遠洋的新奇貨物，街上有許多新式建築，而城中商家販賣許多外國商品，有一種自鳴鐘，吸引了居民的注意。一家著名的藥材店新裝了電燈，許多客人感到非常驚喜。」下列哪一個項目最足以判斷這部小說寫作的確實時間？ (A) 電燈 (B)新式建築 (C)大蒸汽船 (D)自鳴鐘。(93 學測)

第 21—22 題為題組(93 學測)

◎下表是以世界各大洲為單位的聯合國會員數目統計圖。請問：

地 區 \ 年 度	1945	1955	1965
甲	22	22	24
乙	4	5	37
丙	9	21	26
丁	14	26	28

- (A)21.甲區顯示的情況最可能屬於哪一洲？ (A)美洲 (B)非洲 (C)歐洲 (D)亞洲。
- (C)22.乙區會員數目增加的主要原因為何？ (A)冷戰結束之後，許多共產國家紛紛加入聯合國 (B)蘇聯為了鞏固其地位，鼓勵加盟國參與聯合國 (C)非洲新興民族國家開始出現，並參與國際事務 (D)亞洲共產主義退潮，東南亞出現許多新興國家。
- (D)23.有一部小說指出：「自從蒸汽機成為世界的王后以來，貴族頭銜已成為無用之物。」據此一敘述推論，當時取代貴族的是什麼階級？(A)農民階級(B)勞工階級(C)教士階級(D)資產階級。(94 學測)
- (D)24.某一時期，德國人宣稱「我們的未來在海上」、法國人高唱「不要忘記色當之役」、俄國人揚言「保衛斯拉夫兄弟」。這些聳動的口號與行動，最後導致哪個戰爭？ (A)普法戰爭 (B)克里米亞戰爭 (C)俄土戰爭 (D)第一次世界大戰。(94 學測)
- (A)25.有一位著名作家，經常徵引古希臘、羅馬的論述，來反思、探索人的問題，強調每個人都可以創造自己的命運。這位作家代表哪一種思潮的精神？ (A)文藝復興 (B)啟蒙運動 (C)浪漫主義 (D)存在主義。(94學測)
- (C)26.某位藝術大師，作品風格不斷變化創新，其立體派畫風與人道主義的反戰作品尤為著名。這位藝術大師的風格應是屬於哪個時期？ (A)十九世紀前期 (B)十九世紀後期 (C)二十世紀前期 (D)二十世紀後期。(94學測)
- (B)27.十九世紀時有些社會主義者思考解決當時的社會問題，提出用選票爭取勞工階級利益、勞工階級組成政黨、培養社會改革人才等方法。這類主張屬於何種社會主義？ (A)共產主義 (B)費邊社 (C)工團主義 (D)無政府主義。(94學測)

- (B) 28.在歐洲列強控制下，亞非許多地區遲至二十世紀中後期才脫離殖民統治，但是拉丁美洲國家卻能在十九世紀初期獲得獨立，其主要原因為何？ (A)受美國實行巨棒政策的影響 (B)受啓蒙運動與民族主義影響 (C)本身有軍事實力和文化基礎 (D)本身產業發達並且經濟富裕。(94學測)
- (D) 29.有一種史學思想，在性別、種族、階級或信仰等方面，較能從多元文化角度去論述。這是何種史學思想？ (A)人文主義 (B)啓蒙主義 (C)浪漫主義 (D)後現代主義。(94學測)
- (A) 30.十七、十八世紀時，法國巴黎的上流社會盛行沙龍聚會。到了十九世紀以後，這種風氣逐漸衰微，最主要的原因為何？ (A)被咖啡館之類的社交聚會場所取代 (B)缺少才貌雙全博學開明的女主持人 (C)法國政府嚴厲控制集會和言論自由 (D)社會動盪不安影響舉辦沙龍的意願。(94學測)

題組題（第31～32題為題組）(94學測)

◎右圖是有關希特勒與史達林關係的諷刺性漫畫。請回答下列問題：


- (D) 31.圖中新郎結婚的目的為何？ (A)化解俄國對德日反共公約的疑慮 (B)方便德國與東南歐獨裁政權合作 (C)壯大德國實力以嚇阻美國的干預 (D)免除德國東顧之憂以便對付英法。
- (C) 32.兩人「結為連理」以後，對歐洲局勢造成什麼影響？ (A)希特勒因此廢除《凡爾賽和約》 (B)希特勒乘機進占奧國與捷克 (C)德俄兩國進而協議瓜分波蘭 (D)英法對德轉而採取姑息政策。



題組題（第33～34題為題組）(94學測)

◎前南斯拉夫在歷史上曾經被多個帝國統治。二次世界大戰後，在強人狄托（Tito）主導下建立了由六個共和國組成的南斯拉夫聯邦，其中，五個共和國的人口組成都有單一優勢族群，只有一個例外。

- (B) 33.前南斯拉夫各共和國中，哪一個共和國沒有單一優勢的族群？ (A)克羅埃西亞 (B)波士尼亞 (C)塞爾維亞 (D)馬其頓。
- (C) 34.從1990年代起，前南斯拉夫多個共和國相繼宣布獨立，請問下列何者不是造成它們獨立的原因？ (A)宗教信仰不同(B)中央計畫經濟日漸失靈(C)口說語言難以溝通(D)中央政權被單一族群掌控。
- (D) 35.1917年有一則啓事說：「每個自由之子，快來吧！把話傳過去，我們就要來了。拿起你的槍，亮給德國佬看，揚起旗幟吧，我們從來不畏艱難。我們不會回頭，直到戰爭終了。」這個啓事的背景是： (A)俄國發生大革命，共黨號召群眾革命 (B)奧地利政局改變，號召人民抵抗德國 (C)英國決心參戰，開始與德奧等國作戰 (D)美國宣布參戰，要招募人民從軍入伍。(95學測)
- (B) 36.有位美國學者預言：「未來50年」中，「生活會相當方便，熱氣和冷氣都從管線中來，以調節室內溫度。汽車價格將低於馬匹，農民會有自動推車、自動犁等機械化設備，草莓也會長得像蘋果一樣大。戰爭時，巨砲的射程可達四十公里，軍隊能從氣球上使用附有照相機的望遠鏡，監視100公里內敵人的動靜，並立刻傳到指揮官手上。」這位學者應是在何時做這個預言？ (A)1850年 (B)1900年 (C)1950年 (D)2000年。(95學測)

- (C)37.一位政治人物指出：「讓殖民地人民自由地生活、並自己管理，才是我們的最終目的。恢復越南的秩序與和平，才是達到這個理想的最重要基礎。」這種想法代表的是： (A)十九世紀後期，法國殖民主義者的想法 (B)二十世紀初期，美國對民族自決的主張 (C)二十世紀中期，法國對越南獨立的態度 (D)二十世紀末，美國主張越南開放的說法。(95學測)
- (D)38.一名女子說：「我不知道我算是哪一國人，我的祖父因為信奉新教，被教區神父處罰終身苦力；我的父親被老爺打成跛子；我的丈夫從軍去了，我不知道他究竟是幫誰打仗。」有人批評這名女子的丈夫及家人愚蠢，竟然為剝削他們的國王、貴族、教士作戰。根據這段資料的內容，這名女子最可能生活在： (A)十五世紀初義大利的莊園 (B)十六世紀末日耳曼北部城市 (C)十七世紀英國的港口農村 (D)十八世紀末法國中部的小鎮。(95學測)
- (C)39.某人暑假時前往國外渡假，在遊記中說道：此地甚熱，又擔心水不潔淨，經常喝汽水等碳酸飲料。看不到熟悉的雜誌，空氣中飄來的各種香料及食物的氣味也很陌生。有一天肚子不舒服，找到一個掛有如右圖這個標記的組織，協助他解決就醫問題。他最可能是在哪裡旅遊？ (A)泰國 (B)古巴 (C)巴基斯坦 (D)巴西。(95學測)
- 
- (A)40.下列哪一國家如加入歐盟，會使歐盟與中東伊斯蘭教地區接壤，易產生地緣政治上的摩擦？ (A)土耳其 (B)摩納哥 (C)塞爾維亞 (D)阿爾巴尼亞。(95學測)
- (B)41.2006年亞太經濟合作會議(APEC)，於11月12日在越南河內登場，討論的焦點是自由貿易和北韓問題。APEC的成員中，以下列哪個地區的會員國為數最多？ (A)東亞 (B)東南亞 (C)大洋洲 (D)北美洲。(96學測)
- (C)42.一個人回憶：「每個月初，父親領到薪水，先付清房租及雜費。第二天一清早，全家趕赴賣場，大肆採購乳酪、火腿、馬鈴薯等，將所有的錢花費在不易腐敗的食物上。總之，我們會將一個月的存糧準備好，接著整整一個月身無分文。」這種場景最可能發生在何時何地？ (A)1782年的巴黎市 (B)1814年的維也納 (C)1923年的柏林市 (D)1968年的莫斯科。(96學測)
- (A)43.某國政治人物在1951年時呼籲：「我國已經無法再以一己之力，承擔地中海地區的政治責任，也無法主導當地的外交事務。我們必須與他國合作，才能處理埃及或蘇彝士運河的問題。」這位說話者的身分應當是： (A)英國國會的反對黨領袖 (B)美國國家安全部門主管 (C)法國執政黨外交事務官 (D)蘇聯的國家情報局主管。(96學測)
- (B)44.十九世紀中，英國開始改革選舉制度，除先後大幅放寬選舉人的限制，也調整選區。1840年代，一位具有選舉權的倫敦市民最先可以選舉下列何者？ (A)倫敦市長 (B)下院議員 (C)上院議員 (D)首相。(96學測)

- (C) 45.有位作家回憶：「參訪這座城市時，經濟情況相當惡劣，正在執行第二個五年經濟計畫。三十歲以上的人，還懷念帝國時代的安適生活、歐洲大陸的富強繁盛；三十歲以下的人，對往日的安定、富庶感受不深，也無法接觸到國外的物事。此外，私人財產均遭沒收，一切收歸國有。」這位作家描述的情況是： (A)1850 年的巴黎市 (B)1900 年的維也納 (C)1930 年的莫斯科 (D) 1980 年的柏林市。(96 學測)
- (B) 46.德國政府說：「美國人對世界文明的唯一貢獻就是發明了口香糖及可口可樂。」同一時期，日本政府宣傳：「進口可口可樂就等於進口了美國社會的病毒。」這種說法應是何時出現？ (A)1917 年美國宣布對德作戰時 (B)1942 年太平洋戰爭爆發之後 (C)1973 年石油經濟危機發生時 (D)1990 年全球討論關稅協定之後。(96 學測)
- (D) 47.一本法國小說「環遊世界八十天」描述一個商人從倫敦出發，繞地球一周，返回倫敦，一共只需要 80 天。這種情節與下列哪個事件最有關？ (A)阿拉伯人在泉州建立商業據點 (B)哥倫布航行到美洲建立新航線 (C)葡萄牙人繞美洲完成環繞航線 (D)埃及總督授權開鑿蘇伊士運河。(97 學測)
- (D) 48.歐洲的神聖羅馬帝國控制從中歐到西歐的許多土地，帝國皇帝因此身兼各種身份，包括波西米亞國王、匈牙利國王、奧地利大公，一度還是西班牙國王。16 世紀中期，皇帝查理五世計畫退位，打算將領地分給弟弟及兒子。他將最好的部分交給其子繼承。這位王子最可能繼承的是： (A)波西米亞國王 (B)匈牙利國王 (C)奧地利大公 (D)西班牙國王。(97 學測)
- (C) 49.有人認為：「歐洲是一個由許多國家組成的大家庭，其關係建立在共同的文明、宗教、條約及國際法。居住於任何一個基督教國家的外國人，都受居住國法律約束。」「如果一個基督徒在一個穆斯林國家居住，則奉行另一個原則：基督徒身為外國人，不受當地法律制裁。」這種說法，最可能出現在： (A)十字軍運動時期，教宗對十字軍的提示 (B)16 世紀歐洲各國建立中央政府時之主張 (C)19 世紀歐洲列強在各地擴張之際的態度 (D)第一次大戰後「民族自決」理論的說法。(97 學測)
- (D) 50. 16 世紀後期，許多歐洲羅馬公教的教士遠赴海外，如利瑪竇到中國、沙勿略到日本。他們除了傳教，也促進文化交流。這群教士前往海外傳教的動機為何？ (A)要打擊路德教派、英國國教派及喀爾文教派的海外傳教活動 (B)為聯絡海外的羅馬公教信徒，對抗日益擴張的伊斯蘭教勢力 (C)教宗要擴張海外貿易活動，增加教會財富以繼續與新教對抗 (D)羅馬公教欲擴大海外教區，彌補歐洲宗教改革後信徒的流失。(97 學測)
- (A) 51.某地有一座「日本占領時期死難人民紀念碑」，碑文以英文、中文、馬來文及塔米爾文印度語系書寫。該紀念碑應立於何處？ (A)新加坡 (B)馬尼拉 (C)雅加達 (D)墨爾本。(97 學測)
- (A) 52.食物反映一地的地理條件與文化，在近代交通發達以前，通常不易改變；但有些地區的飲食方式卻在 8 世紀到 16 世紀間，有重大的變化，如開羅、君士坦丁堡都屬此類。這些地方飲食文化的改變主要原因為何？ (A)宗教信仰改變 (B)氣候條件變遷 (C)耕作技術改變 (D)海外貿易中斷。(97 學測)

- (D)53.交通規則與號誌可以反應一個地區現代化的過程，馬來西亞、印度及巴基斯坦等地的駕駛規則都是「駕駛座在右，靠左駕駛」，這種規則的形成與下列何者關係最大？ (A)多數居民信奉伊斯蘭教，尊奉左尊右卑的原則 (B)習慣從日本進口車輛，因此採用日本駕駛規則 (C)皆主張民主議會制，議會表決後採用靠左駕駛 (D)都是大英的殖民地，遵循大英的交通管理規則。(97學測)
- (A)54.幾位歷史學者評論：1939年起，德國採取一連串的對外侵略行動，波蘭、捷克、挪威相繼為德國控制，1940年以後，只有一個歐洲國家能與德國抗衡。他們指的是哪一個國家： (A)英國 (B)法國 (C)西班牙 (D)義大利。(97學測)
- (D)55.歷史上，一些著名的革命運動都有一些響亮的口號，這些口號經常表露了參與革命者所要追求的理想。下列何者正確？ (A)1688年的光榮革命：沒有代表，不納稅 (B)1776年的美國革命：自由、平等、博愛 (C)1789年法國大革命：民主、法治、人權 (D)1917年的俄國革命：和平、土地、麵包。(98學測)
- (C)56.一個延續千餘年的大帝國，以農業為立國基礎，其首都是歐洲地區及地中海世界最大的政治、經濟和宗教中心，控制歐洲和亞洲之間的貿易與文化往來。這個帝國是指： (A)亞述帝國 (B)阿拔斯帝國 (C)拜占庭帝國 (D)神聖羅馬帝國。(99學測)
- (A)57.旅行團安排了一次德川日本古蹟之旅，為了讓團員享受一趟超值的深度旅遊，導遊預先對團員解說德川幕府的歷史發展。以下是導遊作的一些解說，何者正確？ (A)現今日本首都東京，舊稱江戶，是德川幕府的根據地 (B)德川幕府的威勢超越天皇，但卻又受制於旗下的諸侯 (C)因為鎖國政策，德川日本的商業蕭條，貨幣經濟消失 (D)德川武士喜歡庭園，更愛養蘭花，遂發展出「蘭學」。(98學測)
- (B)58.「這是一個多采多姿而變化萬千的時代，和中國的戰國時代最可相比擬。在這個時期的形形色色中，有不少仍是中世的，有不少顯然已是近代的，但也有不少為這時期所特有。這個時期上承中世，下啓近代，同時也自成一個時代，充滿了強烈的政治、社會和思想的活動。」這最可能是哪個時代的特徵？(A)希臘羅馬(B)文藝復興(C)啓蒙運動(D)工業革命。(98學測)
- (C)59.西亞的美索不達米亞平原是古文明的搖籃，自古以來許多民族進出這個舞臺，先後建立統治政權，留下了豐富的文明遺跡。下列諸民族統治此一地區的先後順序，何者正確？
(A)西臺人→阿卡德人→巴比倫人→亞述人→波斯人
(B)亞述人→巴比倫人→阿卡德人→西臺人→波斯人
(C)阿卡德人→巴比倫人→西臺人→亞述人→波斯人
(D)巴比倫人→波斯人→阿卡德人→西臺人→亞述人。(98學測)
- (B)60.1920年代以來，印度聖雄甘地領導反抗運動，終使印度脫離英國的殖民統治；到了1960年代，美國黑人領袖馬丁·路德·金恩領導「民權運動」，也促使美國解除種族隔離政策。這兩個領袖的抗爭策略有何共同之處？(A)遵循馬克斯主義的階級鬥爭論 (B)秉持非暴力的公民不服從精神(C)挑起種族主義以反制種族主義(D)使用恐怖手段迫使當權者讓步。(98學測)

- (D) 61.某個地區的經濟與貿易史，發展過程如下：在西元初年，那裡是印度航海者紛紛揚帆而往的黃金地；幾個世紀之後，對阿拉伯人和歐洲人來說，該地區成了香料、樟腦和香木之國；到了近代，那裡又成爲橡膠、錫和石油的重要產地。這個地區應是： (A)非洲東岸 (B)阿拉伯半島 (C)印度半島 (D)南洋群島。(98學測)
- (B) 62.有一種政治形式，其特色是：國家之主權如司法、財稅、軍警等，過去是由國王來執行，現在則淪入私人之手；而且這些國家主權隨著土地之轉移而轉移，或者隨著土地之分割而分割。因爲土地是私人財產，所以國家主權亦成爲私人財產。這一種政治形式盛行於何時何地？ (A)西元前三世紀的中國 (B)西元十世紀的法蘭西 (C)西元十六世紀的拉丁美洲 (D)西元十七世紀的新英格蘭。(98學測)
- (D) 63.1816年，英王喬治三世派遣阿美士德 (Amherst) 出使中國，卻與清朝發生「禮節之爭」。清朝要求英使依「天朝定制」，覲見皇帝時行「三跪九叩頭禮」，英使以跪叩禮「有傷英國尊嚴」，堅持僅行「免冠俯首」。雙方爭持不下，最後英使遭逐出，不顧而去。此一「禮節之爭」的歷史意涵爲何？(A)新帝國主義與反殖民主義的對抗 (B)海權思想與傳統陸權觀念的對立(C)工業資本主義與農業文化的矛盾(D)天下秩序觀與主權國家觀的衝突。(98學測)
- (A) 64.佛教、耆那教與印度教都是從古印度的婆羅門傳統衍發而來。佛教與耆那教起源於對婆羅門信仰的反抗，而印度教則主要是繼承、並改革婆羅門傳統而來。這三種宗教雖然有各自不同的發展，但仍共同接受婆羅門傳統的某些理念，例如： (A)輪迴思想 (B)犧牲獻祭 (C)素食精神 (D)種姓制度。(98學測)
- (B) 65.一位外交官暢談自己國家的外交傳統：「至少在過去數百年中，我們一貫的外交政策目標，就是創造一個分裂的歐洲。爲了歐洲的分裂，我們幫助荷蘭人對抗西班牙人，幫助日耳曼人對抗法國人，幫助法國人和義大利人對抗日耳曼人，最後又幫助法國人對抗義大利人和日耳曼人。」這是何國的情況？ (A)美國 (B)英國 (C)瑞士 (D)俄羅斯。(98學測)
- (C) 66.某個時期，貿易活動的特色是「商業、海盜、戰爭三位一體」。這時國家認爲誰能獨占價錢最貴的商品，誰就能夠成爲最富強的國家；各國爲獲得珍貴商品，經常不擇手段，貿易往往淪爲搶劫行爲。這種行爲甚至與國家的權力相連，而變成一種愛國行爲。下列何者最符合此一描述的狀況？ (A)十三世紀中期，威尼斯與阿拉伯的貿易關係 (B)十五世紀前期，明朝鄭和下西洋的貿易活動 (C)十六世紀後期，英國與西班牙間的貿易競爭 (D)十九世紀中期，英國在中國沿海的貿易策略。(98學測)
- (D) 67.某地自1840年代起就發展工業、礦業，1850年代修建鐵路，1860年代已有鐵路1300公里，到1870年擴增爲7700公里，1890年代增至25600公里。1851年，當地開始興建紡織廠，到了1900年，共有紡織廠193所，還有茶葉公司與黃麻工廠。當地人民並未享受這些經濟發展帶來的好處，因此不斷要求自治，希望享有平等的政治權利。這個地方應當是：(A)越南(B)加拿大(C)日本(D)印度。(99學測)

(A) 68. 圖一是十九世紀末期歐洲某一族群向外移動的路線圖。這個民族原本來自外地，移入後不斷受到外來干擾，十九世紀起向外移動，前往拉丁美洲與美國。也有人提倡移往巴勒斯坦，希望建立自己的國家。這個民族是： (A)猶太人 (B)德意志人 (C)土耳其人 (D)斯拉夫人。(99 學測)



(B) 69. 一位學者認為：政府與人民間原有契約關係，政府應當保障人民的生命、自由和財產，才能獲得人民的認可，其統治才有正當性。如果政府不能善盡其義務，人民便可解除契約。我們如何理解這種理論？ (A)柏拉圖的理想國理念，主張國君應當為民服務 (B)洛克提出的政府學說，主張人民可以推翻政府 (C)法國大革命時的《人權宣言》，認為世人都應平等 (D)威爾遜提出民族自決論，認為自由為基本人權。(99 學測)

(C) 70. 一位歐洲學者有這樣的經歷：他出生時，多數世人還認定地球是一個扁平的陸塊；到他求學時，周遭已經有許多人相信地球是圓的，各地還流傳許多有關遠方新奇事物的傳說。這位學者鮮少離開家鄉，卻能根據平時蒐集的資料，描述世界各地的新奇事物，如巨大的宮殿、雄偉的神殿、食人族等。他還將這些蒐集起來，編寫一本世界誌，出版後引起許多人的好奇與搶購。這應當是何時的情景？ (A)西元前二世紀 (B)西元九世紀 (C)西元十六世紀 (D)西元十八世紀。(99 學測)

(D) 71. 下表是 1891~1896 年間四個國家的農業人口占總人口百分比：

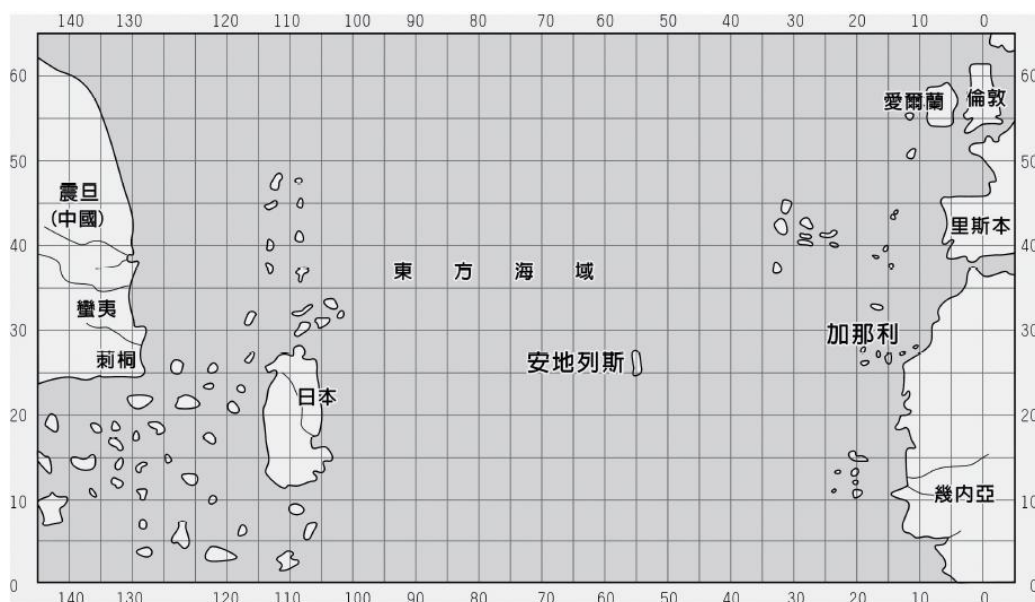
	農業人口占總人口百分比
甲國	70%
乙國	42%
丙國	22%
丁國	10%

試問表中的甲、乙、丙、丁四國分別是： (A)甲：法國 乙：英國 丙：荷蘭 丁：俄羅斯 (B)甲：英國 乙：荷蘭 丙：俄羅斯 丁：法國 (C)甲：荷蘭 乙：俄羅斯 丙：英國 丁：法國 (D)甲：俄羅斯 乙：法國 丙：荷蘭 丁：英國。(99 學測)

(D) 72. 西元前3000年以後，不同的民族先後遷入兩河流域，建立政權。有些民族使用閃族語言，有的則使用印歐語言。這些民族的語言雖然不同，但此地區的文化與貿易能夠持續成長。學者認為這種情況主要是由於一個共通的重要基礎。這位學者指的是： (A)使用鐵器 (B)宗教統一 (C)軍事技術 (D)楔形文字。(100學測)

(B) 73. 一位國家領袖表示：「我們必須加強海軍，以維護我國的利益。我們的海外同胞，不管是神職人員、商人或從事其他行業，都應該相信：我們的海軍會永遠保護他們。」我們如何理解這個談話？ (A)拿破崙戰爭期間英國政府的主張 (B)德意志帝國在東亞擴張時的聲明 (C)日本發動珍珠港事變之前的宣傳 (D)波斯灣戰爭期間美國提出的政策。(99 學測)

- (B) 74.1938年8月間某國新聞報導指出：「德國已經正式承認我國，我國政府將於德國首都柏林設立公使館，辦理兩國外交事務。國務院特別任命呂宜文為公使，並以日籍的三源綱一為參事官，王替夫與日籍的伊吹幸隆為書記官。」1939年2月這些新任的官員遞交國書，正式上任。這個國家是： (A)日本 (B)滿洲國 (C)韓國 (D)中華民國。(100學測)
- (D) 75.一位政治人物表示：「我們不能把菲律賓交給德國或法國，這樣不符合我們的經濟利益，我們也不能讓菲律賓人自治，因為菲律賓人沒有自治的能力。我們只能占領整個菲律賓，教育他們，讓他們文明起來，灌輸基督教的理想。」這位政治人物應當是： (A)17世紀的羅馬教宗 (B)18世紀的西班牙王 (C)19世紀的日本天皇 (D)20世紀的美國總統。(100學測)
- (C) 76.圖二是一幅西方人繪製的地圖，製圖者將中國分成蠻夷與震旦，又認定日本是一個大島。中國最南端的角落為刺桐（泉州）城。從泉州出海，可以遇到無數小島。這幅圖反映的是何時的地理觀念？ (A)西元2世紀的希臘地理學者托勒密 (B)西元5世紀的羅馬哲學家奧古斯丁 (C)14世紀的義大利學者托斯卡內利 (D)18世紀的英國航海家詹姆士庫克。(100學測)



圖二

- (A) 77.美國與日本簽訂條約，規定：「侵犯日本人之美國人，由美國領事法庭審判，如屬有罪，當按美國法律處罰。侵犯美國人之日本人，由日本官方審判，按日本法律處罰。」同時規定：「日本政府准許美國人可以在開放的港口中自由行動；也准許居住於日本的美國僑民宗教自由，並可於適當地點建築教堂。」這個條約是： (A)1854年簽訂的《神奈川通商條約》 (B)1922年限制軍備的《華盛頓條約》 (C)1951年舊金山簽訂的對日和約 (D)1960年所訂《美日安全保障條約》。(100學測)
- (B) 78.歷史上某一時期，甲乙雙方舉行效忠儀式：甲方向乙方保證，願以自由人身分，終身服事乙方，絕不脫離乙方保護，如有違背，願以金錢賠償；乙方則保證，宣誓之後，將終身保護甲方。這個效忠儀式最可能在何時何處舉行？ (A)8世紀前期君士坦丁堡的皇宮 (B)12世紀中期法國北部的莊園 (C)16世紀後期英國南部的城堡 (D)19世紀後期美國南部的棉田。(101學測)

- (D)79.媒體報導：「波蘭國會於本月中通過加入北大西洋公約組織（簡稱北約）案，波蘭預定在3月間與捷克及匈牙利同時成爲北約新會員。」這則報導出現的時代背景爲何？ (A)二戰結束時，美蘇兩國在東歐對峙，美國拉攏波、捷等國加入北約 (B)韓戰結束後，法國欲擴大在歐洲勢力，企圖說服東歐各國加入北約 (C)越戰爆發時，西歐欲打擊華沙公約組織，勸說波、捷等國加入北約 (D)蘇聯解體後，東歐向西方靠攏，波、捷、匈牙利等國家欲加入北約。(101學測)
- (C)80.某個帝國，在11世紀初是歐洲最強盛的國家，14世紀以後，境內諸侯紛紛追求自身利益，互相攻伐，國勢漸衰。17世紀，又因宗教問題，造成內部分裂。19世紀初，帝國甚至遭拿破崙解散。這個帝國是指： (A)俄羅斯帝國 (B)拜占庭帝國 (C)神聖羅馬帝國 (D)鄂圖曼帝國。(101學測)
- (A)81.16世紀起，歐亞間的海上貿易興起，許多歐洲國家紛紛前來亞洲經商。歐洲某國王室出資組成船隊，前往印度與東亞地區貿易。國王爲反制抗議教派，避免其擴張，還願與教廷合作，免費將傳教士送往商船所到之處傳教。這位國王是： (A)西班牙國王菲利普 (B)英格蘭王伊莉莎白 (C)俄國皇帝彼得大帝 (D)瑞典國王古斯塔夫。(101學測)
- (C)82.一位統治者自述其生平事蹟：「19歲那年，國家受到奸黨蹂躪，是我招募軍隊，打敗奸黨，才重建和平。元老院選我爲執政官，控制所有權力，但我拒絕獨裁，不僅恢復了許多逐漸沒落的傳統，也爲後代子孫立下許多典範。」這位統治者最可能是： (A)亞歷山大大帝 (B)羅馬將領凱撒 (C)羅馬皇帝屋大維 (D)羅馬皇帝君士坦丁。(101學測)
- (D)83.一首詩描述古埃及的農業生活，提到以下特徵：(甲)尼羅河定期氾濫，使埃及生生不息 (乙)河水澆灌了沙漠，養育肥美魚類 (丙)河岸有牲畜覓食 (丁)神廟定期舉行豐年慶典。上述哪項特徵最足以說明此詩所描述的是農業定耕生活方式？ (A)甲 (B)乙 (C)丙 (D)丁。(101學測)
- (A)84.19世紀中期，一位俄國學者批評政府的某項政策，認爲它「改變數百年習慣的生活方式，摧毀自古以來人民與土地的連結關係。」因此他呼籲：「讓我們根據傳統的原則，重新恢復國家與人民、人民與土地之關係。」這位學者批評的政策爲何？ (A)解放農奴 (B)組織公社 (C)農地重劃 (D)土地國有。(101學測)
- (C)85.一張老相片顯示：火車站中有數列滿載士兵的火車，其中有兩列預計開赴比利時前線，另有一列即將駛往東方邊界，車廂上的標語寫著：「向沙俄宣戰！爲祖國奮鬥！」這張相片最可能是何時的情景？ (A)1854年的克里米亞戰爭爆發後，英軍開往前線 (B)1870年德法戰爭爆發，德意志聯軍向法國開拔 (C)1914年，第一次世界大戰爆發，德軍準備出發 (D)1939年歐洲大戰爆發，德軍準備進攻蘇聯之際。(101學測)
- (B)86.自某個時期起，藝術創作強調恢復希臘與羅馬的傳統，藝術家精研人體結構，重視透視法。他們的地位大幅提升，非以往的工匠可比，貴族與富商都願意收購藝術作品珍藏。這個時期最可能是： (A)西元12世紀 (B)西元15世紀 (C)西元18世紀 (D)西元19世紀。(101學測)

- (B)87.基督教會自「某個事件」開始，經常以宗教審判和贖罪券兩種方式強化教會的領導地位。宗教審判用以處罰危害教會的異端；贖罪券則用於酬謝參與打擊異教徒者，可免除死後審判。上述所說的「某個事件」是：(102 學測)
(A)諾曼人入侵 (B)十字軍運動 (C)黑死病盛行 (D)東羅馬滅亡。
- (C)88.一本書寫道：這個國家原本絕大多數人民為農民，因社會發展不均，農民起而造反，爆發大革命，推翻既有政府，重建國家。新政府之施政目標是強化國防力量，以對抗資本主義國家，因此強調鋼鐵工業，民生工業的發展相對落後。但因該國實施計畫經濟，受到經濟恐慌的影響也較小。這最可能是描寫：(102 學測)
(A) 1790 年代的法國 (B) 1870 年代的日本 (C) 1930 年代的俄國 (D) 1970 年代的印度。
- (A,D)89.1950 年代初期，歐洲某城市中，一位住在英國占領區的居民，一大早先通過檢哨站，到蘇聯占領區上班。下班後，經常要繞到美國占領區購買日常用品，然後搭電車回家。這個人最可能生活在何地？(A)維也納 (B)華沙 (C)布拉格 (D)柏林。(102 學測)
- (B)90.一位學者擔心：國家因為民族多元，許多人受到當時流行的民族主義影響，希望獨立、建國，最終可能導致國家分崩離析。他呼籲大家珍惜共同擁有的歷史經驗，以「命運共同體」的觀念整合國家。這位學者最可能生活在：(102 學測)
(A) 1860 年的義大利 (B) 1910 年的奧匈帝國 (C) 1930 年的波蘭 (D) 1960 年的美國。
- (B)91.一位國家元首在議會中表示：統治者應當傾聽上帝的意旨，而不受制於法律。他認為自己是人民的主人與父親，可以主宰臣民的生死。他應當遵守與上帝的誓約，無須經過議會便可自行制定法律。這位元首是：(102 學測)
(A) 1 世紀羅馬統治者奧古斯都 (B) 17 世紀的英王詹姆士一世
(C) 19 世紀初法蘭西皇帝拿破崙 (D) 19 世紀末的德皇威廉二世。
- (B)92.一位統治者推動改革，規定：所有貴族、商人、軍人與城市居民都必須穿著日耳曼式服裝，違反法令者課以罰金。當時謠傳：我們的統治者其實是一位日耳曼理髮師冒充，所以要我們穿日耳曼式服裝。這些措施引起農民暴動，認為：我們捍衛基督信仰，卻因為穿著傳統服裝，不能進入教堂。這位統治者是：(102 學測)
(A)路易十四 (B)彼得大帝 (C)明治天皇 (D)凱末爾。
- (C)93.一座城市中，居民熱烈討論即將重建的大教堂建築樣式，他們對常見的哥德式建築並不滿意。因為古代建築廢墟隨處可見，他們鼓勵競標的建築師從古代建築中尋找靈感。經過幾十年的努力，一座覆以圓頂的長方形教堂，終告竣工。這座城市是：(102 學測)
(A)羅馬帝國時期的耶路撒冷 (B) 11 世紀中期的聖彼得堡
(C)文藝復興時期的佛羅倫斯 (D) 19 世紀初期的墨西哥市。

94~95 為題組

◎新航路暢通之後，國際人口移動逐漸增加，許多地區成了移民的目標。18 世紀以後，出現許多移民組成的新國家。(102 學測)

- (A)94.一個由歐洲移民主導的國家，立法者將國內人口分成「白人」與「非白人」兩類。20 世紀初年，該國政府計畫制定移民政策時，打算將所有申請移民該國的人口分成「可以」與「不可」被白人社會同化兩類。他們認定非白人屬「次等種族」，會降低該國生活品質，必須防止非白人破壞既有的美好生活。這個國家是：(A)澳洲 (B)美國 (C)俄國 (D)新加坡。
- (A)95.這種想法應是受到何種思想影響？
(A)社會達爾文主義 (B)馬克思共產主義 (C)啓蒙運動思潮 (D)理性主義思潮。
- (D)96.老師在課堂中介紹西歐某一時期時提到：當時君主積極發展工商業，力求增加稅收；並改革法律制度，興辦教育事業，以提高行政效率及國民素質。這堂課的主題應是：
(A)中古時期的莊園經濟活動 (B)十二世紀的東西文化交流 (103 學測)
(C)十六世紀西歐的重商主義 (D)十八世紀的開明專制理念。
- (B)97.某地位於歐洲通往中國的航路上，早在 1819 年，英國商船便在此建立交易據點，逐漸發展成繁榮港口。二次世界大戰期間，日軍曾攻占此地，控制三年多。1945 年，日本投降，該地重歸英國管轄，但當地人民爭取自主，先脫離英國統治，進而獨立建國。這個國家是：
(A)泰國 (B)新加坡 (C)越南 (D)印度。(103 學測)
(B)
- (B)98.1792 年，英國派遣馬戛爾尼出使中國，使團於 9 月底乘船自英國出發，1793 年 8 月 5 日才抵達天津。1878 年，中國派遣曾紀澤為駐英國、法國欽差大臣，於 11 月 22 日自上海乘船赴任，1879 年 1 月 1 日便抵達法國馬賽港。這期間，哪一項重大變化縮短了航行的時間？
(A)美國發明航空器 (B)蘇伊士運河通航
(C)海圖製作更精良 (D)公海航行較安全。(103 學測)
- (C)99.某次戰爭之後，戰勝國要求：挑起戰事者要割地、賠款。有人呼籲：如果賠償金額遠超出發動戰爭者所能承擔，一定會造成經濟困境，引發民怨，無論任何一方都難逃捲入的命運，甚至引發下一場戰爭。不幸言中，不久之後，各國又捲入衝突之中。此人最可能是：
(A)1815 年維也納會議中的奧地利首相梅特涅
(B)1871 年德法戰爭後德意志帝國首相俾斯麥
(C)1919 年巴黎和會召開時的英國代表凱因斯
(D)1945 年二次大戰結束後的美國總統杜魯門。(103 學測)
- (C)100.老師在黑板上懸掛一幅地圖（如圖），圖中將日本領域分別以黑色及灰色標示。這幅地圖最可能是反映哪一時期的東亞情勢？
(A) 1871 年 (B) 1905 年 (C) 1935 年 (D) 1971 年。(103 學測)



- (C)101.某一時期中，英國議員知道普魯士已經實施強迫入學的政策，而英國許多兒童仍然沒有受過任何教育。於是通過法案，設置教育部，並提出「初等教育法」，撥款興學，同時要求父母督促 5 到 12 歲的兒童上學。這是何時的情況？(103 學測)
(A)十七世紀後期 (B)十八世紀中期 (C)十九世紀後期 (D)二十世紀中期。

- (B)102.某地原為希臘人活動區域，後來才有其他民族移入，包括羅馬尼亞人、土耳其人、克羅埃西亞人、波士尼亞人、斯洛維尼亞人與馬其頓人。居民分別信奉基督教與伊斯蘭教；基督教信仰又以希臘正教為主。當地曾經建立聯邦制國家，卻爆發內戰，民族紛爭至今不斷。這個地區是：(A)伊比利半島(B)巴爾幹半島(C)克里米亞半島(D)安那托利亞高原。(103 學測)

- (D)103.附表是一場戰爭之中各國人口損失的統計：(103 學測)

國家	百分比 (%)	國家	百分比 (%)
波蘭	20	德國	6.6
南斯拉夫	12.5	法國	1.3
希臘	7	英國	0.8
蘇聯	9		

這場戰爭是：(A)三十年戰爭(B)克里米亞戰爭(C)第一次世界大戰(D)第二次世界大戰。

- (B)104.16 世紀以後，英國對外貿易成長，促成毛紡織業快速發展，羊毛價格上漲，牧羊業獲利豐厚，10 英畝牧場的收益超過 20 英畝的耕地。地主為追求利益，紛紛收回農民土地，改作放牧之用，引發「圈地運動」，致使農民無地可耕。17 世紀後，圈地的範圍越來越大，農民生計大受影響，但英國並未發生食物短缺現象，經濟仍可持續發展，主要的原因為何？ (A)長期內戰使人口銳減，減少糧食消費 (B)從北美殖民地進口，以滿足糧食需求 (C)大批移民移往北美，英國不缺乏糧食 (D)大量人口死於瘟疫，故糧食需求減少。

- (A)105.明治維新時期，日本經歷多次政治變革：1868 年，幕府將軍「大政奉還」；1869 年，地方「奉還版籍」；1871 年，實施「廢藩置縣」政策；到了 1885 年，仿效歐洲內閣制，以「總理大臣」統率行政部會，直接向天皇負責。這種變動反映日本明治時代政治發展趨勢是：(A)強化中央集權 (B)避免天皇濫權 (C)加強地方分權 (D)走向民主共和。(104 學測)

- (A)106.西元前第 6 世紀，印度發生宗教改革，出現一個新的宗教。他們繼承傳統的「業」與「輪迴」思想，反對殺生，主張極端苦行，反對暴力，認為即使犧牲生命，也不應訴諸暴力。這個宗教傳播的區域以印度為主，甚少傳至印度以外。這是哪個宗教？ (A)耆那教 (B)佛教 (C)婆羅門教 (D)印度教。(104 學測)

- (C)107.一幅畫作描繪某地羊毛市集的景象：各地來的商人熙來攘往，好不熱鬧，主教在廣場上為市民祝福，羊毛商人把貨品陳列攤位上，供人選購，還有幾個攤位專門提供兌換貨幣的服務。這種景象最早可能出現於 (A)1世紀的雅典 (B)4世紀的羅馬 (C)12世紀米蘭 (D)16世紀巴黎。(105學測)

(C)108.有人指出，國家締造者曾經承諾所有國人：可享有生存、自由和追求幸福的權利，但黑人拿到的，卻是一張空頭支票。我們決不相信正義會破產，決不相信這個國家會「存款不足」。因此，我們要求國家兌現這項承諾。我期待國家會很快實現立國的信條，也相信「人生而平等」。這種說法的背景是：(A) 1776年，美洲地區人民追求獨立 (B) 1918年，美國總統提出民族自決 (C) 1963年，民權運動主張種族平等 (D) 1990年，南非黑人反對種族隔離。(104學測)

(B)109.考古學者在某處遺址中，挖掘出刻有尖錐狀符號和浮雕裝飾的石塊（如圖）。此地因缺乏建築用石料，只有神廟和王宮可用貴重石材做成浮雕裝飾，主題多與戰爭、宣揚戰功、祭典或狩獵有關，形成特有的藝術風格。上述遺址最可能位於何處？ (A)中國西北地方的敦煌 (B)伊拉克的古城尼尼微 (C)義大利中部的龐貝城 (D)埃及尼羅河岸的開羅。(104學測)



(D)110.右圖是一張日本在某個時期發行的明信片，顯示一群日本青少年踏在亞洲地圖上，圖上還標示從日本到亞洲許多國家主要城市的飛行時間。從內容看，這幅圖表現的主題最可能是： (A)日俄戰爭爆發前，鼓勵青少年從軍 (B)一次大戰爆發時，鼓吹日本人參戰 (C) 1920年代，宣導日人移居東亞城市 (D) 1930年代，向青少年宣揚軍國主義。(104學測)



(D)111.立法者制定某一法典時，主張根據個人主義精神與自由平等觀念，強調尊重所有權與契約自由，對過失責任也詳加規範，甚至保障原本因為宗教因素而受迫害的猶太人。這部法典最可能是(A)《漢摩拉比法典》(B)《大憲章》(C)《權利法案》(D)《拿破崙法典》。(105學測)

(D)112.某場戰爭結束後，歐洲大部分國家因幣制崩潰，欠缺貨幣可供使用。在德國，香菸是公認的交易媒介，一位教師的月薪等於五包香菸。匈牙利通貨膨脹嚴重，貨幣面值高達一億（圖2），難於進行正常交易。此外，大部分的歐洲國家稅收付之闕如，無錢購買糧食，餓飽居民；也無法購買原料與機器，經濟復甦相當緩慢。這種情況最可能發生於 (A)1815年，拿破崙戰爭後 (B)1872年，德法戰爭之後 (C)1919年，第一次大戰後 (D)1946年，第二次大戰後。(105學測)

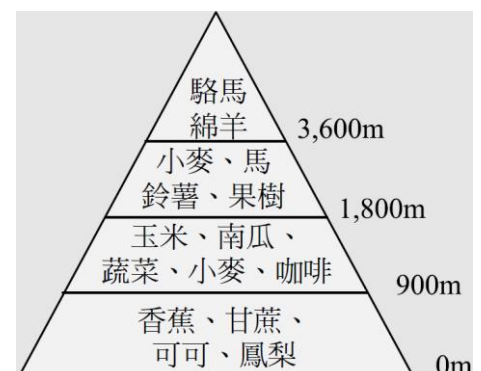
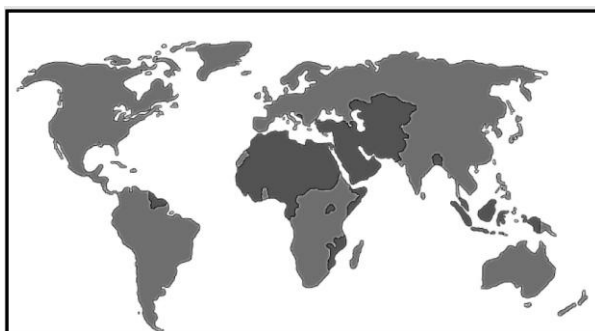


- (D)113.一座教堂，原本建築在羅馬神廟的遺址上，8世紀時，改建成清真寺；13世紀時，又改爲羅馬教會的主教座堂；16世紀時，重新修建。這座教堂因經歷不同的歷史發展，被聯合國列爲世界遺產。這座教堂最可能位在 (A)巴爾幹半島 (B)猶加敦半島 (C)阿拉伯半島 (D)伊比利半島。(105學測)
- (D)114.某人覺得自己犯了罪過，便依照教會要求，前往指定教堂悔罪，還要申請贖罪。一位修士則給予憑證，赦免教會對他的處罰。這位修士最可能屬於： (A)德意志路德教會 (B)尼德蘭改革教會 (C)英格蘭國教會 (D)羅馬天主教會。(106學測)
- (C)115.閱讀以下兩段資料：資料一、當時，最普遍的工作就是家庭幫傭，幾十萬名婦女從事這種工作；也有許多婦女在紡織工廠做工，最糟糕的是許多婦女必須從事苦力活，按件計酬，沒有保障。資料二、我原本在人家中幫傭，每天從上午6點做到晚上9點，極爲厭惡這種工作。後來一家軍火工廠招工，我前往應徵，負責製作彈藥引信，一天工作12個小時，薪水是原本薪水的兩倍半。這兩段資料最適當的主題是 (A)南北戰爭期間的黑人婦女勞工 (B)拿破崙法典實施後的婦女勞動 (C)一次世界大戰前後的婦女就業 (D)東歐地區社會主義與婦女問題。(105學測)
- (B)116.1492年，哥倫布率領3艘帆船從西班牙帕洛斯港(37°N, 6°W)出海，經加那利群島(28°N, 16°W)向西橫渡大西洋，於10月12日登陸美洲，陸續繞經附近地區，完成首航。一行人於1493年啓程返航，此後陸續有人前往美洲，帶回許多新物種，並傳播到各地，促成「物種大交換」。請問哥倫布於出發前，表示可以帶回下列甚麼物品，才說服西班牙王室出資？(A)美洲白銀 (B)印度香料 (C)玉米花生 (D)南亞蔗糖。(105學測)
- (A)117.某一國家，宗教色彩相當濃厚，居民除80%左右信奉該國的主流宗教外，其餘20%則各有不同的信仰，宗教類別與內涵相當豐富多樣。居民使用的語言也很複雜，該國憲法除規定2種全國通用的語言外，還認可15種以上的官方語言。全國有60%左右的人口務農，將近半數的人口生活於聯合國訂定的貧窮線之下。2014年該國人類發展程度指標(HDI)只有0.609，世界排名第130。請問該國具有下列哪二項特質？甲、世界古文明的發源地之一；乙、猶太教和伊斯蘭教的發源地；丙、1858~1947年間曾受英國殖民統治；丁、葡萄牙引進黑奴在該國發展熱帶栽培業；戊、生產的白銀曾於明朝中葉以後大量流入中國 (A)甲丙 (B)甲戊 (C)乙丁 (D)丙戊。(105學測)
- (D)118.某殖民國家在殖民地推行「強迫種植制度」，農民被迫將良田種植咖啡、甘蔗、茶、菸草、胡椒等經濟作物，並規定：總耕地面積至少要有五分之一種植經濟作物。殖民政府將收穫全部運往歐洲銷售，賺取巨大財富。直到20世紀中期，這個殖民地經由武裝抗爭才取得獨立。請問這種「強迫種植制度」最可能是甚麼時候，在哪個地區的殖民地推行？(A)16世紀北非 (B)17世紀北美 (C)18世紀中南美 (D)19世紀東南亞。(105學測)

- (C) 119.某人回憶：長崎「現在」滿街都是洋文招牌，但當我數十年前初到此求學時，才第一次見到ABC。求學期間，我認識一位來自薩摩藩的醫生，奉其藩主之命，遠從鹿兒島前來長崎，學習荷蘭醫學。還說：當時如果想學習炮術，只能閱讀荷蘭文的書籍。此人所說的「現在」最可能是(A)1590年代，豐臣秀吉統一日本時 (B)1630年代，日本頒布鎖國令之前 (C)1860年代，美國海軍進入日本後 (D)1940年代，日本戰敗宣布投降後。(105學測)
- (B) 120.某人評論：今日之俄如同七國時期之秦，而英則像是齊，土則是魏也。「秦人不得志於魏，則不能掎（牽制）六國，俄人不得志於土，不能掎歐洲。」「英人陽（表面）護土而陰蔽歐洲。俄之不得志於歐洲，英為之也。」這位人士評論何時的情勢？ (A)拿破崙戰爭 (B)克里米亞戰爭 (C)第一次世界大戰 (D)第二次世界大戰。(106學測)
- (D) 121. 1776年，北美洲殖民地人民要求獨立，在某城市發表宣言，指出：「我們不是沒有顧念我們的英國弟兄。我們一再警告，但他們的立法機關仍企圖把無理的管轄權加到我們頭上。」宣言中所指的「無理的管轄權」最可能是指： (A)殖民地不得發行報紙 (B)殖民地禁止蓄養黑奴 (C)禁止設立銀行與郵局 (D)未經同意便強行徵稅。(106學測)
- (A) 122.附表為2013年法國、阿富汗、馬來西亞、俄羅斯四個國家的統計資料表。請問：附表中的X項統計資料的內容應當是： (A)穆斯林人口占總人口之百分比 (B)工業占全國生產總值之百分比 (C)白人移民占全國人口之百分比 (D)共產黨員數占當地人口百分比。(106學測)

國家	X	平均國民所得 (美元)	預期壽命 (歲)	HDI
甲	99.9	1,904	60.9	0.468
乙	19.0	22,617	68.0	0.778
丙	10.0	36,629	81.8	0.884
丁	60.4	21,824	75.0	0.773

- (B) 123.左下圖為2016年某國際組織會員國分布圖，圖中深色區域為會員國的位置。請問：這個國際組織所涵蓋的區域中，在歷史上曾經出現哪個帝國？ (A)神聖羅馬帝國 (B)鄂圖曼帝國 (C)蒙兀兒帝國 (D)奧匈帝國。(106學測)



- (C) 124.右上圖顯示某國農業土地利用隨著高度增加而變化。請問：圖中，中低海拔地區大規模專業化栽培香蕉、甘蔗、可可、鳳梨等作物的情況，最可能始於何時？ (A) 15 – 16世紀物種大交換時期 (B) 18世紀中葉工業革命開始時 (C) 19 – 20世紀帝國主義發展時 (D) 20世紀晚期簽訂世貿組織時。(106學測)

(B)125.1154年，埃及法提馬王朝統治者在一封致比薩大主教的信中說：只要你們承諾不與法蘭克人合作，我方可同意你們的商人運送貨品來我方貿易。除了亞歷山卓城外，你們也可以在開羅建立據點，但需繳交關稅；木材、鐵、樹脂這三項貨品，我方保證以市價購買。埃及法提馬王朝統治者寫這封信的目的最可能是： (A)埃及希望與比薩形成商業同盟 (B)防止比薩大主教與十字軍合作 (C)保護埃及木材、鐵、樹脂產業 (D)歡迎比薩商人可以在埃及定居。(106學測)

(C)126.某一時期，許多學者寫了不同的手冊，教導年輕人舉止要合宜，吃飯有禮貌，學習文學、音樂、藝術，才能成為有趣的社交分子。這些手冊一經出版，便銷售一空，說明當時社會重視禮儀規範。這個時期最早出現於何時？ (A)古典希臘時期 (B)羅馬共和時期 (C)文藝復興時期 (D)啓蒙運動時期。(106學測)

(D)127.十七世紀時，某國曾響應共同抵禦伊斯蘭教入侵的號召，出兵加入歐洲聯軍，國勢頗強。其後，強大貴族勢力開始侵凌王權，內部爭鬥不斷，國勢逐漸衰落，引起鄰國覬覦，終遭列強瓜分，消失於歐洲政治版圖，第一次世界大戰後雖得復國，第二次世界大戰期間又遭佔領，戰後才得再度建國。這個國家是：(A)義大利 (B)奧地利 (C)希臘 (D)波蘭(107學測)

○課堂上，老師向學生介紹一本西方小說，內容寫道：主角一覺醒來，發現自己處在陌生環境中，資本家、企業家全部消失，土地、工廠、工具全屬公有；每個人可依照自己的興趣工作，工時不長，工作愉快，社會上每一項商品生產的數量恰能滿足所有人之需。請問：

(C)128.這本小說最可能描述的是：(A)十二世紀西歐的莊園生活(B)十七世紀的自由主義理念(C)十九世紀的社會主義理想(D)二十世紀的帝國主義藍圖(107 學測)

○某國的礦業一直是其經濟發展的主要動力，其政局長期紛擾不斷；1990 年，該國一位政治人物在演說中呼籲：「我國的未來只能是一個在不分膚色的基礎上，通過民主選舉而產生的機構來決定，也就是建立一個民主、不分膚色和統一的國家，白人壟斷政權的狀況必須結束。」該政治人物的理想逐漸成為事實，但國內經濟發展同時出現遲緩現象，直到 21 世紀初才逐漸復甦。請問：

(B)129.該政治人物最可能是：(A)歐巴馬 (Barack Obama) (B)曼德拉 (Nelson Rolihlahla Mandela) (C)甘地 (Mohandas Karamchand Gandhi) (D)馬丁路德金恩 (Martin Luther King) (107 學測)

○圖10畫作的主题經常出現於某一時期的西歐與南歐，這類畫作的內容除貴族人物外，也常包括：地球儀、天體儀、四分儀、兩腳規、星盤等。圖11是根據地理位置把歐洲劃分為四區的地圖；表3是2015年四區的人類發展程度指數（HDI）。



圖 10

請問：

- (B) 130.根據畫作的內容，下列哪項推論最為合理？(A)這是十三世紀的情況，說明時人熱衷航行前往耶路撒冷朝聖 (B)這是十六世紀的情況，說明航海已成為貴族交際的重要話題 (C)這是十八世紀的情況，說明巴黎沙龍聚會以天文星象為主題 (D)這是十九世紀的情況，說明工業革命後資本主義發展的盛況(107 學測)

○近幾年，許多非洲難民湧入歐洲，國際移民組織（OIM）統計，2016年湧入歐洲難民有364,000人，其中約有半數從北非地區橫渡地中海偷渡入境，又以來自奈及利亞（占21.0%）、厄利垂亞（占11.7%）、幾內亞（占7.2%）和象牙海岸（占6.7%）四國者為數最多。大量難民湧入歐洲後，常面臨找不到工作、長期失業以及居住環境條件不佳的生活困境。面對此現象，歐洲某國政府官員對外發表言論，主張該國應停止收容非洲難民，否則將影響歐洲生活水準與歐洲文化。該言論一出，引發眾多輿論強烈的批評。請問：

- (D) 131.難民由地中海偷渡湧進歐洲的起點，歷史上曾為哪些帝國的領地？甲、羅馬帝國；乙、查理曼帝國；丙、阿拉伯帝國；丁、鄂圖曼帝國；戊、神聖羅馬帝國 (A)甲乙戊 (B) 丙 丁 戊 (C)乙丙戊 (D)甲丙丁(107 學測)

- (B) 132.古波斯人及羅馬人對統治者表示敬意時，往往親吻其腳部或足印，稱為吻足禮。後來有人自認是使徒彼得的繼承人，也享有吻足禮特權，凡是授予大主教職位、為皇帝加冕、接待諸侯時，都應行吻足禮。他也可以廢止任何命令，乃至罷免皇帝，解除臣民對暴君的義務。這人最可能是：(A)八、九世紀時人稱大帝的法蘭克王查理(B)十一世紀改革教會的教宗格列哥里七世(C)十六世紀中的主張改革教會的馬丁路德(D)十七世紀主張「朕即國家」的路易十四(107學測)

- (C) 133.表1為某次戰爭中，德意志地區共同組成聯軍的兵力配置表。此次作戰，德意志聯軍利用火車運輸，快速造成對手國極大損失，該國被迫簽訂條約，割地賠款，結束戰局。其政府威信大失，帝制遭到廢除，改行共和。這場戰爭最可能是：

表 1

	步兵	騎兵	大砲
北德同盟	385,600	48,000	1,284
巴伐利亞王國	50,000	5,500	192
威登堡	15,000	1,500	54
巴登	11,700	1,800	54

- (A)1806年反法同盟戰爭(B)1866年的普奧戰爭(C)1870年的德法戰爭(D)1914年一次世界大戰
(107學測)

- (C) 134.一本地理書記載：佛郎機人抵達呂宋，願與呂宋互市。向呂宋王請求土地建屋，經營商業。後來反包圍呂宋，殺其王，逐其民，而控制呂宋，繼續與中華貿易。華人前往呂宋貿易者，實際是與佛郎機通商。這段記載中的佛郎機人應是指：(A)十三世紀的阿拉伯商人 (B)十五世紀的義大利商人(C)十七世紀的西班牙商人 (D)十九世紀的英格蘭商人(107學測)

- (A) 135.美國於1954年9月聯合英國、澳洲、法國、紐西蘭、巴基斯坦、泰國和菲律賓組成「東南亞公約組織」，其組織的目標與內容都與北大西洋公約組織類似，總部設於曼谷。美國原本希望我國也加入，但因各種原因而未果。美國補救的方式是：(A)另與我簽訂共同防禦條約(B)支持我成為聯合國會員國 (C)要求各國遵守《聯合國憲章》 (D)支持我國加入東南亞國協
(108學測)

- (C) 136.巴剎 (Bāzār) 原為波斯文中的市場之意，多指有頂棚遮蓋的商業街道，在其中販售各種商品。現在，馬來西亞、印尼等東南亞地區及中國西北地區如新疆，也將市場稱為「巴剎」。學者研究，這是某種語言借用「巴剎」的名稱後，向各地推廣所致。這種語言應是：(A)英語 (B)印度語 (C)阿拉伯語 (D)西班牙語 (108學測)

- ◎ 某一時期，英國國王下令關閉修道院，沒收教會財產，將其土地出售給富人，不僅獲得巨大利益，也調整政教關係。請問：(108學測)

- (C) 137.依據題文資訊，上述事件最可能發生於何時？(A)十三世紀約翰王簽署《大憲章》，重新確認國王與貴族的關係(B)十五世紀百年戰爭後，英王放棄在法國權力轉而注重內政(C)十六世紀宗教改革時，英王欲排除羅馬公教在英國的勢力(D)十七世紀時英王迫害清教徒，許多清教徒流亡北美洲地區

138-139為題組

- ◎ 某島嶼在十六至十九世紀間原是西班牙大帆船貿易航線上的重要修補站，1898年美西戰爭時，該島遭美國併吞。太平洋戰爭期間，日本曾占領該島。二次大戰後期，美軍奪回該島後，在該島建立空軍基地，作為戰時控制東南亞和東北亞空域的據點。請問：(108學測)
- (A) 138.該島嶼最可能是：(A)關島 (B)琉球 (C)硫磺島 (D)夏威夷島
- (C) 139.該島控制空域的周邊國家，大多是哪兩個國際組織的成員國？(甲) OPEC（石油輸出國家組織）；(乙) APEC（亞太經濟合作會議）；(丙) OAS（美洲國家組織）；(丁) ASEAN（東南亞國家協會）(A)甲乙 (B)甲丙 (C)乙丁 (D)丙丁
- ◎ 某國位處溫帶海洋性氣候區，是由數個政治實體組成的君主立憲政體，但其中一個政治實體有獨立建國的分離主義運動。該國有一個少數黨，係由早期街頭暴力抗爭的公民團體轉型而來，倡議立法讓該政治實體舉行獨立公投。此少數黨的民意支持度在近年來不斷攀升，且2015年國會大選時，政黨得票率和席次均大幅提高。(108學測)
- (C) 140.題文中該君主立憲國家由不同政治實體組成，其組成的主要依據為何？(A) 1215年的《大憲章》(The Great Charter)(B) 1648年的《西發里亞和約》(Peace of Westphalia)(C) 1535、1707、1800年的《聯合法》(Acts of Union) (D) 1919年的《凡爾賽和約》(Treaty of Versailles)
- ◎ 下圖是1848年至1849年歐洲一系列武裝革命運動的分布情形，這波革命運動雖然都以失敗告終，但對歐洲的影響卻極為深遠。請問：(108學測)
- (D) 141.下列歷史事件中何者深受該系列武裝革命運動的影響？(A)宗教改革的風潮向北歐轉移 (B)工業革命漸向歐陸各國擴散 (C)殖民擴張成為各國首要目標 (D)德國、義大利完成國家統一

「擔負責任是艱辛的，但它也是一種榮耀；
擔負的責任越大，越能發揮生命的光輝。」



——俾斯麥

四、跨時空

- (A) 1.十九世紀末，有人說：「我國不可猶疑，與其坐等鄰邦之進步而與之共同復興東亞，不如脫離其行伍，而與西洋各文明國家共進退。對待鄰國之辦法，不必因其為鄰邦而稍有顧慮，只能按西洋人對待此類國家之辦法而對待之。」請問說這段話的人，他的國籍為何？ (A)日本 (B)朝鮮 (C)俄國 (D)中國。(91 學測)
- (D) 2.以下是 1930 年代一位領袖的演講：「我國人民必須從既無希望又無秩序的國際主義中解放出來，接受一種有意識、有步驟的狂熱民族主義的教育……。其次，應該使我國人民擺脫荒謬的議會主義，教導他們與民主的瘋狂性鬥爭，並認識到權威與領導的必要性。第三，應該使人民擺脫對外援的可憐的信心，即所謂相信民族和解、世界和平、國際聯盟與國際團結，我們將摧毀這些思想。世界上只有一種法律，也就是自身力量的法律……。」請問這是一場什麼樣的演講？ (A)史達林號召蘇聯人民反抗帝國主義 (B)邱吉爾呼籲英國人民反抗納粹德國的侵略 (C)毛澤東號召人民反抗南京國民政府 (D)希特勒鼓吹法西斯主義。(91 學測)
- (B) 3.1938 年，某國出版的一本書中，敘述十九世紀末該國政府對某地進行鎮壓行動：「槍斃及斬首一千五百人，燒毀房屋一萬家，某地大半化為灰燼」。書中還主張將這種經驗應用到在中國的殖民活動。這部書最可能是以下的哪一種？ (A)英國出版的《東印度公司發展史》 (B)日本出版的《臺灣總督府警察沿革誌》 (C)俄國出版的《西伯利亞鐵道開發史》 (D)外蒙古出版的《蒙古秘史》。(92 學測)
- (A) 4.一位老人敘述自己的家族歷史時，說道：「我的祖先來自唐山，到這開墾幾年後，沒有辦法回唐山娶親，只能就地與『番婆』結婚，可是家裡仍然說唐山話，讀漢文。在英國人統治時，日子過得還好。日本人一來，財產可就受到很多損失。後來日本人走了，我們也建立了一個獨立的國家，可是我總還想回唐山去掃墓祭祖。」這位老人應當身處何地？ (A)馬來西亞 (B)菲律賓 (C)臺灣 (D)香港。(92 學測)
- (C) 5.某地有一個傳說：1903 年外國人入侵時，該地人民奮勇抵抗，有幾位男人因為武器落後，無法對抗入侵軍隊，遂跳崖自殺。不久，外國軍隊撤軍返國，該地村民立碑紀念，並將地名改為「英雄堡」。這個傳說應與以下哪一個史實有關？(A)臺灣中部地區英勇的武裝抗日事蹟(B)日俄戰爭期間瀋陽地區的抗日行動(C)英軍入侵西藏時，藏民的抵抗活動(D)日軍入侵朝鮮時，朝鮮人民的抵抗。(93 學測)
- (B) 6.典禮進行時，兩國國君為了個人在會場位置的先後而爭執不下，負責典禮的官員表示：「凡屬於我邦的同盟，同姓在前，異姓在後，這是長久以來的禮儀規範。」因而平息了這場爭議。這個場景最可能出現在哪個時期？(A)羅馬帝國時期(B)中國西周時期(C)西歐中古時期(D)日本幕府時期(93 學測)
- (D) 7.農民的生產過程裡，在尚未收成前，有時需要舉債度日。但是，民間借貸的利息偏高，常使農民陷入嚴重的債務危機。因此，有的時期政府設計了一些制度或者成立組織，以解決農民借貸的需求。以下哪個法令或組織是為這個目的而成立的？ (A)漢武帝實施的均輸平準法 (B)隋唐時期採行的租庸調制度 (C)明清時期盛行的族田制度 (D)二次大戰後臺灣農會信用部。(93 學測)

- (C) 8.戶籍是官府管理社會的重要憑藉。某個時期的戶籍制度普及至每一個人，而戶籍資料裡除了姓名、年齡、居住或遷移等紀錄外，也記錄著與本人有關的各項記事，諸如「本籍與族稱、屬於哪個保甲、是否吸食鴉片」。這份戶籍資料最可能出現在何時何地？ (A)1830年，廈門 (B)1860年，寧波 (C)1910年，臺南 (D)1930年，南昌。(93學測)
- (B) 9.1640年，一名荷蘭軍官向某地西班牙軍隊的指揮官提出最後通牒，限期退出該地，遭西班牙軍官拒絕。雙方開戰，西班牙軍隊戰敗投降，許多教士也被俘，並遭遣送出境。這樣的故事最可能發生在何處？ (A)巴達維亞 (B)基隆 (C)好望角 (D)馬尼拉。(93學測)
- (C) 10.一位政治人物批評某國說：「我們正目睹一個危機，『該國』在這危機中，對經濟秩序的需求與對政治秩序的需求互相衝突。過度中央集權使經濟成長持續萎縮，軍事生產則大增。」這裡的「該國」是指何國？(A)1945年的法國(B)1960年的西德(C)1980年的蘇聯(D)1995年的中國。(96學測)
- (A) 11.某國受到西方列強侵略，簽訂了包括協定關稅，承認西方領事有裁判權等內容的條約，受到相當時期的壓迫。該國於是發憤圖強，經過長期的改革與建設，並與列強積極交涉，到二十世紀初，終於重新簽訂平等新約，獲得關稅自主權。這是哪一個國家的情況？ (A)日本 (B)中國 (C)菲律賓 (D)印度。(95學測)
- (C) 12.一位學者回憶幼年的時光：「有人從上海帶來幾盒洋火柴，當時叫做自來火。雖然有了時鐘，但是在鄉下並無大用，早兩三個小時，晚兩三個小時，又有什麼關係？火柴其實也是奢侈品，至於煤油，那可又另當別論：煤油燈可以把黑夜照的如同白晝。國際上也發生了不少事。」從文中所述時代推斷，當時國際上可能發生哪件大事？ (A)法國大革命 (B)瓦特改良蒸汽機成功 (C)日本占領臺灣 (D)印度脫離英國獨立。(95學測)
- (C) 13.某官員指出：「國語教育不單只是語言教學，讓學生了解我國冠絕世界的國體、國風，以涵養國民精神，才是最主要的目標。」這個人的身分最可能是：(A)1868年，清朝政府的禮部尚書(B)1916年，袁世凱政府教育總長(C)1930年，臺灣總督府文教局長(D)1968年，文革時中共教育部長。(96學測)
- (A) 14.«西公園」闢建於1915年，園中立有一個紀念日俄戰爭的海軍紀念碑和忠靈碑，1948年以後更名為「勝利公園」。這個公園應當位於何處？ (A)長春 (B)平壤 (C)釜山 (D)東京。(96學測)
- (B) 15.一本介紹戰爭的著作指出：「這場戰爭用了當時最先進的各種技術，不但槍枝射程有極大的改善，還用火車、輪船來運送軍隊，也有攝影師將戰爭的場景登載於報刊，引起各國輿論的注意。許多軍人在戰場上因為衛生條件太差，死傷甚為嚴重，還因此促成了軍醫制度的發展。」這種場景最早可能發生在下列哪場戰爭中？ (A)1800年前後拿破崙戰爭 (B)1854年的克里米亞戰爭 (C)1894年的中日甲午戰爭 (D)1914年第一次世界大戰。(96學測)
- (C) 16.一條商船從歐洲某港口揚帆，6個月後抵達珠江口，停留近半年時間，又花了6個月才返抵母港，裝回28.8萬公斤的茶葉，另有錫、絲、盜器等物品，均以高價售出。這種情況最可能發生於何時？ (A)教宗發動十字軍時(B)哥倫布抵達美洲時(C)法國大革命的前夕(D)甲午戰爭爆發前夕。(97學測)

- (A)17.何先生出生於臺中，幼年時就讀於當地的公學校，後來轉到東京求學。有一天，他看到報上登出某地新成立的政府因與日本關係密切，急需日語教學人才；由於他的語言較無問題，願意應徵，也立刻被錄用。他從東京火車站出發，兩天就到達該地，在當地中學教了好幾年日語，晚上還兼差，教當地官員及家眷日語。直到第二次世界大戰結束之後，他才回到臺灣。何先生這幾年的教學生涯最可能是在哪裡度過？ (A)瀋陽 (B)琉球 (C)曼谷 (D)新加坡。(96 學測)
- (C)18.一本數學課本上的習題是：「公社領導計畫在五年內將單位面積的糧食產量提高為原來的150%，問：每一年應比上一年平均提高百分之幾？」這應當是何時何地使用的課本？ (A)1910年的基輔 (B)1940年的柏林 (C)1965年的武漢 (D)1980年的西貢。(97學測)
- (A)19.十八世紀初，一位法國學者稱讚當世某國的政治，認為這個國家的君主以倫理、道德治理天下，任用知識分子為官，但官位並非世襲，堪稱是希臘「哲學家國王」的化身。這位學者所稱的某國是：(A)中國 (B)土耳其 (C)英國 (D)日本。(99學測)
- (D)20.一群學生接到政府命令，前往草原上放牧牛羊，名為「學習」。不巧，這年冬天風大雪大，牛、羊損失甚多，有些學生受不了草原生活的艱苦，潛逃回城市，但又被遣送回草原。若干年後，政府政策改變，他們才獲准回到都市，繼續求學就業。這種情景最可能發生在何時何地？ (A)1871年，法國 (B)1910年，俄國 (C)1941年，德國 (D)1970年，中國。(99學測)
- (D)21.西方人論及某國時，指出：「該國原本閉關自守，後改其態，君民一德，變法維新，迄今不過五十年，而功效大著，以能收還其治外法權，列入萬國公會，成為完全獨立自主，平等之國矣。」這是指哪一個國家？ (A)德國 (B)中國 (C)印度 (D)日本。(99 學測)

22~23為題組

◎有兩份美國外交文件，內容如下：(98學測)

資料一：一件總統咨文宣示：「我們尊重西歐諸國在西半球的殖民地，但對於已經宣布獨立，並經我國承認的國家，西歐諸國如果要予以干涉的話，我們認為他將危害美國的和平與幸福。」

資料二：一個國會法案說：「任何企圖以非和平方式來決定臺灣前途之舉，包括使用經濟抵制及禁運手段在內，將被視為對西太平洋地區和平及安定的威脅，而為美國所嚴重關切……美國將使臺灣能夠獲得數量足以維持自衛能力的防衛物資及技術服務。」

- (A)22.資料一中這位總統為何發布此一咨文？ (A)1823年，反對奧地利意圖干預美洲獨立 (B)1861年，警告英國勿介入美國南北戰爭 (C)1917年，對抗德國「無限制潛艇政策」 (D)1962年，阻止蘇聯在古巴祕密布署飛彈。
- (A)23.資料二這個國會法案通過的時代背景為何？ (A)中、美斷絕外交 (B)臺灣退出聯合國 (C)金門八二三砲戰 (D)臺灣發表兩國論。

- (A)24.作家撰寫家族的歷史時，寫到：「父親於 1900 年出生在一個海港城市中，城中到處是商店、市集。家鄉早在 1888 年時就出現了電話設備，1903 年時有軌電車開始運作。第二次世界大戰爆發後，家鄉受到戰火波及，1943 年起盟軍就持續轟炸，城中大部分的房舍都毀於戰火，死傷無數。」這座城市應當是？ (A)德國的漢堡 (B)中國的上海 (C)印度的孟買 (D)臺灣的高雄。(99 學測)
- (C)25.一位商人自述：家中原本頗有積蓄，曾經擁有一家運輸公司。後因為投資股票，一夜之間，家財全部化為烏有。他為了養家活口，只得到碼頭當搬運工，但工作並不固定，收入有限。許多朋友則因無法繳付房貸，住家遭銀行查封，只得跟許多人一起在公園搭帳棚，領失業救濟金，不相信政府能解決他們的困境。這種情形最可能是： (A)1800年拿破崙戰爭後的巴黎 (B)1918年第一次大戰後的倫敦 (C)1932年經濟蕭條時期的紐約 (D)1950年第二次大戰後的上海。(101學測)
- (D)26.「現代化的關鍵在於發展科技。我們不可能光靠空談變成現代國家，我們國內的科技、教育都比附近國家落後20年，我們需要有知識、有訓練的人才，就好像當初的日本。不過他們是靠新興起的資產階級，我們要靠普羅大眾。我相信我們一定會做得比日本好。」這種說法最可能出現於： (A)1890年代的俄國 (B)1930年代的德國 (C)1950年代的印度 (D)1980年代的中國。(101學測)
- (A)27.近代亞洲曾經爆發一場戰爭，交戰雙方都使用西方軍事技術及裝備。原本列強認為雙方旗鼓相當，但人口、土地均居下風的國家，因維新政策成功，反而戰勝，頗出各國意料。這場戰爭是： (A)日本打敗中國的甲午戰爭 (B)以色列勝埃及的六日戰爭 (C)越南擊敗美國的解放戰爭 (D)印尼擊退荷蘭的獨立戰爭。(102 學測)
- (A)28.一個展覽會中，主辦單位不僅邀請來自北海道、京都、大阪、朝鮮等地的機構與企業設館參展，也廣邀滿洲國、暹羅、福建等地的公私團體，展出各地特產。展場中另有一些具有特色的主題館，如糖業館與林業館。這是哪個展覽會的情況？(102 學測)
(A) 1935 年臺北的始政四十年博覽會 (B) 1970 年在大阪舉行的萬國博覽會
(C) 1975 年在沖繩的世界海洋博覽會 (D) 2010 年在上海舉行的世界博覽會。
- (A)29.某一地區在 15 世紀初逐漸成為國際貿易中心，各地商人在此交易，也可乘船前往中國經商。當地國王與中國建立友好關係，曾親自前往北京，中國使臣也經常前往該地。16 世紀，該地遭西方殖民者入侵，國際貿易形勢改變，東西文明往來更為頻繁。這個地區是：
(A)麻六甲 (B)臺灣 (C)琉球 (D)香港。(102 學測)
- (C)30.某一政治活動中，許多民眾要求：政府必須保障非武裝之集會、結社的自由；政府應當保障言論、出版、罷工的自由；憲兵僅能管理軍人，不得隨意逮捕人犯；政府應當撤銷貿易局、專賣局。他們同時希望能保障生活必需品的供應。這是：(A) 1789 年的法國革命 (B) 1830 年的七月革命 (C) 1947 年的二二八事件 (D) 1966 年的文化大革命。(102 學測)
- (A)31.旅行社推出城市觀光行程，訴求：「大唐遺風」，說明此行可以參訪當地的唐式建築，體驗茶道，參拜佛寺，也可以參觀法律文書的收藏，領略中國唐朝的風情。這個行程最可能是：
(A)京都物語 (B)首爾采風 (C)河內漫遊 (D)上海驚艷。(103 學測)

- (D)32.一位外國軍官在家書中提到：我們如果能攻下這座城市，將可以就近補充煤炭。但該城的砲臺頗為堅固，據說是德國工程師設計的，而且中國指揮官帶來自己一手訓練的部隊，地方士紳也組織民兵投入戰場，戰爭可能不會太順利。這位外國軍官所參加的戰爭是：
(A) 1840 年鴉片戰爭 (B) 1860 年英法聯軍
(C) 1874 年牡丹社事件 (D) 1884 年中法戰爭。(103 學測)
- (B)33.一位外籍人士評論：「中國人與歐洲人並無衝突，並不憎惡他們，中國人只是憎惡歐洲資本家和唯資本家之命是從的歐洲各國政府。這些人到中國只是欺騙、掠奪和鎮壓中國人；爲了販賣鴉片的權利，對中國作戰；用傳教的鬼話來掩蓋掠奪政策，以便自己大發橫財；中國人難道能不痛恨他們嗎？」這位人士最可能是：(103 學測)
(A)希望來華通商的英國商務監督義律 (B)宣揚共產主義的蘇聯革命領袖列寧
(C)主張門戶開放的美國國務卿海約翰 (D)提倡東亞共榮的日本首相近衛文麿。
- (C)34.戰爭爆發後，敵軍不只轟炸城市與水庫，也封鎖港口，肥料無法順利進口，影響農業生產。許多年輕人被徵調到國外作戰，不僅勞動力短缺，農業產量下降，政府還不斷將糧食運往前線，導致本地糧食不足。這是何時何地的情況？ (A)第一次大戰時的青島 (B)第二次大戰時的香港 (C)太平洋戰爭時的臺南 (D)韓戰爆發前後的漢城。(104 學測)
- (D)35.某一個國家，到 1930 年代末期時，仍受到第一次世界大戰及經濟不景氣的影響，工業生產水準還未能恢復 1910 年時的標準。第二次世界大戰時，該國又受到嚴重破壞，不僅 2/3 的國土被占領，工業生產也連年下降，1944 年的工業生產總值只有 1938 年的 40%。這個國家是： (A)中國 (B)美國 (C)蘇聯 (D)法國。(104 學測)
- (B)36.一位德國人旅行某地時，寫下：「這裡有奇妙的園林、寶塔、大理石橋，一切都接近盡善盡美，世界沒有任何地方可以與之相比。但是數千個英國人能在七天內將之澈底毀壞。」這位德國人描述的最可能是 (A)1840年英軍攻打舟山群島 (B)1860年英、法劫掠圓明園 (C)1863年，英艦炮轟鹿兒島 (D)1868年，英軍攻擊安平港。(105學測)
- (B)37.一位美國總統改變原有的外交策略，親自訪問某國，結束韓戰以來雙方隔離的狀態，以緩和兩國之間的緊張關係。此舉不僅影響了亞洲，甚至是世界的局勢。這是 (A)艾森豪訪問臺北 (B)尼克森訪問北京 (C)卡特訪問東京 (D)柯林頓訪問莫斯科。(105學測)
- (A)38.一個經濟發展程度較高的國家常會利用各種手段，將其鄰近地區的經濟生產內容導引至爲其提供廉價原料和勞動力的方向。以下在1930年代發生的幾個事件中，何者最足以說明這種經濟發展模式？ (A)臺灣總督府推動臺灣工業化，建立工業 (B)甘地反對食鹽公賣制度，號召自行曬鹽 (C)中國與列強交涉，關稅自主，裁撤釐金 (D)羅斯福推動新政，發展公共事業及農業。(105學測)
- (C)39.一位美國空軍人員回憶：某處基地駐紮了各型新式戰機，都是循著軍售管道或從我國的軍事顧問團獲得。這些戰機停滿了機場待命區，隨時準備升空，迎擊入侵的敵機。這個場景應當是： (A) 1938年重慶 (B) 1944年上海 (C) 1970年臺中 (D) 1995年臺南。(106學測)

- (A)40.某書提到：「此物」自16世紀引入歐洲後，廣為流傳。1604年，英王指出：此物「惡臭難聞，有礙觀瞻，更傷害腦部」，為避免其進口，特別提高關稅。明中葉以後，中國也自呂宋引進，開始於閩粵地區種植。1637年，明朝政府針對此物下令，如有私種私售者，擬斬首示眾。兵部尚書卻上奏說「遼東士卒，嗜此若命」，建議暫緩施行。「此物」是 (A)菸草 (B)鴉片 (C)咖啡 (D)胡椒。(105學測)
- (D)41.某一時期，立國的理念是：「國家應由受過良好教育、擁有財產的人來管理；他們可以制定法律，保護人民財產，維持社會安寧。人民應當遵守法律、熱愛國家。」所有法律也都依據這樣的理念制定。這應當是下列哪個時期的觀念？(A)秦始皇統一六國時期的法家思想 (B)拜占庭帝國《查士丁尼法典》的主張(C)英格蘭王約翰簽署《大憲章》的概念(D)法蘭西帝國《拿破崙法典》立法精神(101學測)
- (C)42.一位外國傳教士回憶傳教時的遭遇：當地久旱不雨，百姓認為是建洋教堂造成，許多人包圍教堂，意圖生事，官府派遣官兵保護教士，僵持不下。稍後，天降大雨，百姓才紛紛散去。這最可能發生在：(A)1820年代廣州 (B)1840年代天津 (C)1880年代濟南 (D)1920年代臺北 (107學測)
- (D)43.位作家在自傳中提到：1913年，他10歲時，父親幫他剪辮子，全家人跪在祖先牌位前痛哭流涕，懺悔子孫不肖，未能盡節；還表示希望將來政局改變後，能再留髮辮，以報祖宗之靈。他剪辮後入學就讀，但因沒有說「國語」，遭教師毆打，並逐出校門。這位作家10歲時最可能生活於：(A)東北長春 (B)北京城中 (C)上海租界 (D)臺灣臺中(107學測)
- (A)44.1974年，印尼當局發現一名在叢林中躲藏的「野人」。這個「野人」表示：為避免被「敵人」發現，不敢進入附近村落，自己耕種，獵捕野生動物維生，就這樣度過數十年，對外界事務，毫不知情。日本駐印尼使館派人前往探視，野人才知道戰爭早已結束。幾個月後，他搭飛機抵達臺灣。這個「野人」身分應當是？(A)參加東南亞作戰的高砂義勇軍 (B)國共內戰之後撤出大陸的國軍 (C)越戰爆發後逃往東南亞的華僑 (D)印尼排華時，躲藏山區的華人(107學測)
- (B)45.1862年，德川幕府派官員到上海考察，隨行一位藩士寫下《遊清五錄》，描述當時上海的情形：「歐羅巴諸邦商船軍艦數千艘停泊江上，桅檣林立，填滿津口；陸上則有諸邦商館，粉壁千尺，殆如城郭，其雄大壯偉，筆紙難以表述。」另一方面他也觀察到：「中國人到處被外國人牽制著。……與其說上海是中國人的土地，還不如說是英法兩國的殖民地。……雖然說我們是日本人，但對於這樣的局面也應該關心留意。因為這不僅是中國之事。」他指出中國受侵略的根源是國策失誤：「當權者只知守舊……沒有製造軍艦大砲在戰區裡抵禦敵人，才造成如此衰敗的結果。」這位日本人寫此書的目的最可能是：(A)日本已是先進國家，自認為是高級文化代表，故多批評 (B)日本也相當落後，看到中國情況，希望能避免重蹈覆轍 (C)日本自以為遠較中國富強，希望也能效法列強瓜分中國 (D)日本自知無法抵抗列強，主張閉關自守，拒列強於境外 (108學測)

- ◎ 十七世紀時，亞洲水域的遠東航路上，一艘帆船從公司總部所在的港口出發，船上載滿胡椒、檀香木、乳香、象牙、犀角等商品。抵達「甲」港後，卸下部分商品，並購買當地生產的鹿皮、鹿脯、砂糖等貨物裝船，繼續航行至日本。在日本把貨物賣掉，換取白銀；返航行程中，至廈門購買絲綢和瓷器。請問：(108學測)
- (A)46.依據題文資訊，「甲」港的今名最可能是下列何者？
(A)安平 (B)馬尼拉 (C)麻六甲 (D)雅加達
- ◎ 柬埔寨為中南半島的文明古國，昔稱扶南，後名真臘、高棉帝國。真臘和鄰近的占城、暹羅等地，是宋代成形的「南海貿易體系」成員，當時中國和東南亞間的貿易商船往來不絕，許多東南亞的物種隨貿易活動傳入中國。《宋會要》記載：紹興三年進口商品中，以香料、藥材、珍寶為主。《諸蕃志》也列舉中國商人在真臘、占城等15個地區販售的商品有瓷器、絲織品、酒、漆器等。柬埔寨於十九世紀淪為法國保護國，1953年才獨立；但獨立後長年動亂，某國際組織乃通過決議，在該國成立柬埔寨臨時權力機構，於1992年至1993年協助該國重建和平政府，舉行自由和公正的選舉並制定新憲法，使該國恢復正常秩序；這也是該國際組織第一次接手管理一個獨立國家。該國政局較為穩定後，臺商也陸續到該國投資紡織成衣、製鞋、農產、木材加工等產業。請問：(108學測)
- (D)47.若僅以題文中有關宋代「南海貿易體系」的敘述作為推論依據，可直接由上述資料獲得下列哪項結論？ (A)原產於真臘、占城，耐旱早熟的占城稻，至宋代才傳入中國 (B)南海貿易商船多在夏季從中國出發，冬季從東南亞返回中國 (C)中國的經濟重心南移和造船技術進步是南海貿易發展的基礎 (D)宋代南海貿易以中國輸出手工業商品、進口原物料商品為主



「我們必須接受有限的失望，但是千萬不可失去無限的希望。」

——馬丁路德·金恩

五、史料判讀

- (D)1.資料一：1928年，傅斯年先生在談到中央研究院「歷史語言研究所工作之旨趣」時，指出：「近代的歷史學只是史料學。……我們只是要把材料整理好，則事實自然顯明了。」
資料二：二十世紀初，法國一位研究古代社會的學者，談到歷史家在歷史寫作中的角色時，說：「並不是我在說話，而是歷史透過我的口在說話。」
對於這兩段資料，我們應如何理解？ (A)資料一對史學表現樂觀精神，資料二則透露悲觀心理 (B)資料一的重點是史料，資料二的重點是史家，彼此並無關聯 (C)兩段資料都否定歷史家在歷史研究中的作用 (D)兩位學者都受到近代歐洲科學實證主義的影響。(91 學測)
- (A)2.某個石器時期遺址出土以下遺物：堆積如山的獸骨、許多遭外力砍斷手腳的人體骨骸、眾多的小型房舍、破碎的陶器堆。根據你的歷史知識，學者應如何判斷這個遺址可能的時代？ (A)殘缺不全的人體骨骸，反映此期可能是戰爭趨於頻繁的新石器中晚期 (B)為數眾多的小房舍，反映此期可能屬於農業剛萌芽的新石器早期階段 (C)破碎的陶器說明此期屬於舊石器時期，人類剛開始知道如何製作陶器 (D)堆積如山的獸骨，說明此遺址的經濟型態是以狩獵為主的舊石器時期。(93 學測)
- (A)3.學者指出：「在日耳曼民族早期，姓氏是貴族的特權，平民無姓。到了中世紀後期，由於商業活動漸趨頻繁，人與人的接觸漸增，平民逐漸有了姓氏。同樣地，古代中國的平民也沒有姓氏，直到春秋戰國以後始漸得姓。」中國平民得姓的可能背景是： (A)戰國以後國家通過戶籍取得賦稅徭役，因此平民有姓氏之需 (B)和日耳曼人相同，古代中國平民得姓也來自商業活動的需要 (C)中國平民獲得姓氏是個人行為，和外部環境的變遷沒有關聯 (D)因為古代中國人安土重遷、慎終追遠的習慣，所以需要姓氏。(96 學測)
- (D)4.某書記載：「康熙初年，閩、浙、粵三省沿海郡縣，遷民內居，築界牆、嚴海禁，洋舶自此不得入。」下列何者解釋最合理？ (A)閩浙粵地區受到騷擾，應當是日本倭寇引起的糾紛 (B)海禁政策是禁止中國人出海，與清初三藩之亂有關 (C)外國船隻不得入，應是針對來自歐洲各國的貿易商 (D)當時鄭成功攻打各省沿海，這個政策應是針對臺灣。(96 學測)
- (A)5.史家討論希臘時期政治領袖亞歷山大時，有不同的看法：甲：亞歷山大的成就非凡，奠定了日後羅馬帝國統治與基督教傳播的基礎。乙：亞歷山大野心勃勃，所到之處，攻城略地，屠殺守軍，將婦孺轉賣為奴。我們應當如何認識這兩種看法？ (A)甲乃討論其影響；乙則陳述其作為 (B)甲陳述相關史實；乙則評價其功過 (C)甲反映當時人看法；乙為後世評論 (D)甲乙均持正面態度，肯定亞歷山大。(104 學測)
- (A)6.《資治通鑑》記載：唐僖宗乾符二年（西元875年）七月，「蝗自東而西，（數量多到可以）蔽日，所過赤地（一片焦土）。京兆尹楊知至奏：『蝗不食（莊）稼，皆抱荆棘而死。』宰相以下皆賀。」我們如何理解這段資料？ (A)《資治通鑑》表達唐僖宗受到臣下蒙蔽猶不自知 (B)《資治通鑑》為重要史書，蝗蟲抱荆棘之事可信 (C)宰相必須稟報實情，官員楊知至所奏事應為實情 (D)《資治通鑑》特別記載此事以說明各種奇聞軼事。(106學測)

- (A)7.一份文書指出：「政府曾發布命令，教導大家崇敬諸神，卻使基督教徒陷於危險和苦難之中，甚至有人喪失性命，許多人至今不能公開參加他們的宗教活動。我們應本著寬大宗旨，開恩處理這件事。今後，他們可以自由表達想法，不受干擾地自由集會，但得尊敬法律和政府。」這份文書是： (A)君士坦丁發布的米蘭詔令 (B)英國約翰王公布的大憲章 (C)拿破崙頒行的拿破崙法典 (D)聯合國公布的世界人權宣言。(106學測)

筆記區

凡是有決心取得勝利的人，從來不說不可能。

—拿破崙大帝

